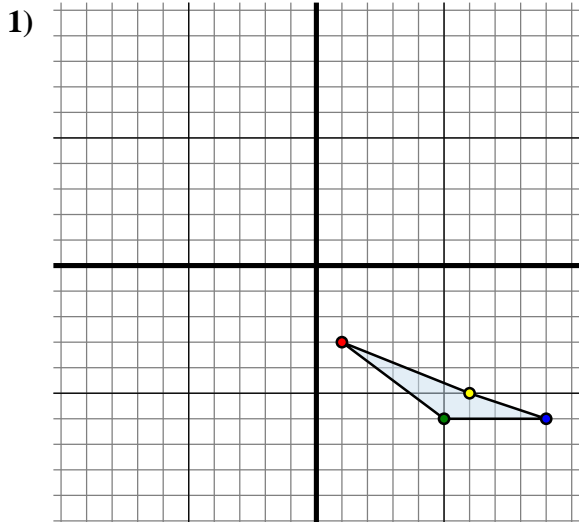




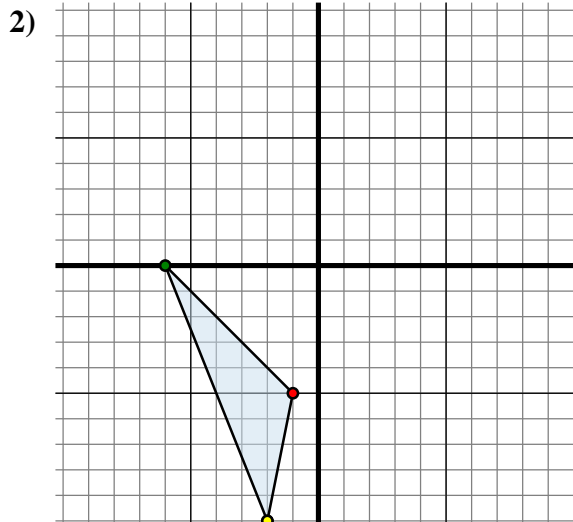
Spiegle jede Figur wie beschrieben.



Die obige Figur hat die folgenden Koordinaten:

- A. (1 , -3)
- B. (5 , -6)
- C. (9 , -6)
- D. (6 , -5)

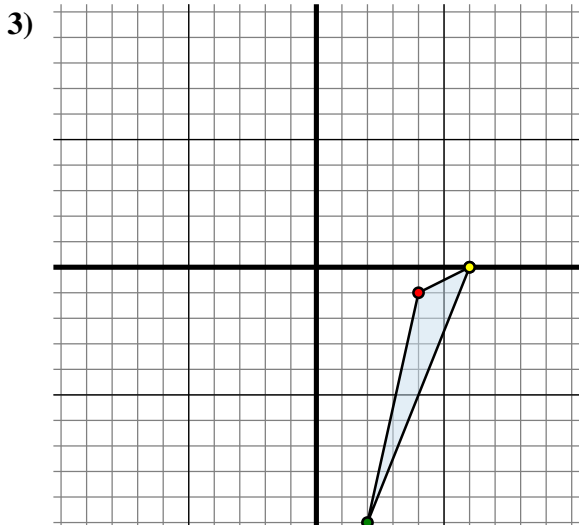
Spiegle die Figur an der Y-Achse.



Die obige Figur hat die folgenden Koordinaten:

- A. (-1 , -5)
- B. (-6 , 0)
- C. (-2 , -10)

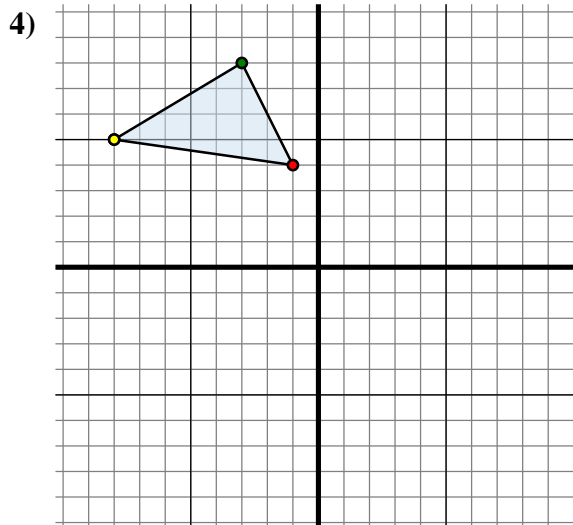
Spiegle die Figur an der X-Achse.



Die obige Figur hat die folgenden Koordinaten:

- A. (4 , -1)
- B. (2 , -10)
- C. (6 , 0)

Spiegle die Figur an der X-Achse.



Die obige Figur hat die folgenden Koordinaten:

- A. (-1 , 4)
- B. (-3 , 8)
- C. (-8 , 5)

Spiegle die Figur an der Y-Achse.

Antworten

1A. (-1 , -3)

1B. _____

1C. _____

1D. _____

1G. Graph

2A. _____

2B. _____

2C. _____

2G. Graph

3A. _____

3B. _____

3C. _____

3G. Graph

4A. _____

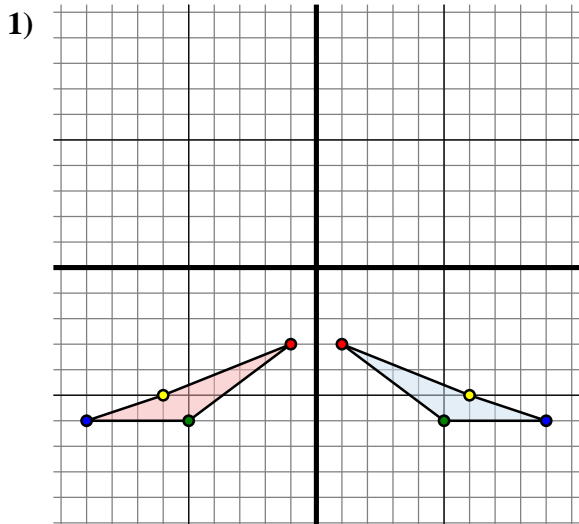
4B. _____

4C. _____

4G. Graph



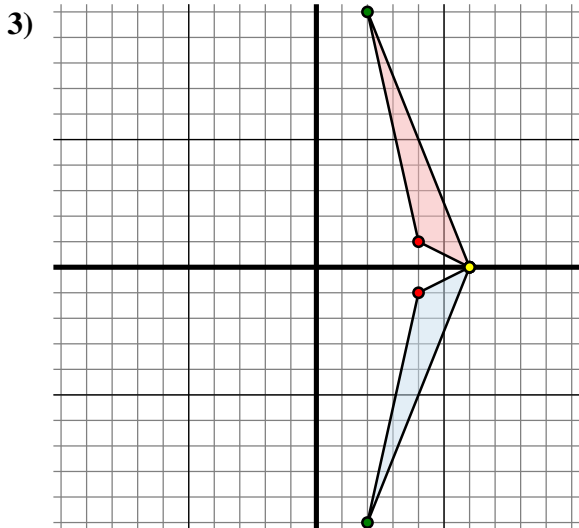
Spiegle jede Figur wie beschrieben.



Die obige Figur hat die folgenden Koordinaten:

- A. (1 , -3)
- B. (5 , -6)
- C. (9 , -6)
- D. (6 , -5)

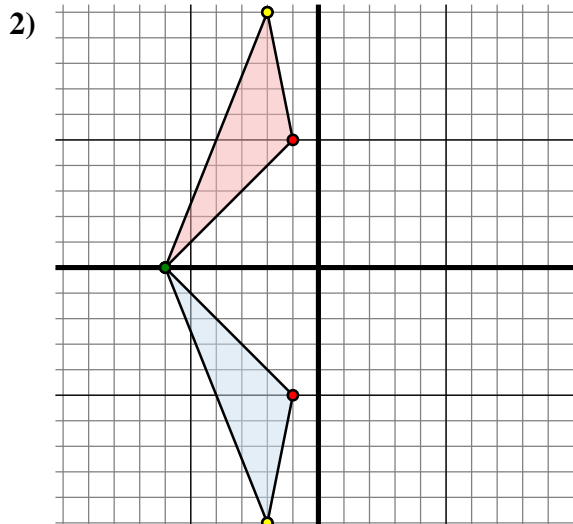
Spiegle die Figur an der Y-Achse.



Die obige Figur hat die folgenden Koordinaten:

- A. (4 , -1)
- B. (2 , -10)
- C. (6 , 0)

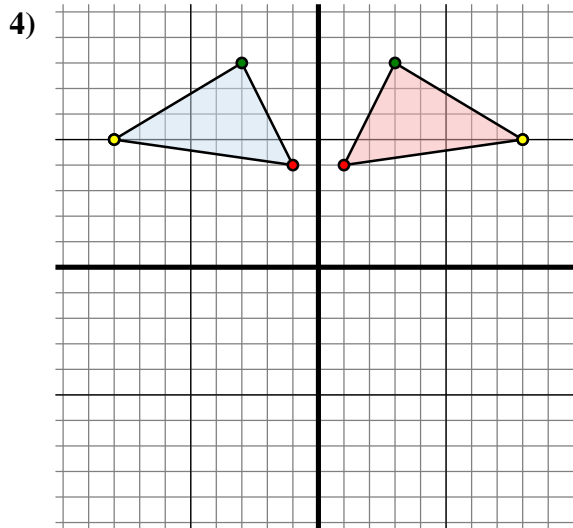
Spiegle die Figur an der X-Achse.



Die obige Figur hat die folgenden Koordinaten:

- A. (-1 , -5)
- B. (-6 , 0)
- C. (-2 , -10)

Spiegle die Figur an der X-Achse.



Die obige Figur hat die folgenden Koordinaten:

- A. (-1 , 4)
- B. (-3 , 8)
- C. (-8 , 5)

Spiegle die Figur an der Y-Achse.

Antworten

1A. **(-1 , -3)**

1B. **(-5 , -6)**

1C. **(-9 , -6)**

1D. **(-6 , -5)**

1G. **Graph**

2A. **(-1 , 5)**

2B. **(-6 , 0)**

2C. **(-2 , 10)**

2G. **Graph**

3A. **(4 , 1)**

3B. **(2 , 10)**

3C. **(6 , 0)**

3G. **Graph**

4A. **(1 , 4)**

4B. **(3 , 8)**

4C. **(8 , 5)**

4G. **Graph**