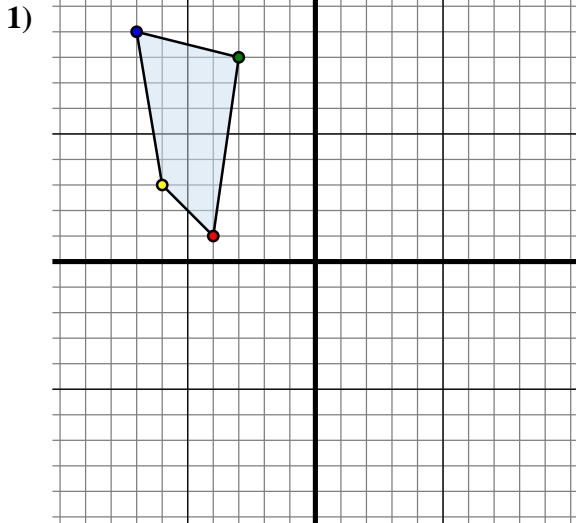




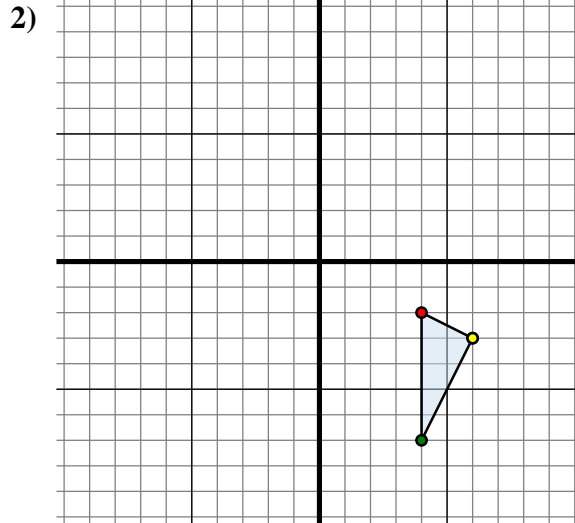
Spiegle jede Figur wie beschrieben.



Die obige Figur hat die folgenden Koordinaten:

- A. (-4 , 1)
- B. (-3 , 8)
- C. (-7 , 9)
- D. (-6 , 3)

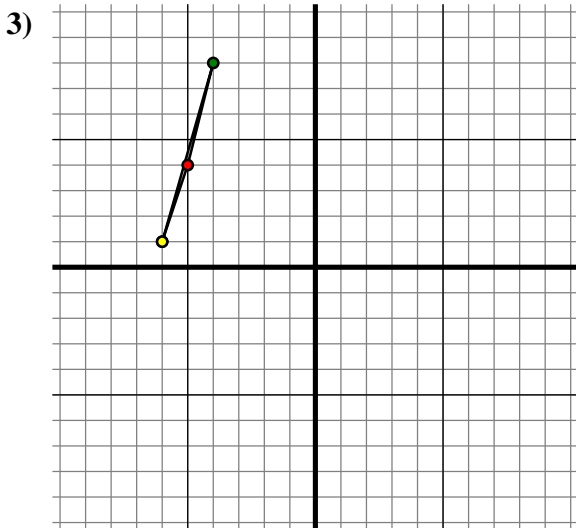
Spiegle die Figur an der Y-Achse.



Die obige Figur hat die folgenden Koordinaten:

- A. (4 , -2)
- B. (4 , -7)
- C. (6 , -3)

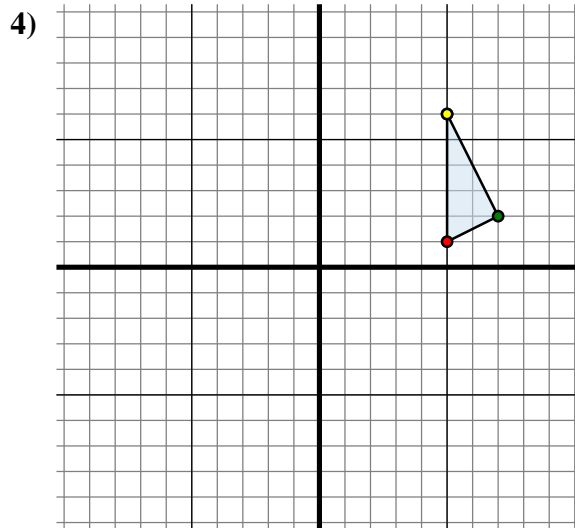
Spiegle die Figur an der X-Achse.



Die obige Figur hat die folgenden Koordinaten:

- A. (-5 , 4)
- B. (-4 , 8)
- C. (-6 , 1)

Spiegle die Figur an der Y-Achse.



Die obige Figur hat die folgenden Koordinaten:

- A. (5 , 1)
- B. (7 , 2)
- C. (5 , 6)

Spiegle die Figur an der Y-Achse.

Antworten

1A. (4 , 1)

1B. _____

1C. _____

1D. _____

1G. Graph

2A. _____

2B. _____

2C. _____

2G. Graph

3A. _____

3B. _____

3C. _____

3G. Graph

4A. _____

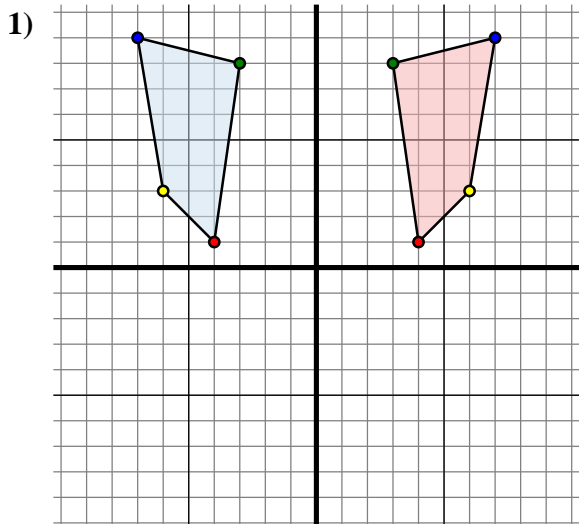
4B. _____

4C. _____

4G. Graph



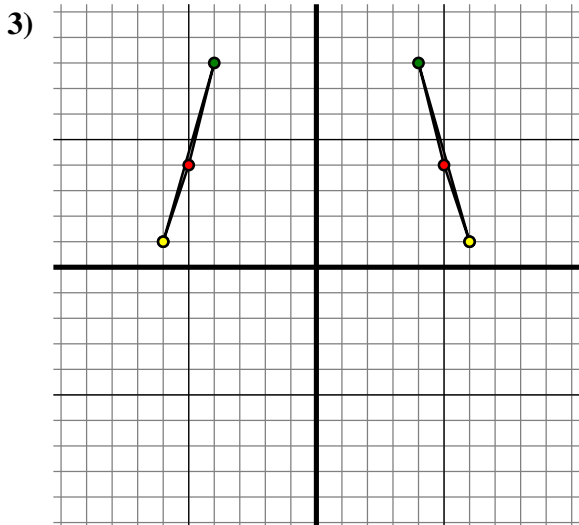
Spiegle jede Figur wie beschrieben.



Die obige Figur hat die folgenden Koordinaten:

- A. (-4 , 1)
- B. (-3 , 8)
- C. (-7 , 9)
- D. (-6 , 3)

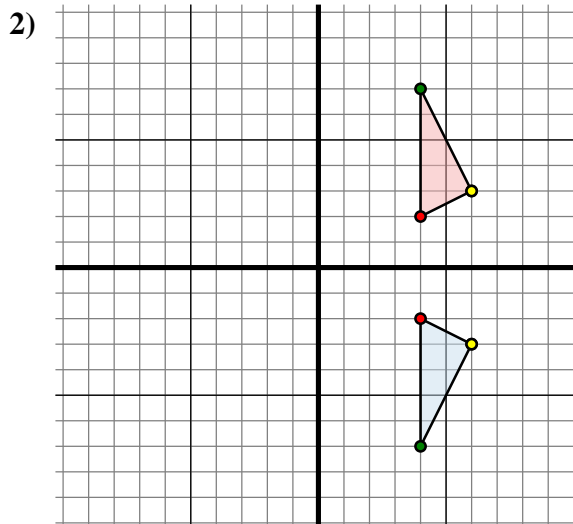
Spiegle die Figur an der Y-Achse.



Die obige Figur hat die folgenden Koordinaten:

- A. (-5 , 4)
- B. (-4 , 8)
- C. (-6 , 1)

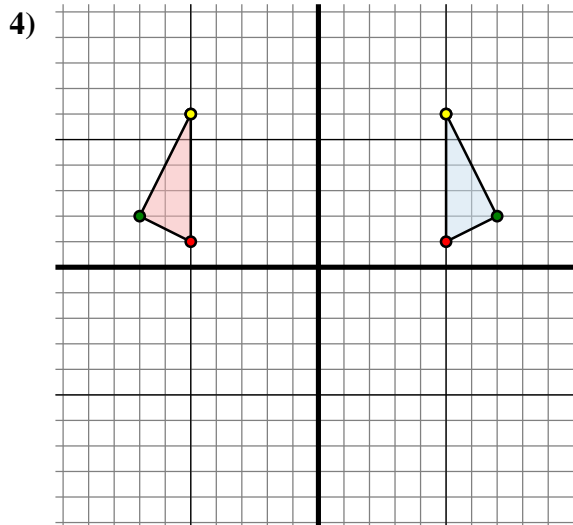
Spiegle die Figur an der Y-Achse.



Die obige Figur hat die folgenden Koordinaten:

- A. (4 , -2)
- B. (4 , -7)
- C. (6 , -3)

Spiegle die Figur an der X-Achse.



Die obige Figur hat die folgenden Koordinaten:

- A. (5 , 1)
- B. (7 , 2)
- C. (5 , 6)

Spiegle die Figur an der Y-Achse.

Antworten

1A. (4 , 1)

1B. (3 , 8)

1C. (7 , 9)

1D. (6 , 3)

1G. Graph

2A. (4 , 2)

2B. (4 , 7)

2C. (6 , 3)

2G. Graph

3A. (5 , 4)

3B. (4 , 8)

3C. (6 , 1)

3G. Graph

4A. (-5 , 1)

4B. (-7 , 2)

4C. (-5 , 6)

4G. Graph