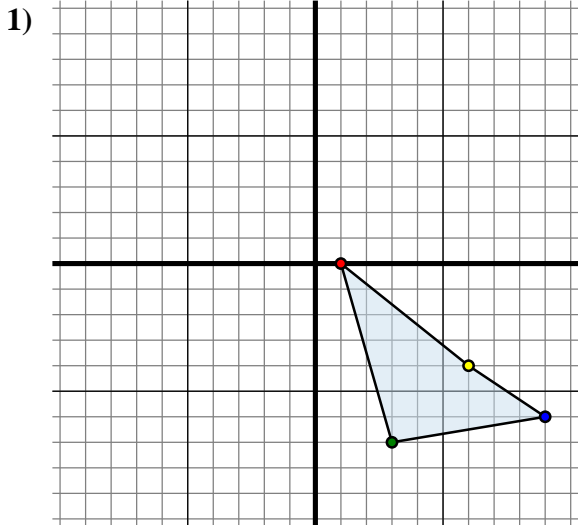




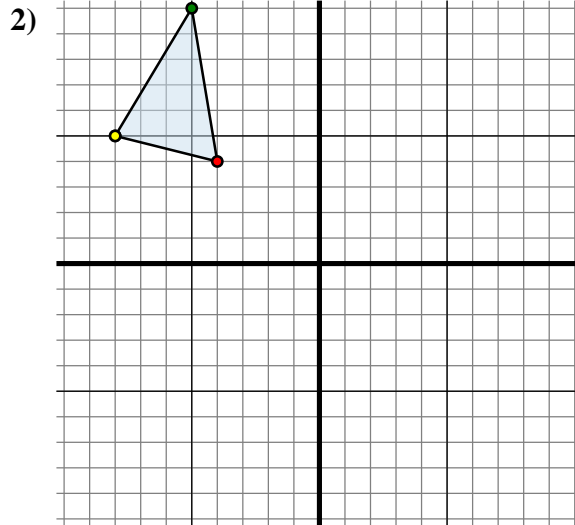
Spiegle jede Figur wie beschrieben.



Die obige Figur hat die folgenden Koordinaten:

- A. (1 , 0)
- B. (3 , -7)
- C. (9 , -6)
- D. (6 , -4)

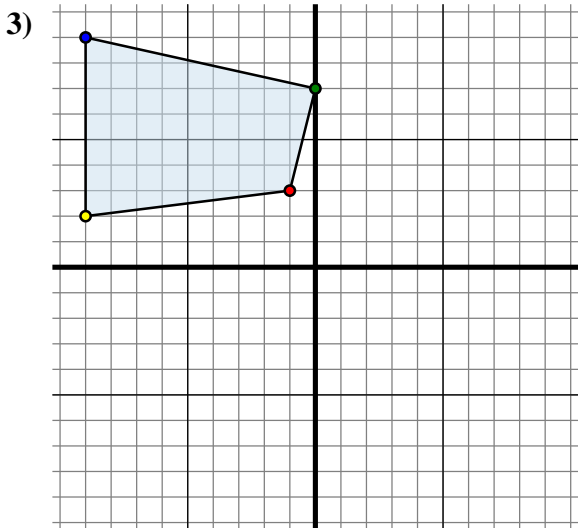
Spiegle die Figur an der Y-Achse.



Die obige Figur hat die folgenden Koordinaten:

- A. (-4 , 4)
- B. (-5 , 10)
- C. (-8 , 5)

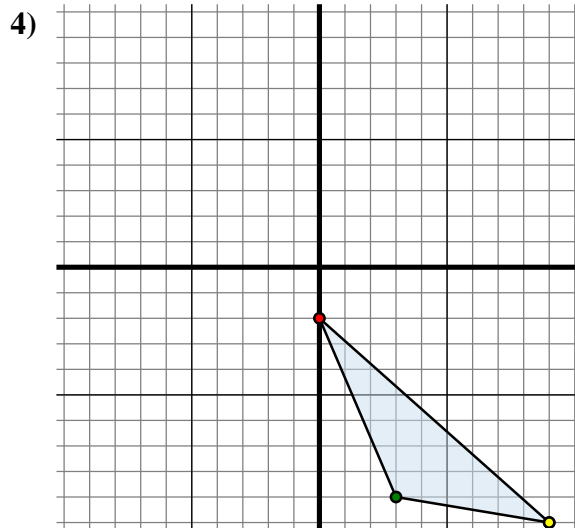
Spiegle die Figur an der X-Achse.



Die obige Figur hat die folgenden Koordinaten:

- A. (-1 , 3)
- B. (0 , 7)
- C. (-9 , 9)
- D. (-9 , 2)

Spiegle die Figur an der X-Achse.



Die obige Figur hat die folgenden Koordinaten:

- A. (0 , -2)
- B. (3 , -9)
- C. (9 , -10)

Spiegle die Figur an der Y-Achse.

Antworten

1A. (-1 , 0)

1B. _____

1C. _____

1D. _____

1G. Graph

2A. _____

2B. _____

2C. _____

2G. Graph

3A. _____

3B. _____

3C. _____

3D. _____

3G. Graph

4A. _____

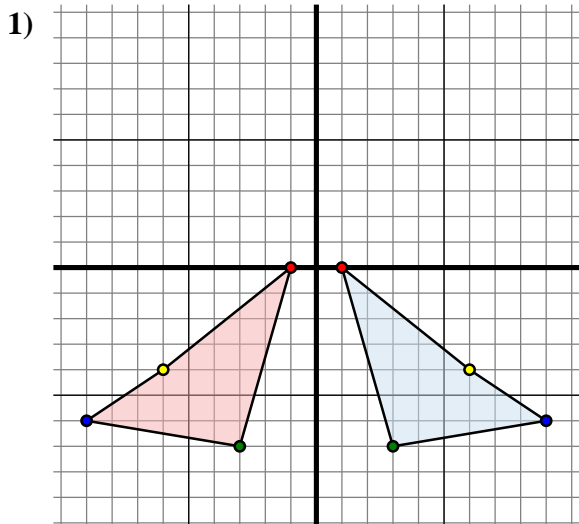
4B. _____

4C. _____

4G. Graph



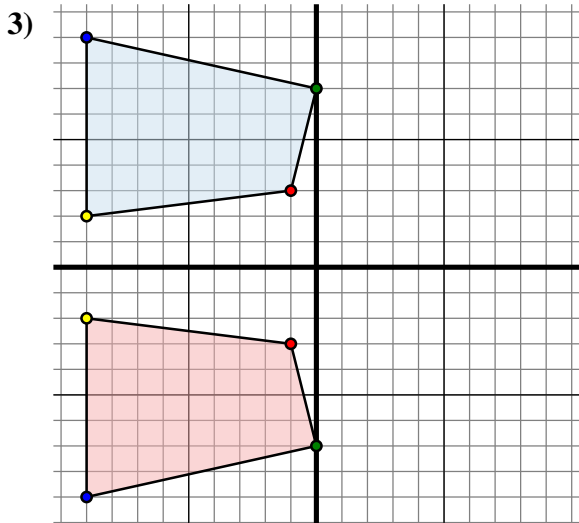
Spiegle jede Figur wie beschrieben.



Die obige Figur hat die folgenden Koordinaten:

- A. (1 , 0)
- B. (3 , -7)
- C. (9 , -6)
- D. (6 , -4)

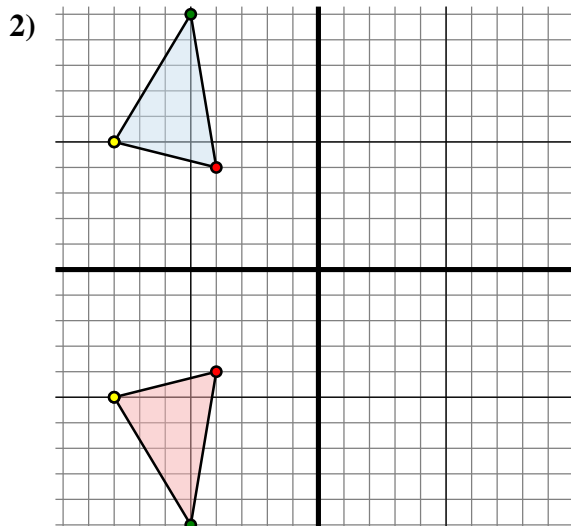
Spiegle die Figur an der Y-Achse.



Die obige Figur hat die folgenden Koordinaten:

- A. (-1 , 3)
- B. (0 , 7)
- C. (-9 , 9)
- D. (-9 , 2)

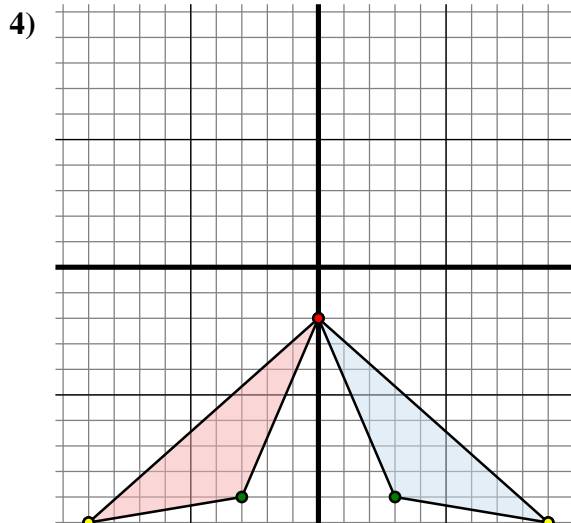
Spiegle die Figur an der X-Achse.



Die obige Figur hat die folgenden Koordinaten:

- A. (-4 , 4)
- B. (-5 , 10)
- C. (-8 , 5)

Spiegle die Figur an der X-Achse.



Die obige Figur hat die folgenden Koordinaten:

- A. (0 , -2)
- B. (3 , -9)
- C. (9 , -10)

Spiegle die Figur an der Y-Achse.

Antworten1A. **(-1 , 0)**1B. **(-3 , -7)**1C. **(-9 , -6)**1D. **(-6 , -4)**1G. **Graph**2A. **(-4 , -4)**2B. **(-5 , -10)**2C. **(-8 , -5)**2G. **Graph**3A. **(-1 , -3)**3B. **(0 , -7)**3C. **(-9 , -9)**3D. **(-9 , -2)**3G. **Graph**4A. **(0 , -2)**4B. **(-3 , -9)**4C. **(-9 , -10)**4G. **Graph**