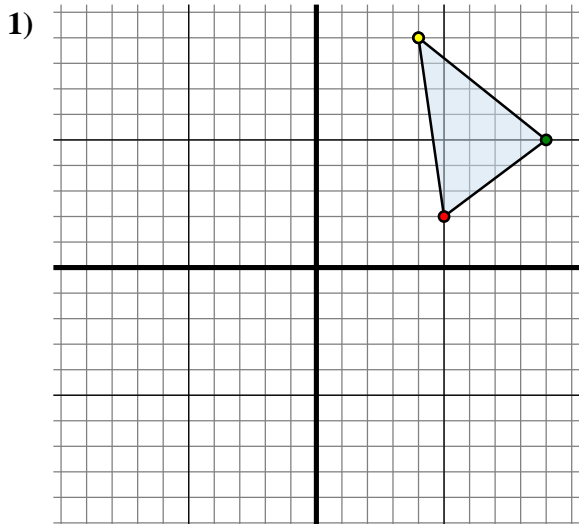




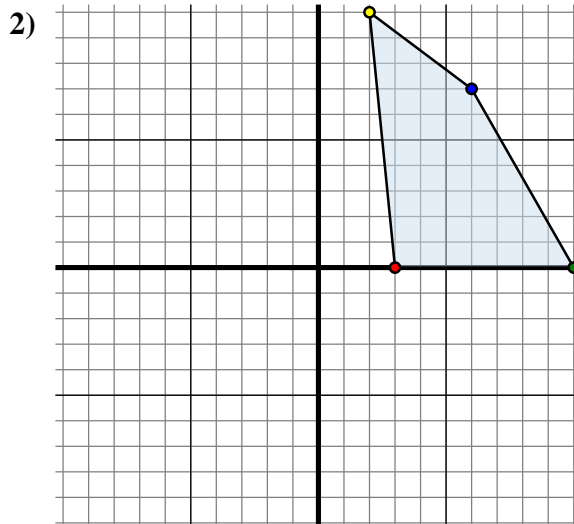
Spiegle jede Figur wie beschrieben.



Die obige Figur hat die folgenden Koordinaten:

- A. (5 , 2)
- B. (9 , 5)
- C. (4 , 9)

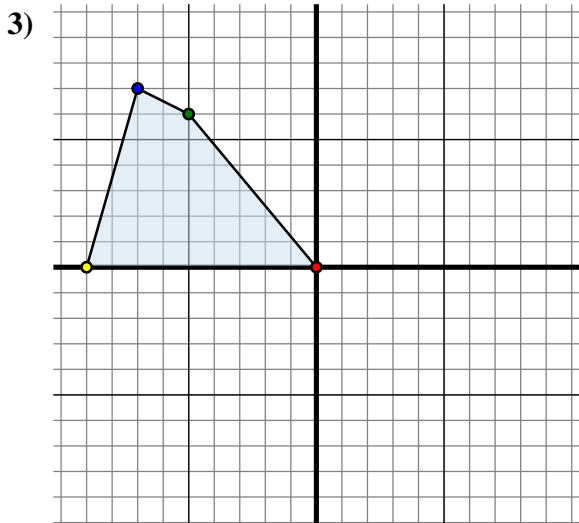
Spiegle die Figur an der Y-Achse.



Die obige Figur hat die folgenden Koordinaten:

- A. (3 , 0)
- B. (10 , 0)
- C. (6 , 7)
- D. (2 , 10)

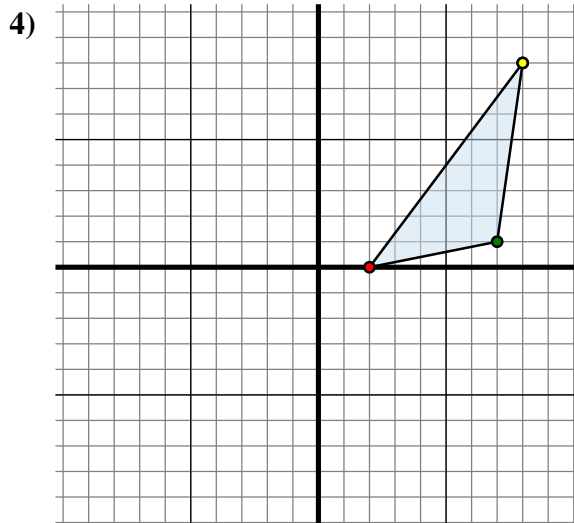
Spiegle die Figur an der X-Achse.



Die obige Figur hat die folgenden Koordinaten:

- A. (0 , 0)
- B. (-5 , 6)
- C. (-7 , 7)
- D. (-9 , 0)

Spiegle die Figur an der X-Achse.



Die obige Figur hat die folgenden Koordinaten:

- A. (2 , 0)
- B. (7 , 1)
- C. (8 , 8)

Spiegle die Figur an der Y-Achse.

Antworten

1A. (-5 , 2)

1B. _____

1C. _____

1G. Graph

2A. _____

2B. _____

2C. _____

2D. _____

2G. Graph

3A. _____

3B. _____

3C. _____

3D. _____

3G. Graph

4A. _____

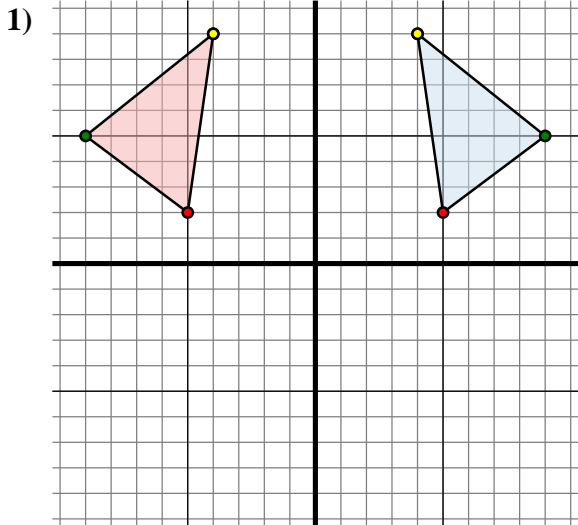
4B. _____

4C. _____

4G. Graph



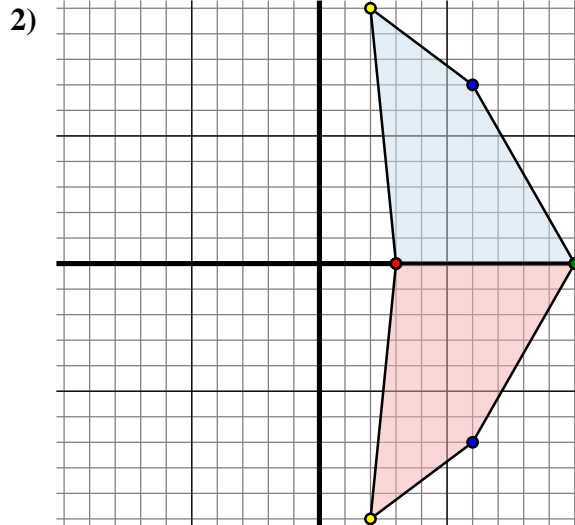
Spiegle jede Figur wie beschrieben.



Die obige Figur hat die folgenden Koordinaten:

- A. (5 , 2)
- B. (9 , 5)
- C. (4 , 9)

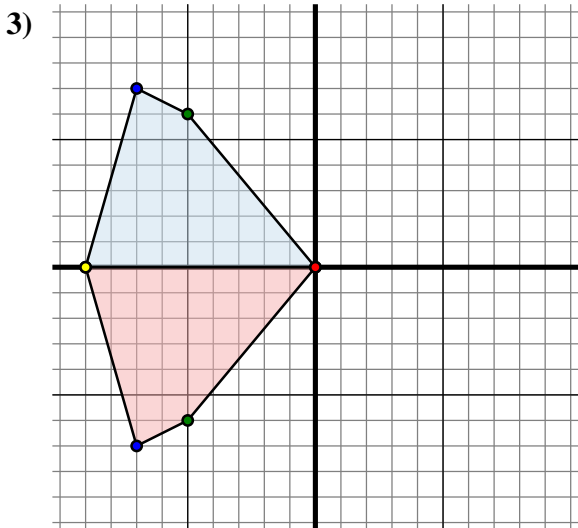
Spiegle die Figur an der Y-Achse.



Die obige Figur hat die folgenden Koordinaten:

- A. (3 , 0)
- B. (10 , 0)
- C. (6 , 7)
- D. (2 , 10)

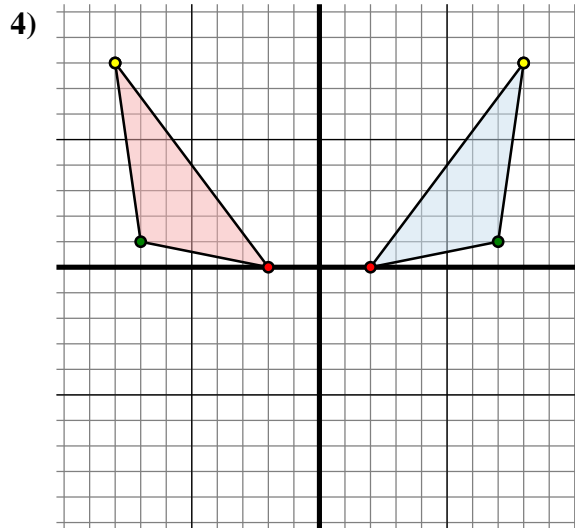
Spiegle die Figur an der X-Achse.



Die obige Figur hat die folgenden Koordinaten:

- A. (0 , 0)
- B. (-5 , 6)
- C. (-7 , 7)
- D. (-9 , 0)

Spiegle die Figur an der X-Achse.



Die obige Figur hat die folgenden Koordinaten:

- A. (2 , 0)
- B. (7 , 1)
- C. (8 , 8)

Spiegle die Figur an der Y-Achse.

Antworten

1A. **(-5 , 2)**

1B. **(-9 , 5)**

1C. **(-4 , 9)**

1G. **Graph**

2A. **(3 , 0)**

2B. **(10 , 0)**

2C. **(6 , -7)**

2D. **(2 , -10)**

2G. **Graph**

3A. **(0 , 0)**

3B. **(-5 , -6)**

3C. **(-7 , -7)**

3D. **(-9 , 0)**

3G. **Graph**

4A. **(-2 , 0)**

4B. **(-7 , 1)**

4C. **(-8 , 8)**

4G. **Graph**