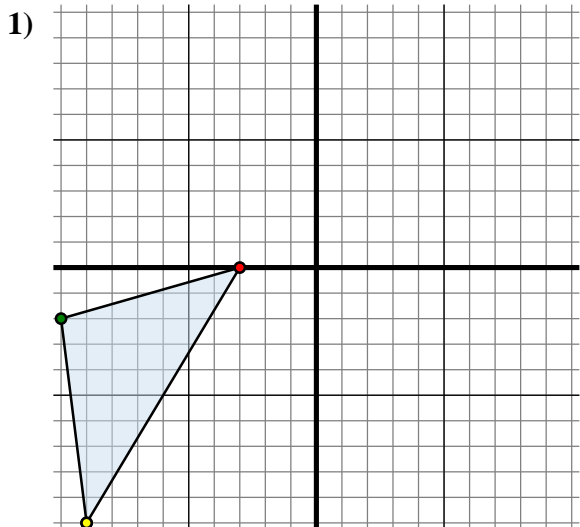




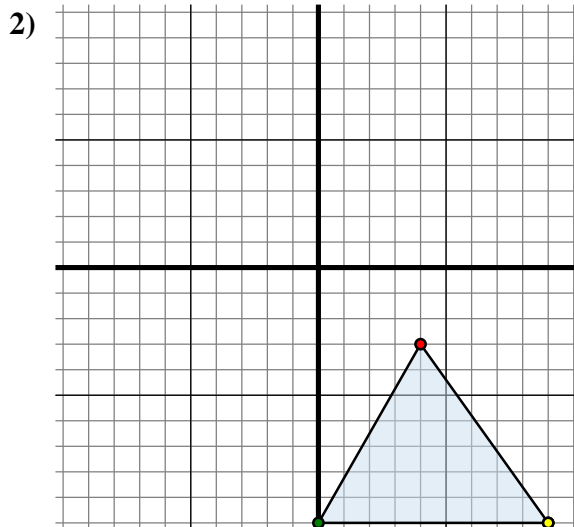
Spiegle jede Figur wie beschrieben.



Die obige Figur hat die folgenden Koordinaten:

- A. (-3 , 0)
- B. (-10 , -2)
- C. (-9 , -10)

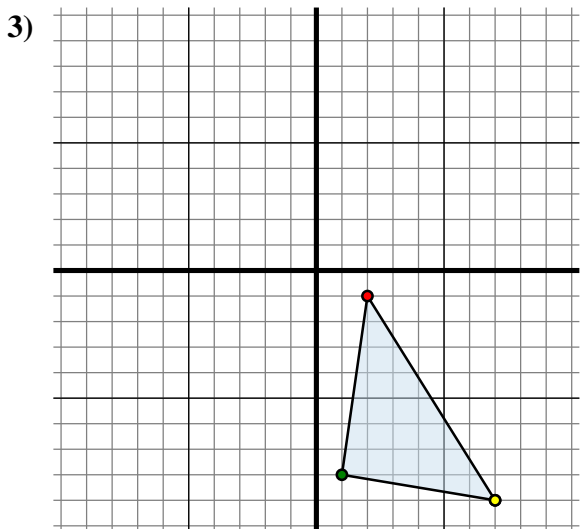
Spiegle die Figur an der X-Achse.



Die obige Figur hat die folgenden Koordinaten:

- A. (4 , -3)
- B. (0 , -10)
- C. (9 , -10)

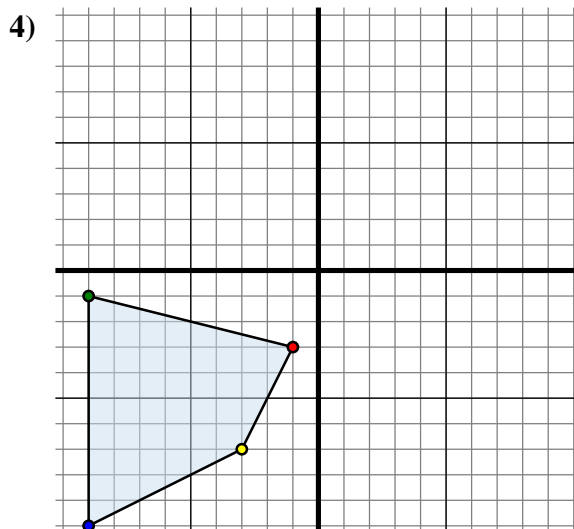
Spiegle die Figur an der Y-Achse.



Die obige Figur hat die folgenden Koordinaten:

- A. (2 , -1)
- B. (1 , -8)
- C. (7 , -9)

Spiegle die Figur an der X-Achse.



Die obige Figur hat die folgenden Koordinaten:

- A. (-1 , -3)
- B. (-9 , -1)
- C. (-9 , -10)
- D. (-3 , -7)

Spiegle die Figur an der X-Achse.

Antworten

1A. (-3 , 0)

1B. _____

1C. _____

1G. Graph

2A. _____

2B. _____

2C. _____

2G. Graph

3A. _____

3B. _____

3C. _____

3G. Graph

4A. _____

4B. _____

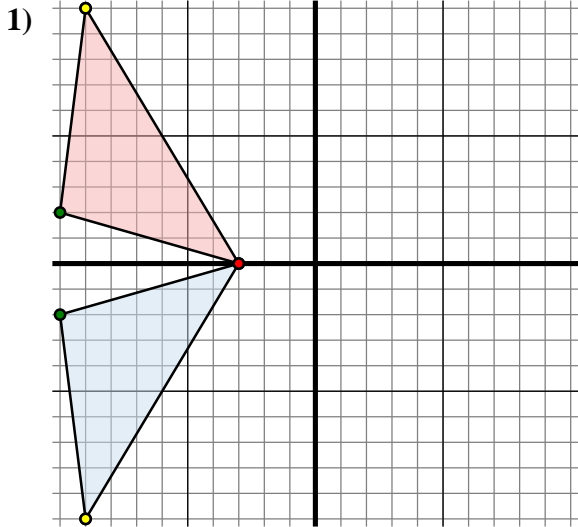
4C. _____

4D. _____

4G. Graph



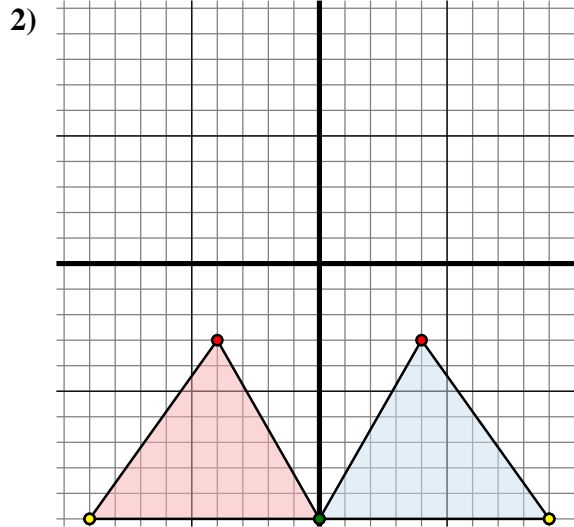
Spiegle jede Figur wie beschrieben.



Die obige Figur hat die folgenden Koordinaten:

- A. (-3 , 0)
- B. (-10 , -2)
- C. (-9 , -10)

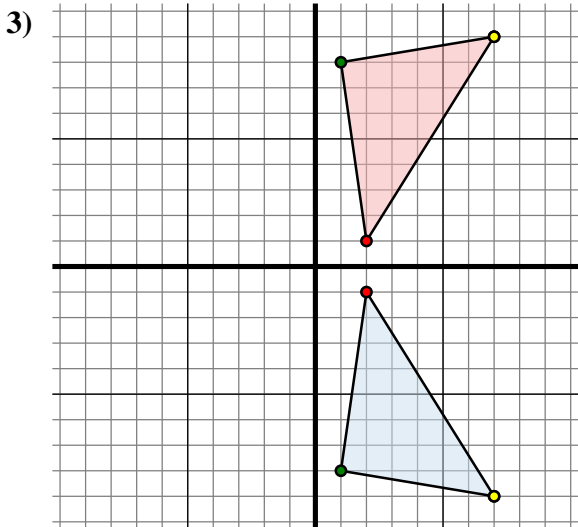
Spiegle die Figur an der X-Achse.



Die obige Figur hat die folgenden Koordinaten:

- A. (4 , -3)
- B. (0 , -10)
- C. (9 , -10)

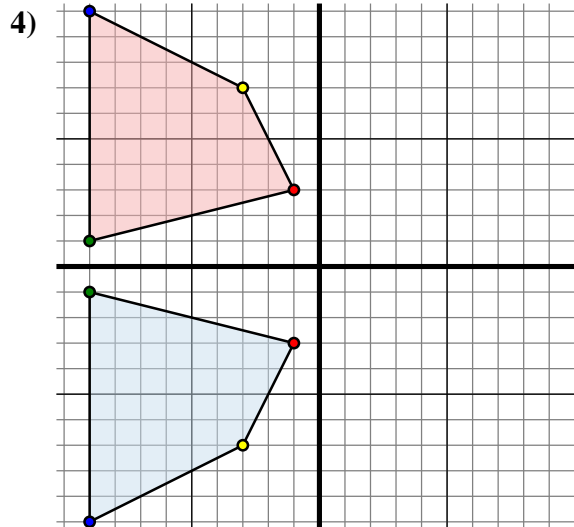
Spiegle die Figur an der Y-Achse.



Die obige Figur hat die folgenden Koordinaten:

- A. (2 , -1)
- B. (1 , -8)
- C. (7 , -9)

Spiegle die Figur an der X-Achse.



Die obige Figur hat die folgenden Koordinaten:

- A. (-1 , -3)
- B. (-9 , -1)
- C. (-9 , -10)
- D. (-3 , -7)

Spiegle die Figur an der X-Achse.

Antworten

1A. (-3 , 0)

1B. (-10 , 2)

1C. (-9 , 10)

1G. Graph

2A. (-4 , -3)

2B. (0 , -10)

2C. (-9 , -10)

2G. Graph

3A. (2 , 1)

3B. (1 , 8)

3C. (7 , 9)

3G. Graph

4A. (-1 , 3)

4B. (-9 , 1)

4C. (-9 , 10)

4D. (-3 , 7)

4G. Graph