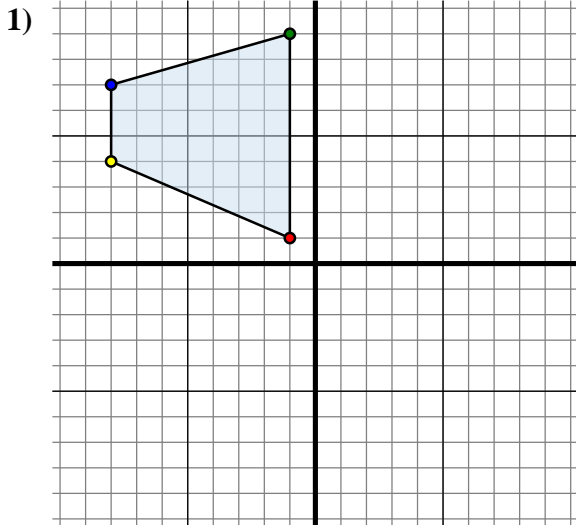




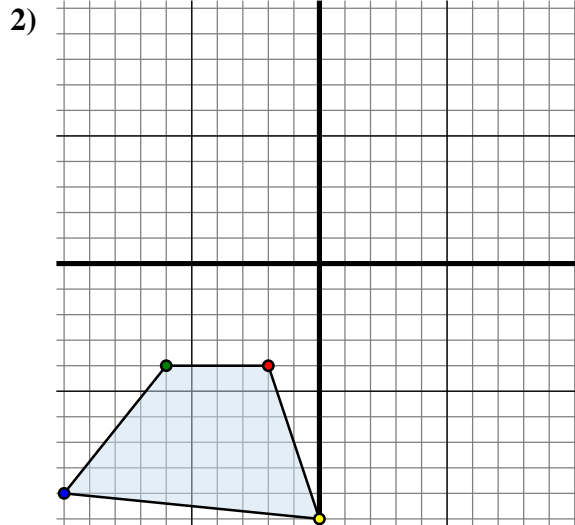
Spiegle jede Figur wie beschrieben.



Die obige Figur hat die folgenden Koordinaten:

- A. (-1 , 1)
- B. (-1 , 9)
- C. (-8 , 7)
- D. (-8 , 4)

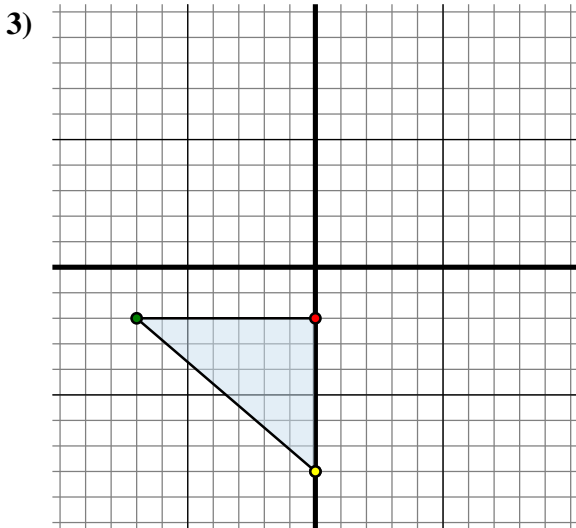
Spiegle die Figur an der Y-Achse.



Die obige Figur hat die folgenden Koordinaten:

- A. (-2 , -4)
- B. (-6 , -4)
- C. (-10 , -9)
- D. (0 , -10)

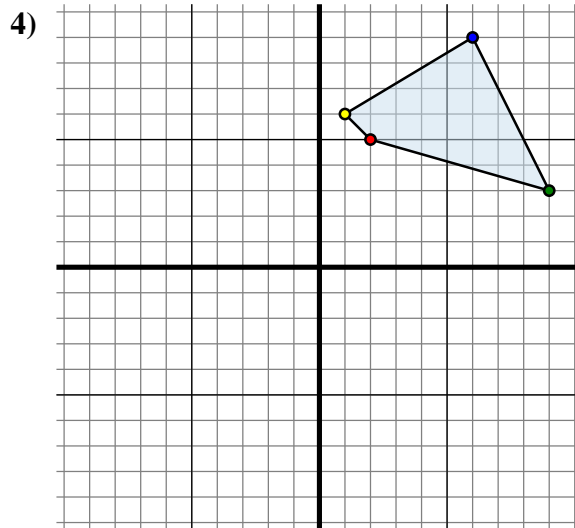
Spiegle die Figur an der Y-Achse.



Die obige Figur hat die folgenden Koordinaten:

- A. (0 , -2)
- B. (-7 , -2)
- C. (0 , -8)

Spiegle die Figur an der Y-Achse.



Die obige Figur hat die folgenden Koordinaten:

- A. (2 , 5)
- B. (9 , 3)
- C. (6 , 9)
- D. (1 , 6)

Spiegle die Figur an der X-Achse.

Antworten

1A. (1, 1)

1B. _____

1C. _____

1D. _____

1G. Graph

2A. _____

2B. _____

2C. _____

2D. _____

2G. Graph

3A. _____

3B. _____

3C. _____

3G. Graph

4A. _____

4B. _____

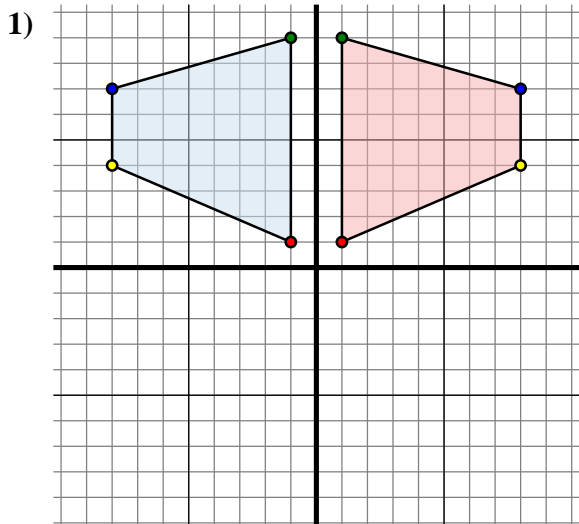
4C. _____

4D. _____

4G. Graph



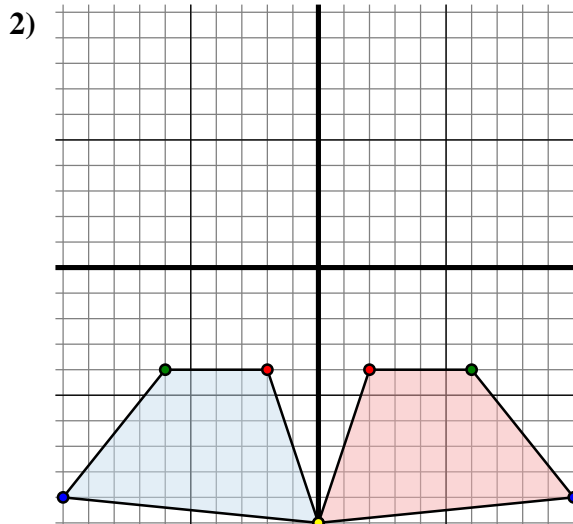
Spiegle jede Figur wie beschrieben.



Die obige Figur hat die folgenden Koordinaten:

- A. (-1 , 1)
- B. (-1 , 9)
- C. (-8 , 7)
- D. (-8 , 4)

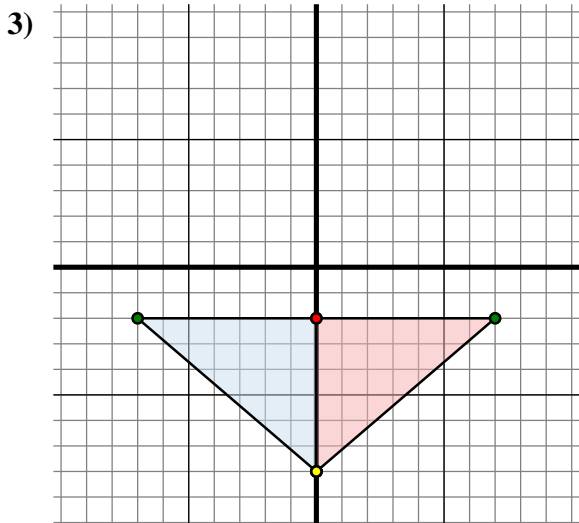
Spiegle die Figur an der Y-Achse.



Die obige Figur hat die folgenden Koordinaten:

- A. (-2 , -4)
- B. (-6 , -4)
- C. (-10 , -9)
- D. (0 , -10)

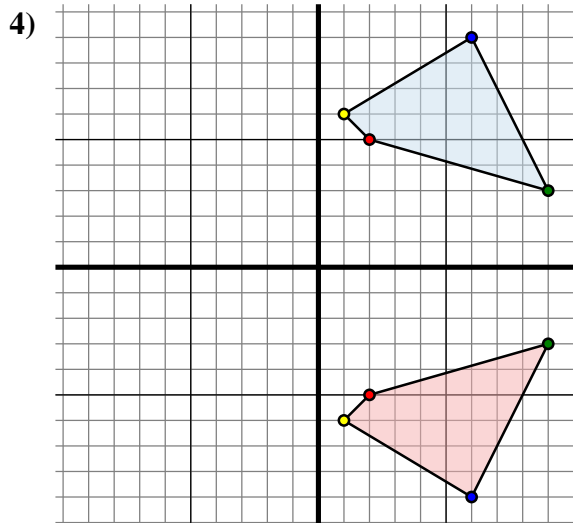
Spiegle die Figur an der Y-Achse.



Die obige Figur hat die folgenden Koordinaten:

- A. (0 , -2)
- B. (-7 , -2)
- C. (0 , -8)

Spiegle die Figur an der Y-Achse.



Die obige Figur hat die folgenden Koordinaten:

- A. (2 , 5)
- B. (9 , 3)
- C. (6 , 9)
- D. (1 , 6)

Spiegle die Figur an der X-Achse.

Antworten

1A. (1 , 1)

1B. (1 , 9)

1C. (8 , 7)

1D. (8 , 4)

1G. Graph

2A. (2 , -4)

2B. (6 , -4)

2C. (10 , -9)

2D. (0 , -10)

2G. Graph

3A. (0 , -2)

3B. (7 , -2)

3C. (0 , -8)

3G. Graph

4A. (2 , -5)

4B. (9 , -3)

4C. (6 , -9)

4D. (1 , -6)

4G. Graph