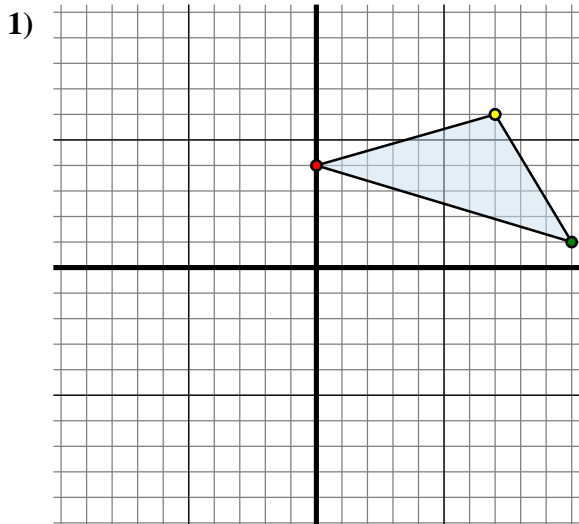




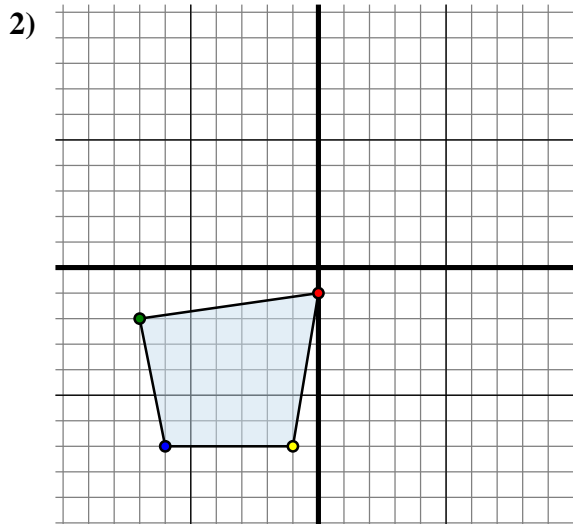
Spiegle jede Figur wie beschrieben.



Die obige Figur hat die folgenden Koordinaten:

- A. (0 , 4)
- B. (10 , 1)
- C. (7 , 6)

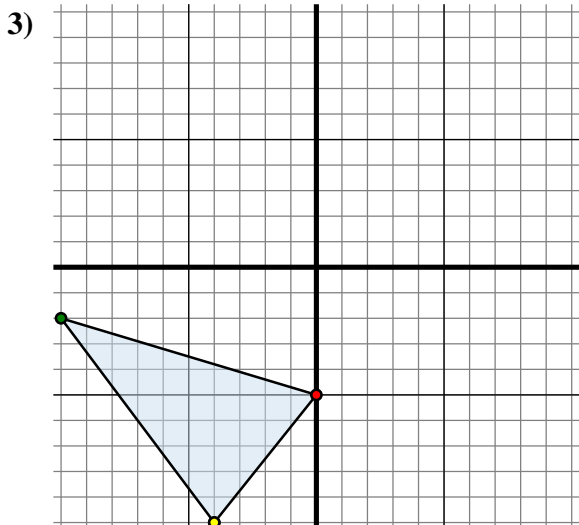
Spiegle die Figur an der Y-Achse.



Die obige Figur hat die folgenden Koordinaten:

- A. (0 , -1)
- B. (-7 , -2)
- C. (-6 , -7)
- D. (-1 , -7)

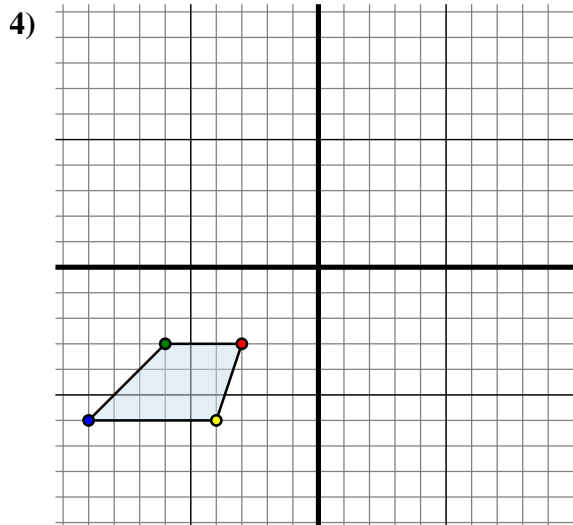
Spiegle die Figur an der Y-Achse.



Die obige Figur hat die folgenden Koordinaten:

- A. (0 , -5)
- B. (-10 , -2)
- C. (-4 , -10)

Spiegle die Figur an der X-Achse.



Die obige Figur hat die folgenden Koordinaten:

- A. (-3 , -3)
- B. (-6 , -3)
- C. (-9 , -6)
- D. (-4 , -6)

Spiegle die Figur an der X-Achse.

Antworten

1A. (0 , 4)

1B. _____

1C. _____

1G. Graph

2A. _____

2B. _____

2C. _____

2D. _____

2G. Graph

3A. _____

3B. _____

3C. _____

3G. Graph

4A. _____

4B. _____

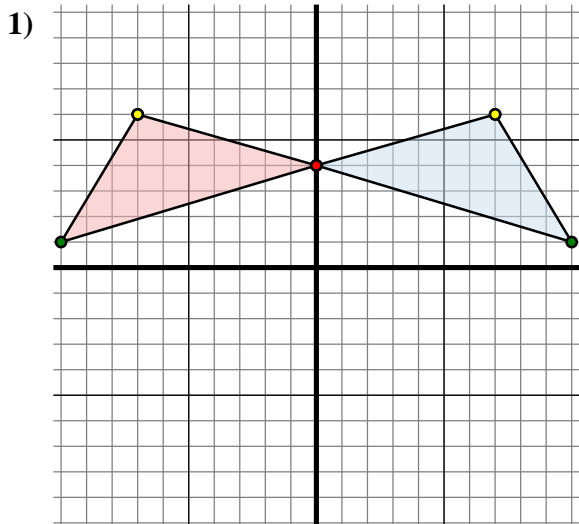
4C. _____

4D. _____

4G. Graph



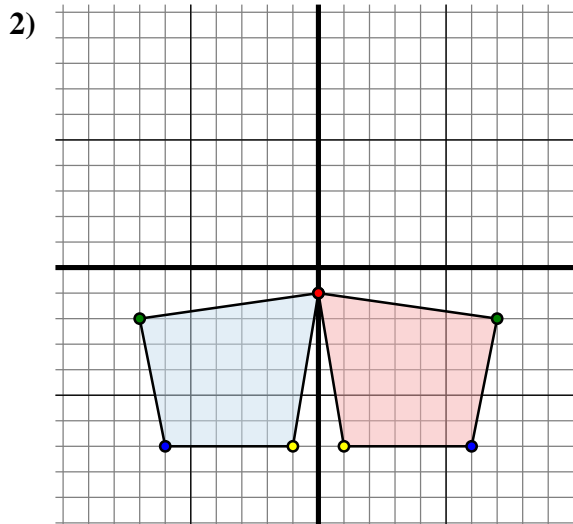
Spiegle jede Figur wie beschrieben.



Die obige Figur hat die folgenden Koordinaten:

- A. (0 , 4)
- B. (10 , 1)
- C. (7 , 6)

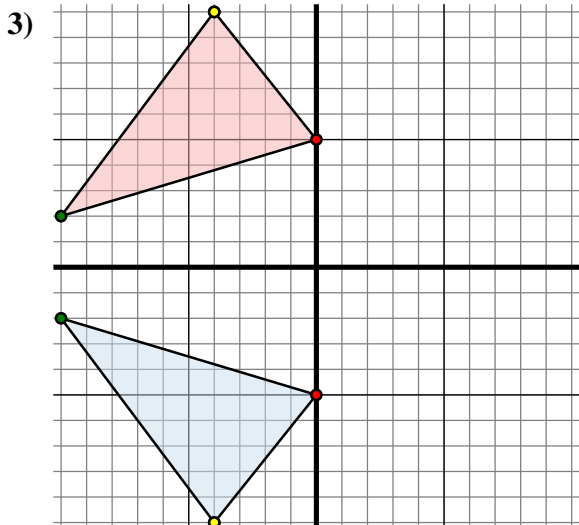
Spiegle die Figur an der Y-Achse.



Die obige Figur hat die folgenden Koordinaten:

- A. (0 , -1)
- B. (-7 , -2)
- C. (-6 , -7)
- D. (-1 , -7)

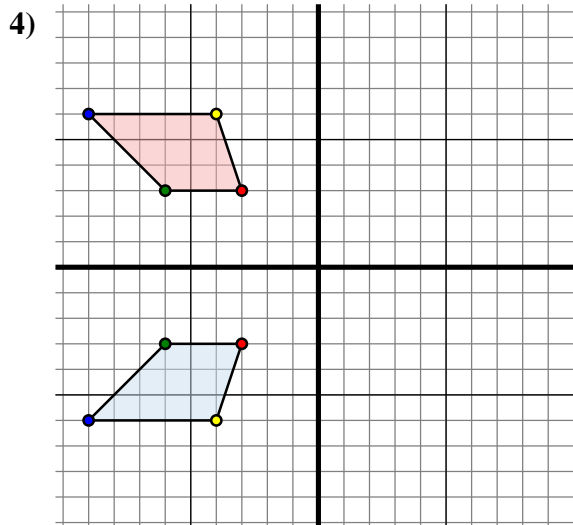
Spiegle die Figur an der Y-Achse.



Die obige Figur hat die folgenden Koordinaten:

- A. (0 , -5)
- B. (-10 , -2)
- C. (-4 , -10)

Spiegle die Figur an der X-Achse.



Die obige Figur hat die folgenden Koordinaten:

- A. (-3 , -3)
- B. (-6 , -3)
- C. (-9 , -6)
- D. (-4 , -6)

Spiegle die Figur an der X-Achse.

Antworten

1A. (0 , 4)

1B. (-10 , 1)

1C. (-7 , 6)

1G. Graph

2A. (0 , -1)

2B. (7 , -2)

2C. (6 , -7)

2D. (1 , -7)

2G. Graph

3A. (0 , 5)

3B. (-10 , 2)

3C. (-4 , 10)

3G. Graph

4A. (-3 , 3)

4B. (-6 , 3)

4C. (-9 , 6)

4D. (-4 , 6)

4G. Graph