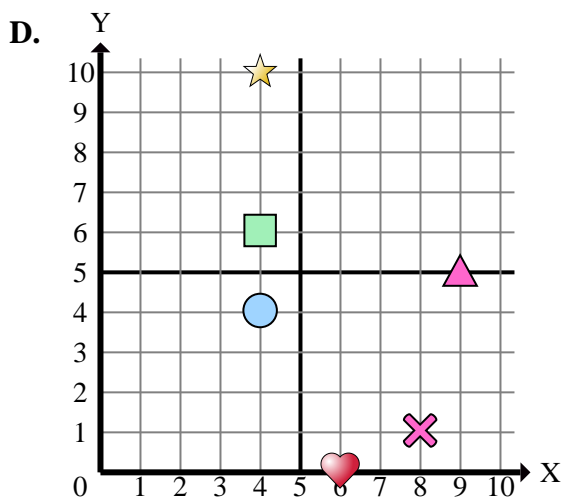
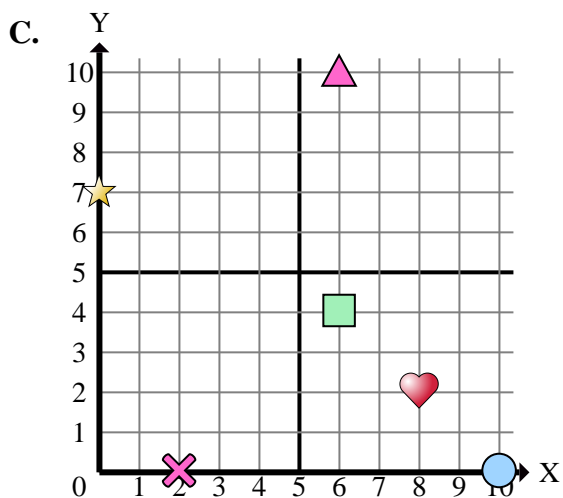
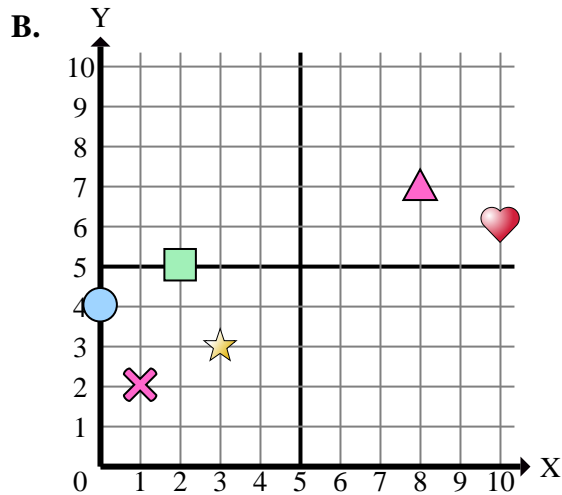
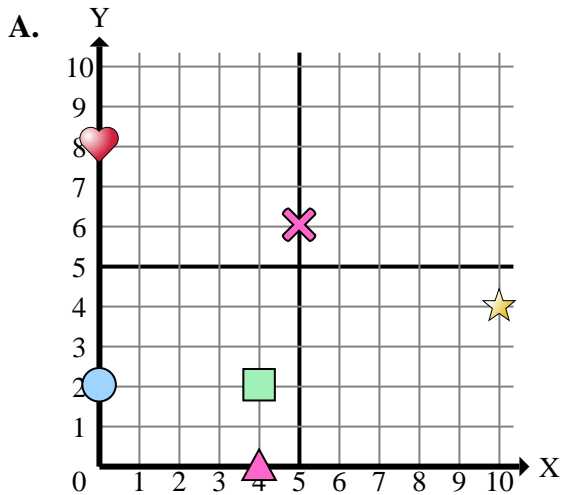




Stelle fest, welches Koordinatenkreuz jede Frage beantwortet.



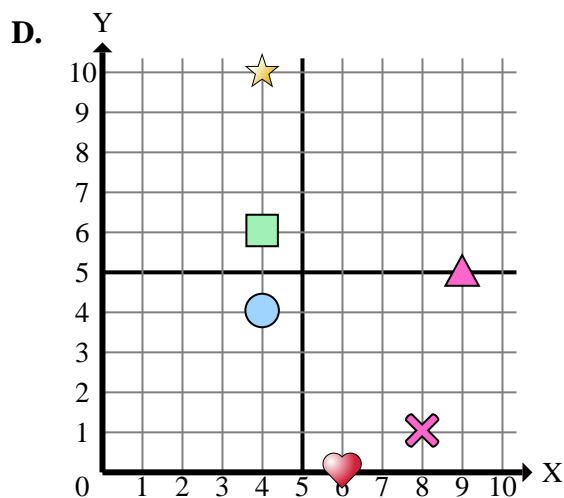
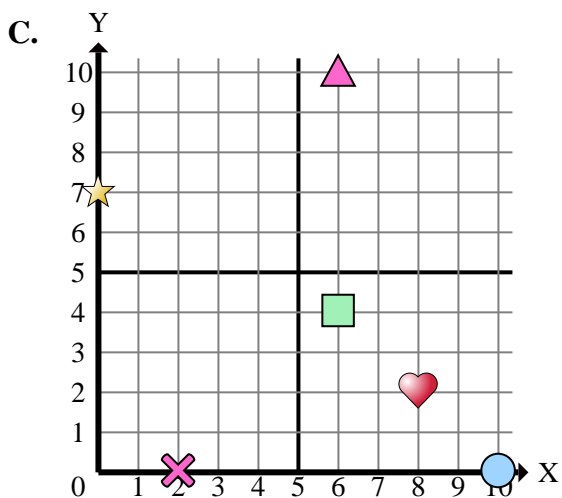
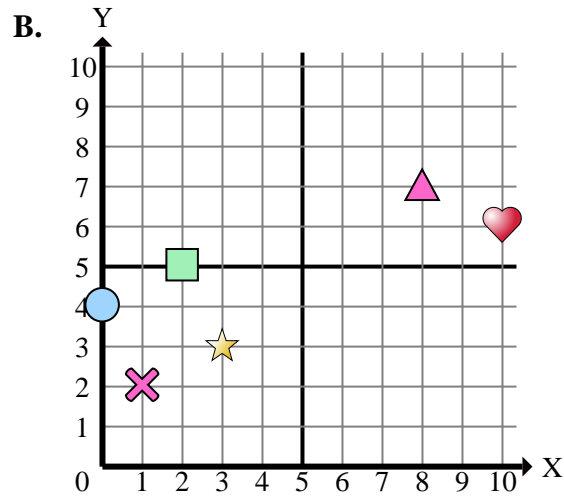
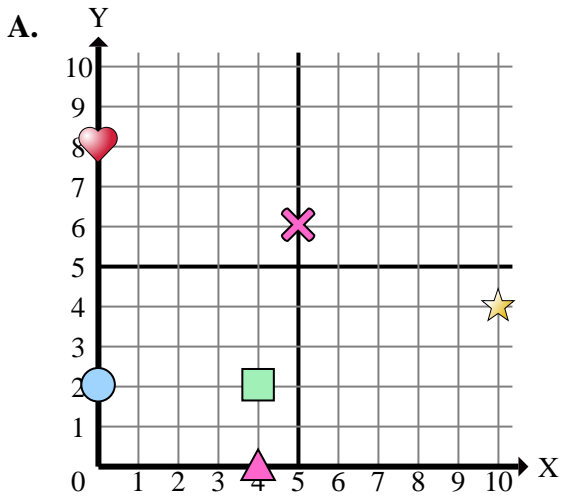
Antworten

1. _____
2. _____
3. _____
4. _____
5. _____
6. _____
7. _____
8. _____
9. _____
10. _____
11. _____
12. _____
13. _____
14. _____
15. _____

- 1) Welches Koordinatenkreuz hat eine Figur bei (8 , 1)?
- 2) Welches Koordinatenkreuz hat eine Figur bei (0 , 7)?
- 3) Welches Koordinatenkreuz hat eine Figur bei (6 , 0)?
- 4) Welches Koordinatenkreuz hat eine Figur bei (8 , 7)?
- 5) Welches Koordinatenkreuz hat eine Figur bei (8 , 2)?
- 6) Welches Koordinatenkreuz hat eine Figur bei (6 , 4)?
- 7) Welches Koordinatenkreuz hat eine Figur bei (4 , 6)?
- 8) Welches Koordinatenkreuz hat eine Figur bei (2 , 5)?
- 9) Welches Koordinatenkreuz hat eine Figur bei (3 , 3)?
- 10) Welches Koordinatenkreuz hat eine Figur bei (4 , 4)?
- 11) Welches Koordinatenkreuz hat eine Figur bei (6 , 10)?
- 12) Welches Koordinatenkreuz hat eine Figur bei (2 , 0)?
- 13) Welches Koordinatenkreuz hat eine Figur bei (1 , 2)?
- 14) Welches Koordinatenkreuz hat eine Figur bei (4 , 10)?
- 15) Welches Koordinatenkreuz hat eine Figur bei (9 , 5)?



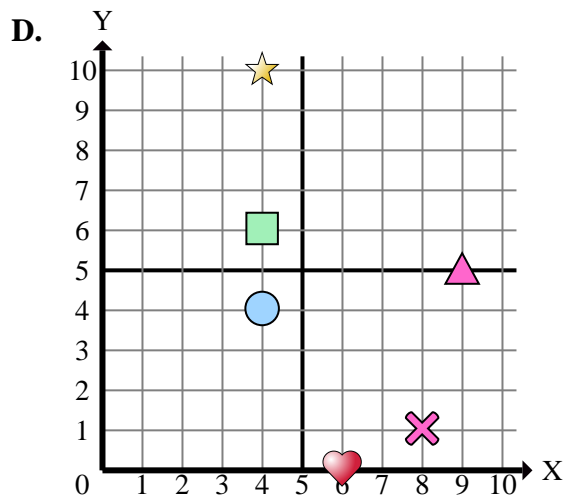
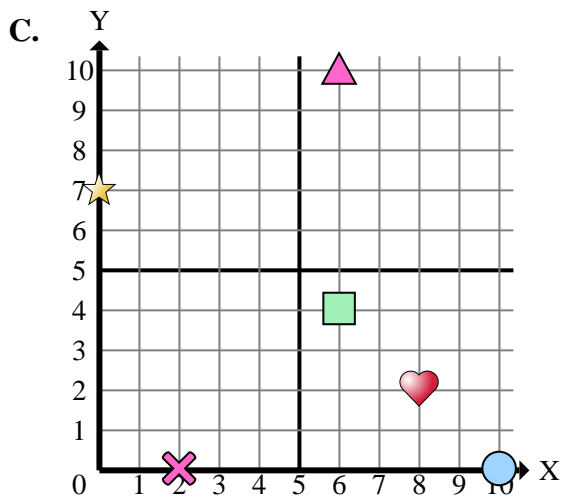
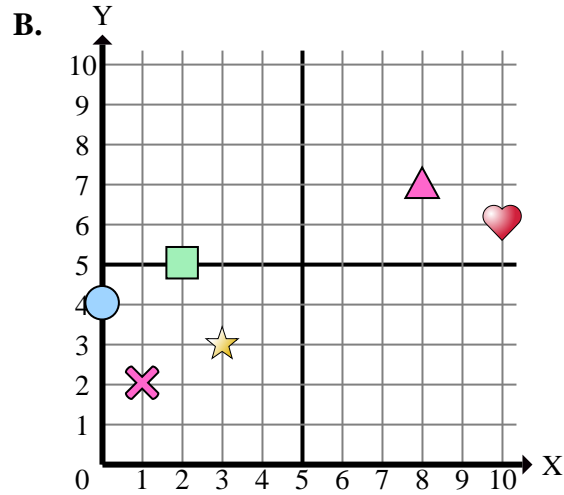
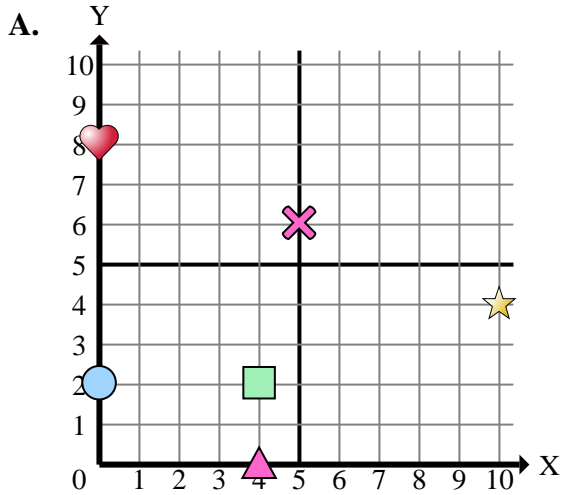
Stelle fest, welches Koordinatenkreuz jede Frage beantwortet.

**Antworten**1. **D** 2. **C** 3. **D** 4. **B** 5. **C** 6. **C** 7. **D** 8. **B** 9. **B** 10. **D** 11. **C** 12. **C** 13. **B** 14. **D** 15. **D**

- 1) Welches Koordinatenkreuz hat eine Figur bei (8 , 1)?
- 2) Welches Koordinatenkreuz hat eine Figur bei (0 , 7)?
- 3) Welches Koordinatenkreuz hat eine Figur bei (6 , 0)?
- 4) Welches Koordinatenkreuz hat eine Figur bei (8 , 7)?
- 5) Welches Koordinatenkreuz hat eine Figur bei (8 , 2)?
- 6) Welches Koordinatenkreuz hat eine Figur bei (6 , 4)?
- 7) Welches Koordinatenkreuz hat eine Figur bei (4 , 6)?
- 8) Welches Koordinatenkreuz hat eine Figur bei (2 , 5)?
- 9) Welches Koordinatenkreuz hat eine Figur bei (3 , 3)?
- 10) Welches Koordinatenkreuz hat eine Figur bei (4 , 4)?
- 11) Welches Koordinatenkreuz hat eine Figur bei (6 , 10)?
- 12) Welches Koordinatenkreuz hat eine Figur bei (2 , 0)?
- 13) Welches Koordinatenkreuz hat eine Figur bei (1 , 2)?
- 14) Welches Koordinatenkreuz hat eine Figur bei (4 , 10)?
- 15) Welches Koordinatenkreuz hat eine Figur bei (9 , 5)?



Stelle fest, welches Koordinatenkreuz jede Frage beantwortet.

**Antworten**

1. _____
2. _____
3. _____
4. _____
5. _____
6. _____
7. _____
8. _____
9. _____
10. _____

- 1) Welches Koordinatenkreuz hat ein Kreuz bei (8 , 1)?
- 2) Welches Koordinatenkreuz hat einen Stern bei (0 , 7)?
- 3) Welches Koordinatenkreuz hat ein Herz bei (6 , 0)?
- 4) Welches Koordinatenkreuz hat ein Dreieck bei (8 , 7)?
- 5) Welches Koordinatenkreuz hat ein Herz bei (8 , 2)?
- 6) Welches Koordinatenkreuz hat ein Rechteck bei (6 , 4)?
- 7) Welches Koordinatenkreuz hat ein Rechteck bei (4 , 6)?
- 8) Welches Koordinatenkreuz hat ein Rechteck bei (2 , 5)?
- 9) Welches Koordinatenkreuz hat einen Stern bei (3 , 3)?
- 10) Welches Koordinatenkreuz hat einen Kreis bei (4 , 4)?