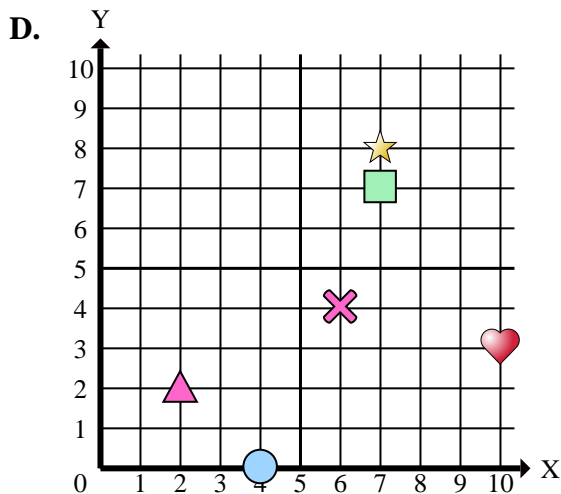
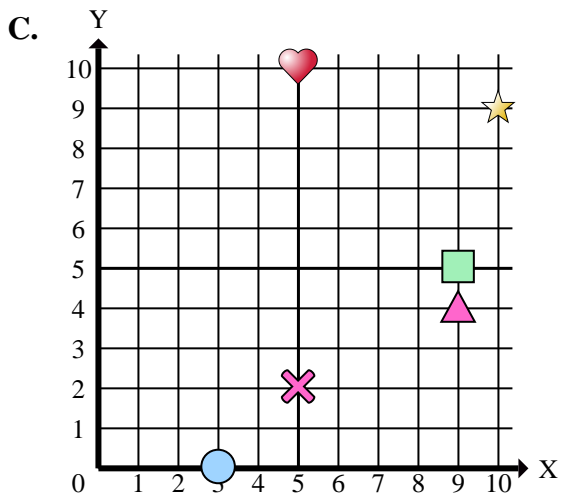
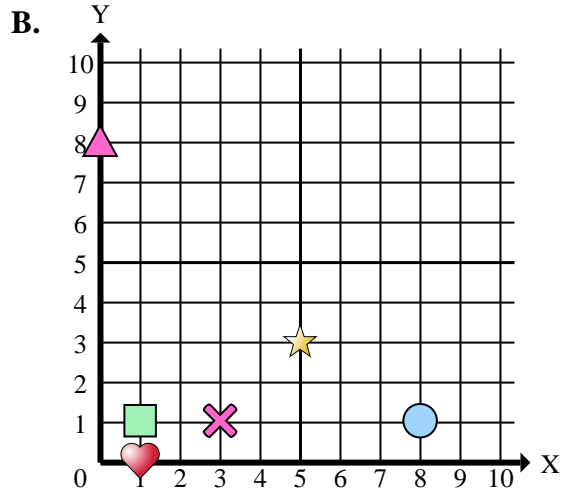
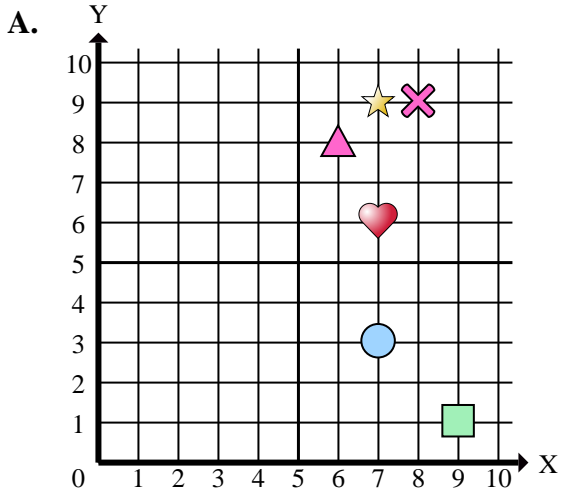




Stelle fest, welches Koordinatenkreuz jede Frage beantwortet.



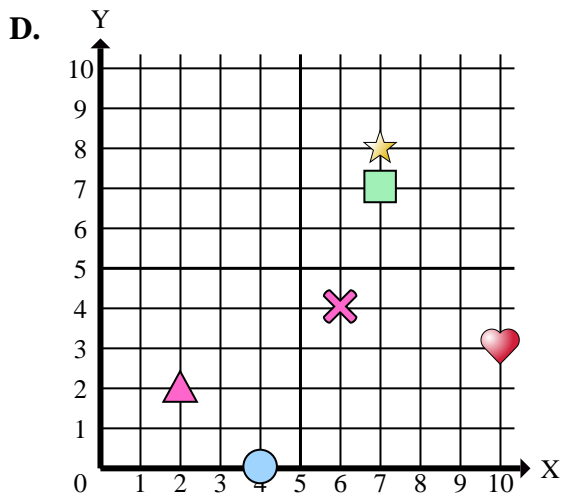
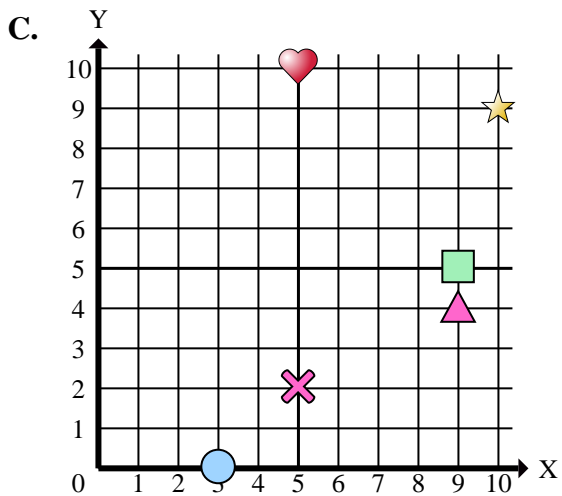
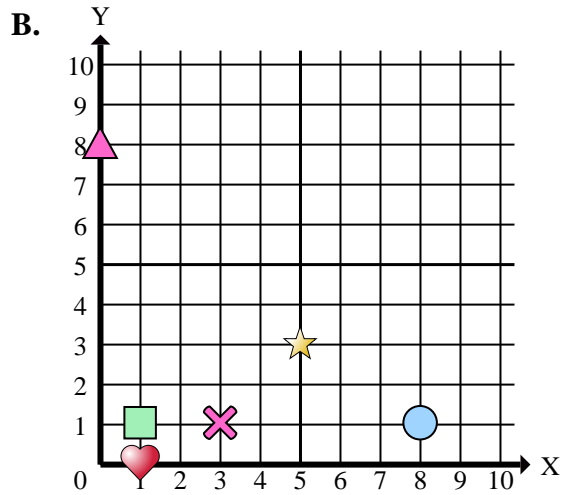
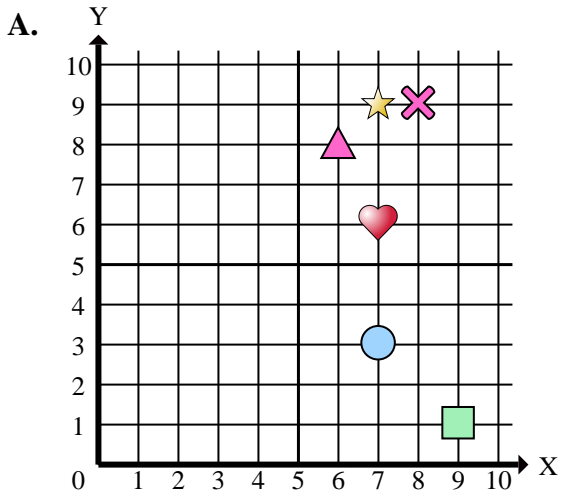
Antworten

1. _____
2. _____
3. _____
4. _____
5. _____
6. _____
7. _____
8. _____
9. _____
10. _____
11. _____
12. _____
13. _____
14. _____
15. _____

- 1) Welches Koordinatenkreuz hat eine Figur bei (3 , 1)?
- 2) Welches Koordinatenkreuz hat eine Figur bei (9 , 4)?
- 3) Welches Koordinatenkreuz hat eine Figur bei (4 , 0)?
- 4) Welches Koordinatenkreuz hat eine Figur bei (9 , 1)?
- 5) Welches Koordinatenkreuz hat eine Figur bei (5 , 10)?
- 6) Welches Koordinatenkreuz hat eine Figur bei (7 , 6)?
- 7) Welches Koordinatenkreuz hat eine Figur bei (1 , 1)?
- 8) Welches Koordinatenkreuz hat eine Figur bei (5 , 2)?
- 9) Welches Koordinatenkreuz hat eine Figur bei (6 , 4)?
- 10) Welches Koordinatenkreuz hat eine Figur bei (5 , 3)?
- 11) Welches Koordinatenkreuz hat eine Figur bei (1 , 0)?
- 12) Welches Koordinatenkreuz hat eine Figur bei (7 , 8)?
- 13) Welches Koordinatenkreuz hat eine Figur bei (10 , 3)?
- 14) Welches Koordinatenkreuz hat eine Figur bei (7 , 3)?
- 15) Welches Koordinatenkreuz hat eine Figur bei (10 , 9)?



Stelle fest, welches Koordinatenkreuz jede Frage beantwortet.



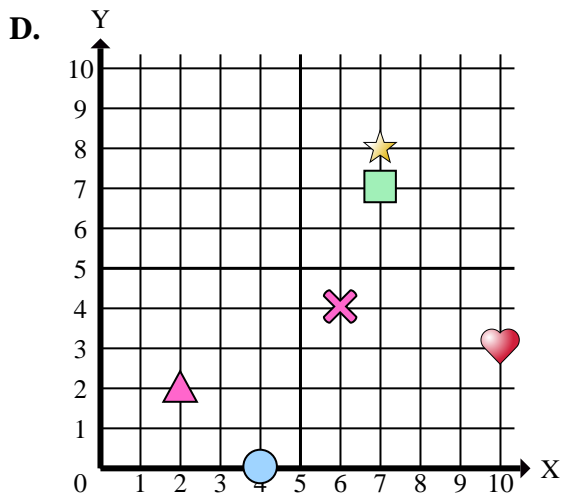
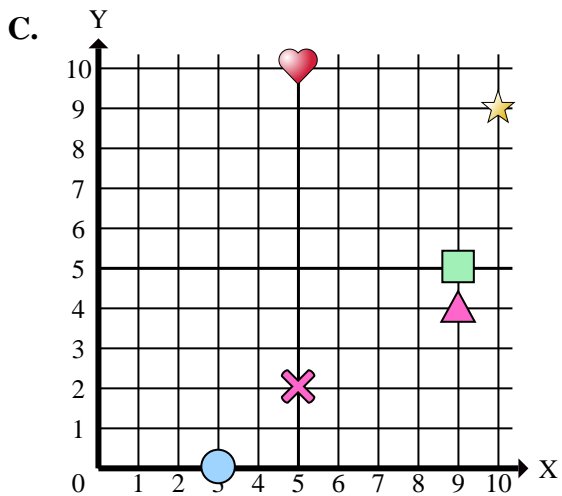
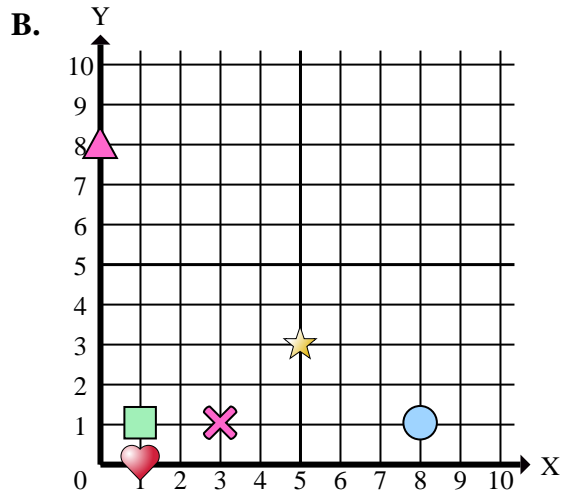
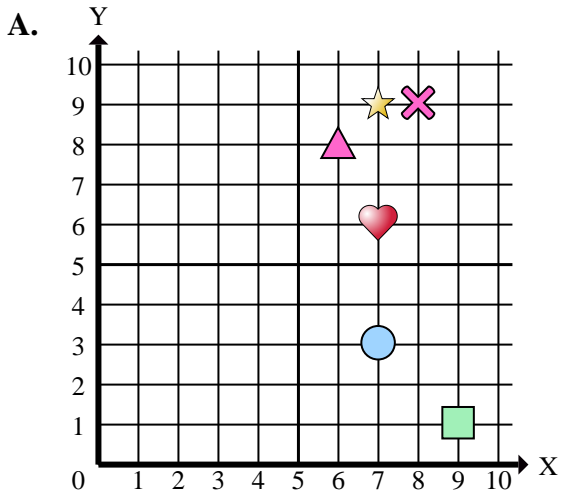
Antworten

1. **B**
2. **C**
3. **D**
4. **A**
5. **C**
6. **A**
7. **B**
8. **C**
9. **D**
10. **B**
11. **B**
12. **D**
13. **D**
14. **A**
15. **C**

- 1) Welches Koordinatenkreuz hat eine Figur bei (3 , 1)?
- 2) Welches Koordinatenkreuz hat eine Figur bei (9 , 4)?
- 3) Welches Koordinatenkreuz hat eine Figur bei (4 , 0)?
- 4) Welches Koordinatenkreuz hat eine Figur bei (9 , 1)?
- 5) Welches Koordinatenkreuz hat eine Figur bei (5 , 10)?
- 6) Welches Koordinatenkreuz hat eine Figur bei (7 , 6)?
- 7) Welches Koordinatenkreuz hat eine Figur bei (1 , 1)?
- 8) Welches Koordinatenkreuz hat eine Figur bei (5 , 2)?
- 9) Welches Koordinatenkreuz hat eine Figur bei (6 , 4)?
- 10) Welches Koordinatenkreuz hat eine Figur bei (5 , 3)?
- 11) Welches Koordinatenkreuz hat eine Figur bei (1 , 0)?
- 12) Welches Koordinatenkreuz hat eine Figur bei (7 , 8)?
- 13) Welches Koordinatenkreuz hat eine Figur bei (10 , 3)?
- 14) Welches Koordinatenkreuz hat eine Figur bei (7 , 3)?
- 15) Welches Koordinatenkreuz hat eine Figur bei (10 , 9)?



Stelle fest, welches Koordinatenkreuz jede Frage beantwortet.



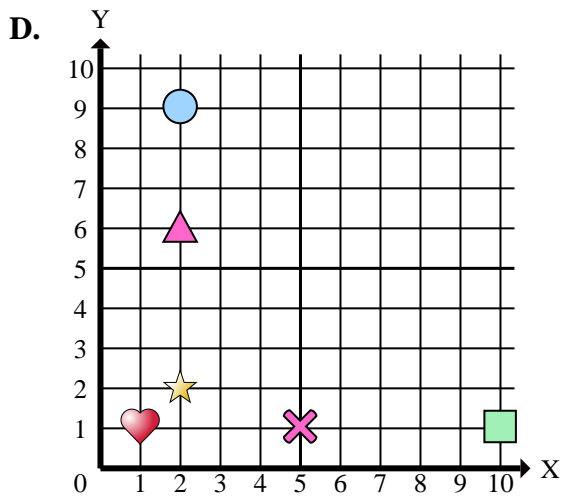
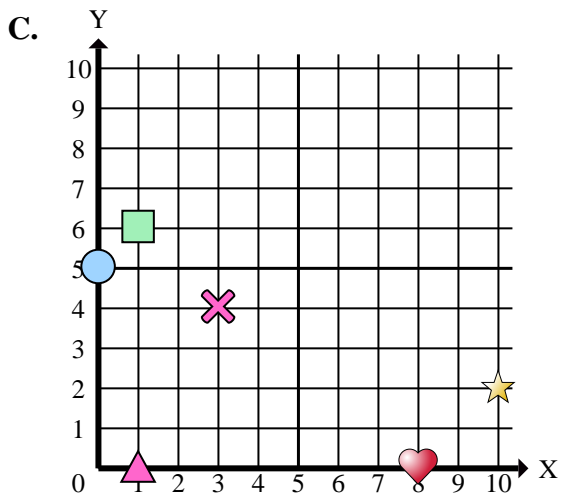
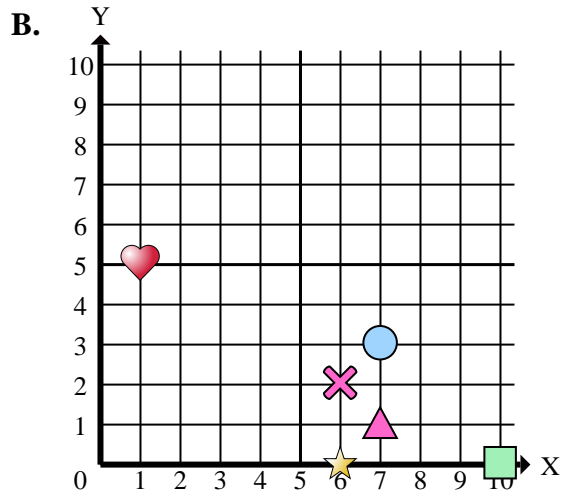
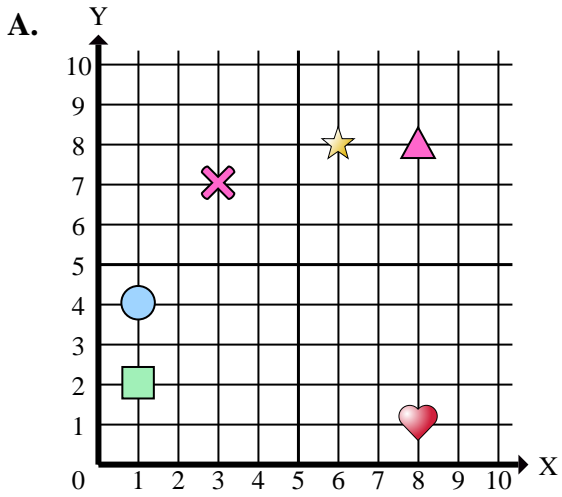
Antworten

1. _____
2. _____
3. _____
4. _____
5. _____
6. _____
7. _____
8. _____
9. _____
10. _____

- 1) Welches Koordinatenkreuz hat ein Kreuz bei (3 , 1)?
- 2) Welches Koordinatenkreuz hat ein Dreieck bei (9 , 4)?
- 3) Welches Koordinatenkreuz hat einen Kreis bei (4 , 0)?
- 4) Welches Koordinatenkreuz hat ein Rechteck bei (9 , 1)?
- 5) Welches Koordinatenkreuz hat ein Herz bei (5 , 10)?
- 6) Welches Koordinatenkreuz hat ein Herz bei (7 , 6)?
- 7) Welches Koordinatenkreuz hat ein Rechteck bei (1 , 1)?
- 8) Welches Koordinatenkreuz hat ein Kreuz bei (5 , 2)?
- 9) Welches Koordinatenkreuz hat ein Kreuz bei (6 , 4)?
- 10) Welches Koordinatenkreuz hat einen Stern bei (5 , 3)?



Stelle fest, welches Koordinatenkreuz jede Frage beantwortet.



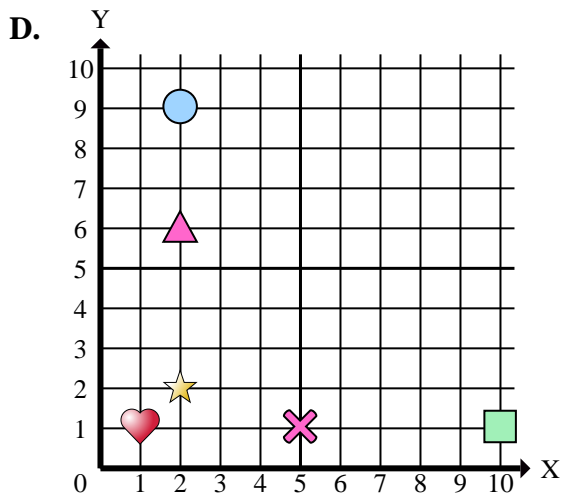
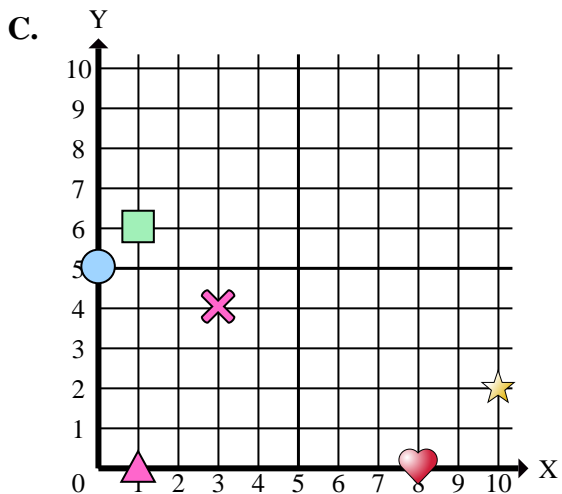
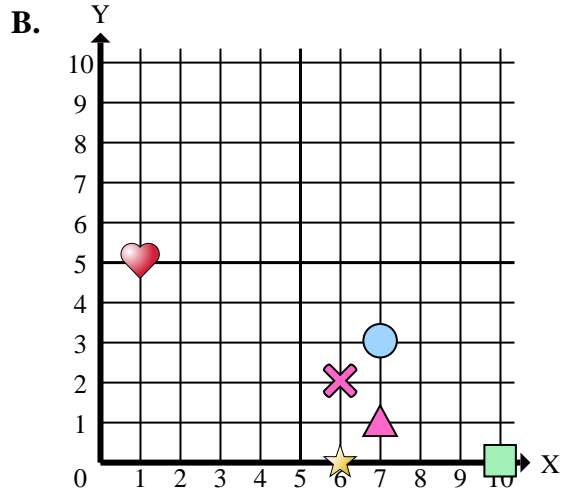
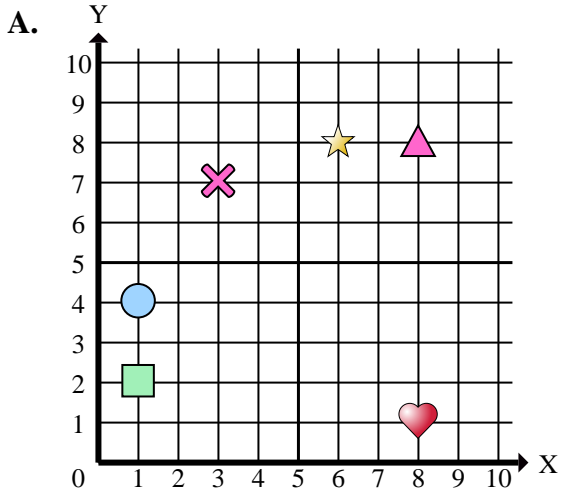
Antworten

1. _____
2. _____
3. _____
4. _____
5. _____
6. _____
7. _____
8. _____
9. _____
10. _____
11. _____
12. _____
13. _____
14. _____
15. _____

- 1) Welches Koordinatenkreuz hat eine Figur bei (6 , 0)?
- 2) Welches Koordinatenkreuz hat eine Figur bei (10 , 2)?
- 3) Welches Koordinatenkreuz hat eine Figur bei (0 , 5)?
- 4) Welches Koordinatenkreuz hat eine Figur bei (3 , 7)?
- 5) Welches Koordinatenkreuz hat eine Figur bei (10 , 0)?
- 6) Welches Koordinatenkreuz hat eine Figur bei (10 , 1)?
- 7) Welches Koordinatenkreuz hat eine Figur bei (1 , 0)?
- 8) Welches Koordinatenkreuz hat eine Figur bei (1 , 1)?
- 9) Welches Koordinatenkreuz hat eine Figur bei (1 , 2)?
- 10) Welches Koordinatenkreuz hat eine Figur bei (8 , 8)?
- 11) Welches Koordinatenkreuz hat eine Figur bei (2 , 6)?
- 12) Welches Koordinatenkreuz hat eine Figur bei (3 , 4)?
- 13) Welches Koordinatenkreuz hat eine Figur bei (8 , 1)?
- 14) Welches Koordinatenkreuz hat eine Figur bei (2 , 2)?
- 15) Welches Koordinatenkreuz hat eine Figur bei (1 , 6)?



Stelle fest, welches Koordinatenkreuz jede Frage beantwortet.



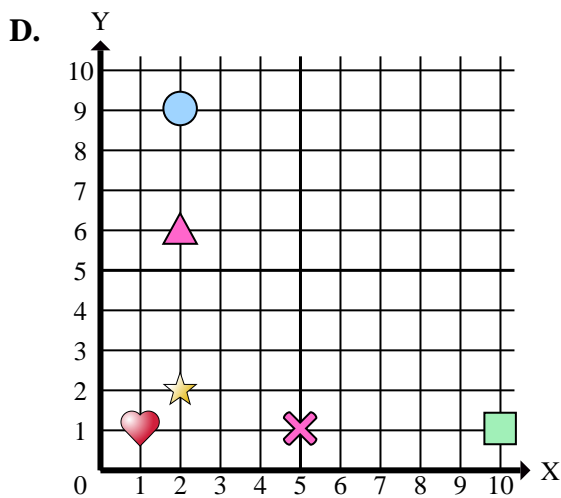
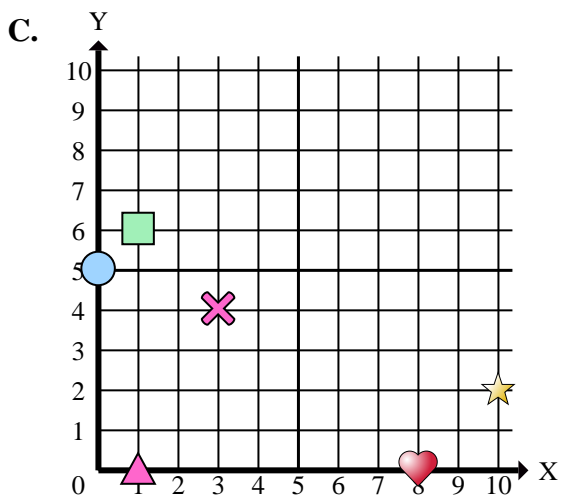
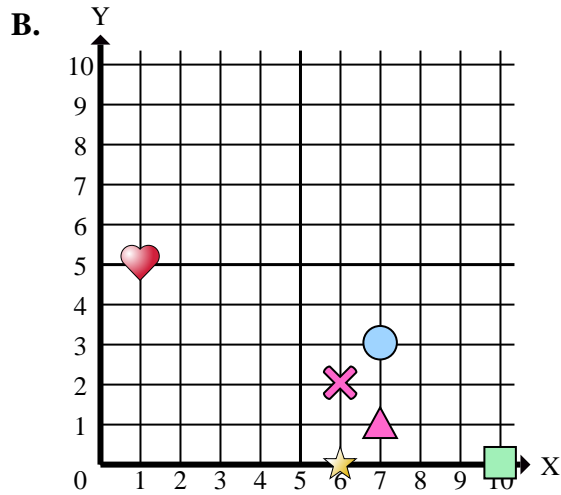
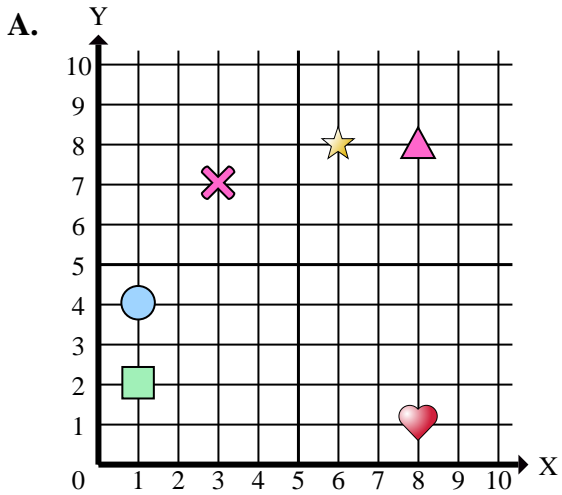
Antworten

1. **B**
2. **C**
3. **C**
4. **A**
5. **B**
6. **D**
7. **C**
8. **D**
9. **A**
10. **A**
11. **D**
12. **C**
13. **A**
14. **D**
15. **C**

- 1) Welches Koordinatenkreuz hat eine Figur bei (6 , 0)?
- 2) Welches Koordinatenkreuz hat eine Figur bei (10 , 2)?
- 3) Welches Koordinatenkreuz hat eine Figur bei (0 , 5)?
- 4) Welches Koordinatenkreuz hat eine Figur bei (3 , 7)?
- 5) Welches Koordinatenkreuz hat eine Figur bei (10 , 0)?
- 6) Welches Koordinatenkreuz hat eine Figur bei (10 , 1)?
- 7) Welches Koordinatenkreuz hat eine Figur bei (1 , 0)?
- 8) Welches Koordinatenkreuz hat eine Figur bei (1 , 1)?
- 9) Welches Koordinatenkreuz hat eine Figur bei (1 , 2)?
- 10) Welches Koordinatenkreuz hat eine Figur bei (8 , 8)?
- 11) Welches Koordinatenkreuz hat eine Figur bei (2 , 6)?
- 12) Welches Koordinatenkreuz hat eine Figur bei (3 , 4)?
- 13) Welches Koordinatenkreuz hat eine Figur bei (8 , 1)?
- 14) Welches Koordinatenkreuz hat eine Figur bei (2 , 2)?
- 15) Welches Koordinatenkreuz hat eine Figur bei (1 , 6)?



Stelle fest, welches Koordinatenkreuz jede Frage beantwortet.



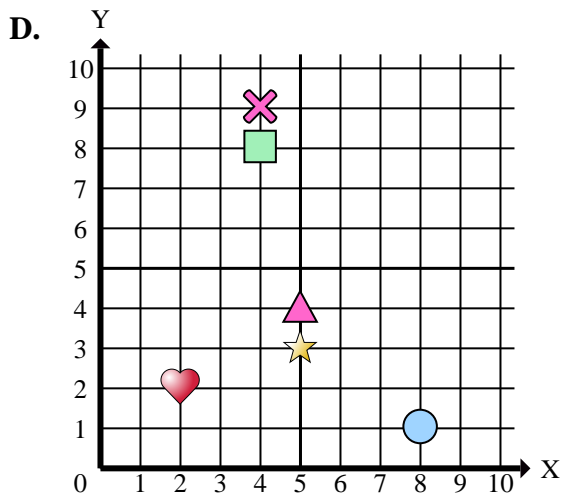
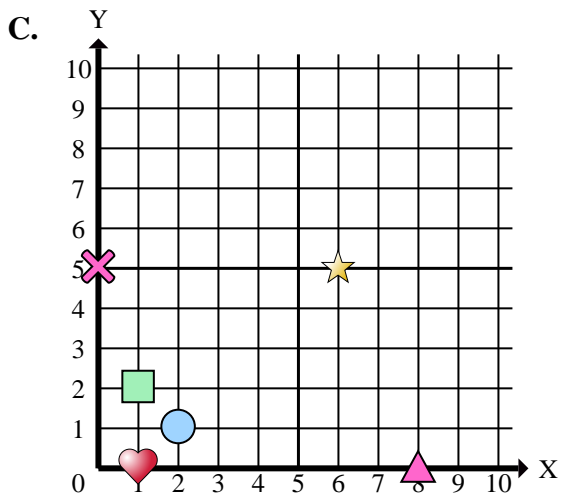
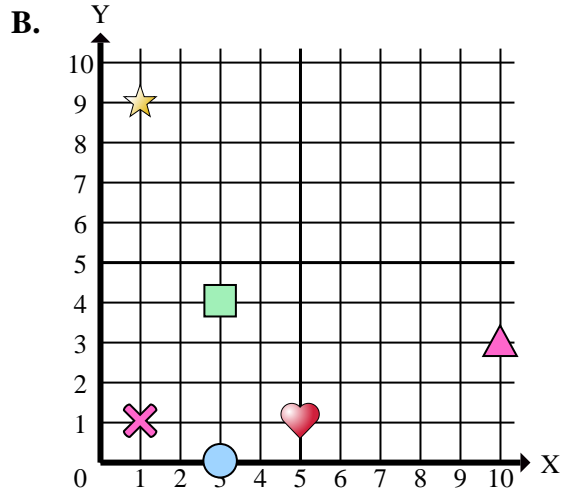
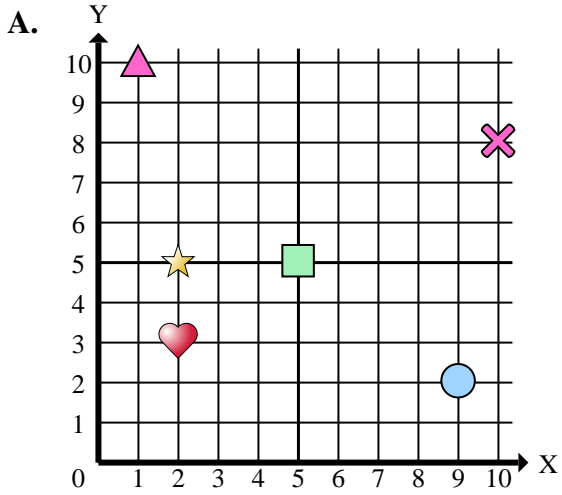
Antworten

1. _____
2. _____
3. _____
4. _____
5. _____
6. _____
7. _____
8. _____
9. _____
10. _____

- 1) Welches Koordinatenkreuz hat einen Stern bei (6 , 0)?
- 2) Welches Koordinatenkreuz hat einen Stern bei (10 , 2)?
- 3) Welches Koordinatenkreuz hat einen Kreis bei (0 , 5)?
- 4) Welches Koordinatenkreuz hat ein Kreuz bei (3 , 7)?
- 5) Welches Koordinatenkreuz hat ein Rechteck bei (10 , 0)?
- 6) Welches Koordinatenkreuz hat ein Rechteck bei (10 , 1)?
- 7) Welches Koordinatenkreuz hat ein Dreieck bei (1 , 0)?
- 8) Welches Koordinatenkreuz hat ein Herz bei (1 , 1)?
- 9) Welches Koordinatenkreuz hat ein Rechteck bei (1 , 2)?
- 10) Welches Koordinatenkreuz hat ein Dreieck bei (8 , 8)?



Stelle fest, welches Koordinatenkreuz jede Frage beantwortet.



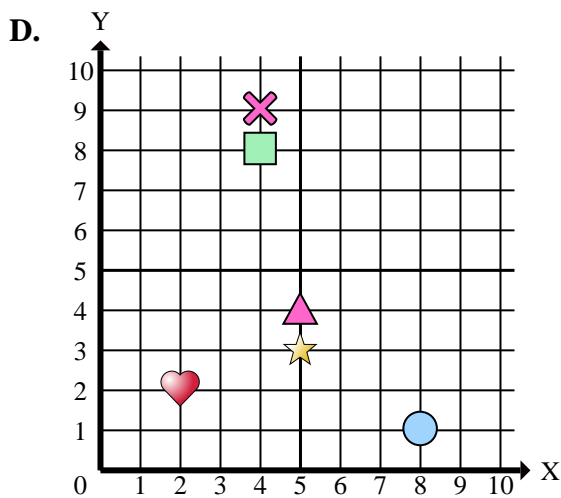
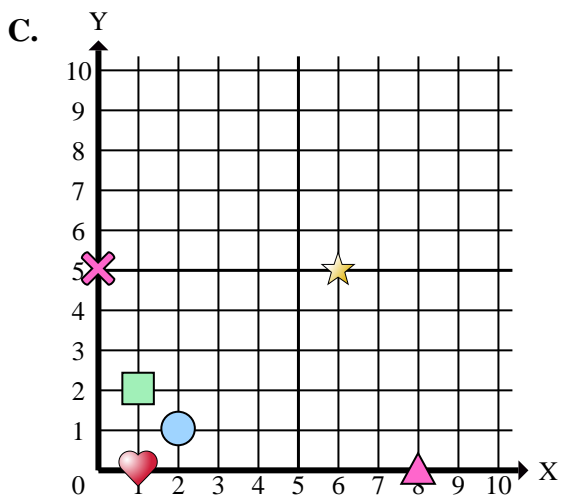
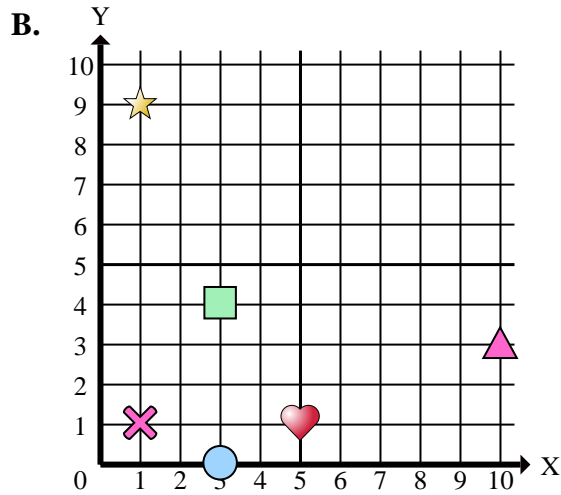
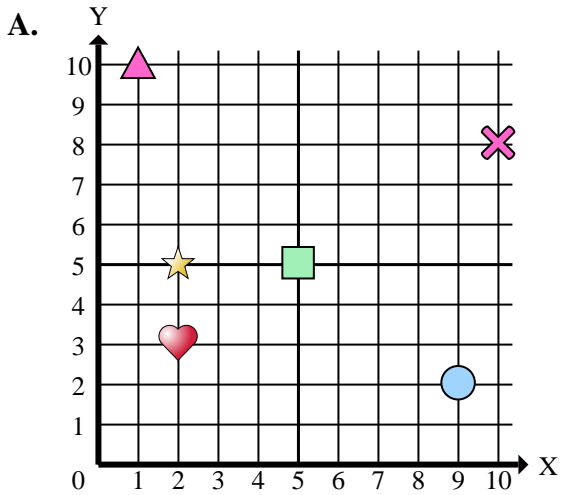
Antworten

1. _____
2. _____
3. _____
4. _____
5. _____
6. _____
7. _____
8. _____
9. _____
10. _____
11. _____
12. _____
13. _____
14. _____
15. _____

- 1) Welches Koordinatenkreuz hat eine Figur bei (5 , 5)?
- 2) Welches Koordinatenkreuz hat eine Figur bei (10 , 3)?
- 3) Welches Koordinatenkreuz hat eine Figur bei (1 , 1)?
- 4) Welches Koordinatenkreuz hat eine Figur bei (5 , 4)?
- 5) Welches Koordinatenkreuz hat eine Figur bei (3 , 4)?
- 6) Welches Koordinatenkreuz hat eine Figur bei (3 , 0)?
- 7) Welches Koordinatenkreuz hat eine Figur bei (10 , 8)?
- 8) Welches Koordinatenkreuz hat eine Figur bei (2 , 1)?
- 9) Welches Koordinatenkreuz hat eine Figur bei (1 , 10)?
- 10) Welches Koordinatenkreuz hat eine Figur bei (2 , 5)?
- 11) Welches Koordinatenkreuz hat eine Figur bei (2 , 2)?
- 12) Welches Koordinatenkreuz hat eine Figur bei (4 , 8)?
- 13) Welches Koordinatenkreuz hat eine Figur bei (5 , 1)?
- 14) Welches Koordinatenkreuz hat eine Figur bei (1 , 0)?
- 15) Welches Koordinatenkreuz hat eine Figur bei (0 , 5)?



Stelle fest, welches Koordinatenkreuz jede Frage beantwortet.



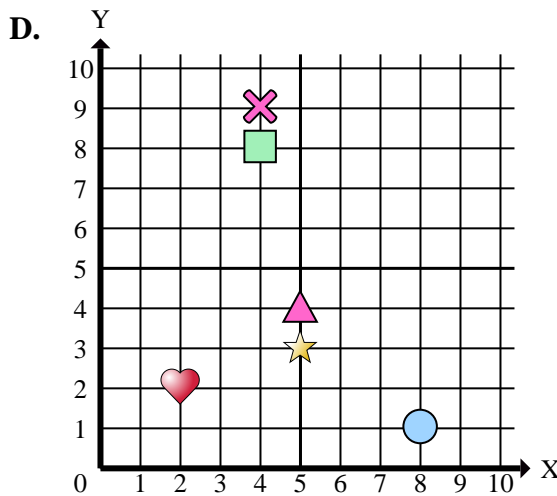
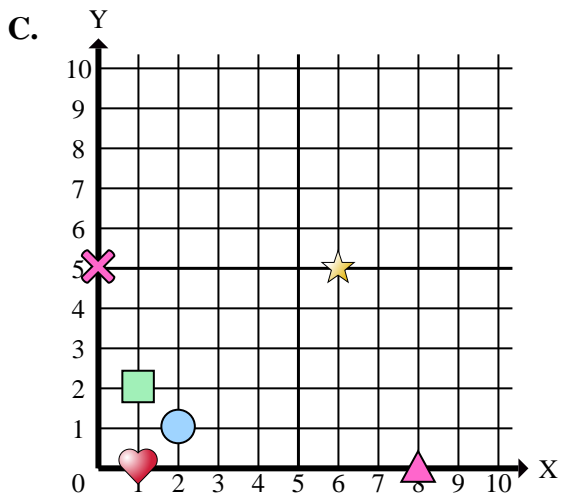
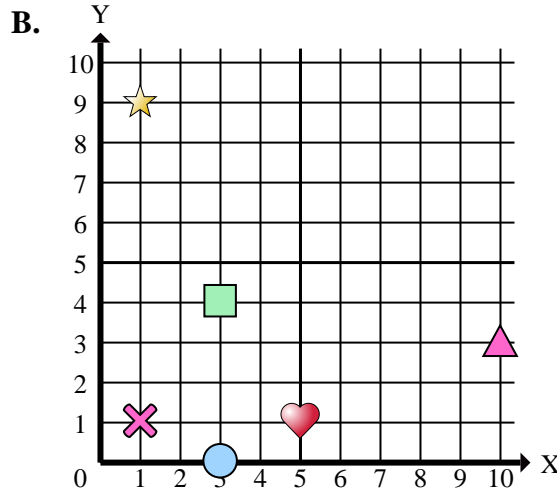
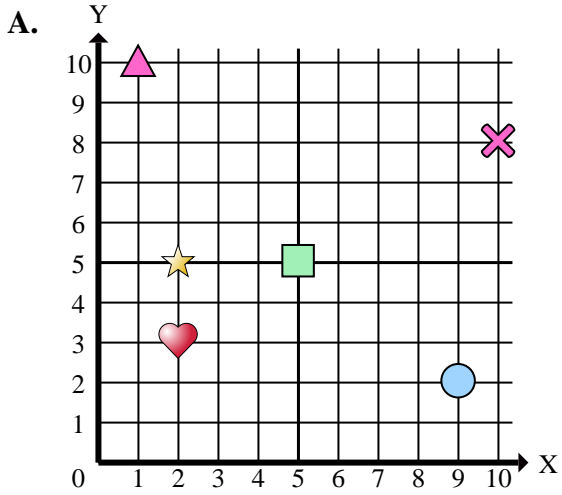
Antworten

1. **A**
2. **B**
3. **B**
4. **D**
5. **B**
6. **B**
7. **A**
8. **C**
9. **A**
10. **A**
11. **D**
12. **D**
13. **B**
14. **C**
15. **C**

- 1) Welches Koordinatenkreuz hat eine Figur bei (5 , 5)?
- 2) Welches Koordinatenkreuz hat eine Figur bei (10 , 3)?
- 3) Welches Koordinatenkreuz hat eine Figur bei (1 , 1)?
- 4) Welches Koordinatenkreuz hat eine Figur bei (5 , 4)?
- 5) Welches Koordinatenkreuz hat eine Figur bei (3 , 4)?
- 6) Welches Koordinatenkreuz hat eine Figur bei (3 , 0)?
- 7) Welches Koordinatenkreuz hat eine Figur bei (10 , 8)?
- 8) Welches Koordinatenkreuz hat eine Figur bei (2 , 1)?
- 9) Welches Koordinatenkreuz hat eine Figur bei (1 , 10)?
- 10) Welches Koordinatenkreuz hat eine Figur bei (2 , 5)?
- 11) Welches Koordinatenkreuz hat eine Figur bei (2 , 2)?
- 12) Welches Koordinatenkreuz hat eine Figur bei (4 , 8)?
- 13) Welches Koordinatenkreuz hat eine Figur bei (5 , 1)?
- 14) Welches Koordinatenkreuz hat eine Figur bei (1 , 0)?
- 15) Welches Koordinatenkreuz hat eine Figur bei (0 , 5)?



Stelle fest, welches Koordinatenkreuz jede Frage beantwortet.



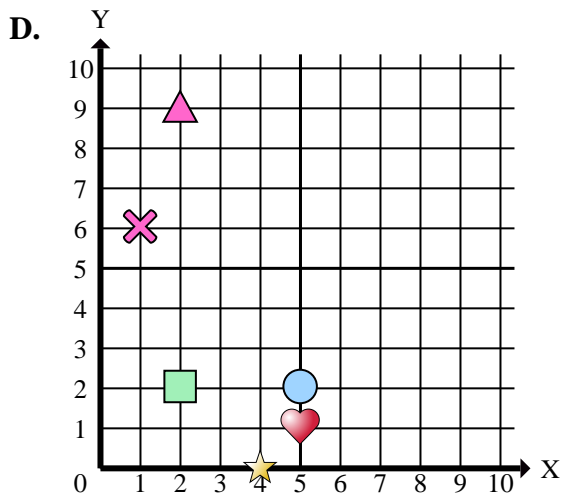
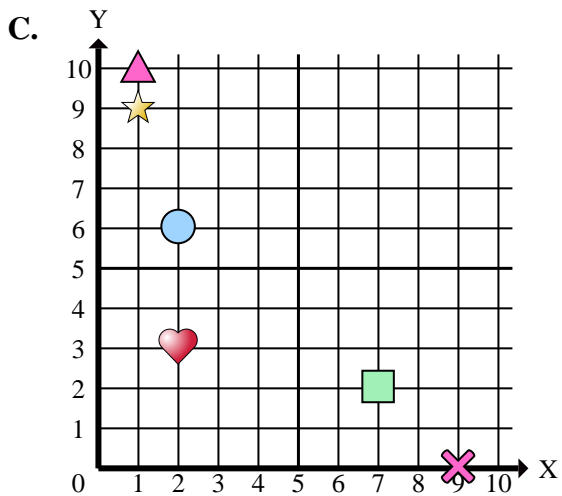
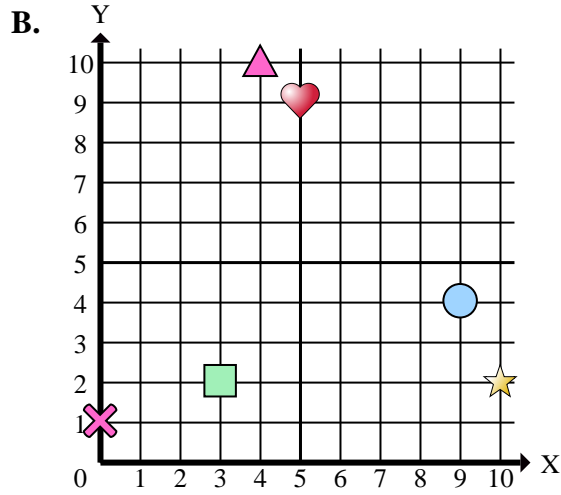
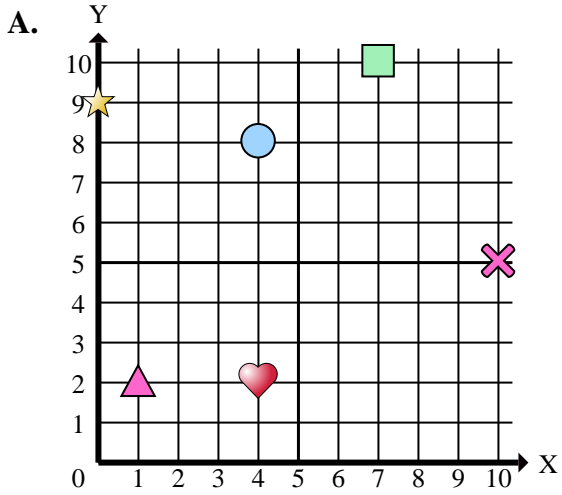
Antworten

1. _____
2. _____
3. _____
4. _____
5. _____
6. _____
7. _____
8. _____
9. _____
10. _____

- 1) Welches Koordinatenkreuz hat ein Rechteck bei (5 , 5)?
- 2) Welches Koordinatenkreuz hat ein Dreieck bei (10 , 3)?
- 3) Welches Koordinatenkreuz hat ein Kreuz bei (1 , 1)?
- 4) Welches Koordinatenkreuz hat ein Dreieck bei (5 , 4)?
- 5) Welches Koordinatenkreuz hat ein Rechteck bei (3 , 4)?
- 6) Welches Koordinatenkreuz hat einen Kreis bei (3 , 0)?
- 7) Welches Koordinatenkreuz hat ein Kreuz bei (10 , 8)?
- 8) Welches Koordinatenkreuz hat einen Kreis bei (2 , 1)?
- 9) Welches Koordinatenkreuz hat ein Dreieck bei (1 , 10)?
- 10) Welches Koordinatenkreuz hat einen Stern bei (2 , 5)?



Stelle fest, welches Koordinatenkreuz jede Frage beantwortet.



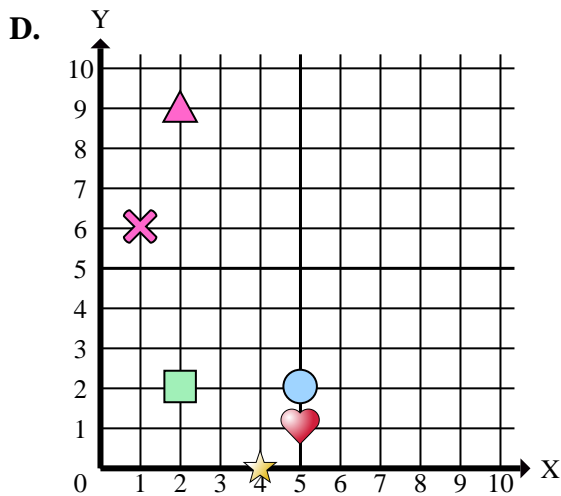
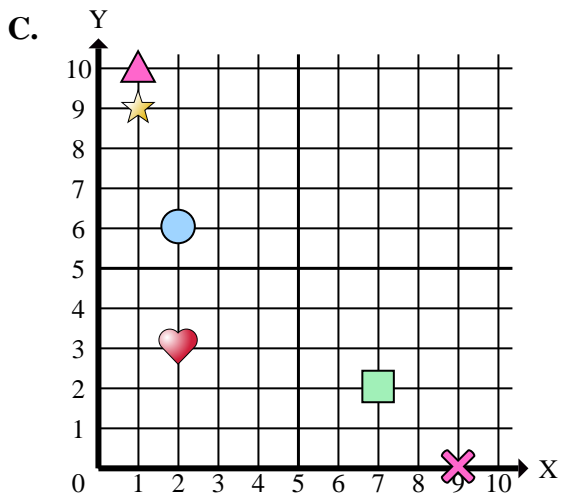
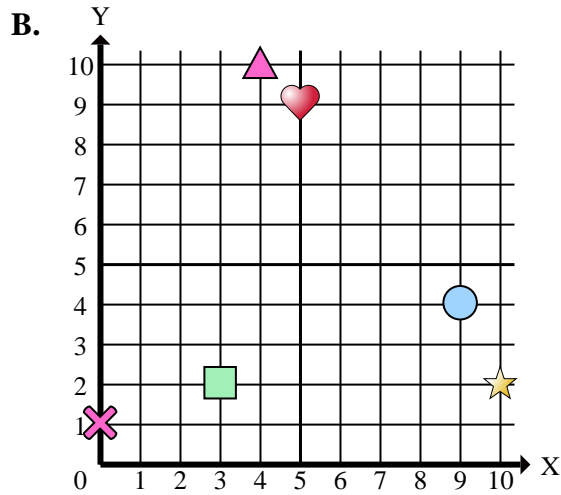
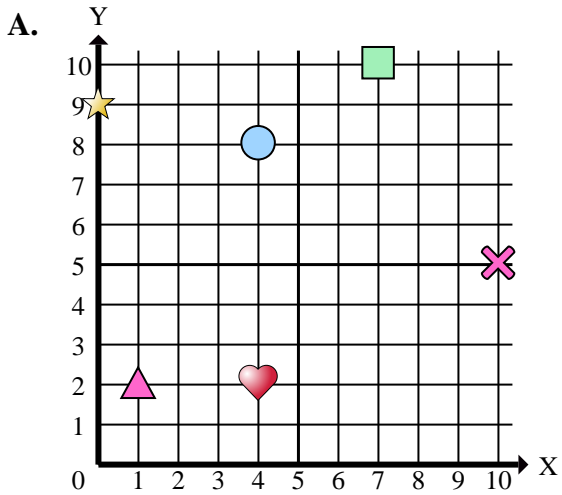
Antworten

1. _____
2. _____
3. _____
4. _____
5. _____
6. _____
7. _____
8. _____
9. _____
10. _____
11. _____
12. _____
13. _____
14. _____
15. _____

- 1) Welches Koordinatenkreuz hat eine Figur bei (0 , 1)?
- 2) Welches Koordinatenkreuz hat eine Figur bei (5 , 1)?
- 3) Welches Koordinatenkreuz hat eine Figur bei (2 , 6)?
- 4) Welches Koordinatenkreuz hat eine Figur bei (2 , 3)?
- 5) Welches Koordinatenkreuz hat eine Figur bei (9 , 0)?
- 6) Welches Koordinatenkreuz hat eine Figur bei (0 , 9)?
- 7) Welches Koordinatenkreuz hat eine Figur bei (1 , 6)?
- 8) Welches Koordinatenkreuz hat eine Figur bei (1 , 10)?
- 9) Welches Koordinatenkreuz hat eine Figur bei (4 , 8)?
- 10) Welches Koordinatenkreuz hat eine Figur bei (7 , 2)?
- 11) Welches Koordinatenkreuz hat eine Figur bei (4 , 10)?
- 12) Welches Koordinatenkreuz hat eine Figur bei (10 , 5)?
- 13) Welches Koordinatenkreuz hat eine Figur bei (4 , 0)?
- 14) Welches Koordinatenkreuz hat eine Figur bei (7 , 10)?
- 15) Welches Koordinatenkreuz hat eine Figur bei (2 , 9)?



Stelle fest, welches Koordinatenkreuz jede Frage beantwortet.



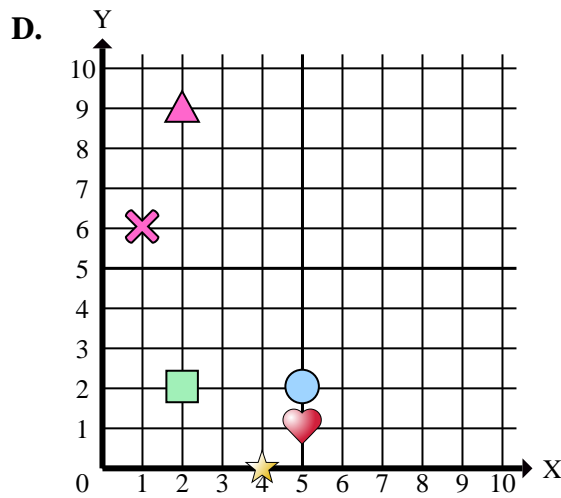
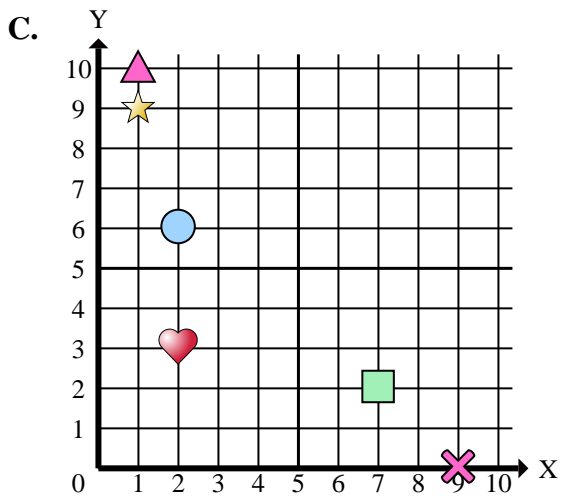
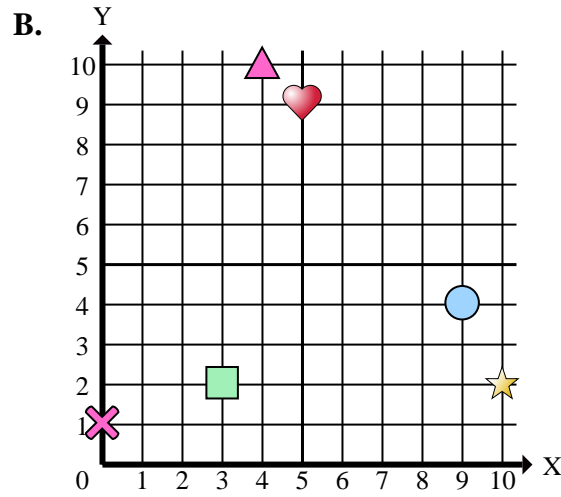
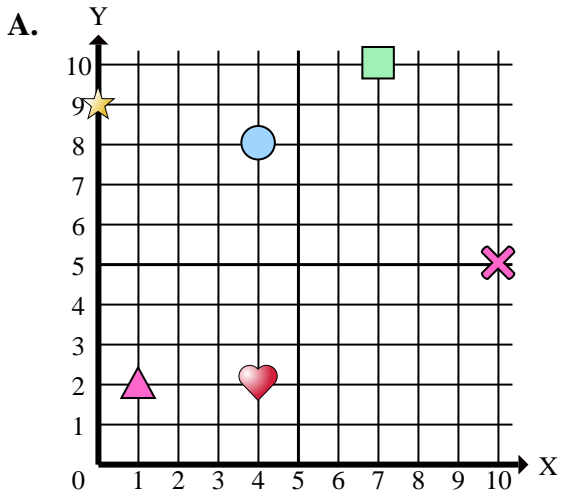
Antworten

1. **B**
2. **D**
3. **C**
4. **C**
5. **C**
6. **A**
7. **D**
8. **C**
9. **A**
10. **C**
11. **B**
12. **A**
13. **D**
14. **A**
15. **D**

- 1) Welches Koordinatenkreuz hat eine Figur bei (0 , 1)?
- 2) Welches Koordinatenkreuz hat eine Figur bei (5 , 1)?
- 3) Welches Koordinatenkreuz hat eine Figur bei (2 , 6)?
- 4) Welches Koordinatenkreuz hat eine Figur bei (2 , 3)?
- 5) Welches Koordinatenkreuz hat eine Figur bei (9 , 0)?
- 6) Welches Koordinatenkreuz hat eine Figur bei (0 , 9)?
- 7) Welches Koordinatenkreuz hat eine Figur bei (1 , 6)?
- 8) Welches Koordinatenkreuz hat eine Figur bei (1 , 10)?
- 9) Welches Koordinatenkreuz hat eine Figur bei (4 , 8)?
- 10) Welches Koordinatenkreuz hat eine Figur bei (7 , 2)?
- 11) Welches Koordinatenkreuz hat eine Figur bei (4 , 10)?
- 12) Welches Koordinatenkreuz hat eine Figur bei (10 , 5)?
- 13) Welches Koordinatenkreuz hat eine Figur bei (4 , 0)?
- 14) Welches Koordinatenkreuz hat eine Figur bei (7 , 10)?
- 15) Welches Koordinatenkreuz hat eine Figur bei (2 , 9)?



Stelle fest, welches Koordinatenkreuz jede Frage beantwortet.



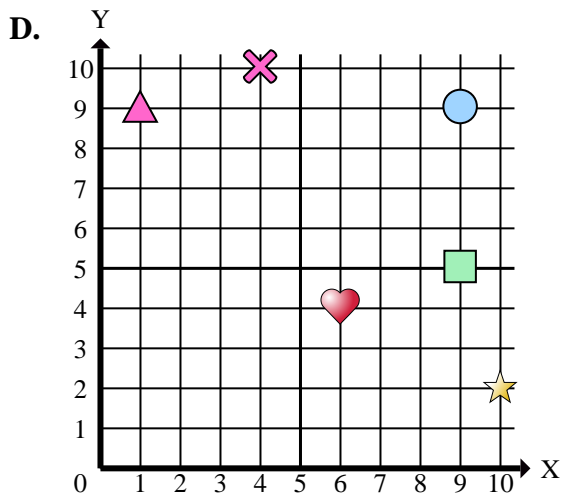
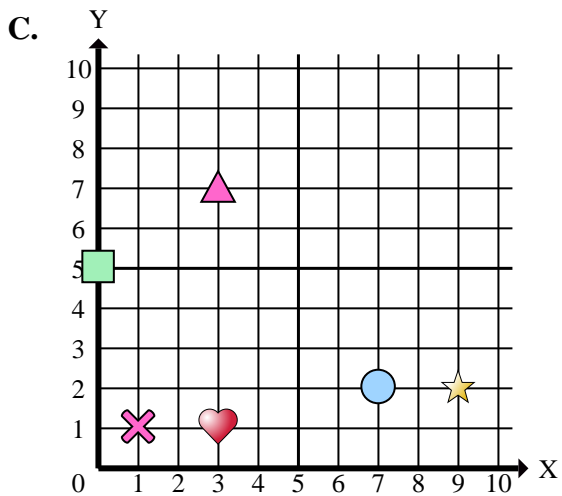
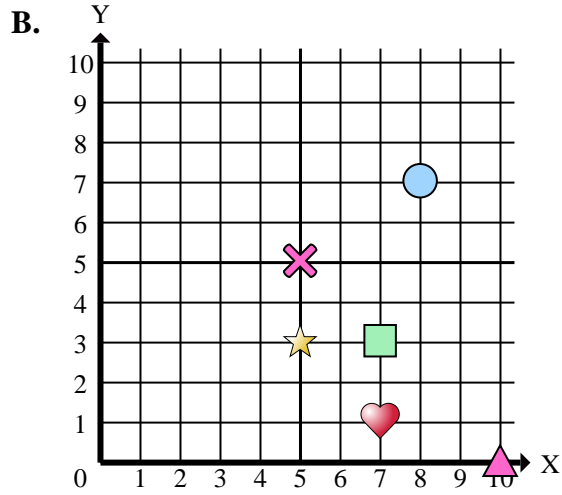
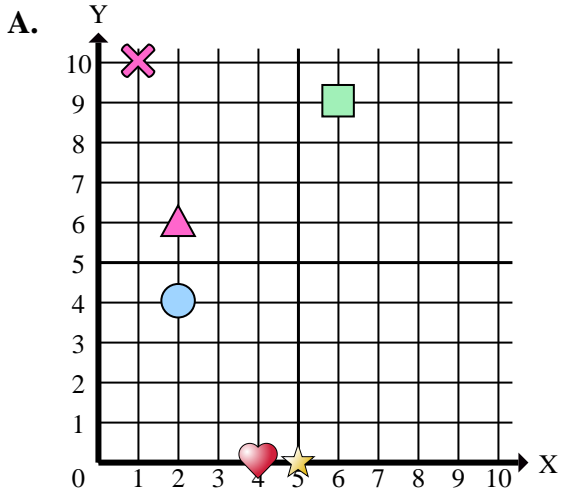
Antworten

1. _____
2. _____
3. _____
4. _____
5. _____
6. _____
7. _____
8. _____
9. _____
10. _____

- 1) Welches Koordinatenkreuz hat ein Kreuz bei (0 , 1)?
- 2) Welches Koordinatenkreuz hat ein Herz bei (5 , 1)?
- 3) Welches Koordinatenkreuz hat einen Kreis bei (2 , 6)?
- 4) Welches Koordinatenkreuz hat ein Herz bei (2 , 3)?
- 5) Welches Koordinatenkreuz hat ein Kreuz bei (9 , 0)?
- 6) Welches Koordinatenkreuz hat einen Stern bei (0 , 9)?
- 7) Welches Koordinatenkreuz hat ein Kreuz bei (1 , 6)?
- 8) Welches Koordinatenkreuz hat ein Dreieck bei (1 , 10)?
- 9) Welches Koordinatenkreuz hat einen Kreis bei (4 , 8)?
- 10) Welches Koordinatenkreuz hat ein Rechteck bei (7 , 2)?



Stelle fest, welches Koordinatenkreuz jede Frage beantwortet.



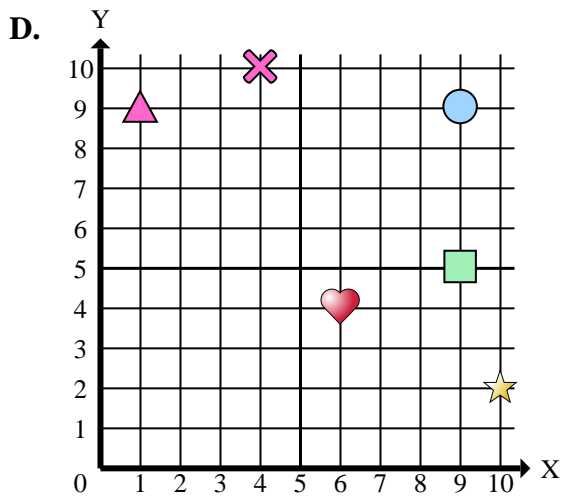
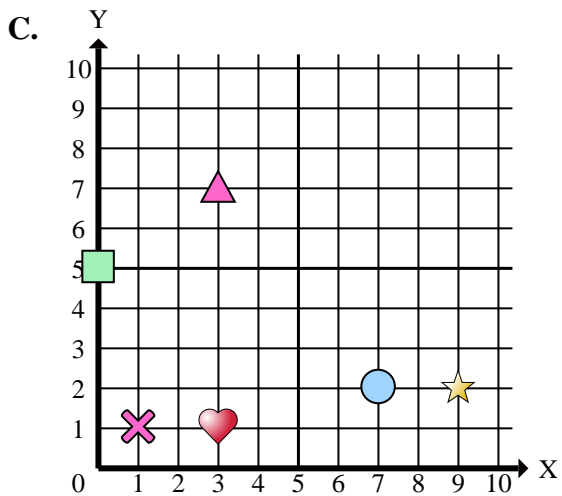
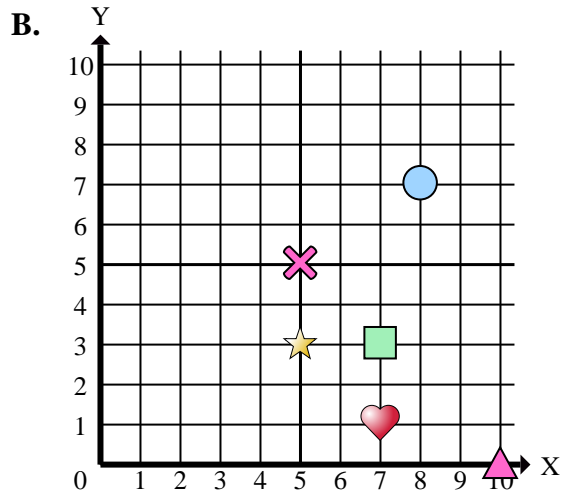
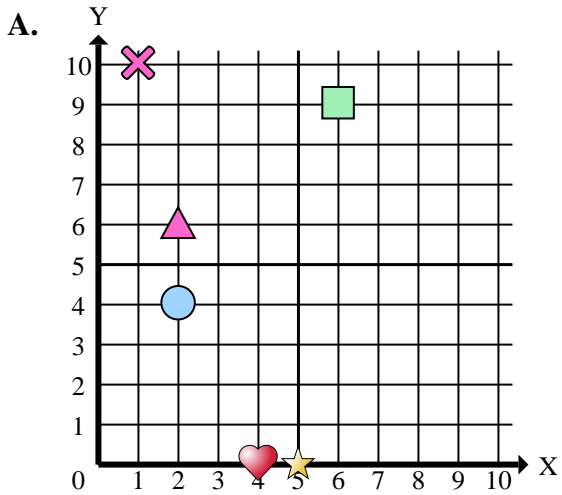
Antworten

1. _____
2. _____
3. _____
4. _____
5. _____
6. _____
7. _____
8. _____
9. _____
10. _____
11. _____
12. _____
13. _____
14. _____
15. _____

- 1) Welches Koordinatenkreuz hat eine Figur bei (3 , 1)?
- 2) Welches Koordinatenkreuz hat eine Figur bei (10 , 2)?
- 3) Welches Koordinatenkreuz hat eine Figur bei (5 , 3)?
- 4) Welches Koordinatenkreuz hat eine Figur bei (6 , 9)?
- 5) Welches Koordinatenkreuz hat eine Figur bei (5 , 5)?
- 6) Welches Koordinatenkreuz hat eine Figur bei (9 , 2)?
- 7) Welches Koordinatenkreuz hat eine Figur bei (9 , 9)?
- 8) Welches Koordinatenkreuz hat eine Figur bei (10 , 0)?
- 9) Welches Koordinatenkreuz hat eine Figur bei (7 , 3)?
- 10) Welches Koordinatenkreuz hat eine Figur bei (8 , 7)?
- 11) Welches Koordinatenkreuz hat eine Figur bei (4 , 10)?
- 12) Welches Koordinatenkreuz hat eine Figur bei (2 , 6)?
- 13) Welches Koordinatenkreuz hat eine Figur bei (2 , 4)?
- 14) Welches Koordinatenkreuz hat eine Figur bei (5 , 0)?
- 15) Welches Koordinatenkreuz hat eine Figur bei (1 , 9)?



Stelle fest, welches Koordinatenkreuz jede Frage beantwortet.



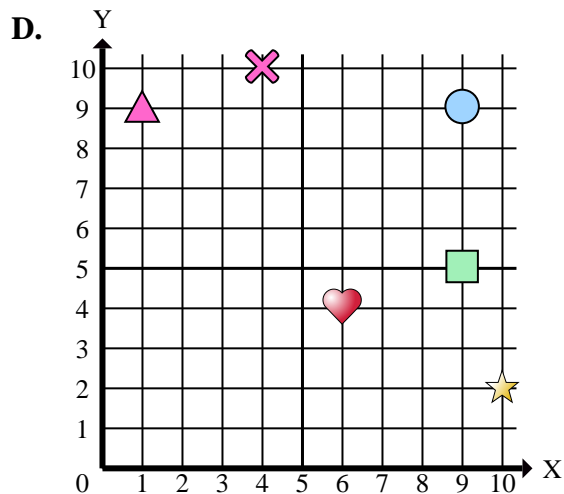
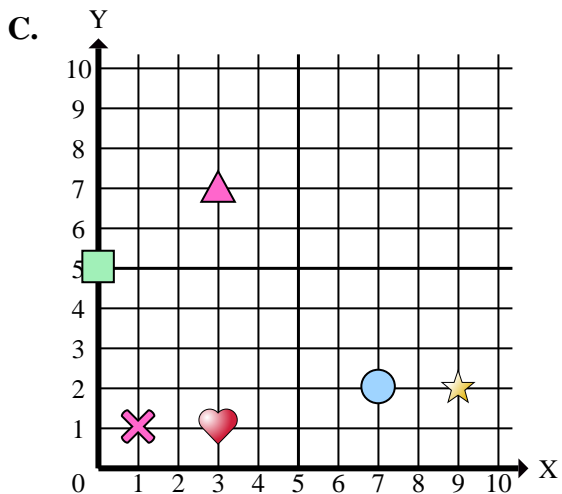
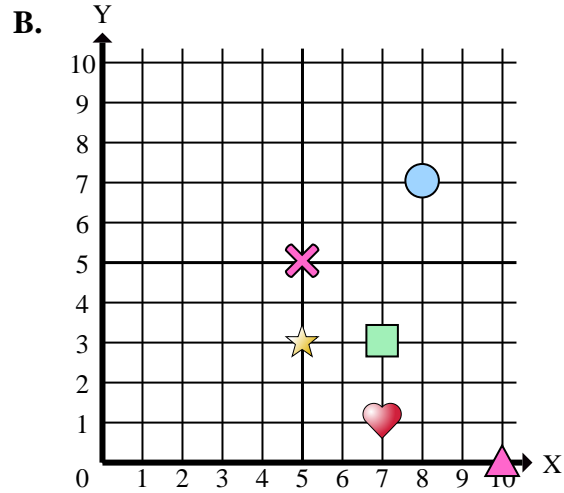
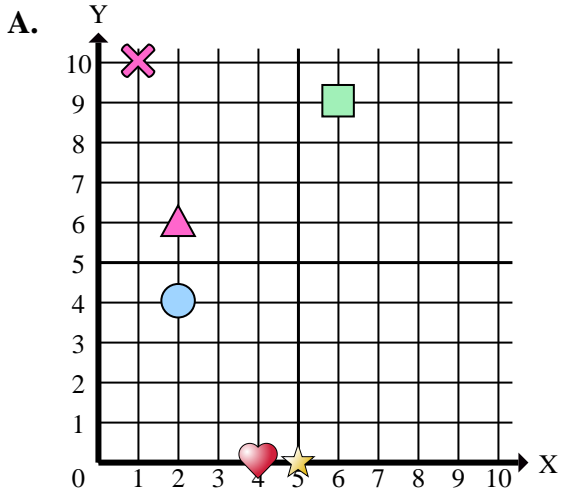
Antworten

1. **C**
2. **D**
3. **B**
4. **A**
5. **B**
6. **C**
7. **D**
8. **B**
9. **B**
10. **B**
11. **D**
12. **A**
13. **A**
14. **A**
15. **D**

- 1) Welches Koordinatenkreuz hat eine Figur bei (3 , 1)?
- 2) Welches Koordinatenkreuz hat eine Figur bei (10 , 2)?
- 3) Welches Koordinatenkreuz hat eine Figur bei (5 , 3)?
- 4) Welches Koordinatenkreuz hat eine Figur bei (6 , 9)?
- 5) Welches Koordinatenkreuz hat eine Figur bei (5 , 5)?
- 6) Welches Koordinatenkreuz hat eine Figur bei (9 , 2)?
- 7) Welches Koordinatenkreuz hat eine Figur bei (9 , 9)?
- 8) Welches Koordinatenkreuz hat eine Figur bei (10 , 0)?
- 9) Welches Koordinatenkreuz hat eine Figur bei (7 , 3)?
- 10) Welches Koordinatenkreuz hat eine Figur bei (8 , 7)?
- 11) Welches Koordinatenkreuz hat eine Figur bei (4 , 10)?
- 12) Welches Koordinatenkreuz hat eine Figur bei (2 , 6)?
- 13) Welches Koordinatenkreuz hat eine Figur bei (2 , 4)?
- 14) Welches Koordinatenkreuz hat eine Figur bei (5 , 0)?
- 15) Welches Koordinatenkreuz hat eine Figur bei (1 , 9)?



Stelle fest, welches Koordinatenkreuz jede Frage beantwortet.

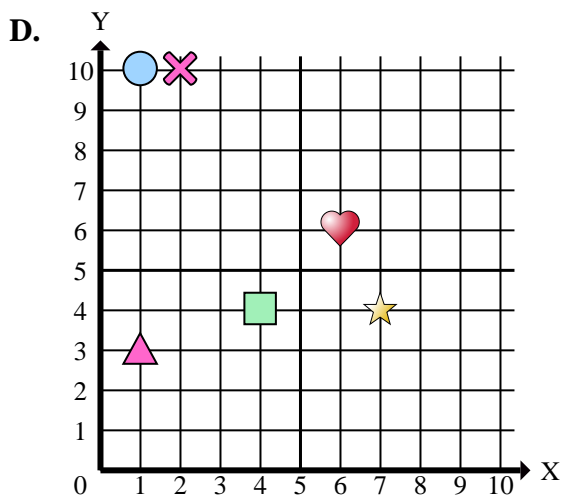
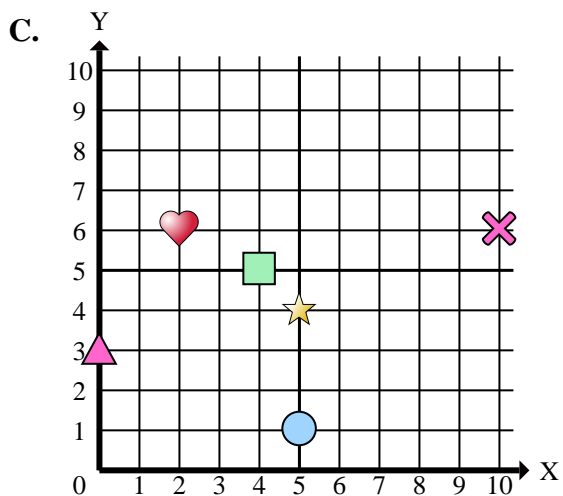
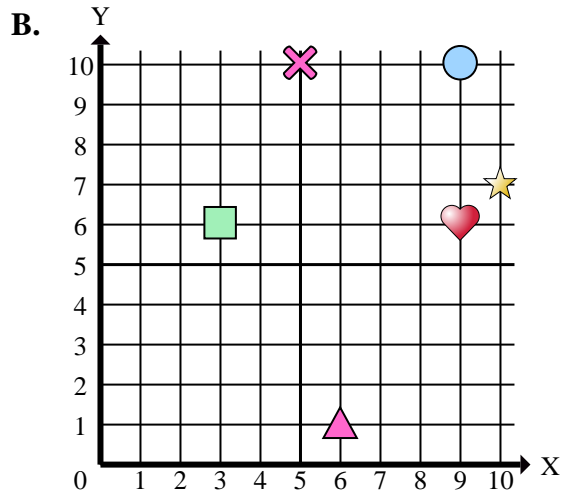
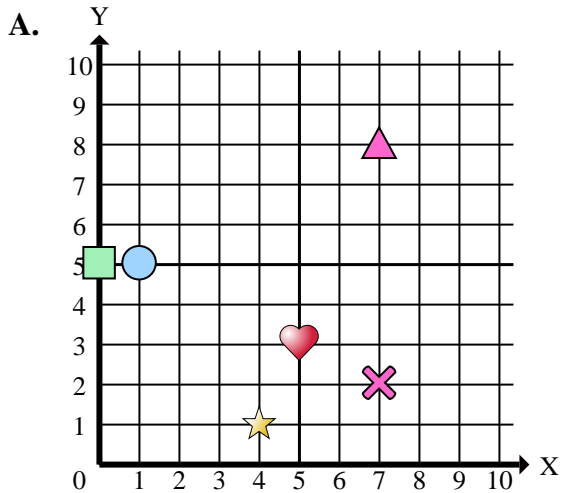
Antworten

1. _____
2. _____
3. _____
4. _____
5. _____
6. _____
7. _____
8. _____
9. _____
10. _____

- 1) Welches Koordinatenkreuz hat ein Herz bei (3 , 1)?
- 2) Welches Koordinatenkreuz hat einen Stern bei (10 , 2)?
- 3) Welches Koordinatenkreuz hat einen Stern bei (5 , 3)?
- 4) Welches Koordinatenkreuz hat ein Rechteck bei (6 , 9)?
- 5) Welches Koordinatenkreuz hat ein Kreuz bei (5 , 5)?
- 6) Welches Koordinatenkreuz hat einen Stern bei (9 , 2)?
- 7) Welches Koordinatenkreuz hat einen Kreis bei (9 , 9)?
- 8) Welches Koordinatenkreuz hat ein Dreieck bei (10 , 0)?
- 9) Welches Koordinatenkreuz hat ein Rechteck bei (7 , 3)?
- 10) Welches Koordinatenkreuz hat einen Kreis bei (8 , 7)?



Stelle fest, welches Koordinatenkreuz jede Frage beantwortet.



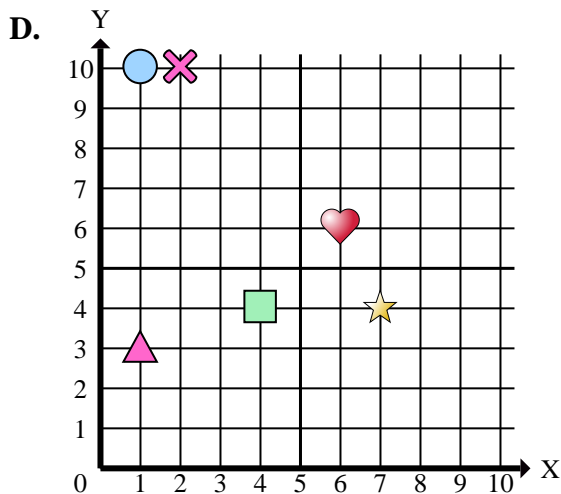
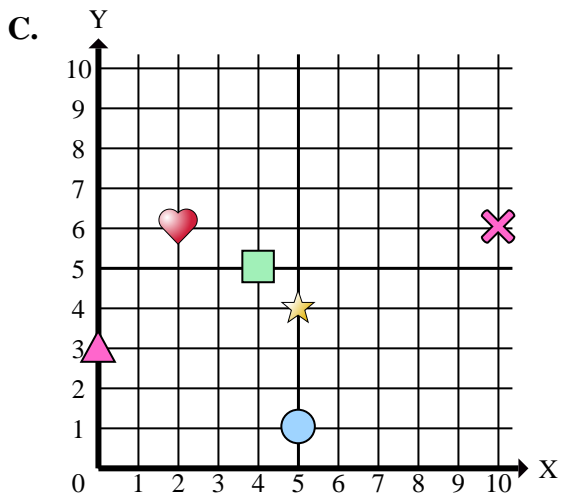
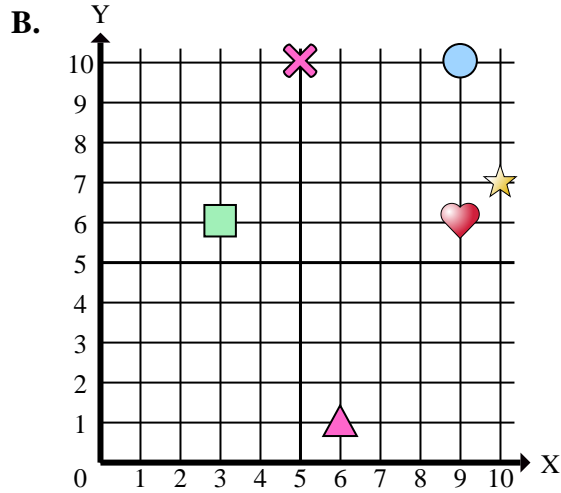
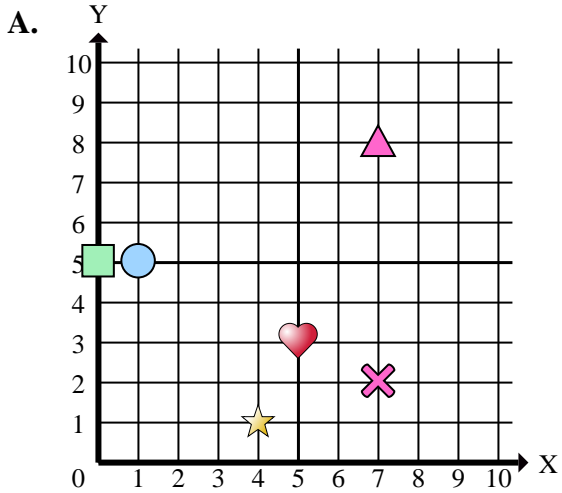
Antworten

1. _____
2. _____
3. _____
4. _____
5. _____
6. _____
7. _____
8. _____
9. _____
10. _____
11. _____
12. _____
13. _____
14. _____
15. _____

- 1) Welches Koordinatenkreuz hat eine Figur bei (4 , 1)?
- 2) Welches Koordinatenkreuz hat eine Figur bei (5 , 4)?
- 3) Welches Koordinatenkreuz hat eine Figur bei (4 , 4)?
- 4) Welches Koordinatenkreuz hat eine Figur bei (5 , 1)?
- 5) Welches Koordinatenkreuz hat eine Figur bei (1 , 5)?
- 6) Welches Koordinatenkreuz hat eine Figur bei (1 , 10)?
- 7) Welches Koordinatenkreuz hat eine Figur bei (9 , 6)?
- 8) Welches Koordinatenkreuz hat eine Figur bei (6 , 1)?
- 9) Welches Koordinatenkreuz hat eine Figur bei (10 , 7)?
- 10) Welches Koordinatenkreuz hat eine Figur bei (9 , 10)?
- 11) Welches Koordinatenkreuz hat eine Figur bei (5 , 3)?
- 12) Welches Koordinatenkreuz hat eine Figur bei (3 , 6)?
- 13) Welches Koordinatenkreuz hat eine Figur bei (1 , 3)?
- 14) Welches Koordinatenkreuz hat eine Figur bei (0 , 5)?
- 15) Welches Koordinatenkreuz hat eine Figur bei (5 , 10)?



Stelle fest, welches Koordinatenkreuz jede Frage beantwortet.



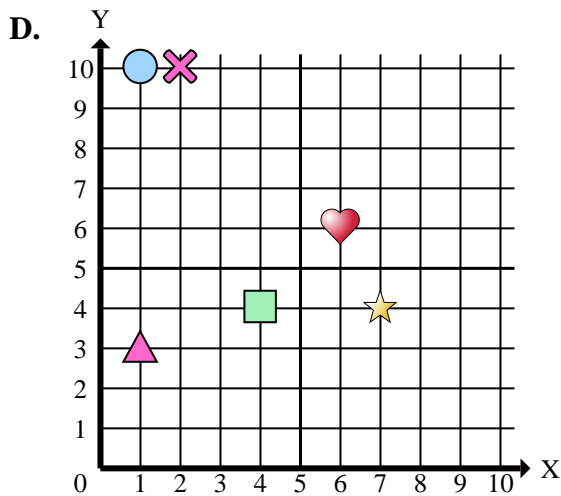
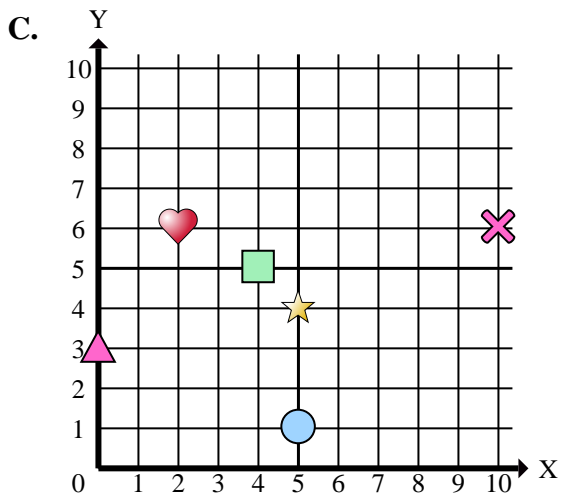
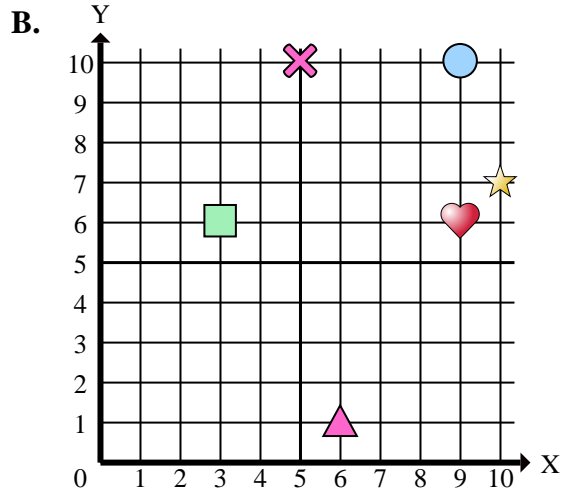
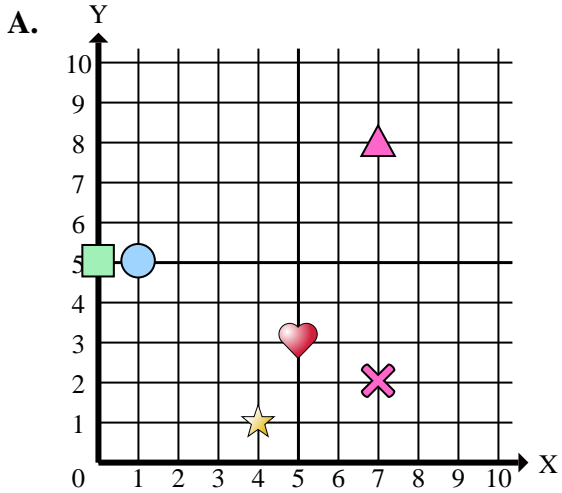
Antworten

1. **A**
2. **C**
3. **D**
4. **C**
5. **A**
6. **D**
7. **B**
8. **B**
9. **B**
10. **B**
11. **A**
12. **B**
13. **D**
14. **A**
15. **B**

- 1) Welches Koordinatenkreuz hat eine Figur bei (4 , 1)?
- 2) Welches Koordinatenkreuz hat eine Figur bei (5 , 4)?
- 3) Welches Koordinatenkreuz hat eine Figur bei (4 , 4)?
- 4) Welches Koordinatenkreuz hat eine Figur bei (5 , 1)?
- 5) Welches Koordinatenkreuz hat eine Figur bei (1 , 5)?
- 6) Welches Koordinatenkreuz hat eine Figur bei (1 , 10)?
- 7) Welches Koordinatenkreuz hat eine Figur bei (9 , 6)?
- 8) Welches Koordinatenkreuz hat eine Figur bei (6 , 1)?
- 9) Welches Koordinatenkreuz hat eine Figur bei (10 , 7)?
- 10) Welches Koordinatenkreuz hat eine Figur bei (9 , 10)?
- 11) Welches Koordinatenkreuz hat eine Figur bei (5 , 3)?
- 12) Welches Koordinatenkreuz hat eine Figur bei (3 , 6)?
- 13) Welches Koordinatenkreuz hat eine Figur bei (1 , 3)?
- 14) Welches Koordinatenkreuz hat eine Figur bei (0 , 5)?
- 15) Welches Koordinatenkreuz hat eine Figur bei (5 , 10)?



Stelle fest, welches Koordinatenkreuz jede Frage beantwortet.



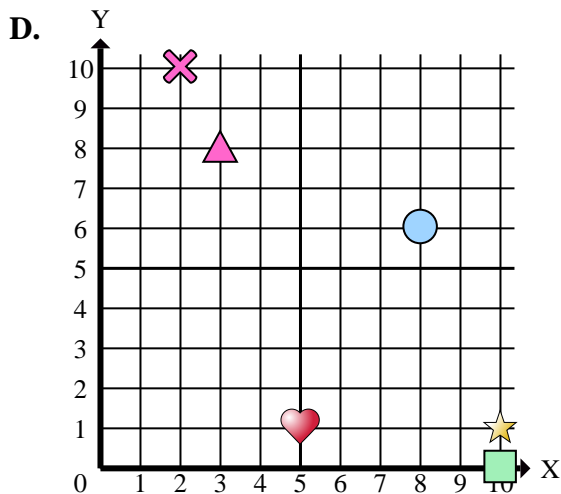
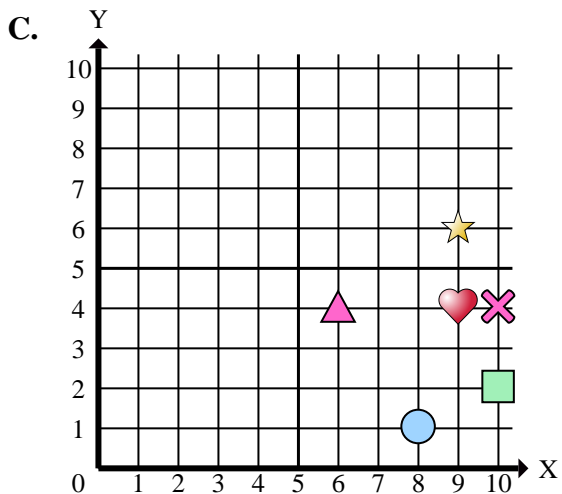
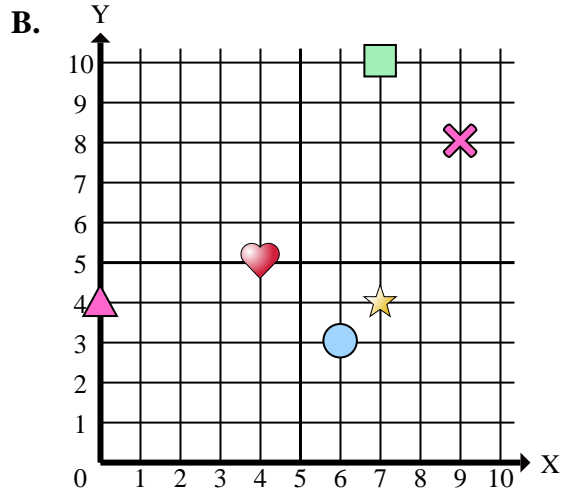
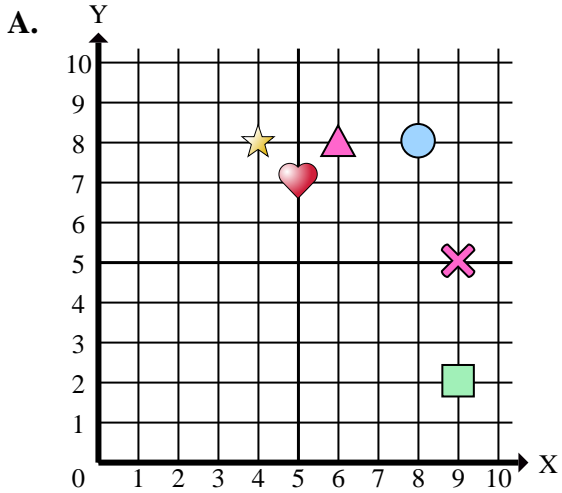
Antworten

1. _____
2. _____
3. _____
4. _____
5. _____
6. _____
7. _____
8. _____
9. _____
10. _____

- 1) Welches Koordinatenkreuz hat einen Stern bei (4 , 1)?
- 2) Welches Koordinatenkreuz hat einen Stern bei (5 , 4)?
- 3) Welches Koordinatenkreuz hat ein Rechteck bei (4 , 4)?
- 4) Welches Koordinatenkreuz hat einen Kreis bei (5 , 1)?
- 5) Welches Koordinatenkreuz hat einen Kreis bei (1 , 5)?
- 6) Welches Koordinatenkreuz hat einen Kreis bei (1 , 10)?
- 7) Welches Koordinatenkreuz hat ein Herz bei (9 , 6)?
- 8) Welches Koordinatenkreuz hat ein Dreieck bei (6 , 1)?
- 9) Welches Koordinatenkreuz hat einen Stern bei (10 , 7)?
- 10) Welches Koordinatenkreuz hat einen Kreis bei (9 , 10)?



Stelle fest, welches Koordinatenkreuz jede Frage beantwortet.



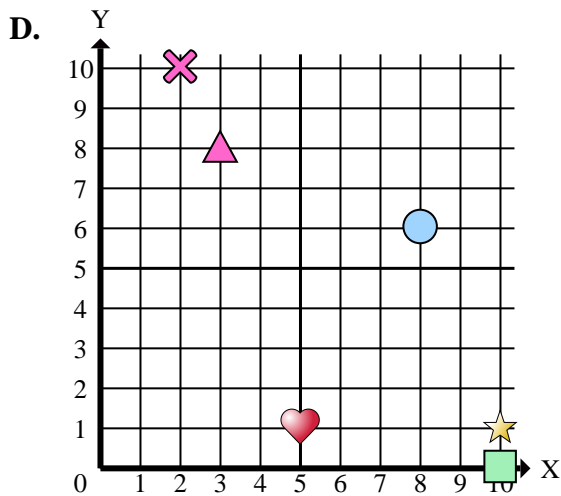
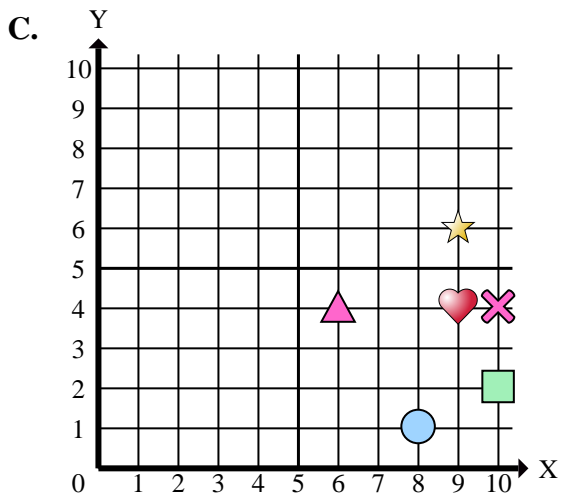
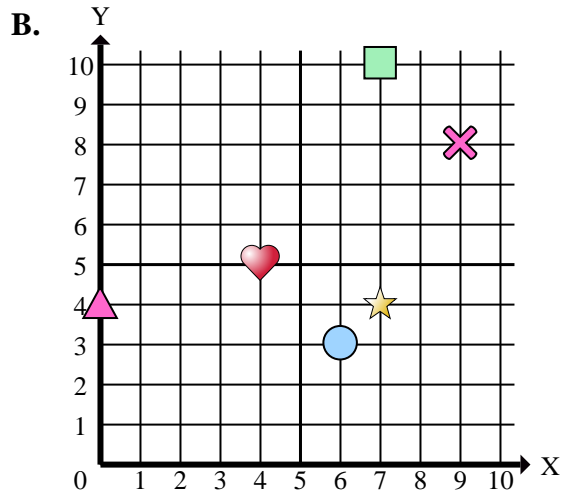
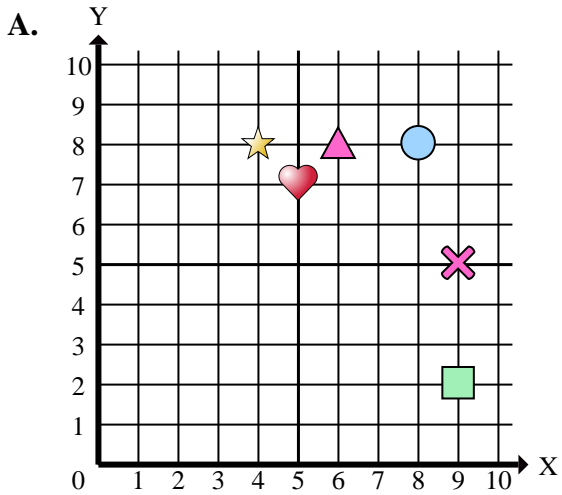
Antworten

1. _____
2. _____
3. _____
4. _____
5. _____
6. _____
7. _____
8. _____
9. _____
10. _____
11. _____
12. _____
13. _____
14. _____
15. _____

- 1) Welches Koordinatenkreuz hat eine Figur bei (0 , 4)?
- 2) Welches Koordinatenkreuz hat eine Figur bei (6 , 8)?
- 3) Welches Koordinatenkreuz hat eine Figur bei (9 , 8)?
- 4) Welches Koordinatenkreuz hat eine Figur bei (9 , 6)?
- 5) Welches Koordinatenkreuz hat eine Figur bei (9 , 4)?
- 6) Welches Koordinatenkreuz hat eine Figur bei (10 , 0)?
- 7) Welches Koordinatenkreuz hat eine Figur bei (10 , 4)?
- 8) Welches Koordinatenkreuz hat eine Figur bei (6 , 3)?
- 9) Welches Koordinatenkreuz hat eine Figur bei (9 , 2)?
- 10) Welches Koordinatenkreuz hat eine Figur bei (8 , 6)?
- 11) Welches Koordinatenkreuz hat eine Figur bei (4 , 5)?
- 12) Welches Koordinatenkreuz hat eine Figur bei (9 , 5)?
- 13) Welches Koordinatenkreuz hat eine Figur bei (4 , 8)?
- 14) Welches Koordinatenkreuz hat eine Figur bei (5 , 7)?
- 15) Welches Koordinatenkreuz hat eine Figur bei (6 , 4)?



Stelle fest, welches Koordinatenkreuz jede Frage beantwortet.



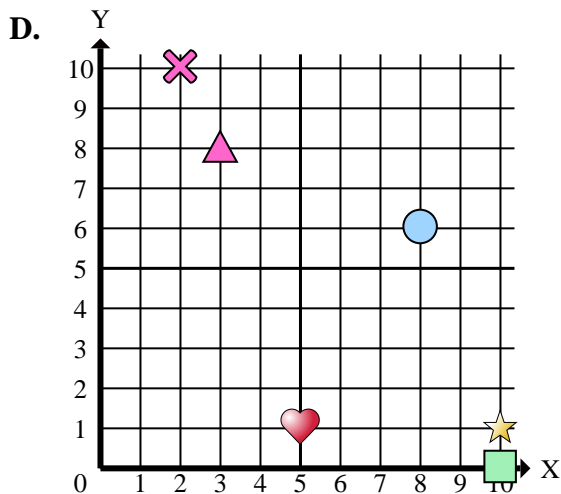
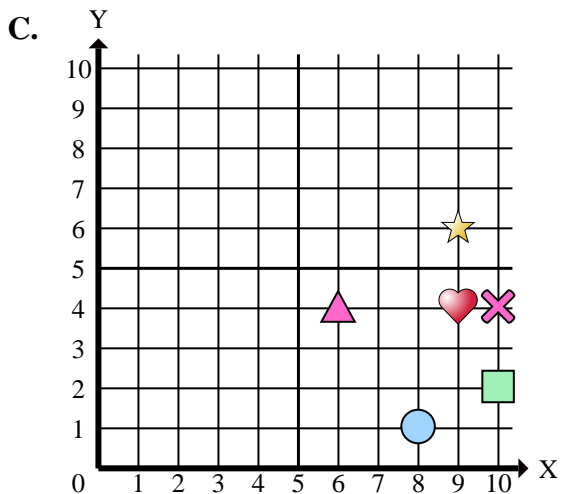
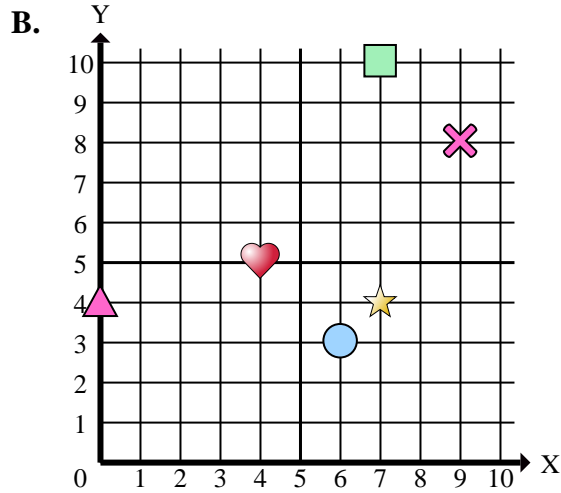
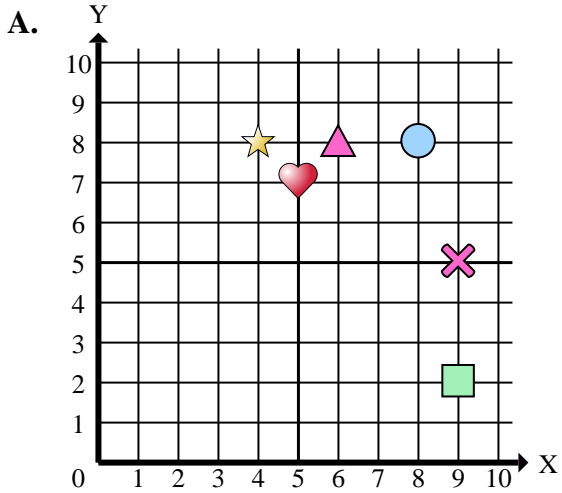
Antworten

1. **B**
2. **A**
3. **B**
4. **C**
5. **C**
6. **D**
7. **C**
8. **B**
9. **A**
10. **D**
11. **B**
12. **A**
13. **A**
14. **A**
15. **C**

- 1) Welches Koordinatenkreuz hat eine Figur bei (0 , 4)?
- 2) Welches Koordinatenkreuz hat eine Figur bei (6 , 8)?
- 3) Welches Koordinatenkreuz hat eine Figur bei (9 , 8)?
- 4) Welches Koordinatenkreuz hat eine Figur bei (9 , 6)?
- 5) Welches Koordinatenkreuz hat eine Figur bei (9 , 4)?
- 6) Welches Koordinatenkreuz hat eine Figur bei (10 , 0)?
- 7) Welches Koordinatenkreuz hat eine Figur bei (10 , 4)?
- 8) Welches Koordinatenkreuz hat eine Figur bei (6 , 3)?
- 9) Welches Koordinatenkreuz hat eine Figur bei (9 , 2)?
- 10) Welches Koordinatenkreuz hat eine Figur bei (8 , 6)?
- 11) Welches Koordinatenkreuz hat eine Figur bei (4 , 5)?
- 12) Welches Koordinatenkreuz hat eine Figur bei (9 , 5)?
- 13) Welches Koordinatenkreuz hat eine Figur bei (4 , 8)?
- 14) Welches Koordinatenkreuz hat eine Figur bei (5 , 7)?
- 15) Welches Koordinatenkreuz hat eine Figur bei (6 , 4)?



Stelle fest, welches Koordinatenkreuz jede Frage beantwortet.



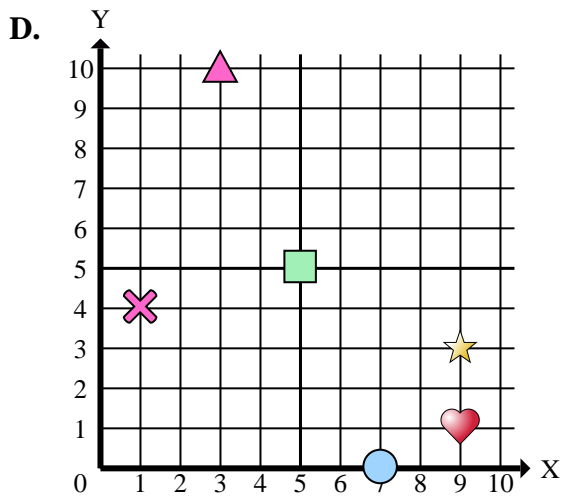
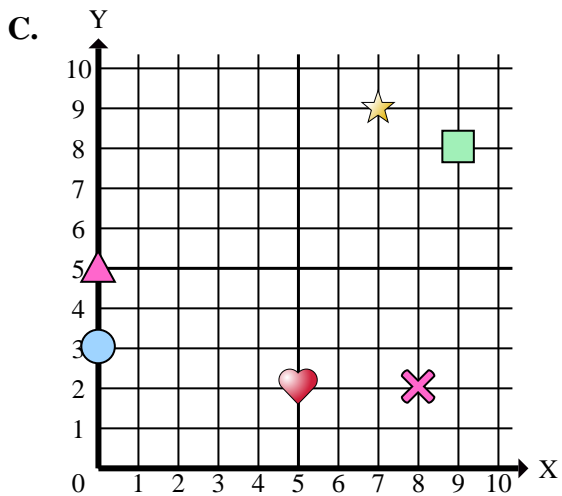
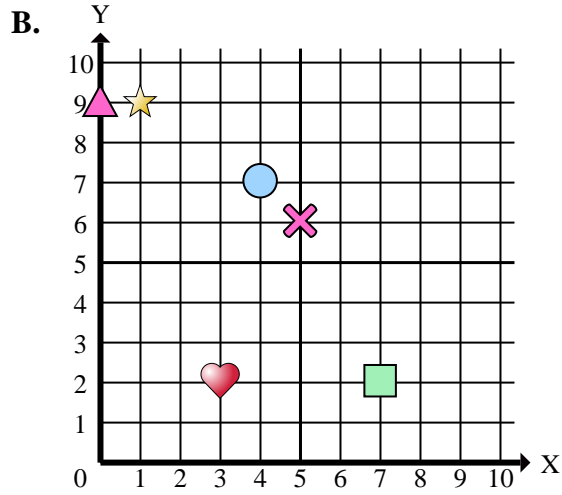
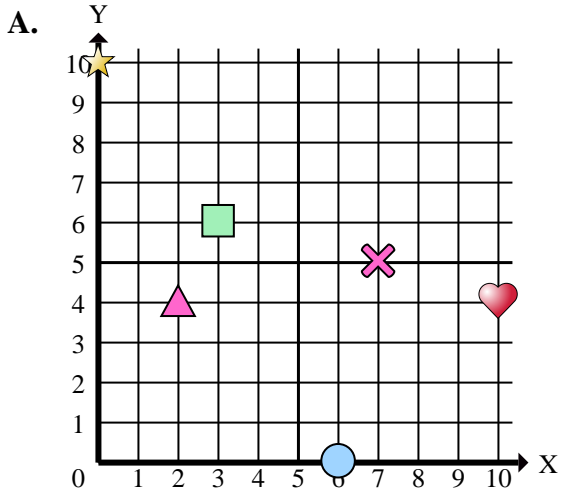
Antworten

1. _____
2. _____
3. _____
4. _____
5. _____
6. _____
7. _____
8. _____
9. _____
10. _____

- 1) Welches Koordinatenkreuz hat ein Dreieck bei (0 , 4)?
- 2) Welches Koordinatenkreuz hat ein Dreieck bei (6 , 8)?
- 3) Welches Koordinatenkreuz hat ein Kreuz bei (9 , 8)?
- 4) Welches Koordinatenkreuz hat einen Stern bei (9 , 6)?
- 5) Welches Koordinatenkreuz hat ein Herz bei (9 , 4)?
- 6) Welches Koordinatenkreuz hat ein Rechteck bei (10 , 0)?
- 7) Welches Koordinatenkreuz hat ein Kreuz bei (10 , 4)?
- 8) Welches Koordinatenkreuz hat einen Kreis bei (6 , 3)?
- 9) Welches Koordinatenkreuz hat ein Rechteck bei (9 , 2)?
- 10) Welches Koordinatenkreuz hat einen Kreis bei (8 , 6)?



Stelle fest, welches Koordinatenkreuz jede Frage beantwortet.



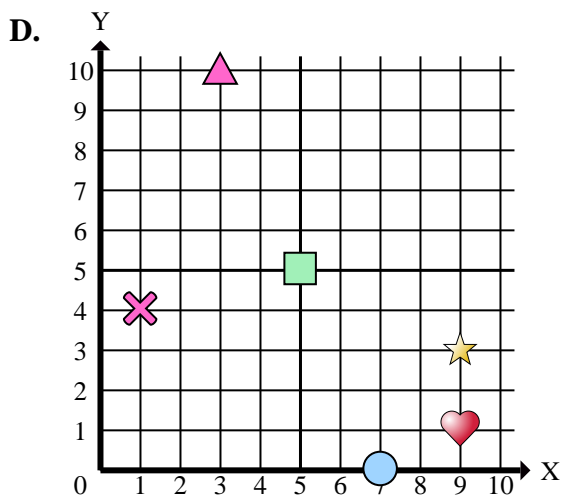
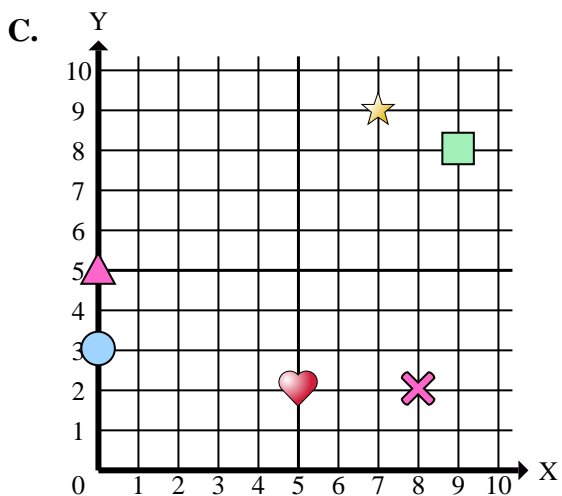
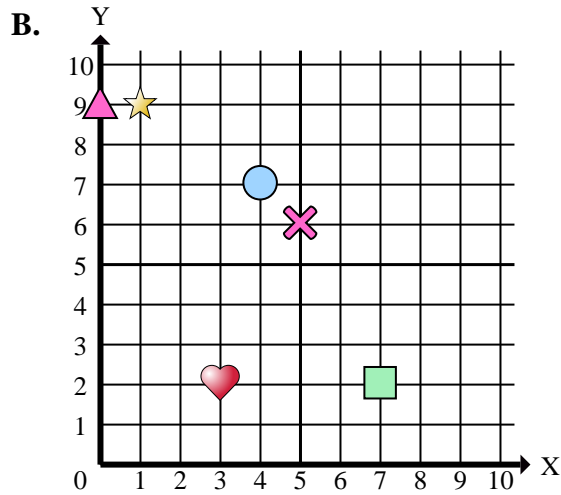
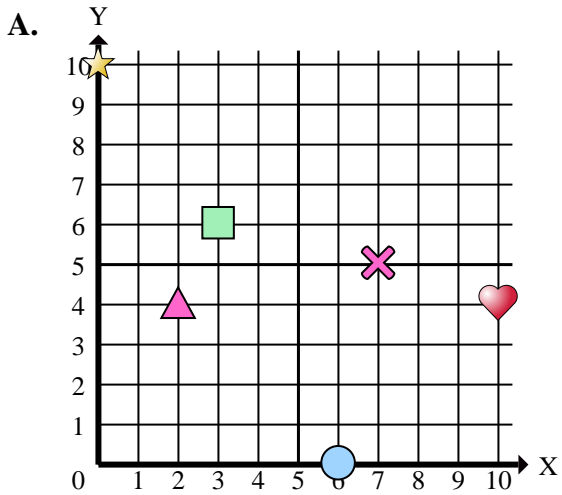
Antworten

1. _____
2. _____
3. _____
4. _____
5. _____
6. _____
7. _____
8. _____
9. _____
10. _____
11. _____
12. _____
13. _____
14. _____
15. _____

- 1) Welches Koordinatenkreuz hat eine Figur bei (6 , 0)?
- 2) Welches Koordinatenkreuz hat eine Figur bei (0 , 5)?
- 3) Welches Koordinatenkreuz hat eine Figur bei (2 , 4)?
- 4) Welches Koordinatenkreuz hat eine Figur bei (7 , 0)?
- 5) Welches Koordinatenkreuz hat eine Figur bei (7 , 5)?
- 6) Welches Koordinatenkreuz hat eine Figur bei (9 , 3)?
- 7) Welches Koordinatenkreuz hat eine Figur bei (1 , 9)?
- 8) Welches Koordinatenkreuz hat eine Figur bei (7 , 9)?
- 9) Welches Koordinatenkreuz hat eine Figur bei (5 , 5)?
- 10) Welches Koordinatenkreuz hat eine Figur bei (9 , 1)?
- 11) Welches Koordinatenkreuz hat eine Figur bei (9 , 8)?
- 12) Welches Koordinatenkreuz hat eine Figur bei (3 , 6)?
- 13) Welches Koordinatenkreuz hat eine Figur bei (4 , 7)?
- 14) Welches Koordinatenkreuz hat eine Figur bei (10 , 4)?
- 15) Welches Koordinatenkreuz hat eine Figur bei (3 , 2)?



Stelle fest, welches Koordinatenkreuz jede Frage beantwortet.



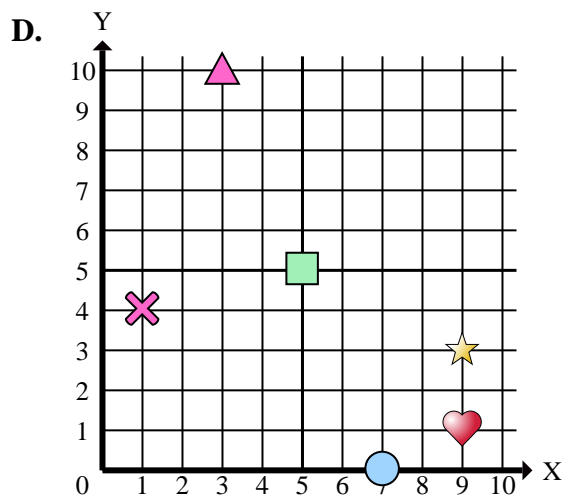
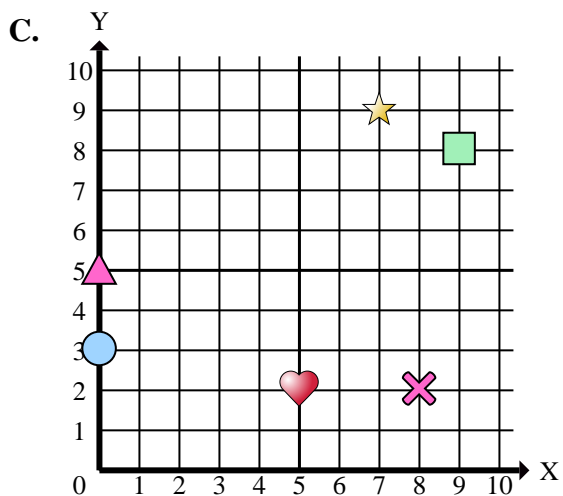
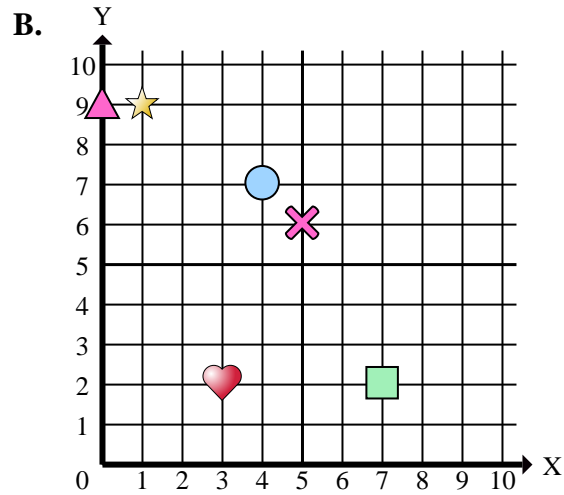
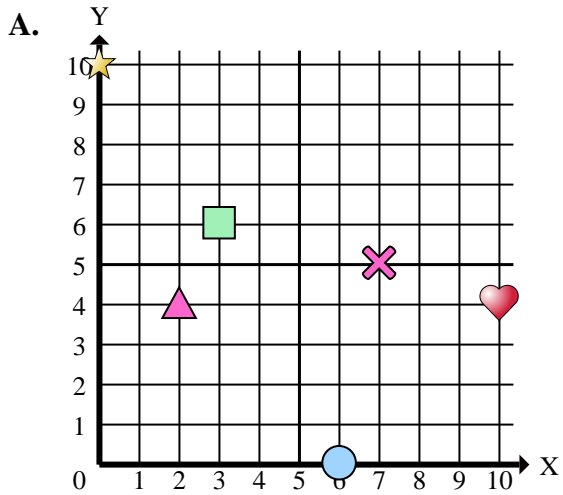
Antworten

1. **A**
2. **C**
3. **A**
4. **D**
5. **A**
6. **D**
7. **B**
8. **C**
9. **D**
10. **D**
11. **C**
12. **A**
13. **B**
14. **A**
15. **B**

- 1) Welches Koordinatenkreuz hat eine Figur bei (6 , 0)?
- 2) Welches Koordinatenkreuz hat eine Figur bei (0 , 5)?
- 3) Welches Koordinatenkreuz hat eine Figur bei (2 , 4)?
- 4) Welches Koordinatenkreuz hat eine Figur bei (7 , 0)?
- 5) Welches Koordinatenkreuz hat eine Figur bei (7 , 5)?
- 6) Welches Koordinatenkreuz hat eine Figur bei (9 , 3)?
- 7) Welches Koordinatenkreuz hat eine Figur bei (1 , 9)?
- 8) Welches Koordinatenkreuz hat eine Figur bei (7 , 9)?
- 9) Welches Koordinatenkreuz hat eine Figur bei (5 , 5)?
- 10) Welches Koordinatenkreuz hat eine Figur bei (9 , 1)?
- 11) Welches Koordinatenkreuz hat eine Figur bei (9 , 8)?
- 12) Welches Koordinatenkreuz hat eine Figur bei (3 , 6)?
- 13) Welches Koordinatenkreuz hat eine Figur bei (4 , 7)?
- 14) Welches Koordinatenkreuz hat eine Figur bei (10 , 4)?
- 15) Welches Koordinatenkreuz hat eine Figur bei (3 , 2)?



Stelle fest, welches Koordinatenkreuz jede Frage beantwortet.

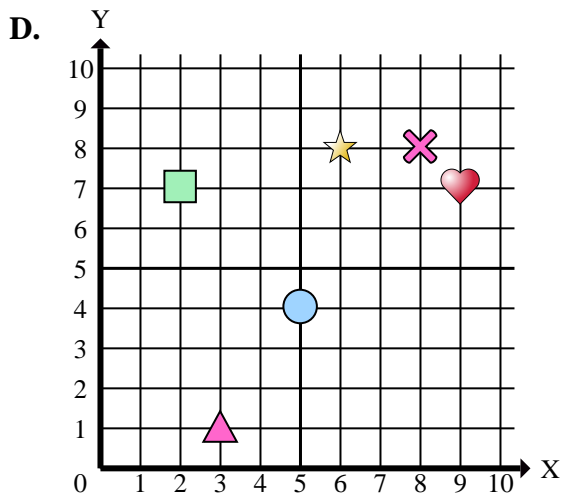
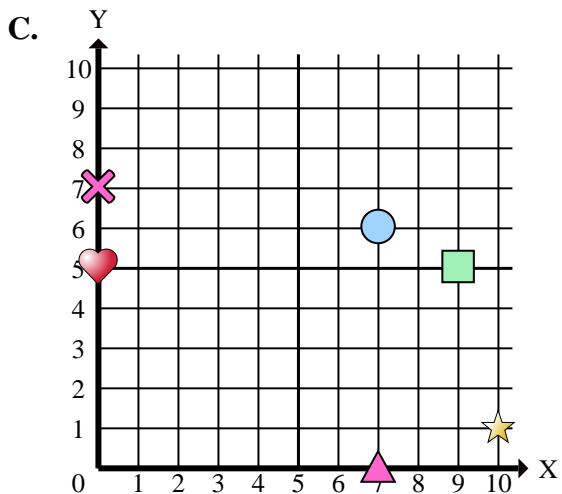
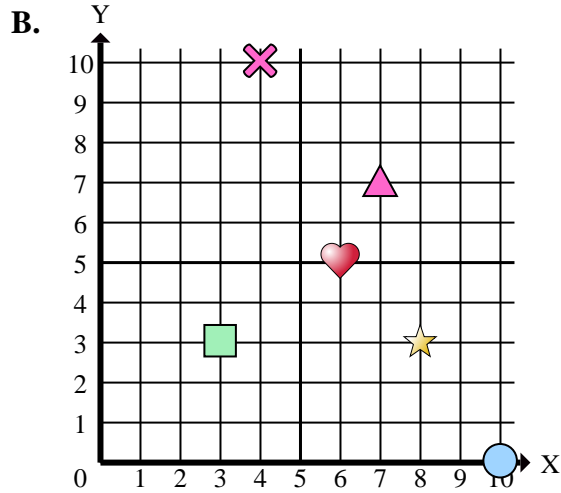
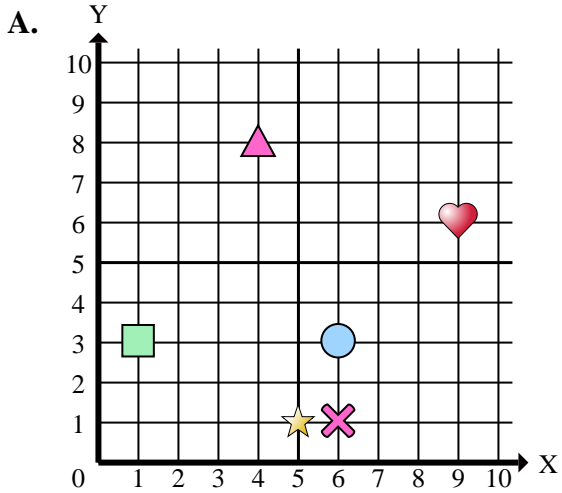
Antworten

1. _____
2. _____
3. _____
4. _____
5. _____
6. _____
7. _____
8. _____
9. _____
10. _____

- 1) Welches Koordinatenkreuz hat einen Kreis bei (6 , 0)?
- 2) Welches Koordinatenkreuz hat ein Dreieck bei (0 , 5)?
- 3) Welches Koordinatenkreuz hat ein Dreieck bei (2 , 4)?
- 4) Welches Koordinatenkreuz hat einen Kreis bei (7 , 0)?
- 5) Welches Koordinatenkreuz hat ein Kreuz bei (7 , 5)?
- 6) Welches Koordinatenkreuz hat einen Stern bei (9 , 3)?
- 7) Welches Koordinatenkreuz hat einen Stern bei (1 , 9)?
- 8) Welches Koordinatenkreuz hat einen Stern bei (7 , 9)?
- 9) Welches Koordinatenkreuz hat ein Rechteck bei (5 , 5)?
- 10) Welches Koordinatenkreuz hat ein Herz bei (9 , 1)?



Stelle fest, welches Koordinatenkreuz jede Frage beantwortet.



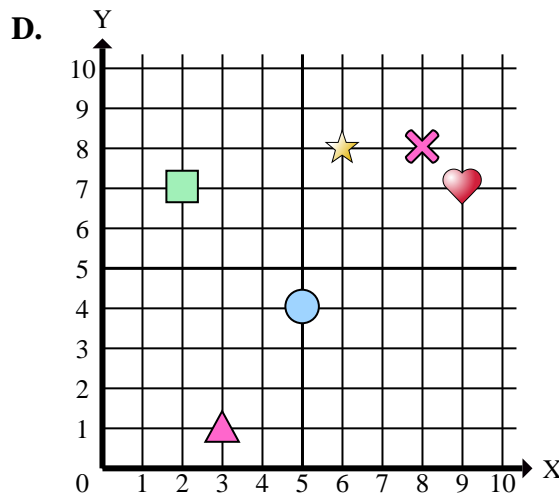
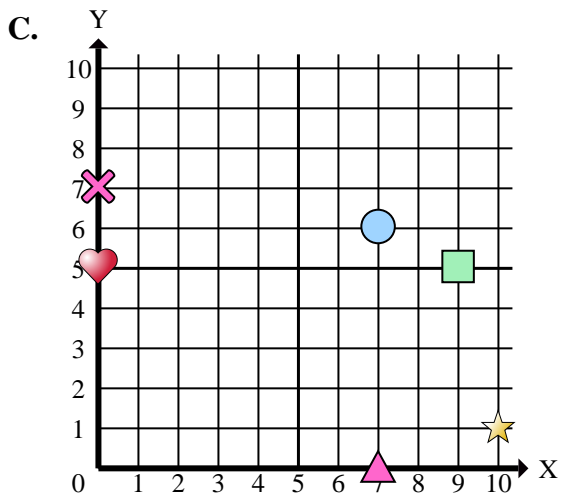
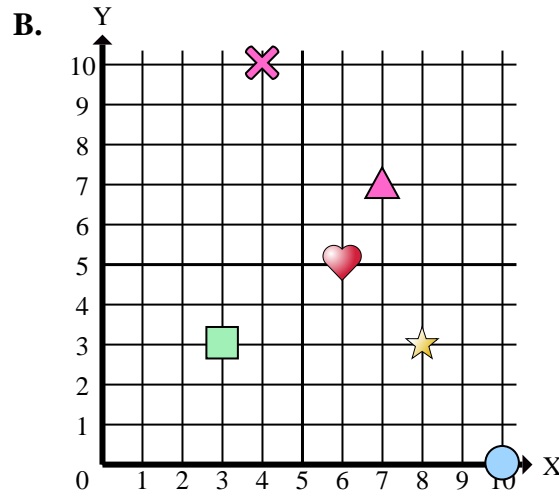
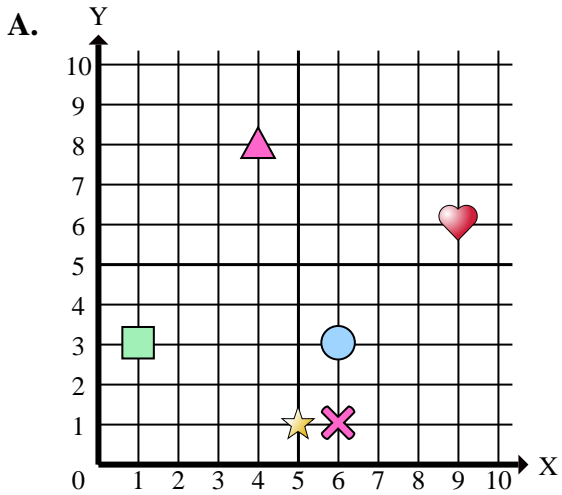
Antworten

1. _____
2. _____
3. _____
4. _____
5. _____
6. _____
7. _____
8. _____
9. _____
10. _____
11. _____
12. _____
13. _____
14. _____
15. _____

- 1) Welches Koordinatenkreuz hat eine Figur bei (9 , 6)?
- 2) Welches Koordinatenkreuz hat eine Figur bei (6 , 5)?
- 3) Welches Koordinatenkreuz hat eine Figur bei (6 , 1)?
- 4) Welches Koordinatenkreuz hat eine Figur bei (9 , 7)?
- 5) Welches Koordinatenkreuz hat eine Figur bei (1 , 3)?
- 6) Welches Koordinatenkreuz hat eine Figur bei (3 , 3)?
- 7) Welches Koordinatenkreuz hat eine Figur bei (10 , 1)?
- 8) Welches Koordinatenkreuz hat eine Figur bei (6 , 3)?
- 9) Welches Koordinatenkreuz hat eine Figur bei (7 , 7)?
- 10) Welches Koordinatenkreuz hat eine Figur bei (0 , 7)?
- 11) Welches Koordinatenkreuz hat eine Figur bei (5 , 1)?
- 12) Welches Koordinatenkreuz hat eine Figur bei (4 , 8)?
- 13) Welches Koordinatenkreuz hat eine Figur bei (9 , 5)?
- 14) Welches Koordinatenkreuz hat eine Figur bei (5 , 4)?
- 15) Welches Koordinatenkreuz hat eine Figur bei (4 , 10)?



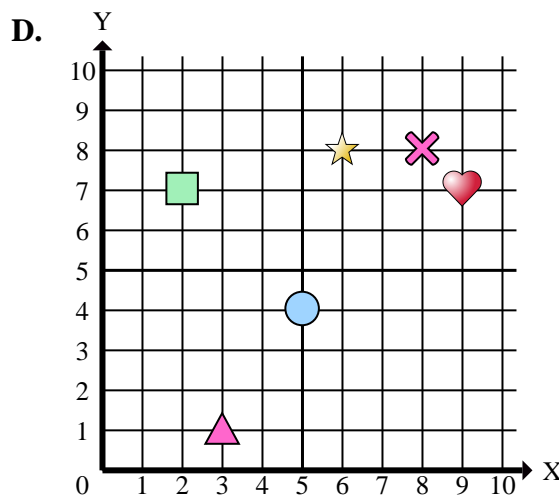
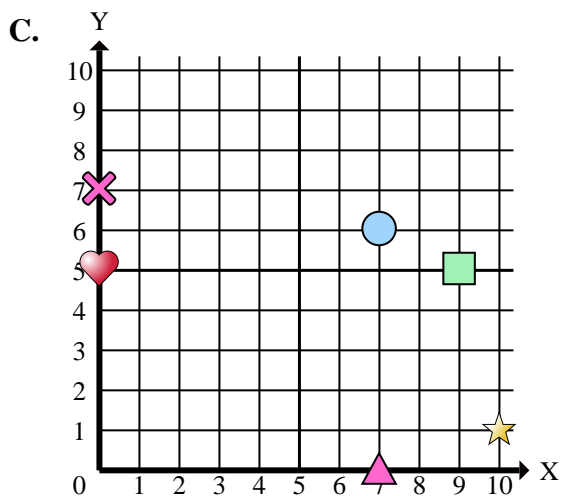
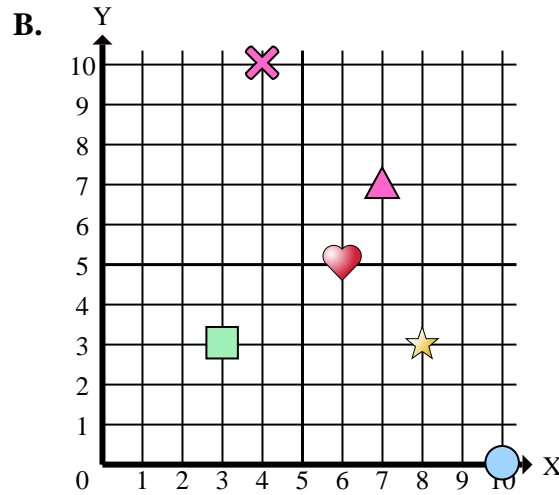
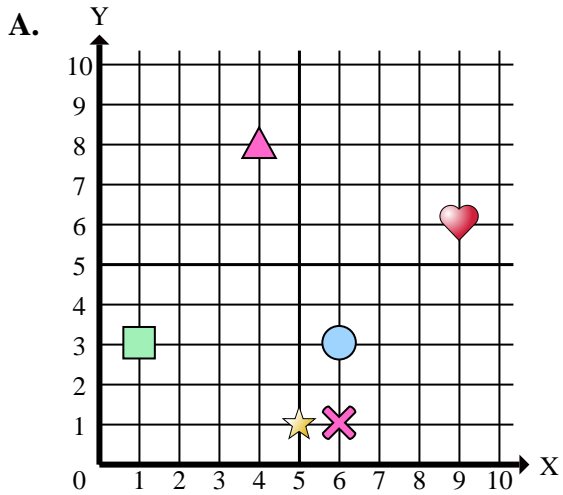
Stelle fest, welches Koordinatenkreuz jede Frage beantwortet.

Antworten1. **A** 2. **B** 3. **A** 4. **D** 5. **A** 6. **B** 7. **C** 8. **A** 9. **B** 10. **C** 11. **A** 12. **A** 13. **C** 14. **D** 15. **B**

- 1) Welches Koordinatenkreuz hat eine Figur bei (9 , 6)?
- 2) Welches Koordinatenkreuz hat eine Figur bei (6 , 5)?
- 3) Welches Koordinatenkreuz hat eine Figur bei (6 , 1)?
- 4) Welches Koordinatenkreuz hat eine Figur bei (9 , 7)?
- 5) Welches Koordinatenkreuz hat eine Figur bei (1 , 3)?
- 6) Welches Koordinatenkreuz hat eine Figur bei (3 , 3)?
- 7) Welches Koordinatenkreuz hat eine Figur bei (10 , 1)?
- 8) Welches Koordinatenkreuz hat eine Figur bei (6 , 3)?
- 9) Welches Koordinatenkreuz hat eine Figur bei (7 , 7)?
- 10) Welches Koordinatenkreuz hat eine Figur bei (0 , 7)?
- 11) Welches Koordinatenkreuz hat eine Figur bei (5 , 1)?
- 12) Welches Koordinatenkreuz hat eine Figur bei (4 , 8)?
- 13) Welches Koordinatenkreuz hat eine Figur bei (9 , 5)?
- 14) Welches Koordinatenkreuz hat eine Figur bei (5 , 4)?
- 15) Welches Koordinatenkreuz hat eine Figur bei (4 , 10)?



Stelle fest, welches Koordinatenkreuz jede Frage beantwortet.

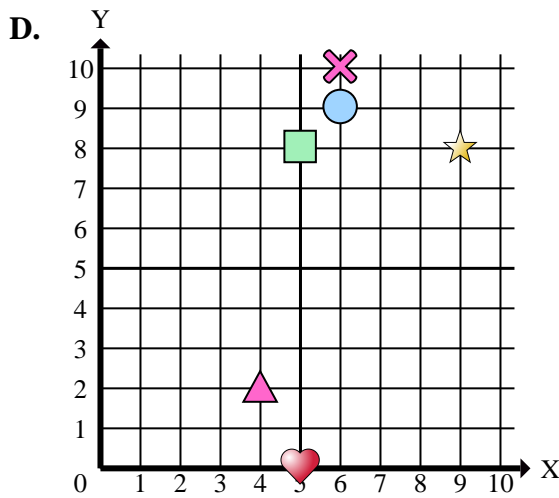
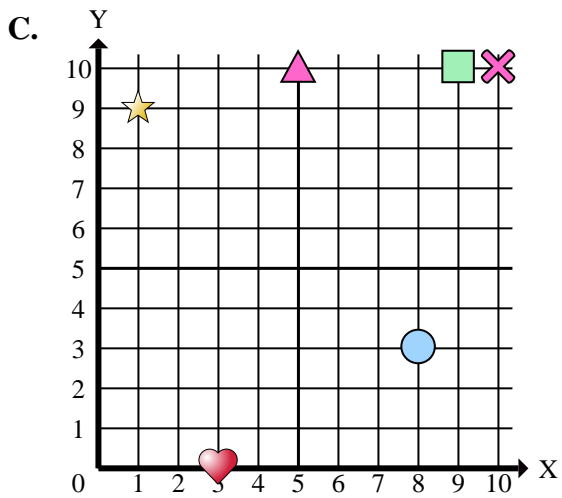
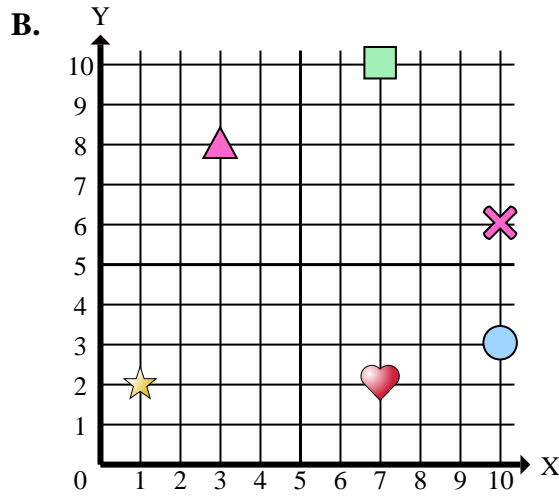
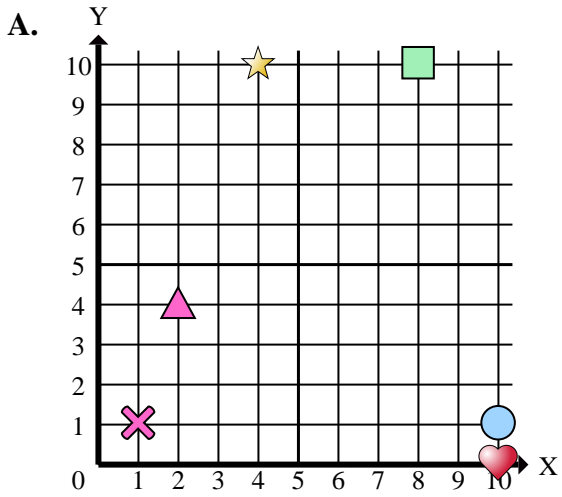
Antworten

1. _____
2. _____
3. _____
4. _____
5. _____
6. _____
7. _____
8. _____
9. _____
10. _____

- 1) Welches Koordinatenkreuz hat ein Herz bei (9 , 6)?
- 2) Welches Koordinatenkreuz hat ein Herz bei (6 , 5)?
- 3) Welches Koordinatenkreuz hat ein Kreuz bei (6 , 1)?
- 4) Welches Koordinatenkreuz hat ein Herz bei (9 , 7)?
- 5) Welches Koordinatenkreuz hat ein Rechteck bei (1 , 3)?
- 6) Welches Koordinatenkreuz hat ein Rechteck bei (3 , 3)?
- 7) Welches Koordinatenkreuz hat einen Stern bei (10 , 1)?
- 8) Welches Koordinatenkreuz hat einen Kreis bei (6 , 3)?
- 9) Welches Koordinatenkreuz hat ein Dreieck bei (7 , 7)?
- 10) Welches Koordinatenkreuz hat ein Kreuz bei (0 , 7)?



Stelle fest, welches Koordinatenkreuz jede Frage beantwortet.



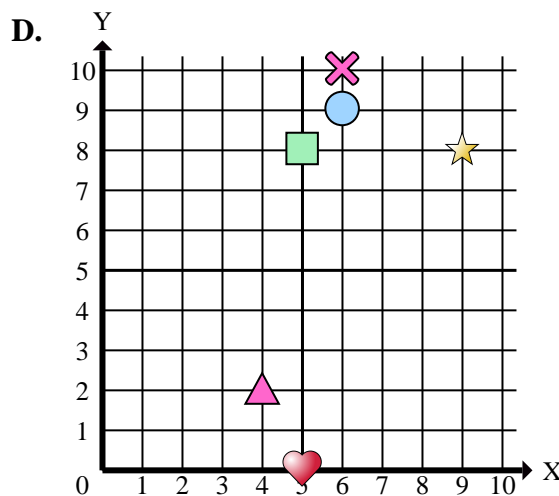
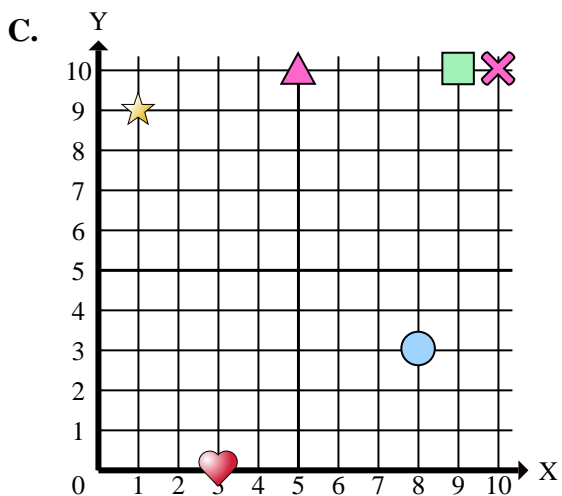
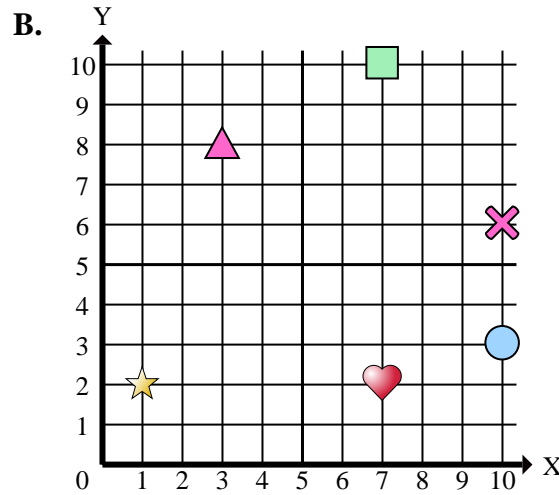
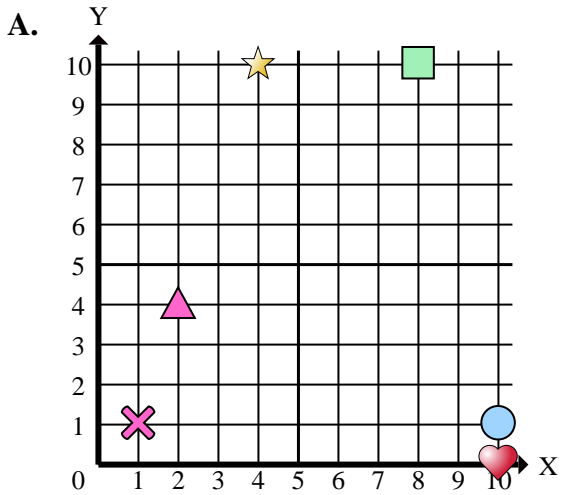
Antworten

1. _____
2. _____
3. _____
4. _____
5. _____
6. _____
7. _____
8. _____
9. _____
10. _____
11. _____
12. _____
13. _____
14. _____
15. _____

- 1) Welches Koordinatenkreuz hat eine Figur bei (4 , 2)?
- 2) Welches Koordinatenkreuz hat eine Figur bei (3 , 8)?
- 3) Welches Koordinatenkreuz hat eine Figur bei (8 , 3)?
- 4) Welches Koordinatenkreuz hat eine Figur bei (5 , 0)?
- 5) Welches Koordinatenkreuz hat eine Figur bei (9 , 8)?
- 6) Welches Koordinatenkreuz hat eine Figur bei (7 , 10)?
- 7) Welches Koordinatenkreuz hat eine Figur bei (5 , 10)?
- 8) Welches Koordinatenkreuz hat eine Figur bei (10 , 0)?
- 9) Welches Koordinatenkreuz hat eine Figur bei (6 , 10)?
- 10) Welches Koordinatenkreuz hat eine Figur bei (9 , 10)?
- 11) Welches Koordinatenkreuz hat eine Figur bei (4 , 10)?
- 12) Welches Koordinatenkreuz hat eine Figur bei (10 , 6)?
- 13) Welches Koordinatenkreuz hat eine Figur bei (6 , 9)?
- 14) Welches Koordinatenkreuz hat eine Figur bei (1 , 9)?
- 15) Welches Koordinatenkreuz hat eine Figur bei (10 , 3)?



Stelle fest, welches Koordinatenkreuz jede Frage beantwortet.



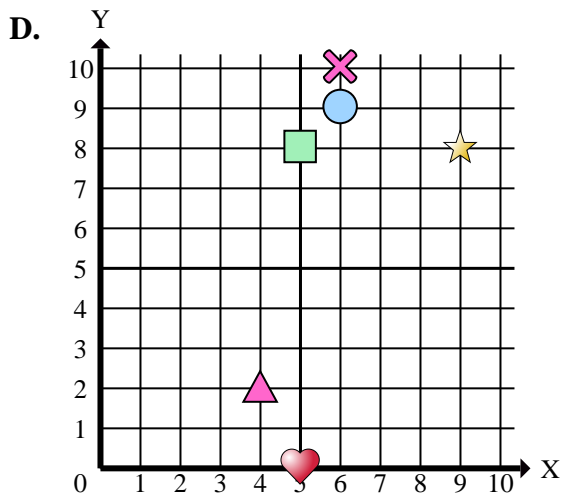
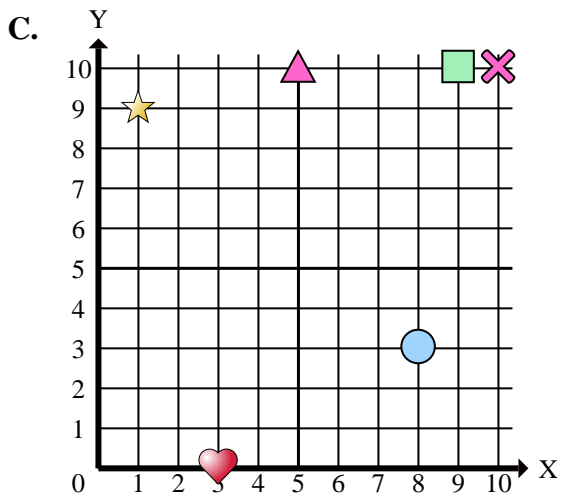
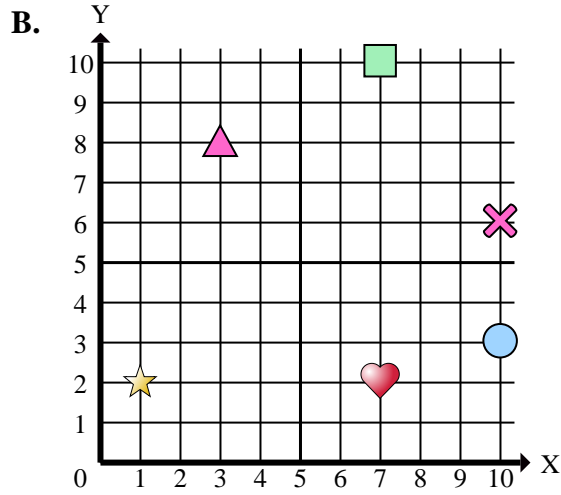
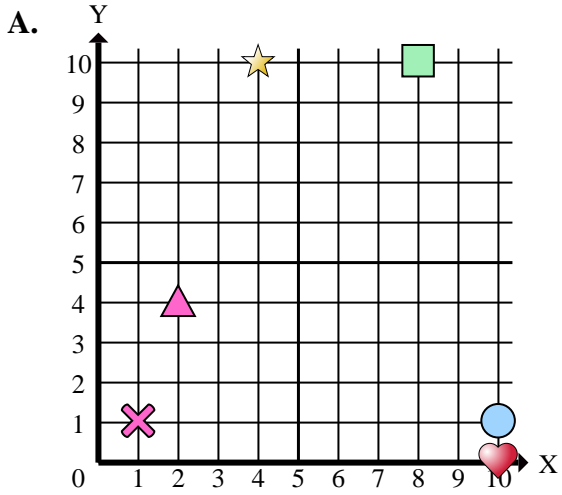
- 1) Welches Koordinatenkreuz hat eine Figur bei (4 , 2)?
- 2) Welches Koordinatenkreuz hat eine Figur bei (3 , 8)?
- 3) Welches Koordinatenkreuz hat eine Figur bei (8 , 3)?
- 4) Welches Koordinatenkreuz hat eine Figur bei (5 , 0)?
- 5) Welches Koordinatenkreuz hat eine Figur bei (9 , 8)?
- 6) Welches Koordinatenkreuz hat eine Figur bei (7 , 10)?
- 7) Welches Koordinatenkreuz hat eine Figur bei (5 , 10)?
- 8) Welches Koordinatenkreuz hat eine Figur bei (10 , 0)?
- 9) Welches Koordinatenkreuz hat eine Figur bei (6 , 10)?
- 10) Welches Koordinatenkreuz hat eine Figur bei (9 , 10)?
- 11) Welches Koordinatenkreuz hat eine Figur bei (4 , 10)?
- 12) Welches Koordinatenkreuz hat eine Figur bei (10 , 6)?
- 13) Welches Koordinatenkreuz hat eine Figur bei (6 , 9)?
- 14) Welches Koordinatenkreuz hat eine Figur bei (1 , 9)?
- 15) Welches Koordinatenkreuz hat eine Figur bei (10 , 3)?

Antworten

1. **D**
2. **B**
3. **C**
4. **D**
5. **D**
6. **B**
7. **C**
8. **A**
9. **D**
10. **C**
11. **A**
12. **B**
13. **D**
14. **C**
15. **B**



Stelle fest, welches Koordinatenkreuz jede Frage beantwortet.



Antworten

1. _____
2. _____
3. _____
4. _____
5. _____
6. _____
7. _____
8. _____
9. _____
10. _____

- 1) Welches Koordinatenkreuz hat ein Dreieck bei (4 , 2)?
- 2) Welches Koordinatenkreuz hat ein Dreieck bei (3 , 8)?
- 3) Welches Koordinatenkreuz hat einen Kreis bei (8 , 3)?
- 4) Welches Koordinatenkreuz hat ein Herz bei (5 , 0)?
- 5) Welches Koordinatenkreuz hat einen Stern bei (9 , 8)?
- 6) Welches Koordinatenkreuz hat ein Rechteck bei (7 , 10)?
- 7) Welches Koordinatenkreuz hat ein Dreieck bei (5 , 10)?
- 8) Welches Koordinatenkreuz hat ein Herz bei (10 , 0)?
- 9) Welches Koordinatenkreuz hat ein Kreuz bei (6 , 10)?
- 10) Welches Koordinatenkreuz hat ein Rechteck bei (9 , 10)?