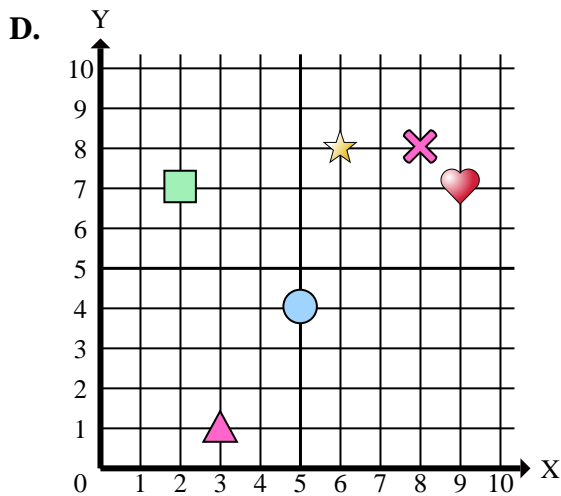
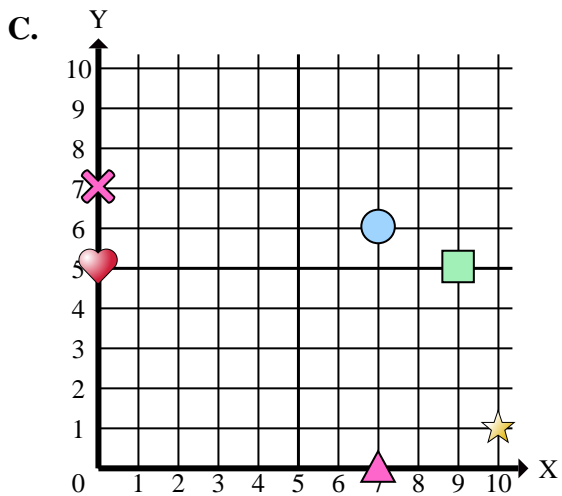
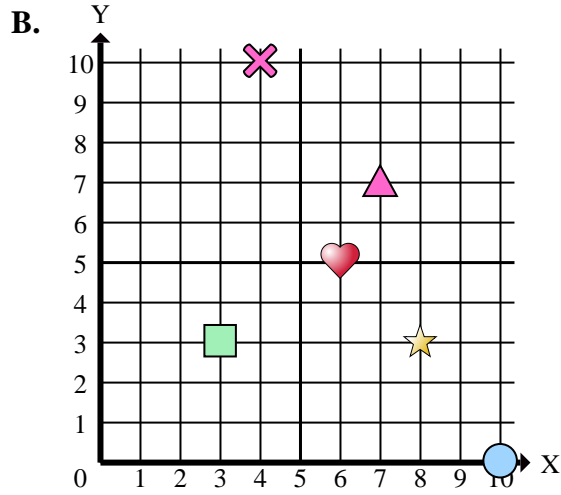
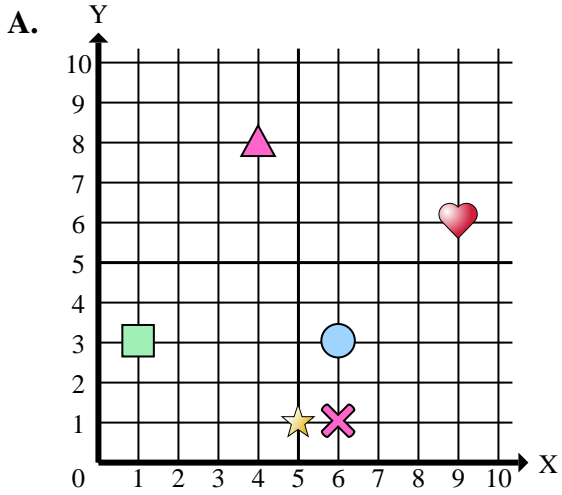




Stelle fest, welches Koordinatenkreuz jede Frage beantwortet.



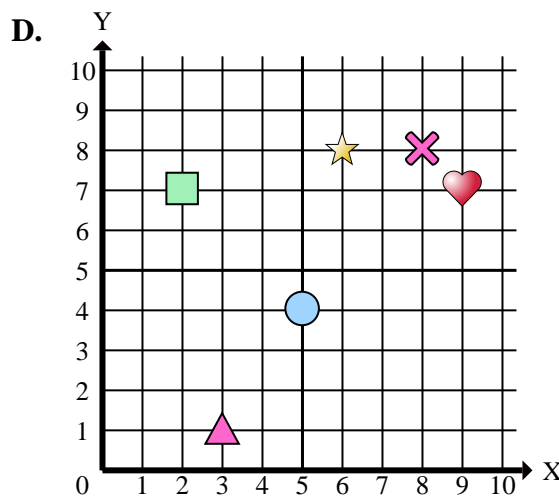
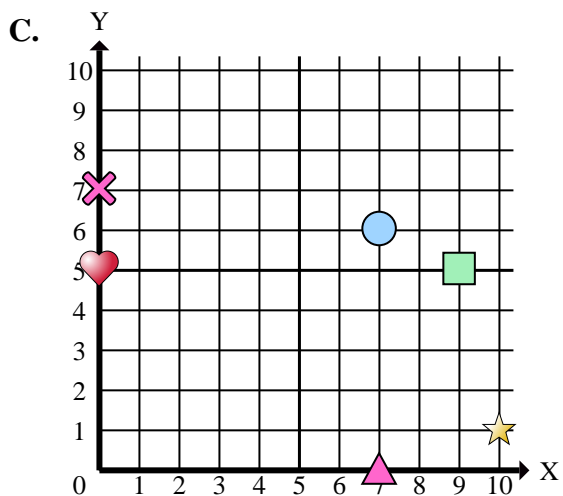
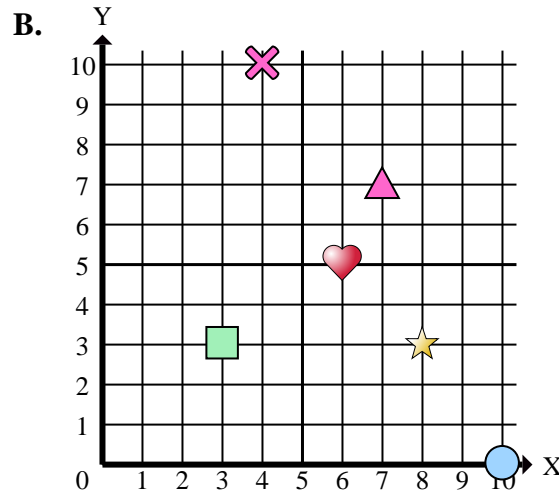
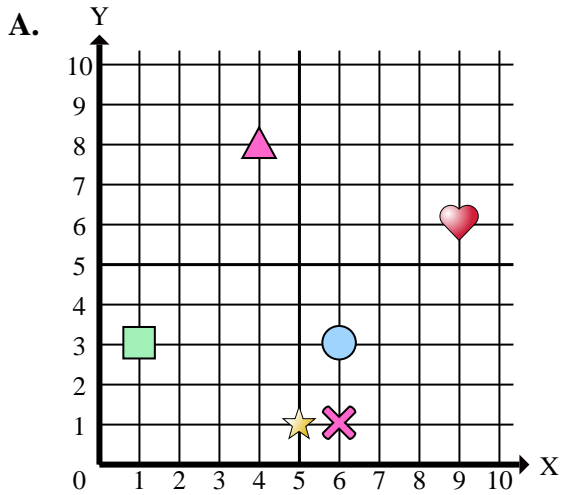
Antworten

1. _____
2. _____
3. _____
4. _____
5. _____
6. _____
7. _____
8. _____
9. _____
10. _____
11. _____
12. _____
13. _____
14. _____
15. _____

- 1) Welches Koordinatenkreuz hat eine Figur bei (9 , 6)?
- 2) Welches Koordinatenkreuz hat eine Figur bei (6 , 5)?
- 3) Welches Koordinatenkreuz hat eine Figur bei (6 , 1)?
- 4) Welches Koordinatenkreuz hat eine Figur bei (9 , 7)?
- 5) Welches Koordinatenkreuz hat eine Figur bei (1 , 3)?
- 6) Welches Koordinatenkreuz hat eine Figur bei (3 , 3)?
- 7) Welches Koordinatenkreuz hat eine Figur bei (10 , 1)?
- 8) Welches Koordinatenkreuz hat eine Figur bei (6 , 3)?
- 9) Welches Koordinatenkreuz hat eine Figur bei (7 , 7)?
- 10) Welches Koordinatenkreuz hat eine Figur bei (0 , 7)?
- 11) Welches Koordinatenkreuz hat eine Figur bei (5 , 1)?
- 12) Welches Koordinatenkreuz hat eine Figur bei (4 , 8)?
- 13) Welches Koordinatenkreuz hat eine Figur bei (9 , 5)?
- 14) Welches Koordinatenkreuz hat eine Figur bei (5 , 4)?
- 15) Welches Koordinatenkreuz hat eine Figur bei (4 , 10)?



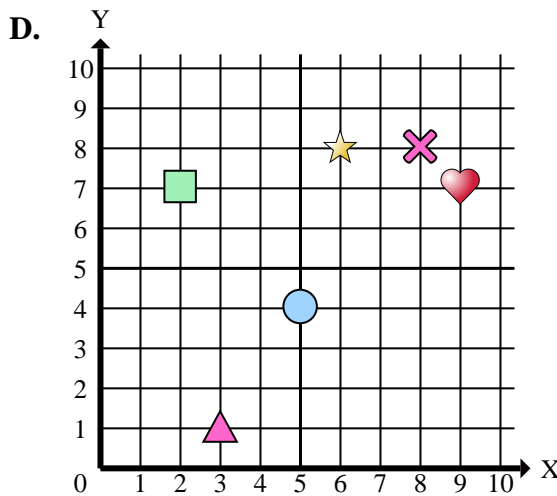
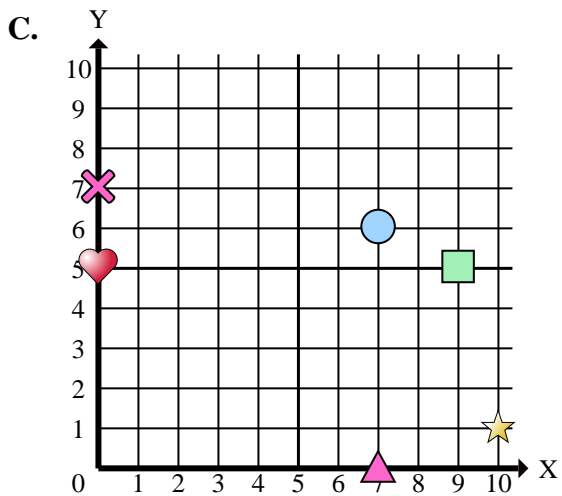
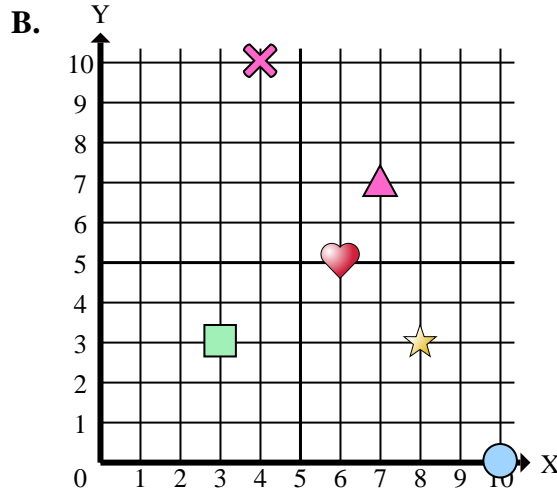
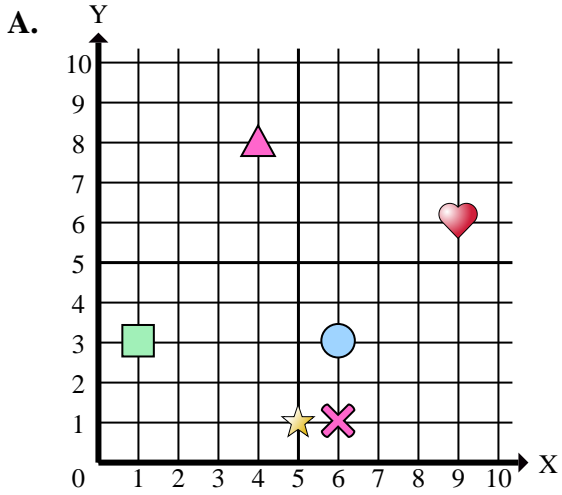
Stelle fest, welches Koordinatenkreuz jede Frage beantwortet.

Antworten1. **A** 2. **B** 3. **A** 4. **D** 5. **A** 6. **B** 7. **C** 8. **A** 9. **B** 10. **C** 11. **A** 12. **A** 13. **C** 14. **D** 15. **B**

- 1) Welches Koordinatenkreuz hat eine Figur bei (9, 6)?
- 2) Welches Koordinatenkreuz hat eine Figur bei (6, 5)?
- 3) Welches Koordinatenkreuz hat eine Figur bei (6, 1)?
- 4) Welches Koordinatenkreuz hat eine Figur bei (9, 7)?
- 5) Welches Koordinatenkreuz hat eine Figur bei (1, 3)?
- 6) Welches Koordinatenkreuz hat eine Figur bei (3, 3)?
- 7) Welches Koordinatenkreuz hat eine Figur bei (10, 1)?
- 8) Welches Koordinatenkreuz hat eine Figur bei (6, 3)?
- 9) Welches Koordinatenkreuz hat eine Figur bei (7, 7)?
- 10) Welches Koordinatenkreuz hat eine Figur bei (0, 7)?
- 11) Welches Koordinatenkreuz hat eine Figur bei (5, 1)?
- 12) Welches Koordinatenkreuz hat eine Figur bei (4, 8)?
- 13) Welches Koordinatenkreuz hat eine Figur bei (9, 5)?
- 14) Welches Koordinatenkreuz hat eine Figur bei (5, 4)?
- 15) Welches Koordinatenkreuz hat eine Figur bei (4, 10)?



Stelle fest, welches Koordinatenkreuz jede Frage beantwortet.



Antworten

1. _____
2. _____
3. _____
4. _____
5. _____
6. _____
7. _____
8. _____
9. _____
10. _____

- 1) Welches Koordinatenkreuz hat ein Herz bei (9 , 6)?
- 2) Welches Koordinatenkreuz hat ein Herz bei (6 , 5)?
- 3) Welches Koordinatenkreuz hat ein Kreuz bei (6 , 1)?
- 4) Welches Koordinatenkreuz hat ein Herz bei (9 , 7)?
- 5) Welches Koordinatenkreuz hat ein Rechteck bei (1 , 3)?
- 6) Welches Koordinatenkreuz hat ein Rechteck bei (3 , 3)?
- 7) Welches Koordinatenkreuz hat einen Stern bei (10 , 1)?
- 8) Welches Koordinatenkreuz hat einen Kreis bei (6 , 3)?
- 9) Welches Koordinatenkreuz hat ein Dreieck bei (7 , 7)?
- 10) Welches Koordinatenkreuz hat ein Kreuz bei (0 , 7)?