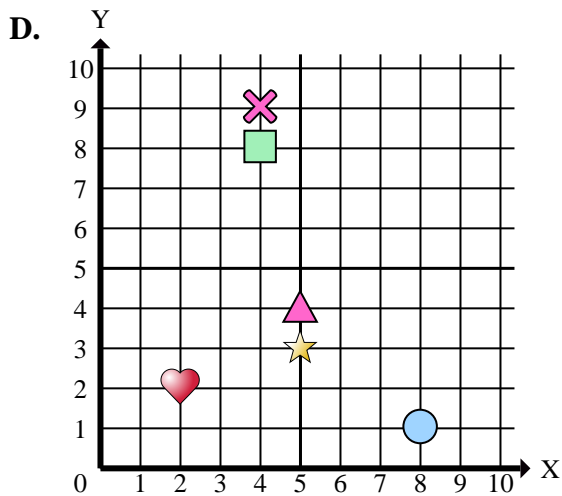
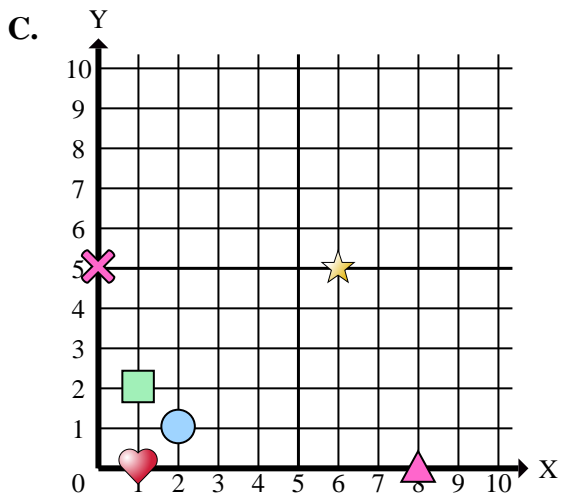
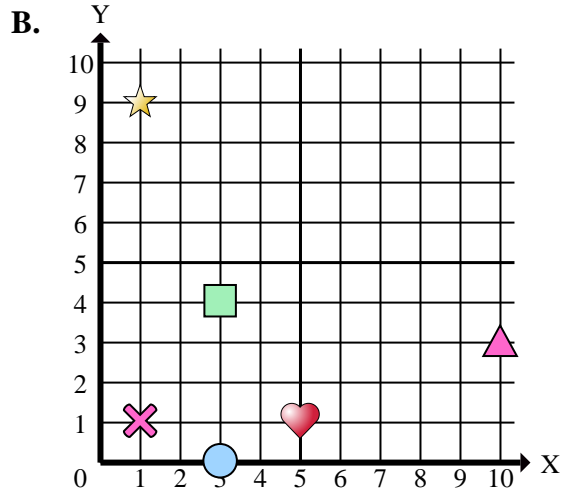
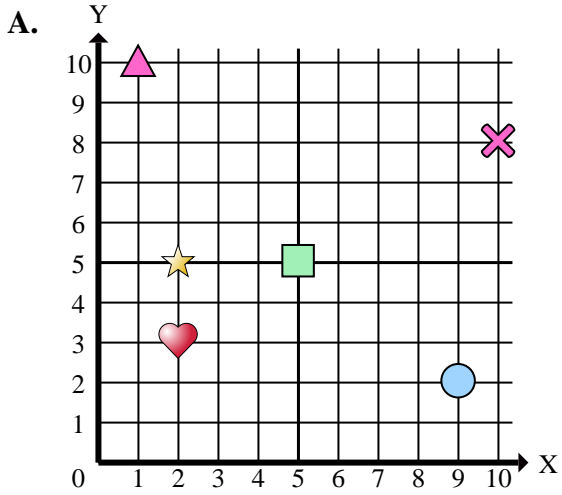




Stelle fest, welches Koordinatenkreuz jede Frage beantwortet.



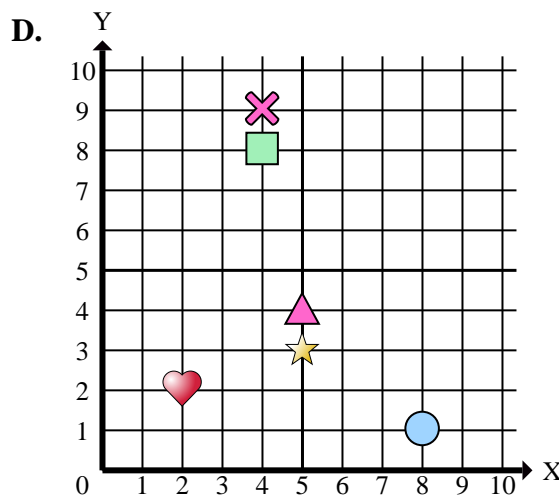
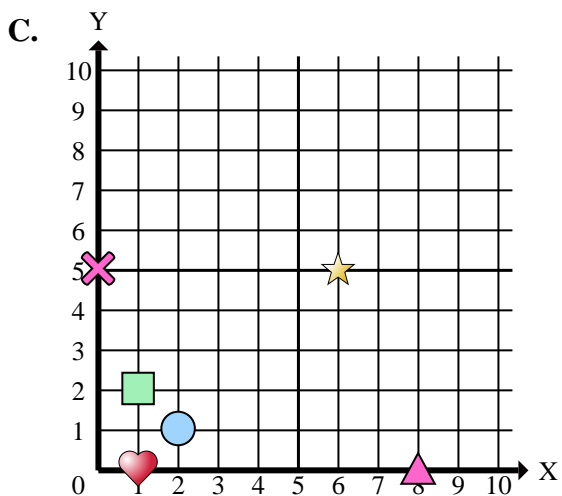
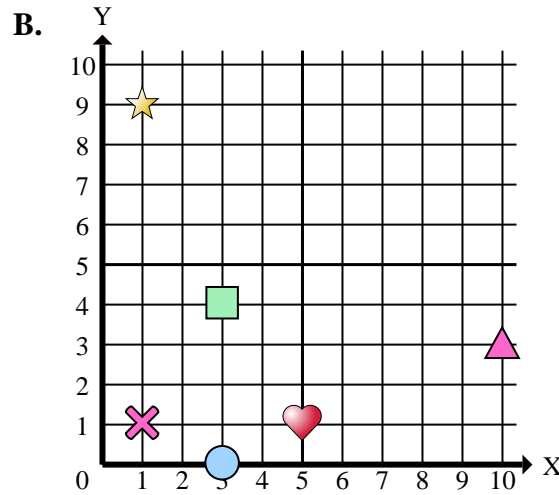
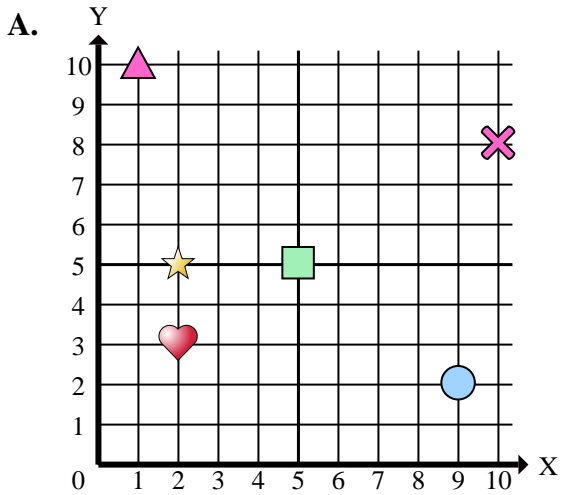
Antworten

1. \_\_\_\_\_
2. \_\_\_\_\_
3. \_\_\_\_\_
4. \_\_\_\_\_
5. \_\_\_\_\_
6. \_\_\_\_\_
7. \_\_\_\_\_
8. \_\_\_\_\_
9. \_\_\_\_\_
10. \_\_\_\_\_
11. \_\_\_\_\_
12. \_\_\_\_\_
13. \_\_\_\_\_
14. \_\_\_\_\_
15. \_\_\_\_\_

- 1) Welches Koordinatenkreuz hat eine Figur bei (5 , 5)?
- 2) Welches Koordinatenkreuz hat eine Figur bei (10 , 3)?
- 3) Welches Koordinatenkreuz hat eine Figur bei (1 , 1)?
- 4) Welches Koordinatenkreuz hat eine Figur bei (5 , 4)?
- 5) Welches Koordinatenkreuz hat eine Figur bei (3 , 4)?
- 6) Welches Koordinatenkreuz hat eine Figur bei (3 , 0)?
- 7) Welches Koordinatenkreuz hat eine Figur bei (10 , 8)?
- 8) Welches Koordinatenkreuz hat eine Figur bei (2 , 1)?
- 9) Welches Koordinatenkreuz hat eine Figur bei (1 , 10)?
- 10) Welches Koordinatenkreuz hat eine Figur bei (2 , 5)?
- 11) Welches Koordinatenkreuz hat eine Figur bei (2 , 2)?
- 12) Welches Koordinatenkreuz hat eine Figur bei (4 , 8)?
- 13) Welches Koordinatenkreuz hat eine Figur bei (5 , 1)?
- 14) Welches Koordinatenkreuz hat eine Figur bei (1 , 0)?
- 15) Welches Koordinatenkreuz hat eine Figur bei (0 , 5)?



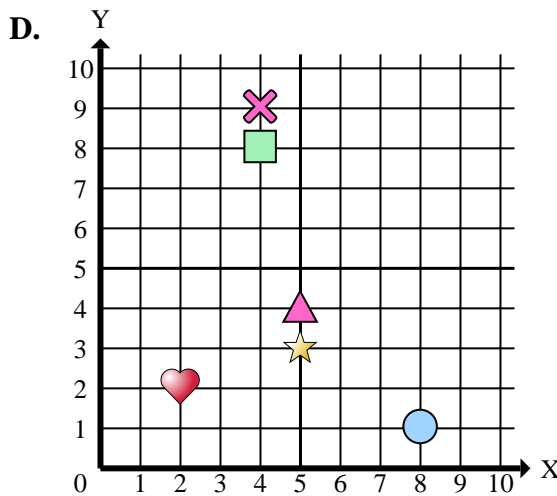
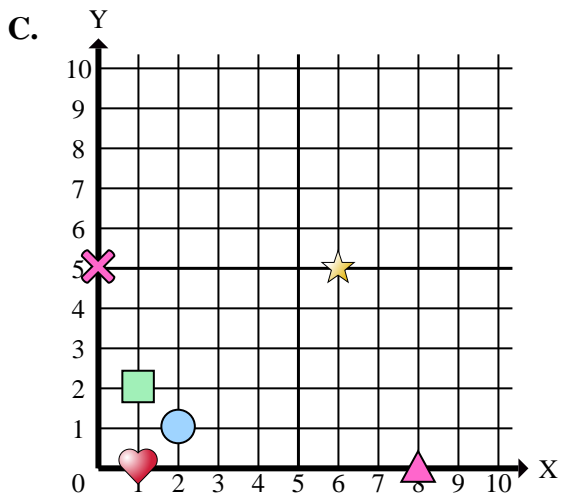
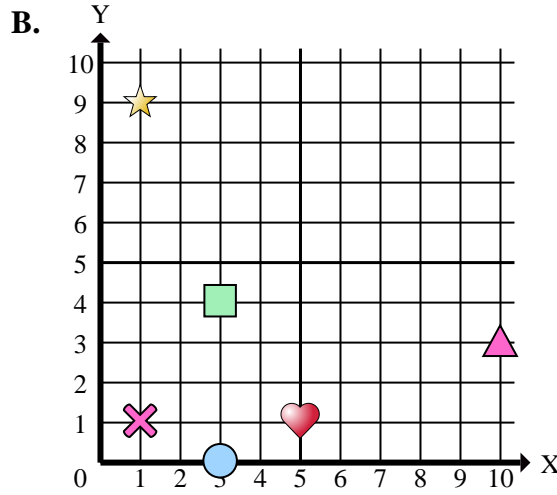
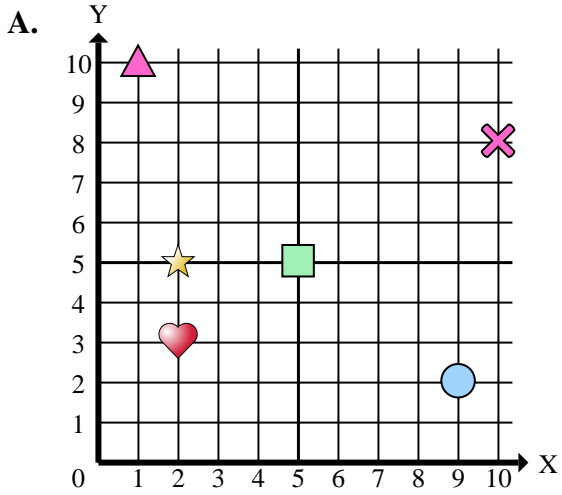
Stelle fest, welches Koordinatenkreuz jede Frage beantwortet.

Antworten1.     **A**    2.     **B**    3.     **B**    4.     **D**    5.     **B**    6.     **B**    7.     **A**    8.     **C**    9.     **A**    10.     **A**    11.     **D**    12.     **D**    13.     **B**    14.     **C**    15.     **C**    

- 1) Welches Koordinatenkreuz hat eine Figur bei (5 , 5)?
- 2) Welches Koordinatenkreuz hat eine Figur bei (10 , 3)?
- 3) Welches Koordinatenkreuz hat eine Figur bei (1 , 1)?
- 4) Welches Koordinatenkreuz hat eine Figur bei (5 , 4)?
- 5) Welches Koordinatenkreuz hat eine Figur bei (3 , 4)?
- 6) Welches Koordinatenkreuz hat eine Figur bei (3 , 0)?
- 7) Welches Koordinatenkreuz hat eine Figur bei (10 , 8)?
- 8) Welches Koordinatenkreuz hat eine Figur bei (2 , 1)?
- 9) Welches Koordinatenkreuz hat eine Figur bei (1 , 10)?
- 10) Welches Koordinatenkreuz hat eine Figur bei (2 , 5)?
- 11) Welches Koordinatenkreuz hat eine Figur bei (2 , 2)?
- 12) Welches Koordinatenkreuz hat eine Figur bei (4 , 8)?
- 13) Welches Koordinatenkreuz hat eine Figur bei (5 , 1)?
- 14) Welches Koordinatenkreuz hat eine Figur bei (1 , 0)?
- 15) Welches Koordinatenkreuz hat eine Figur bei (0 , 5)?



Stelle fest, welches Koordinatenkreuz jede Frage beantwortet.



Antworten

1. \_\_\_\_\_
2. \_\_\_\_\_
3. \_\_\_\_\_
4. \_\_\_\_\_
5. \_\_\_\_\_
6. \_\_\_\_\_
7. \_\_\_\_\_
8. \_\_\_\_\_
9. \_\_\_\_\_
10. \_\_\_\_\_

- 1) Welches Koordinatenkreuz hat ein Rechteck bei (5 , 5)?
- 2) Welches Koordinatenkreuz hat ein Dreieck bei (10 , 3)?
- 3) Welches Koordinatenkreuz hat ein Kreuz bei (1 , 1)?
- 4) Welches Koordinatenkreuz hat ein Dreieck bei (5 , 4)?
- 5) Welches Koordinatenkreuz hat ein Rechteck bei (3 , 4)?
- 6) Welches Koordinatenkreuz hat einen Kreis bei (3 , 0)?
- 7) Welches Koordinatenkreuz hat ein Kreuz bei (10 , 8)?
- 8) Welches Koordinatenkreuz hat einen Kreis bei (2 , 1)?
- 9) Welches Koordinatenkreuz hat ein Dreieck bei (1 , 10)?
- 10) Welches Koordinatenkreuz hat einen Stern bei (2 , 5)?