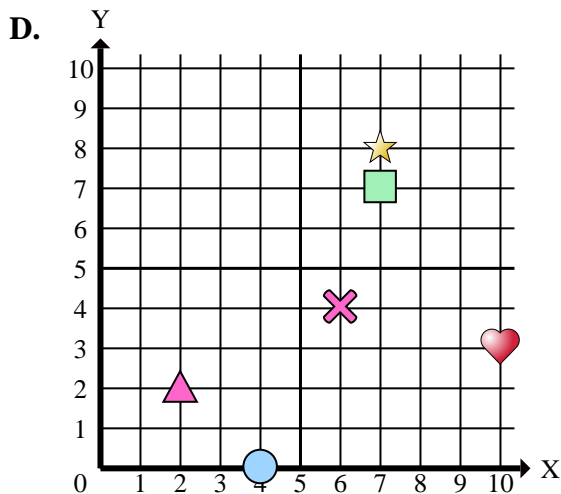
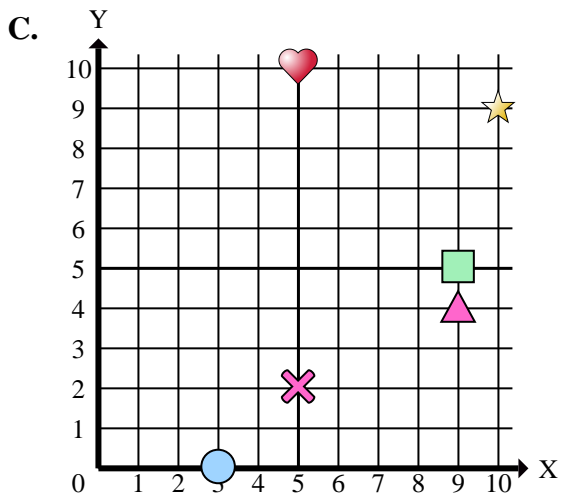
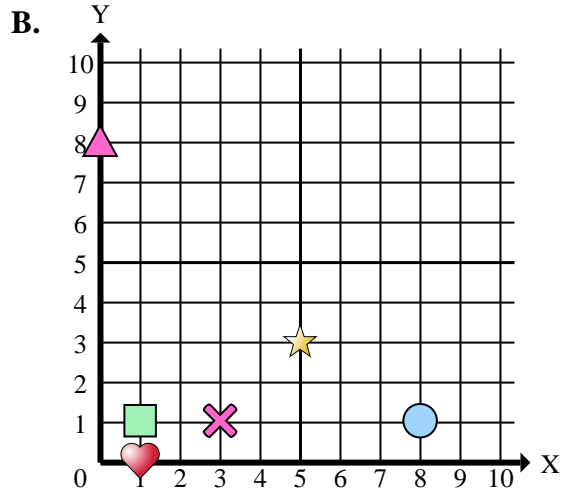
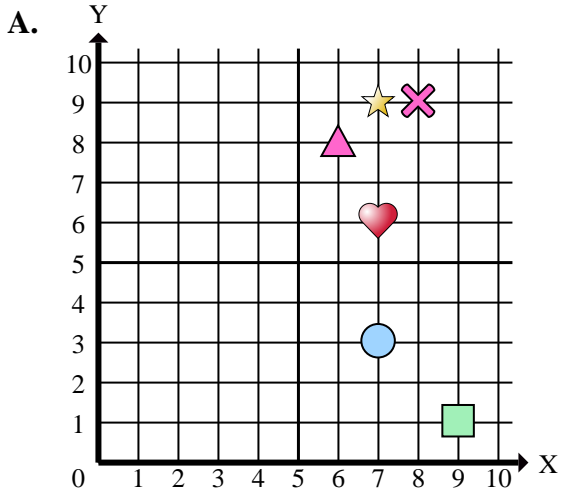




Stelle fest, welches Koordinatenkreuz jede Frage beantwortet.



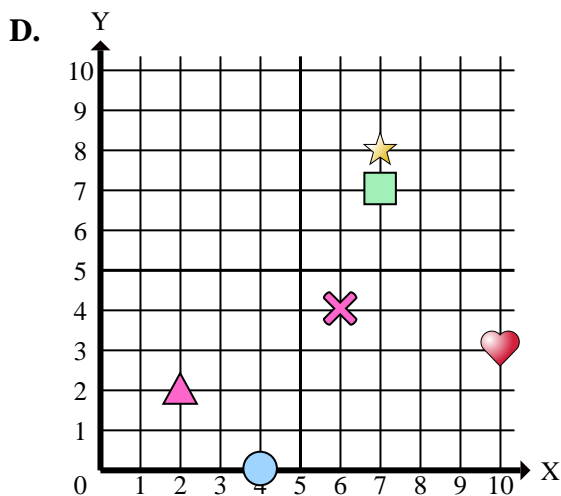
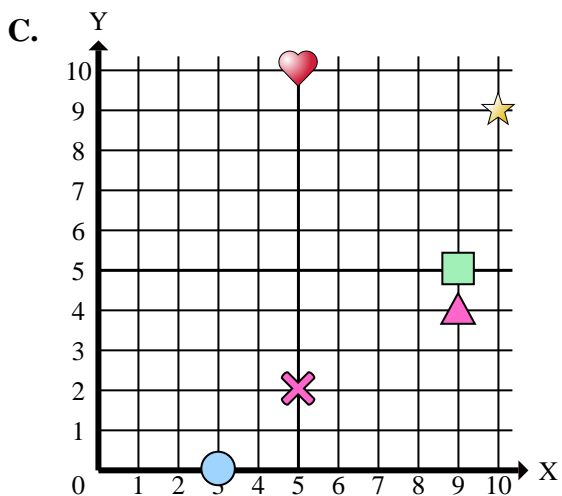
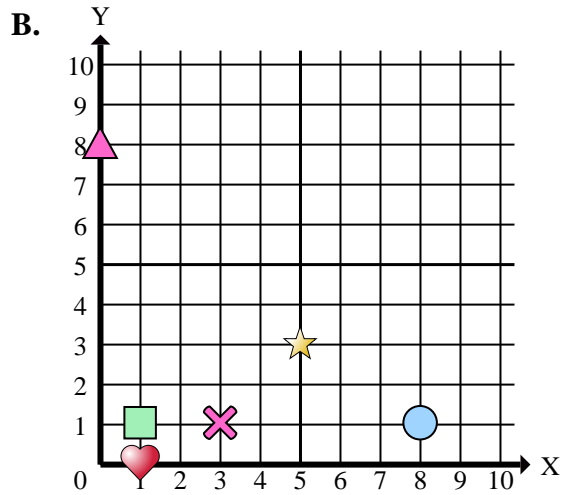
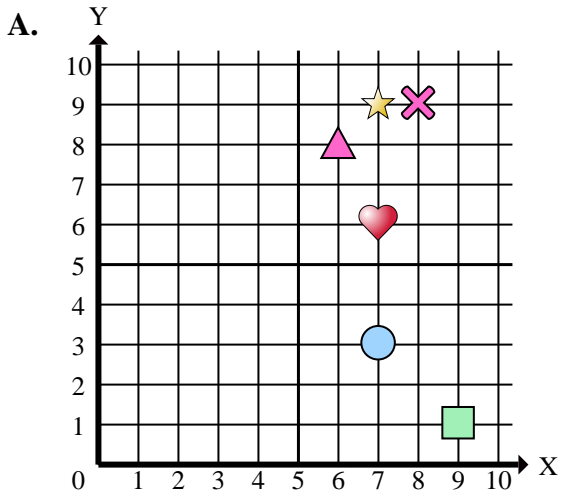
Antworten

1. \_\_\_\_\_
2. \_\_\_\_\_
3. \_\_\_\_\_
4. \_\_\_\_\_
5. \_\_\_\_\_
6. \_\_\_\_\_
7. \_\_\_\_\_
8. \_\_\_\_\_
9. \_\_\_\_\_
10. \_\_\_\_\_
11. \_\_\_\_\_
12. \_\_\_\_\_
13. \_\_\_\_\_
14. \_\_\_\_\_
15. \_\_\_\_\_

- 1) Welches Koordinatenkreuz hat eine Figur bei (3 , 1)?
- 2) Welches Koordinatenkreuz hat eine Figur bei (9 , 4)?
- 3) Welches Koordinatenkreuz hat eine Figur bei (4 , 0)?
- 4) Welches Koordinatenkreuz hat eine Figur bei (9 , 1)?
- 5) Welches Koordinatenkreuz hat eine Figur bei (5 , 10)?
- 6) Welches Koordinatenkreuz hat eine Figur bei (7 , 6)?
- 7) Welches Koordinatenkreuz hat eine Figur bei (1 , 1)?
- 8) Welches Koordinatenkreuz hat eine Figur bei (5 , 2)?
- 9) Welches Koordinatenkreuz hat eine Figur bei (6 , 4)?
- 10) Welches Koordinatenkreuz hat eine Figur bei (5 , 3)?
- 11) Welches Koordinatenkreuz hat eine Figur bei (1 , 0)?
- 12) Welches Koordinatenkreuz hat eine Figur bei (7 , 8)?
- 13) Welches Koordinatenkreuz hat eine Figur bei (10 , 3)?
- 14) Welches Koordinatenkreuz hat eine Figur bei (7 , 3)?
- 15) Welches Koordinatenkreuz hat eine Figur bei (10 , 9)?



Stelle fest, welches Koordinatenkreuz jede Frage beantwortet.



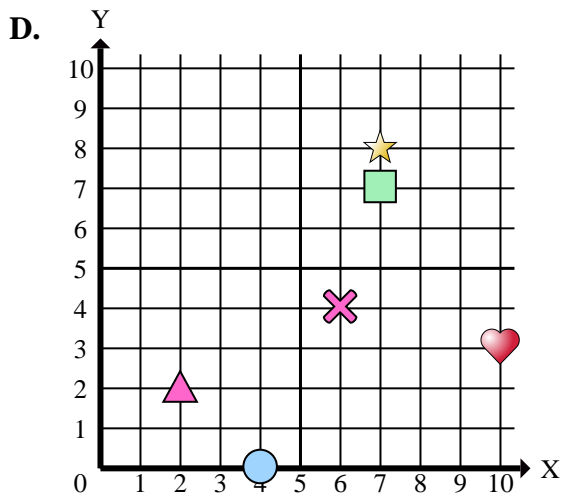
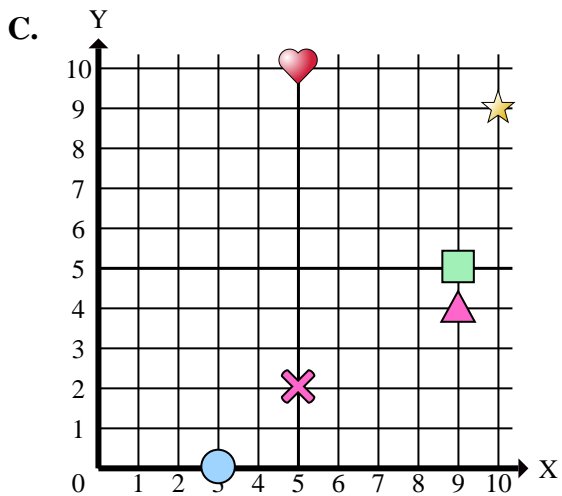
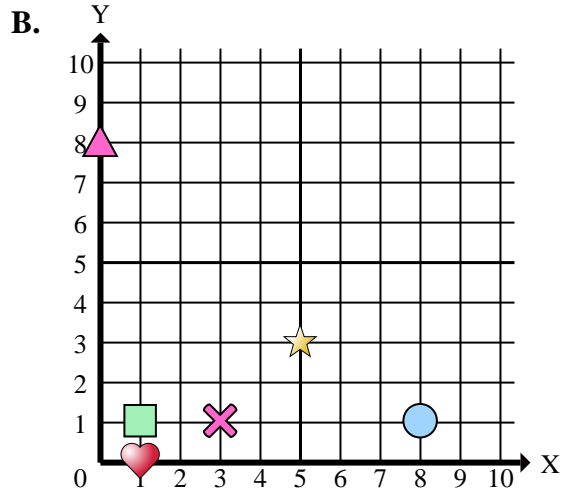
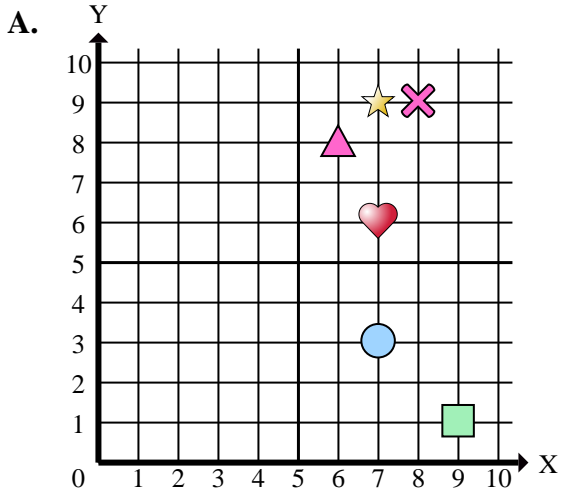
Antworten

1.     **B**
2.     **C**
3.     **D**
4.     **A**
5.     **C**
6.     **A**
7.     **B**
8.     **C**
9.     **D**
10.     **B**
11.     **B**
12.     **D**
13.     **D**
14.     **A**
15.     **C**

- 1) Welches Koordinatenkreuz hat eine Figur bei (3 , 1)?
- 2) Welches Koordinatenkreuz hat eine Figur bei (9 , 4)?
- 3) Welches Koordinatenkreuz hat eine Figur bei (4 , 0)?
- 4) Welches Koordinatenkreuz hat eine Figur bei (9 , 1)?
- 5) Welches Koordinatenkreuz hat eine Figur bei (5 , 10)?
- 6) Welches Koordinatenkreuz hat eine Figur bei (7 , 6)?
- 7) Welches Koordinatenkreuz hat eine Figur bei (1 , 1)?
- 8) Welches Koordinatenkreuz hat eine Figur bei (5 , 2)?
- 9) Welches Koordinatenkreuz hat eine Figur bei (6 , 4)?
- 10) Welches Koordinatenkreuz hat eine Figur bei (5 , 3)?
- 11) Welches Koordinatenkreuz hat eine Figur bei (1 , 0)?
- 12) Welches Koordinatenkreuz hat eine Figur bei (7 , 8)?
- 13) Welches Koordinatenkreuz hat eine Figur bei (10 , 3)?
- 14) Welches Koordinatenkreuz hat eine Figur bei (7 , 3)?
- 15) Welches Koordinatenkreuz hat eine Figur bei (10 , 9)?



Stelle fest, welches Koordinatenkreuz jede Frage beantwortet.



Antworten

1. \_\_\_\_\_
2. \_\_\_\_\_
3. \_\_\_\_\_
4. \_\_\_\_\_
5. \_\_\_\_\_
6. \_\_\_\_\_
7. \_\_\_\_\_
8. \_\_\_\_\_
9. \_\_\_\_\_
10. \_\_\_\_\_

- 1) Welches Koordinatenkreuz hat ein Kreuz bei (3 , 1)?
- 2) Welches Koordinatenkreuz hat ein Dreieck bei (9 , 4)?
- 3) Welches Koordinatenkreuz hat einen Kreis bei (4 , 0)?
- 4) Welches Koordinatenkreuz hat ein Rechteck bei (9 , 1)?
- 5) Welches Koordinatenkreuz hat ein Herz bei (5 , 10)?
- 6) Welches Koordinatenkreuz hat ein Herz bei (7 , 6)?
- 7) Welches Koordinatenkreuz hat ein Rechteck bei (1 , 1)?
- 8) Welches Koordinatenkreuz hat ein Kreuz bei (5 , 2)?
- 9) Welches Koordinatenkreuz hat ein Kreuz bei (6 , 4)?
- 10) Welches Koordinatenkreuz hat einen Stern bei (5 , 3)?