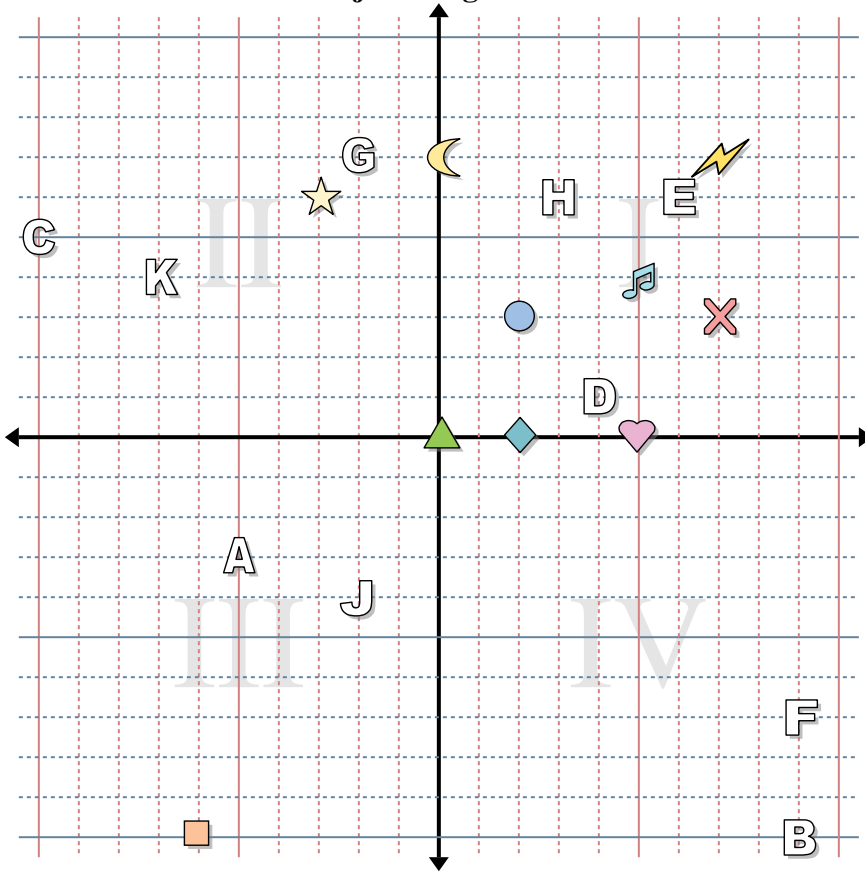




Bestimme die Koordinaten jeder Figur.



Antworten

1. _____
2. _____
3. _____
4. _____
5. _____
6. _____
7. _____
8. _____
9. _____
10. _____
11. _____
12. _____
13. _____
14. _____
15. _____
16. _____
17. _____
18. _____
19. _____
20. _____

Bestimme die Koordinaten jeder Figur.

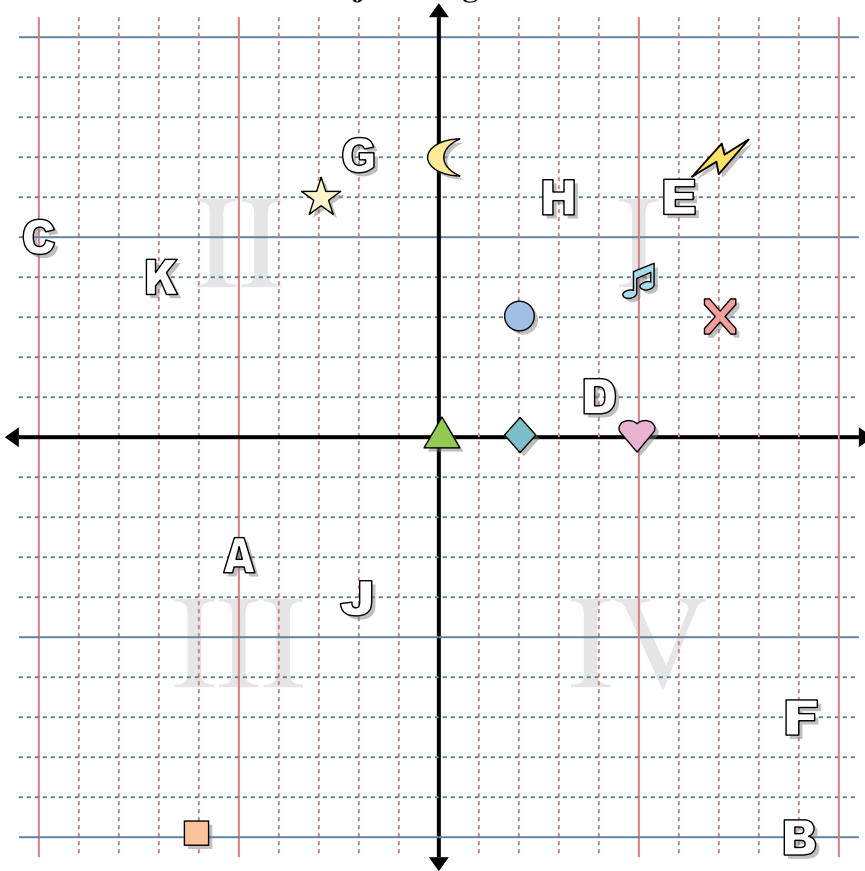
- | | |
|------------|---------------|
| 1) Stern | 2) Blitz |
| 3) Kreis | 4) Herz |
| 5) Kreuz | 6) Dreieck |
| 7) Mond | 8) Quadrat |
| 9) Diamant | 10) Musiknote |

Bestimme den Buchstaben, der bei jeder Koordinate ist.

- | | |
|---------------|---------------|
| 11) (6 , 6) | 12) (-7 , 4) |
| 13) (9 , -7) | 14) (-5 , -3) |
| 15) (-10 , 5) | 16) (-2 , -4) |
| 17) (3 , 6) | 18) (9 , -10) |
| 19) (4 , 1) | 20) (-2 , 7) |



Bestimme die Koordinaten jeder Figur.



Bestimme die Koordinaten jeder Figur.

- | | |
|------------|---------------|
| 1) Stern | 2) Blitz |
| 3) Kreis | 4) Herz |
| 5) Kreuz | 6) Dreieck |
| 7) Mond | 8) Quadrat |
| 9) Diamant | 10) Musiknote |

Bestimme den Buchstaben, der bei jeder Koordinate ist.

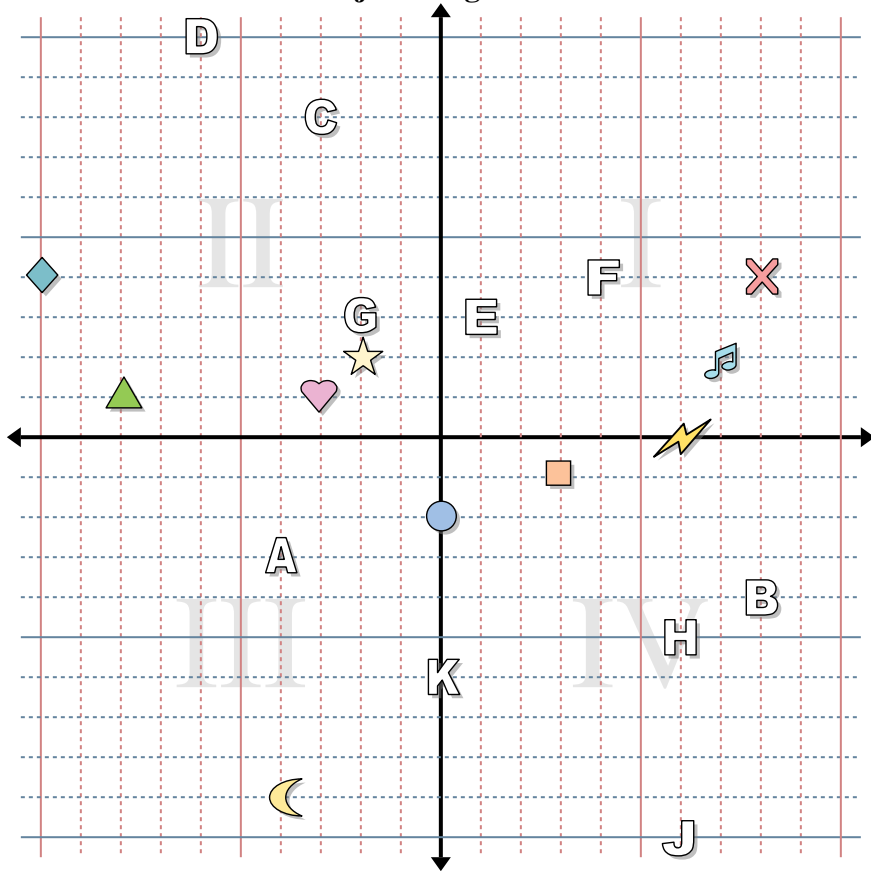
- | | |
|--------------|--------------|
| 11) (6, 6) | 12) (-7, 4) |
| 13) (9, -7) | 14) (-5, -3) |
| 15) (-10, 5) | 16) (-2, -4) |
| 17) (3, 6) | 18) (9, -10) |
| 19) (4, 1) | 20) (-2, 7) |

Antworten

1. (-3, 6)
2. (7, 7)
3. (2, 3)
4. (5, 0)
5. (7, 3)
6. (0, 0)
7. (0, 7)
8. (-6, -10)
9. (2, 0)
10. (5, 4)
11. E
12. K
13. F
14. A
15. C
16. J
17. H
18. B
19. D
20. G



Bestimme die Koordinaten jeder Figur.



Antworten

1. _____
2. _____
3. _____
4. _____
5. _____
6. _____
7. _____
8. _____
9. _____
10. _____
11. _____
12. _____
13. _____
14. _____
15. _____
16. _____
17. _____
18. _____
19. _____
20. _____

Bestimme die Koordinaten jeder Figur.

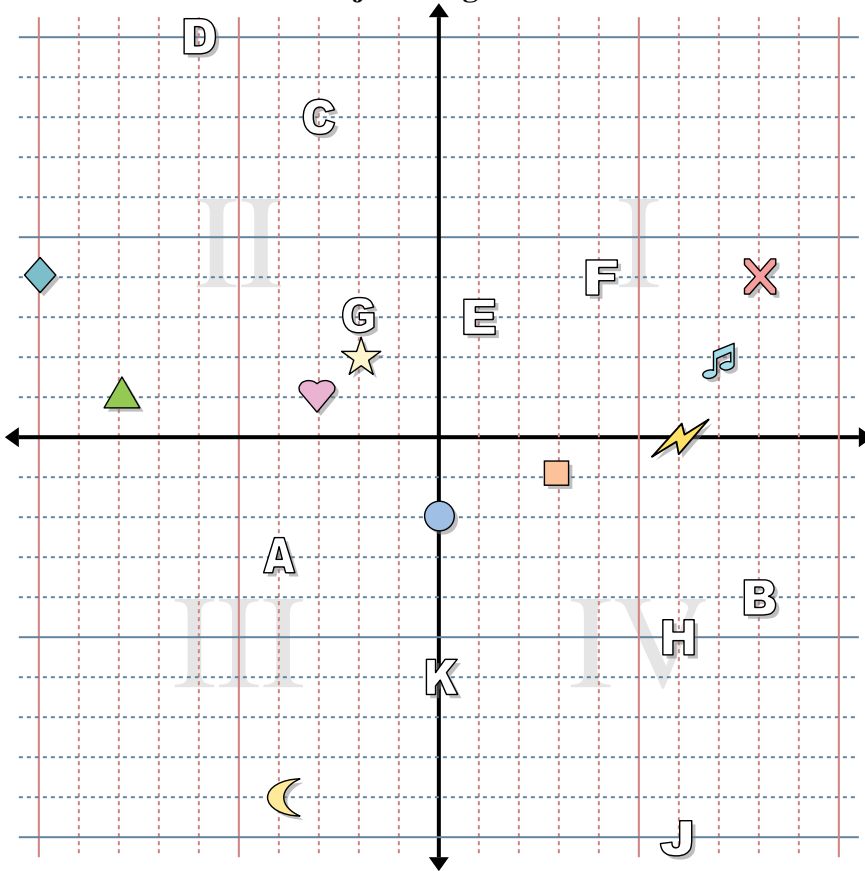
- | | |
|------------|---------------|
| 1) Stern | 2) Blitz |
| 3) Kreis | 4) Herz |
| 5) Kreuz | 6) Dreieck |
| 7) Mond | 8) Quadrat |
| 9) Diamant | 10) Musiknote |

Bestimme den Buchstaben, der bei jeder Koordinate ist.

- | | |
|---------------|---------------|
| 11) (6 , -5) | 12) (4 , 4) |
| 13) (1 , 3) | 14) (-3 , 8) |
| 15) (6 , -10) | 16) (-6 , 10) |
| 17) (-4 , -3) | 18) (8 , -4) |
| 19) (0 , -6) | 20) (-2 , 3) |



Bestimme die Koordinaten jeder Figur.



Bestimme die Koordinaten jeder Figur.

- | | |
|------------|---------------|
| 1) Stern | 2) Blitz |
| 3) Kreis | 4) Herz |
| 5) Kreuz | 6) Dreieck |
| 7) Mond | 8) Quadrat |
| 9) Diamant | 10) Musiknote |

Bestimme den Buchstaben, der bei jeder Koordinate ist.

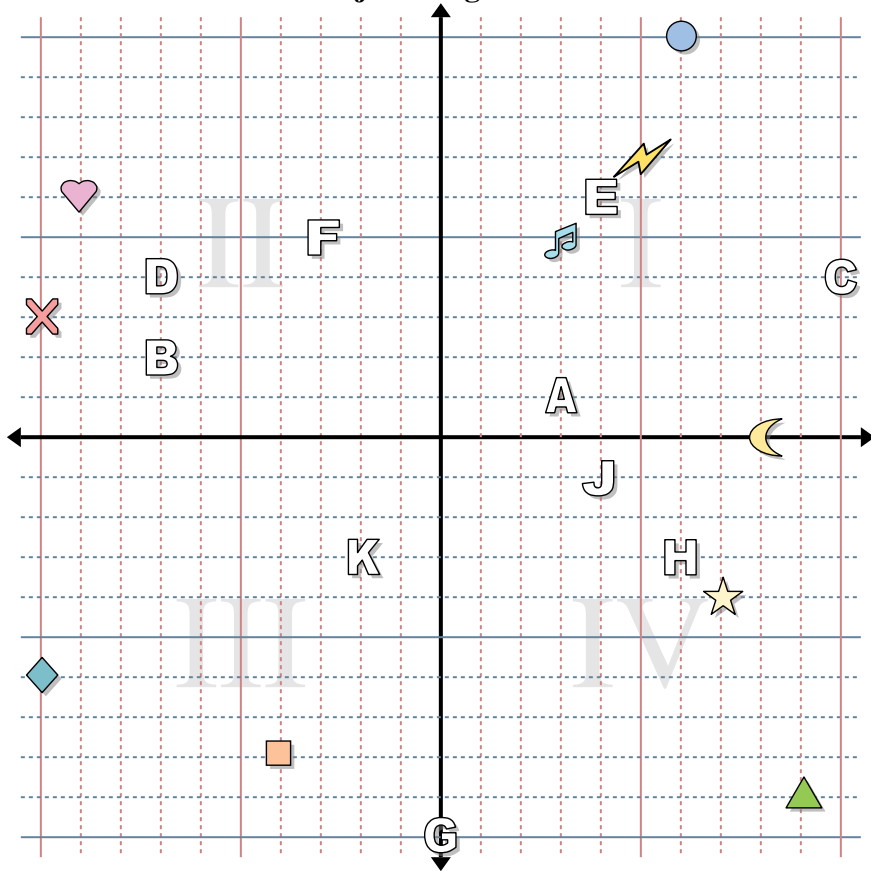
- | | |
|--------------|--------------|
| 11) (6, -5) | 12) (4, 4) |
| 13) (1, 3) | 14) (-3, 8) |
| 15) (6, -10) | 16) (-6, 10) |
| 17) (-4, -3) | 18) (8, -4) |
| 19) (0, -6) | 20) (-2, 3) |

Antworten

1. (-2, 2)
2. (6, 0)
3. (0, -2)
4. (-3, 1)
5. (8, 4)
6. (-8, 1)
7. (-4, -9)
8. (3, -1)
9. (-10, 4)
10. (7, 2)
11. H
12. F
13. E
14. C
15. J
16. D
17. A
18. B
19. K
20. G



Bestimme die Koordinaten jeder Figur.



Antworten

1. _____
2. _____
3. _____
4. _____
5. _____
6. _____
7. _____
8. _____
9. _____
10. _____
11. _____
12. _____
13. _____
14. _____
15. _____
16. _____
17. _____
18. _____
19. _____
20. _____

Bestimme die Koordinaten jeder Figur.

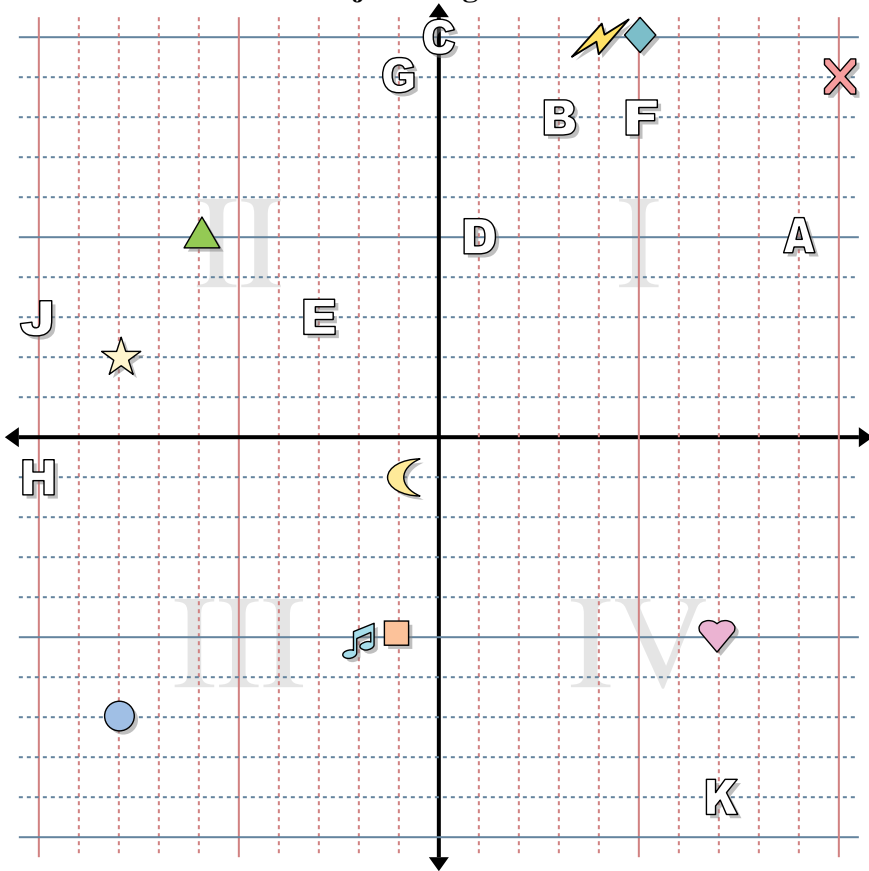
- | | |
|------------|---------------|
| 1) Stern | 2) Blitz |
| 3) Kreis | 4) Herz |
| 5) Kreuz | 6) Dreieck |
| 7) Mond | 8) Quadrat |
| 9) Diamant | 10) Musiknote |

Bestimme den Buchstaben, der bei jeder Koordinate ist.

- | | |
|---------------|---------------|
| 11) (-2 , -3) | 12) (-7 , 2) |
| 13) (4 , -1) | 14) (10 , 4) |
| 15) (-3 , 5) | 16) (-7 , 4) |
| 17) (4 , 6) | 18) (6 , -3) |
| 19) (3 , 1) | 20) (0 , -10) |



Bestimme die Koordinaten jeder Figur.



Antworten

1. _____
2. _____
3. _____
4. _____
5. _____
6. _____
7. _____
8. _____
9. _____
10. _____
11. _____
12. _____
13. _____
14. _____
15. _____
16. _____
17. _____
18. _____
19. _____
20. _____

Bestimme die Koordinaten jeder Figur.

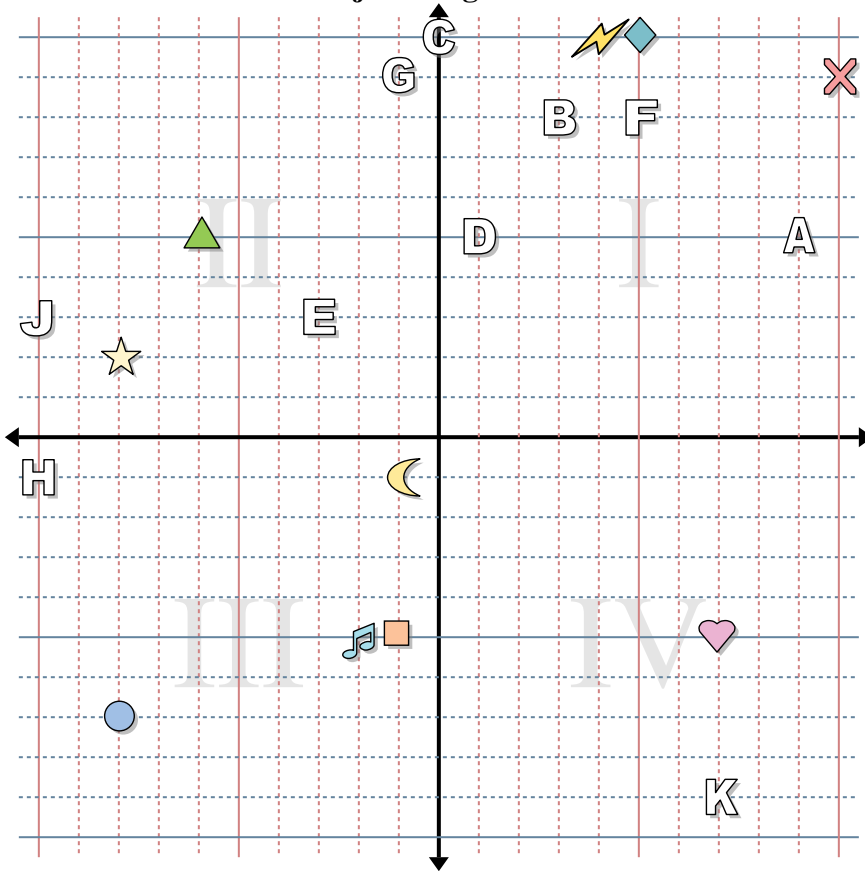
- | | |
|------------|---------------|
| 1) Stern | 2) Blitz |
| 3) Kreis | 4) Herz |
| 5) Kreuz | 6) Dreieck |
| 7) Mond | 8) Quadrat |
| 9) Diamant | 10) Musiknote |

Bestimme den Buchstaben, der bei jeder Koordinate ist.

- | | |
|----------------|--------------|
| 11) (7 , -9) | 12) (-1 , 9) |
| 13) (-10 , -1) | 14) (1 , 5) |
| 15) (9 , 5) | 16) (3 , 8) |
| 17) (0 , 10) | 18) (-3 , 3) |
| 19) (-10 , 3) | 20) (5 , 8) |



Bestimme die Koordinaten jeder Figur.



Bestimme die Koordinaten jeder Figur.

- | | |
|------------|---------------|
| 1) Stern | 2) Blitz |
| 3) Kreis | 4) Herz |
| 5) Kreuz | 6) Dreieck |
| 7) Mond | 8) Quadrat |
| 9) Diamant | 10) Musiknote |

Bestimme den Buchstaben, der bei jeder Koordinate ist.

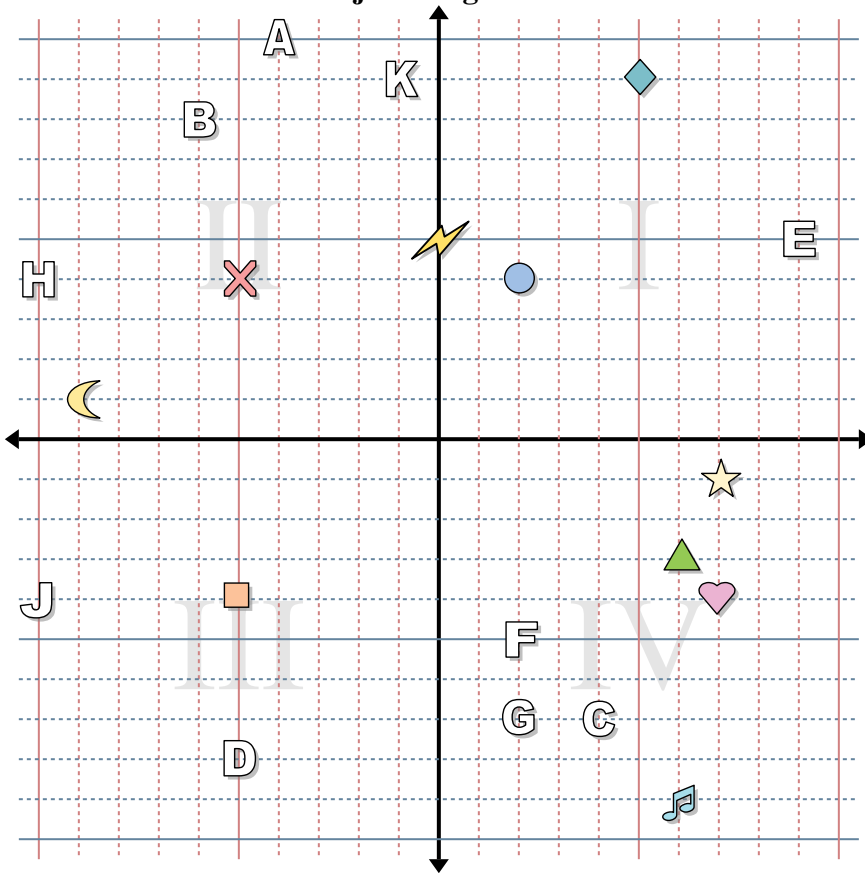
- | | |
|---------------|-------------|
| 11) (7, -9) | 12) (-1, 9) |
| 13) (-10, -1) | 14) (1, 5) |
| 15) (9, 5) | 16) (3, 8) |
| 17) (0, 10) | 18) (-3, 3) |
| 19) (-10, 3) | 20) (5, 8) |

Antworten

1. **(-8, 2)**
2. **(4, 10)**
3. **(-8, -7)**
4. **(7, -5)**
5. **(10, 9)**
6. **(-6, 5)**
7. **(-1, -1)**
8. **(-1, -5)**
9. **(5, 10)**
10. **(-2, -5)**
11. **K**
12. **G**
13. **H**
14. **D**
15. **A**
16. **B**
17. **C**
18. **E**
19. **J**
20. **F**



Bestimme die Koordinaten jeder Figur.



Antworten

1. _____
2. _____
3. _____
4. _____
5. _____
6. _____
7. _____
8. _____
9. _____
10. _____
11. _____
12. _____
13. _____
14. _____
15. _____
16. _____
17. _____
18. _____
19. _____
20. _____

Bestimme die Koordinaten jeder Figur.

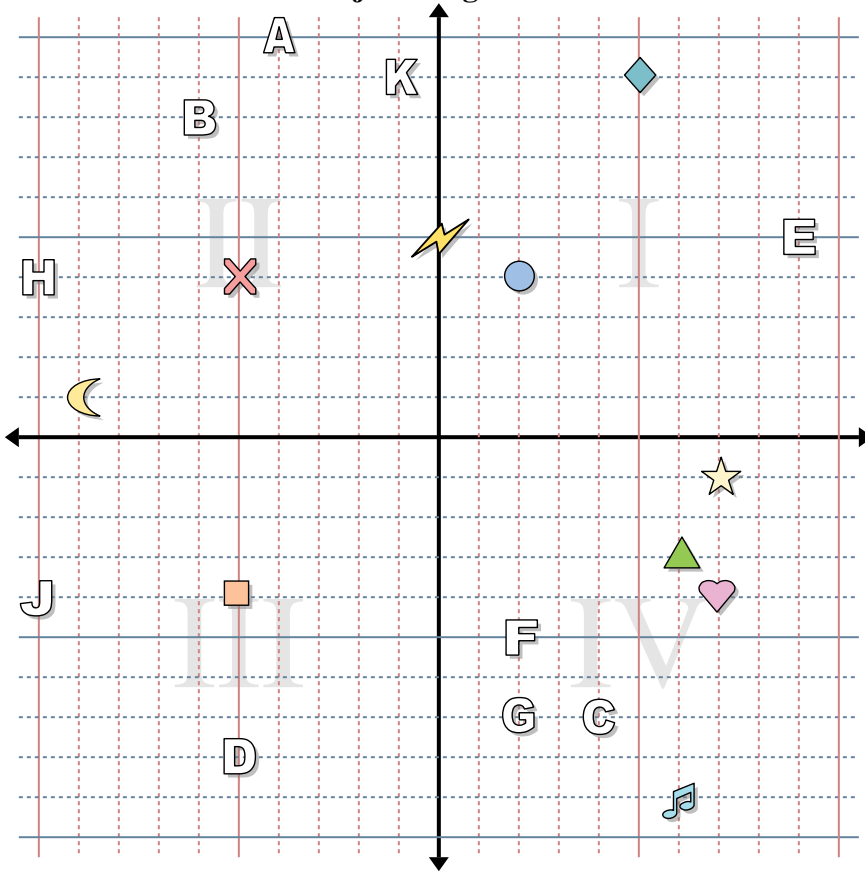
- | | |
|------------|---------------|
| 1) Stern | 2) Blitz |
| 3) Kreis | 4) Herz |
| 5) Kreuz | 6) Dreieck |
| 7) Mond | 8) Quadrat |
| 9) Diamant | 10) Musiknote |

Bestimme den Buchstaben, der bei jeder Koordinate ist.

- | | |
|----------------|---------------|
| 11) (2 , -5) | 12) (-5 , -8) |
| 13) (-1 , 9) | 14) (-6 , 8) |
| 15) (-10 , 4) | 16) (-4 , 10) |
| 17) (2 , -7) | 18) (4 , -7) |
| 19) (-10 , -4) | 20) (9 , 5) |



Bestimme die Koordinaten jeder Figur.

**Antworten**1. (7, -1)2. (0, 5)3. (2, 4)4. (7, -4)5. (-5, 4)6. (6, -3)7. (-9, 1)8. (-5, -4)9. (5, 9)10. (6, -9)11. F12. D13. K14. B15. H16. A17. G18. C19. J20. E

Bestimme die Koordinaten jeder Figur.

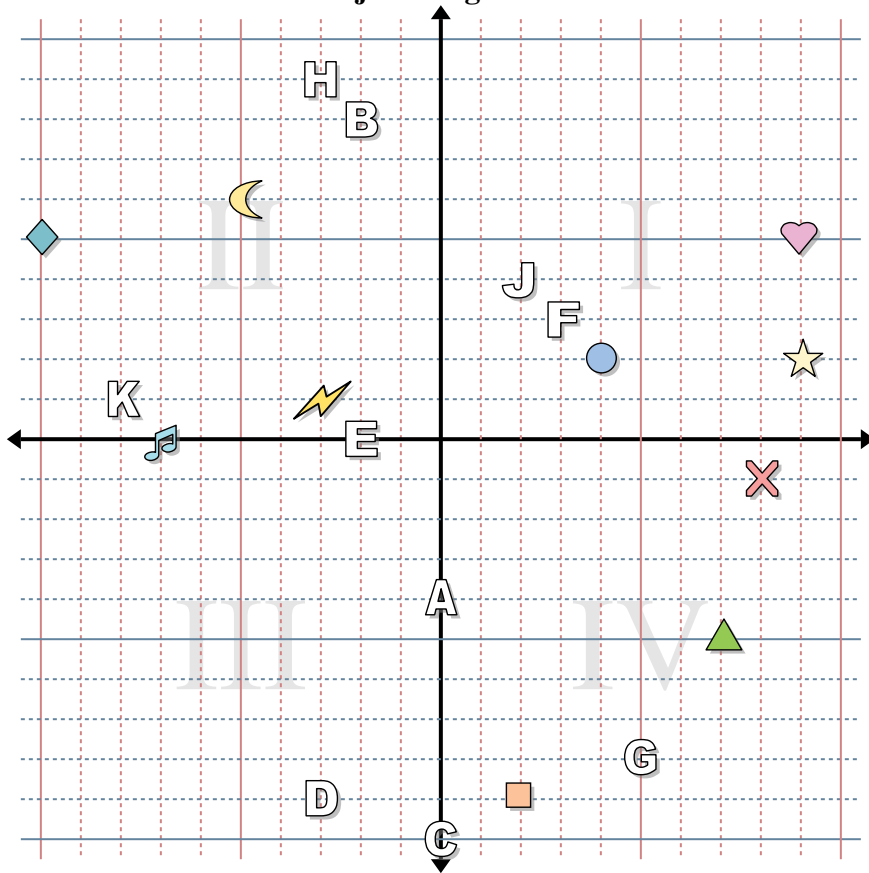
- | | |
|------------|---------------|
| 1) Stern | 2) Blitz |
| 3) Kreis | 4) Herz |
| 5) Kreuz | 6) Dreieck |
| 7) Mond | 8) Quadrat |
| 9) Diamant | 10) Musiknote |

Bestimme den Buchstaben, der bei jeder Koordinate ist.

- | | |
|---------------|--------------|
| 11) (2, -5) | 12) (-5, -8) |
| 13) (-1, 9) | 14) (-6, 8) |
| 15) (-10, 4) | 16) (-4, 10) |
| 17) (2, -7) | 18) (4, -7) |
| 19) (-10, -4) | 20) (9, 5) |



Bestimme die Koordinaten jeder Figur.



Antworten

1. _____
2. _____
3. _____
4. _____
5. _____
6. _____
7. _____
8. _____
9. _____
10. _____
11. _____
12. _____
13. _____
14. _____
15. _____
16. _____
17. _____
18. _____
19. _____
20. _____

Bestimme die Koordinaten jeder Figur.

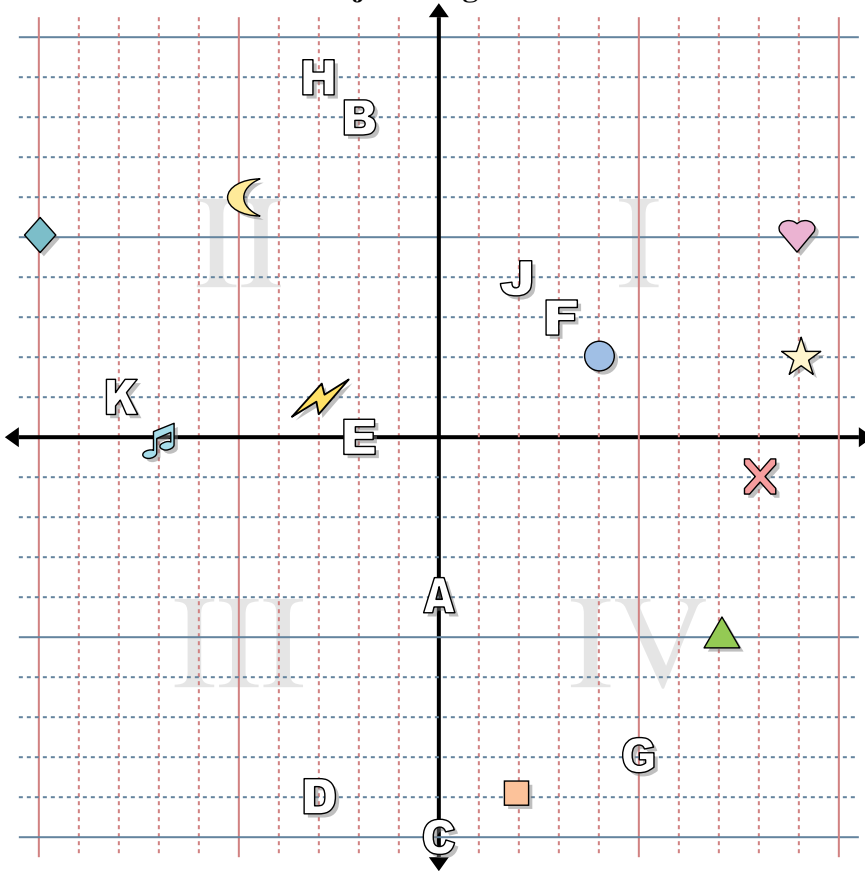
- | | |
|------------|---------------|
| 1) Stern | 2) Blitz |
| 3) Kreis | 4) Herz |
| 5) Kreuz | 6) Dreieck |
| 7) Mond | 8) Quadrat |
| 9) Diamant | 10) Musiknote |

Bestimme den Buchstaben, der bei jeder Koordinate ist.

- | | |
|---------------|--------------|
| 11) (0 , -10) | 12) (5 , -8) |
| 13) (-2 , 0) | 14) (3 , 3) |
| 15) (-2 , 8) | 16) (-3 , 9) |
| 17) (-3 , -9) | 18) (0 , -4) |
| 19) (2 , 4) | 20) (-8 , 1) |



Bestimme die Koordinaten jeder Figur.



Bestimme die Koordinaten jeder Figur.

- | | |
|------------|---------------|
| 1) Stern | 2) Blitz |
| 3) Kreis | 4) Herz |
| 5) Kreuz | 6) Dreieck |
| 7) Mond | 8) Quadrat |
| 9) Diamant | 10) Musiknote |

Bestimme den Buchstaben, der bei jeder Koordinate ist.

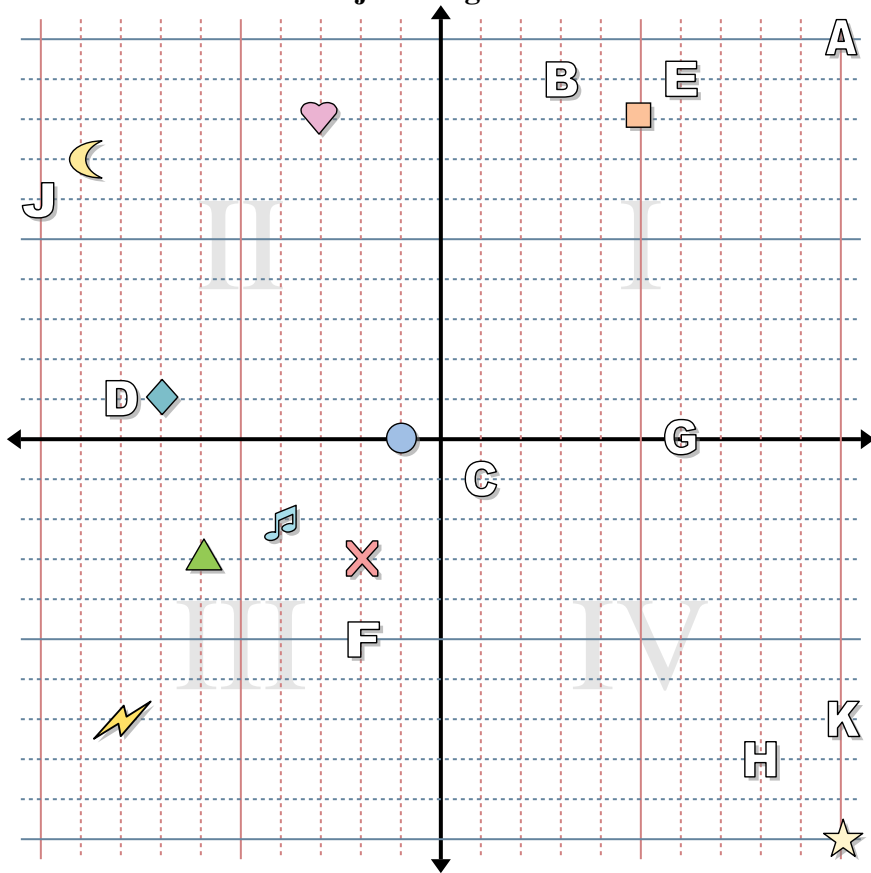
- | | |
|--------------|-------------|
| 11) (0, -10) | 12) (5, -8) |
| 13) (-2, 0) | 14) (3, 3) |
| 15) (-2, 8) | 16) (-3, 9) |
| 17) (-3, -9) | 18) (0, -4) |
| 19) (2, 4) | 20) (-8, 1) |

Antworten

1. (9, 2)
2. (-3, 1)
3. (4, 2)
4. (9, 5)
5. (8, -1)
6. (7, -5)
7. (-5, 6)
8. (2, -9)
9. (-10, 5)
10. (-7, 0)
11. C
12. G
13. E
14. F
15. B
16. H
17. D
18. A
19. J
20. K



Bestimme die Koordinaten jeder Figur.



Antworten

1. _____
2. _____
3. _____
4. _____
5. _____
6. _____
7. _____
8. _____
9. _____
10. _____
11. _____
12. _____
13. _____
14. _____
15. _____
16. _____
17. _____
18. _____
19. _____
20. _____

Bestimme die Koordinaten jeder Figur.

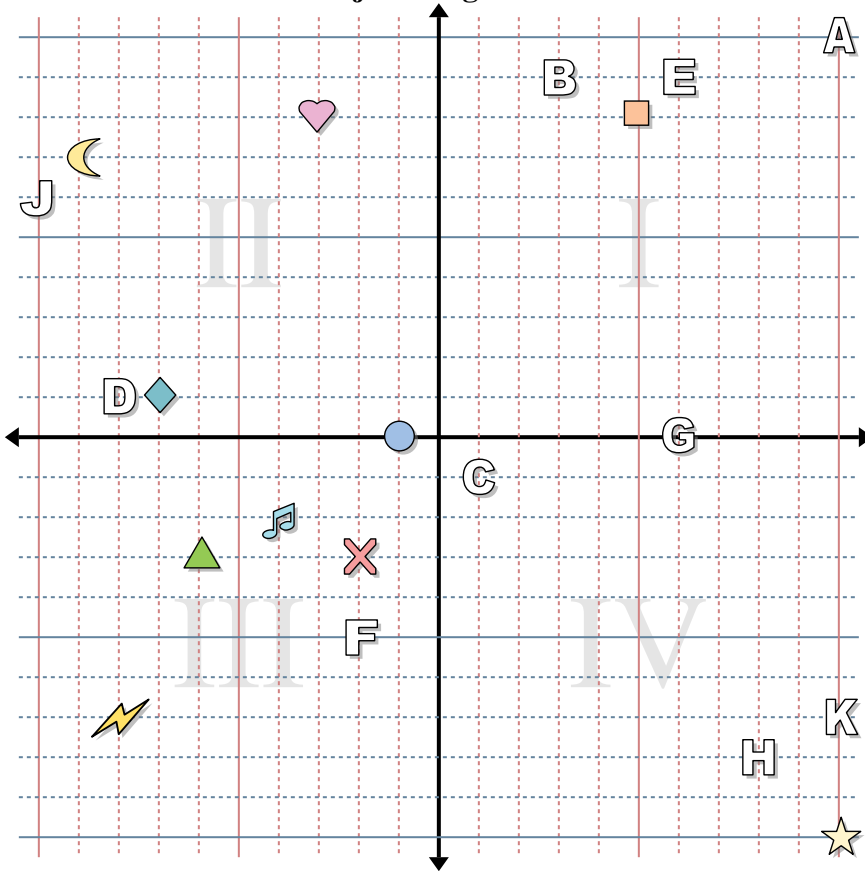
- | | |
|------------|---------------|
| 1) Stern | 2) Blitz |
| 3) Kreis | 4) Herz |
| 5) Kreuz | 6) Dreieck |
| 7) Mond | 8) Quadrat |
| 9) Diamant | 10) Musiknote |

Bestimme den Buchstaben, der bei jeder Koordinate ist.

- | | |
|---------------|---------------|
| 11) (10 , -7) | 12) (1 , -1) |
| 13) (6 , 0) | 14) (10 , 10) |
| 15) (3 , 9) | 16) (-2 , -5) |
| 17) (6 , 9) | 18) (8 , -8) |
| 19) (-8 , 1) | 20) (-10 , 6) |



Bestimme die Koordinaten jeder Figur.

**Antworten**

1. (10 , -10)
2. (-8 , -7)
3. (-1 , 0)
4. (-3 , 8)
5. (-2 , -3)
6. (-6 , -3)
7. (-9 , 7)
8. (5 , 8)
9. (-7 , 1)
10. (-4 , -2)
11. K
12. C
13. G
14. A
15. B
16. F
17. E
18. H
19. D
20. J

Bestimme die Koordinaten jeder Figur.

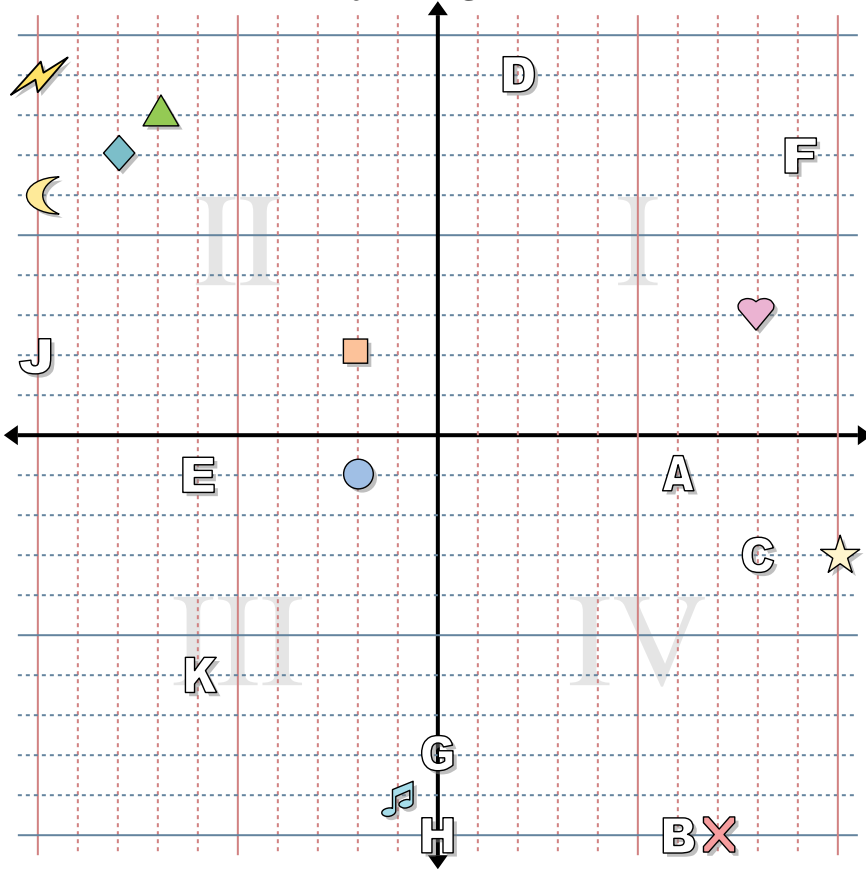
- | | |
|------------|---------------|
| 1) Stern | 2) Blitz |
| 3) Kreis | 4) Herz |
| 5) Kreuz | 6) Dreieck |
| 7) Mond | 8) Quadrat |
| 9) Diamant | 10) Musiknote |

Bestimme den Buchstaben, der bei jeder Koordinate ist.

- | | |
|---------------|---------------|
| 11) (10 , -7) | 12) (1 , -1) |
| 13) (6 , 0) | 14) (10 , 10) |
| 15) (3 , 9) | 16) (-2 , -5) |
| 17) (6 , 9) | 18) (8 , -8) |
| 19) (-8 , 1) | 20) (-10 , 6) |



Bestimme die Koordinaten jeder Figur.



Antworten

1. _____
2. _____
3. _____
4. _____
5. _____
6. _____
7. _____
8. _____
9. _____
10. _____
11. _____
12. _____
13. _____
14. _____
15. _____
16. _____
17. _____
18. _____
19. _____
20. _____

Bestimme die Koordinaten jeder Figur.

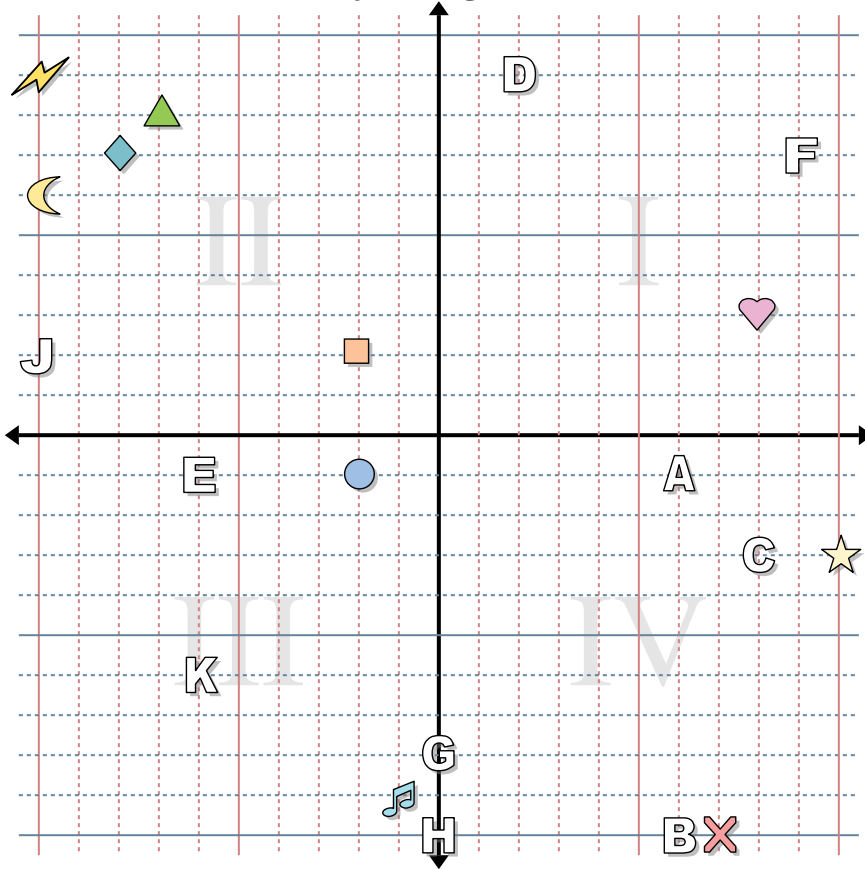
- | | |
|------------|---------------|
| 1) Stern | 2) Blitz |
| 3) Kreis | 4) Herz |
| 5) Kreuz | 6) Dreieck |
| 7) Mond | 8) Quadrat |
| 9) Diamant | 10) Musiknote |

Bestimme den Buchstaben, der bei jeder Koordinate ist.

- | | |
|---------------|---------------|
| 11) (9 , 7) | 12) (6 , -10) |
| 13) (-10 , 2) | 14) (8 , -3) |
| 15) (0 , -8) | 16) (2 , 9) |
| 17) (-6 , -1) | 18) (0 , -10) |
| 19) (6 , -1) | 20) (-6 , -6) |



Bestimme die Koordinaten jeder Figur.



Bestimme die Koordinaten jeder Figur.

- | | |
|------------|---------------|
| 1) Stern | 2) Blitz |
| 3) Kreis | 4) Herz |
| 5) Kreuz | 6) Dreieck |
| 7) Mond | 8) Quadrat |
| 9) Diamant | 10) Musiknote |

Bestimme den Buchstaben, der bei jeder Koordinate ist.

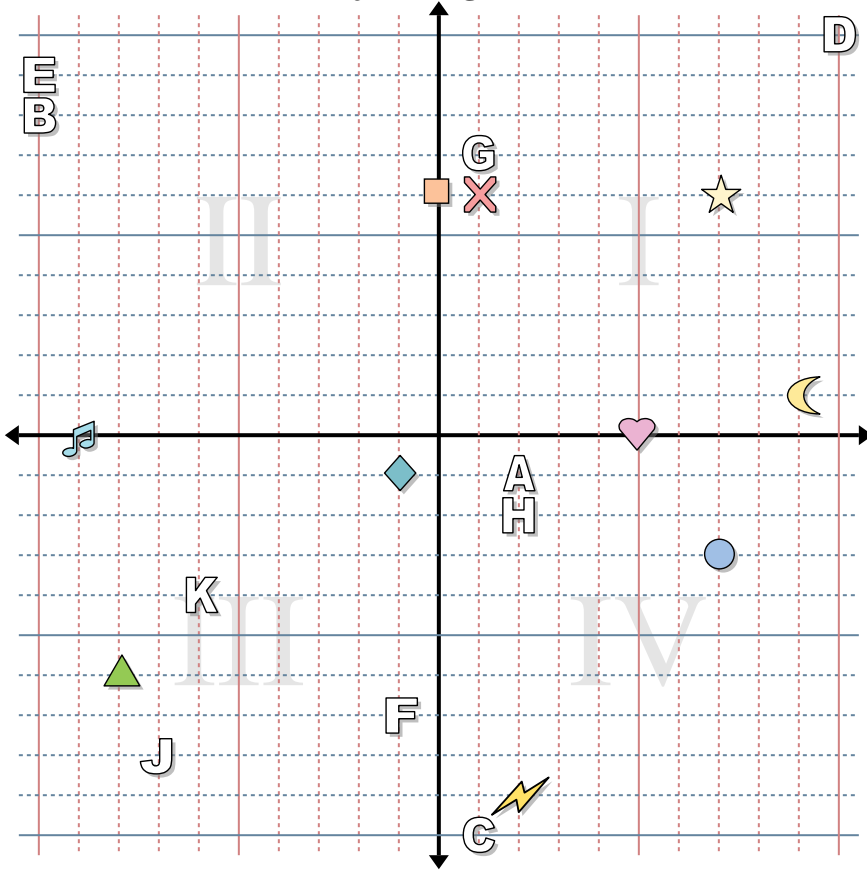
- | | |
|--------------|--------------|
| 11) (9, 7) | 12) (6, -10) |
| 13) (-10, 2) | 14) (8, -3) |
| 15) (0, -8) | 16) (2, 9) |
| 17) (-6, -1) | 18) (0, -10) |
| 19) (6, -1) | 20) (-6, -6) |

Antworten

1. (10, -3)
2. (-10, 9)
3. (-2, -1)
4. (8, 3)
5. (7, -10)
6. (-7, 8)
7. (-10, 6)
8. (-2, 2)
9. (-8, 7)
10. (-1, -9)
11. **F**
12. **B**
13. **J**
14. **C**
15. **G**
16. **D**
17. **E**
18. **H**
19. **A**
20. **K**



Bestimme die Koordinaten jeder Figur.



Antworten

1. _____
2. _____
3. _____
4. _____
5. _____
6. _____
7. _____
8. _____
9. _____
10. _____
11. _____
12. _____
13. _____
14. _____
15. _____
16. _____
17. _____
18. _____
19. _____
20. _____

Bestimme die Koordinaten jeder Figur.

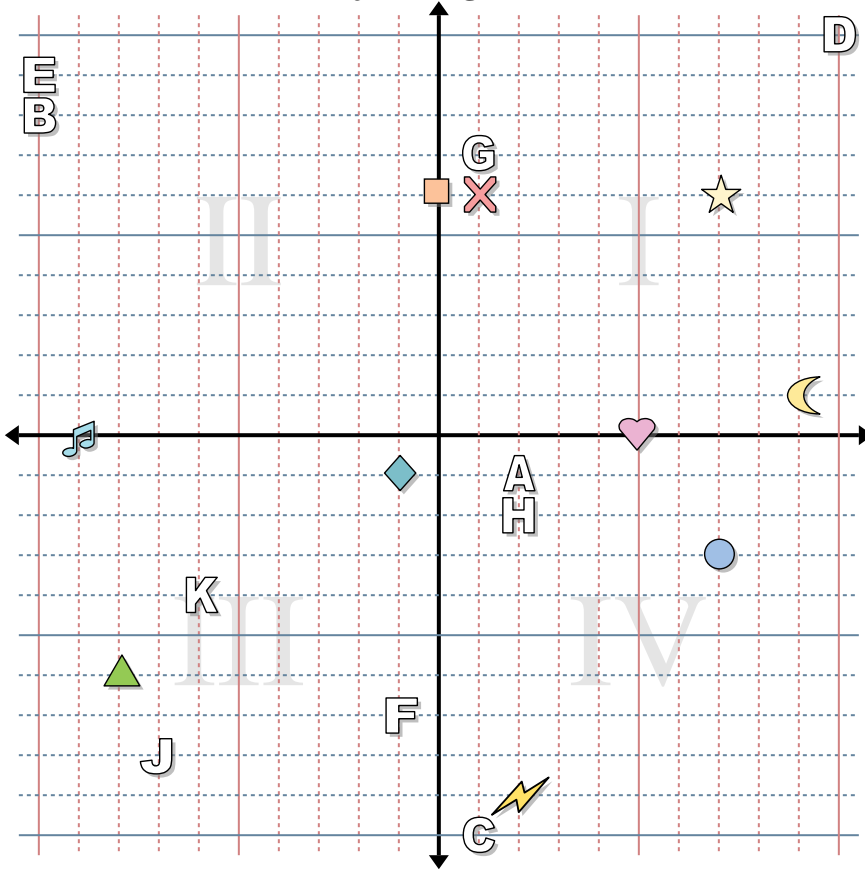
- | | |
|------------|---------------|
| 1) Stern | 2) Blitz |
| 3) Kreis | 4) Herz |
| 5) Kreuz | 6) Dreieck |
| 7) Mond | 8) Quadrat |
| 9) Diamant | 10) Musiknote |

Bestimme den Buchstaben, der bei jeder Koordinate ist.

- | | |
|---------------|---------------|
| 11) (-6 , -4) | 12) (10 , 10) |
| 13) (-1 , -7) | 14) (2 , -2) |
| 15) (1 , 7) | 16) (1 , -10) |
| 17) (-7 , -8) | 18) (-10 , 9) |
| 19) (2 , -1) | 20) (-10 , 8) |



Bestimme die Koordinaten jeder Figur.



Bestimme die Koordinaten jeder Figur.

- | | |
|------------|---------------|
| 1) Stern | 2) Blitz |
| 3) Kreis | 4) Herz |
| 5) Kreuz | 6) Dreieck |
| 7) Mond | 8) Quadrat |
| 9) Diamant | 10) Musiknote |

Bestimme den Buchstaben, der bei jeder Koordinate ist.

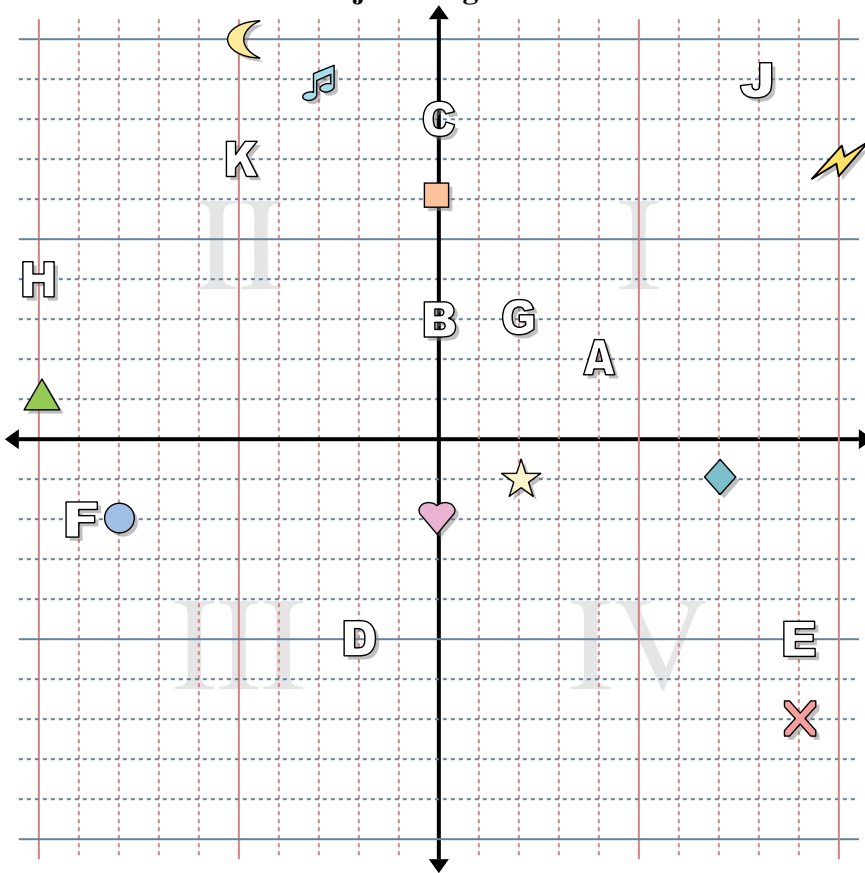
- | | |
|--------------|--------------|
| 11) (-6, -4) | 12) (10, 10) |
| 13) (-1, -7) | 14) (2, -2) |
| 15) (1, 7) | 16) (1, -10) |
| 17) (-7, -8) | 18) (-10, 9) |
| 19) (2, -1) | 20) (-10, 8) |

Antworten

1. (7, 6)
2. (2, -9)
3. (7, -3)
4. (5, 0)
5. (1, 6)
6. (-8, -6)
7. (9, 1)
8. (0, 6)
9. (-1, -1)
10. (-9, 0)
11. K
12. D
13. F
14. H
15. G
16. C
17. J
18. E
19. A
20. B



Bestimme die Koordinaten jeder Figur.



Antworten

1. _____
2. _____
3. _____
4. _____
5. _____
6. _____
7. _____
8. _____
9. _____
10. _____
11. _____
12. _____
13. _____
14. _____
15. _____
16. _____
17. _____
18. _____
19. _____
20. _____

Bestimme die Koordinaten jeder Figur.

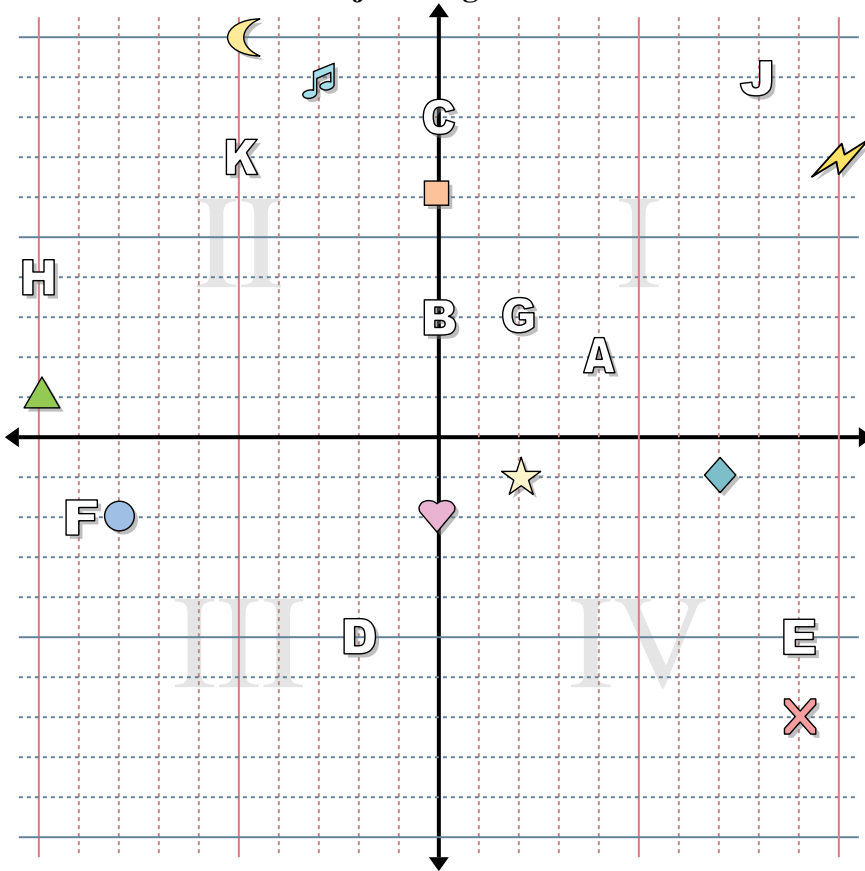
- | | |
|------------|---------------|
| 1) Stern | 2) Blitz |
| 3) Kreis | 4) Herz |
| 5) Kreuz | 6) Dreieck |
| 7) Mond | 8) Quadrat |
| 9) Diamant | 10) Musiknote |

Bestimme den Buchstaben, der bei jeder Koordinate ist.

- | | |
|---------------|--------------|
| 11) (-9 , -2) | 12) (0 , 3) |
| 13) (-2 , -5) | 14) (2 , 3) |
| 15) (-5 , 7) | 16) (4 , 2) |
| 17) (-10 , 4) | 18) (9 , -5) |
| 19) (0 , 8) | 20) (8 , 9) |



Bestimme die Koordinaten jeder Figur.

**Antworten**1. (2, -1)2. (10, 7)3. (-8, -2)4. (0, -2)5. (9, -7)6. (-10, 1)7. (-5, 10)8. (0, 6)9. (7, -1)10. (-3, 9)11. F12. B13. D14. G15. K16. A17. H18. E19. C20. J

Bestimme die Koordinaten jeder Figur.

- | | |
|------------|---------------|
| 1) Stern | 2) Blitz |
| 3) Kreis | 4) Herz |
| 5) Kreuz | 6) Dreieck |
| 7) Mond | 8) Quadrat |
| 9) Diamant | 10) Musiknote |

Bestimme den Buchstaben, der bei jeder Koordinate ist.

- | | |
|--------------|-------------|
| 11) (-9, -2) | 12) (0, 3) |
| 13) (-2, -5) | 14) (2, 3) |
| 15) (-5, 7) | 16) (4, 2) |
| 17) (-10, 4) | 18) (9, -5) |
| 19) (0, 8) | 20) (8, 9) |