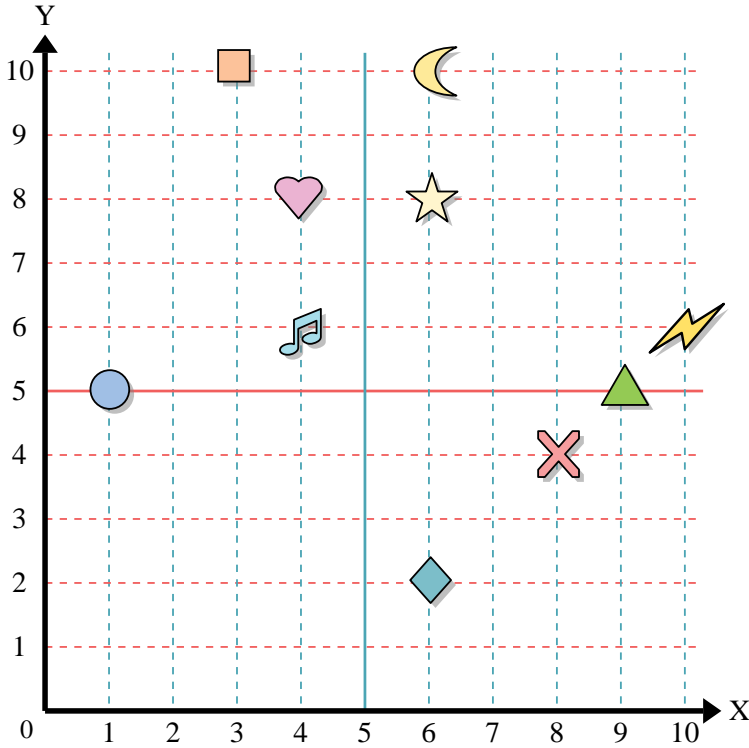




Benutze das Koordinatensystem um die Lage jeder Figur festzulegen.

Antworten

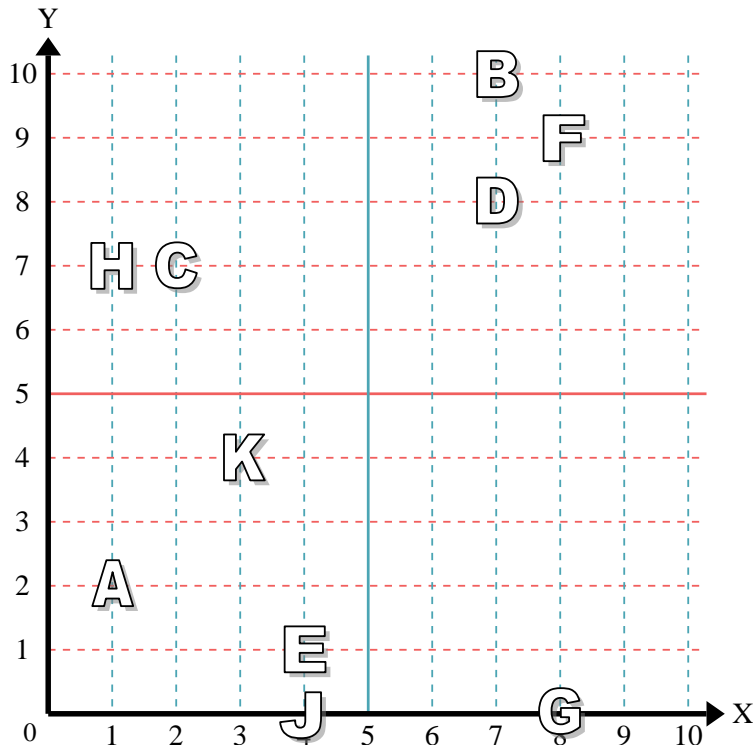


- 1) Stern _____
- 2) Blitz _____
- 3) Kreis _____
- 4) Herz _____
- 5) Kreuz _____
- 6) Dreieck _____
- 7) Mond _____
- 8) Quadrat _____
- 9) Diamant _____
- 10) Musiknote _____

- 1. _____
- 2. _____
- 3. _____
- 4. _____
- 5. _____
- 6. _____
- 7. _____
- 8. _____
- 9. _____
- 10. _____
- 11. _____
- 12. _____
- 13. _____
- 14. _____
- 15. _____
- 16. _____
- 17. _____
- 18. _____
- 19. _____
- 20. _____

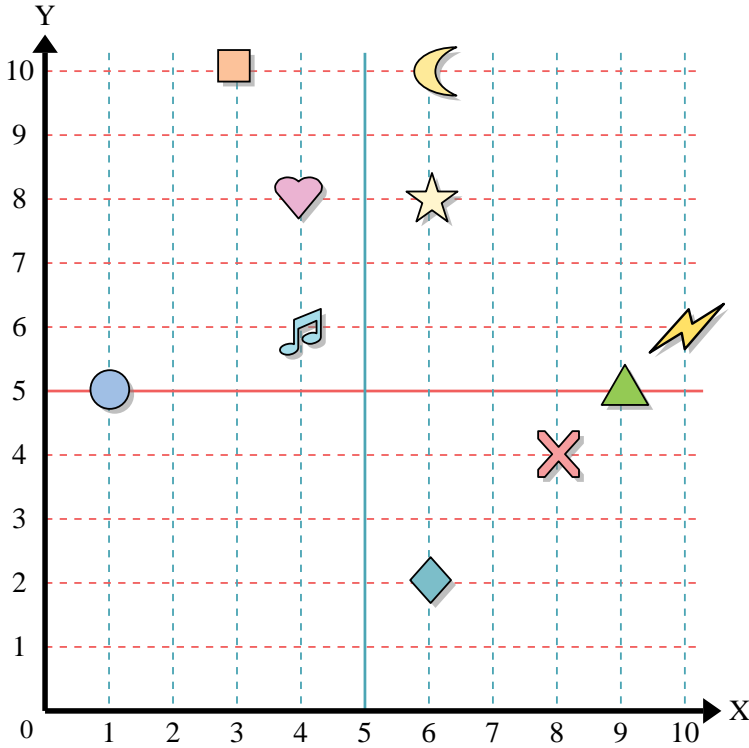
Stelle fest, welcher Buchstabe sich auf der Koordinate im Koordinatensystem unten befindet.

- 11) (4,0) _____
- 12) (8,0) _____
- 13) (1,2) _____
- 14) (1,7) _____
- 15) (7,10) _____
- 16) (4,1) _____
- 17) (8,9) _____
- 18) (7,8) _____
- 19) (2,7) _____
- 20) (3,4) _____





Benutze das Koordinatensystem um die Lage jeder Figur festzulegen.



- 1) Stern (6, 8)
- 2) Blitz (10, 6)
- 3) Kreis (1, 5)
- 4) Herz (4, 8)
- 5) Kreuz (8, 4)
- 6) Dreieck (9, 5)
- 7) Mond (6, 10)
- 8) Quadrat (3, 10)
- 9) Diamant (6, 2)
- 10) Musiknote (4, 6)

Antworten

- 1. (6, 8)
- 2. (10, 6)
- 3. (1, 5)
- 4. (4, 8)
- 5. (8, 4)
- 6. (9, 5)
- 7. (6, 10)
- 8. (3, 10)
- 9. (6, 2)
- 10. (4, 6)
- 11. J
- 12. G
- 13. A
- 14. H
- 15. B
- 16. E
- 17. F
- 18. D
- 19. C
- 20. K

Stelle fest, welcher Buchstabe sich auf der Koordinate im Koordinatensystem unten befindet.

- 11) (4,0) J
- 12) (8,0) G
- 13) (1,2) A
- 14) (1,7) H
- 15) (7,10) B
- 16) (4,1) E
- 17) (8,9) F
- 18) (7,8) D
- 19) (2,7) C
- 20) (3,4) K

