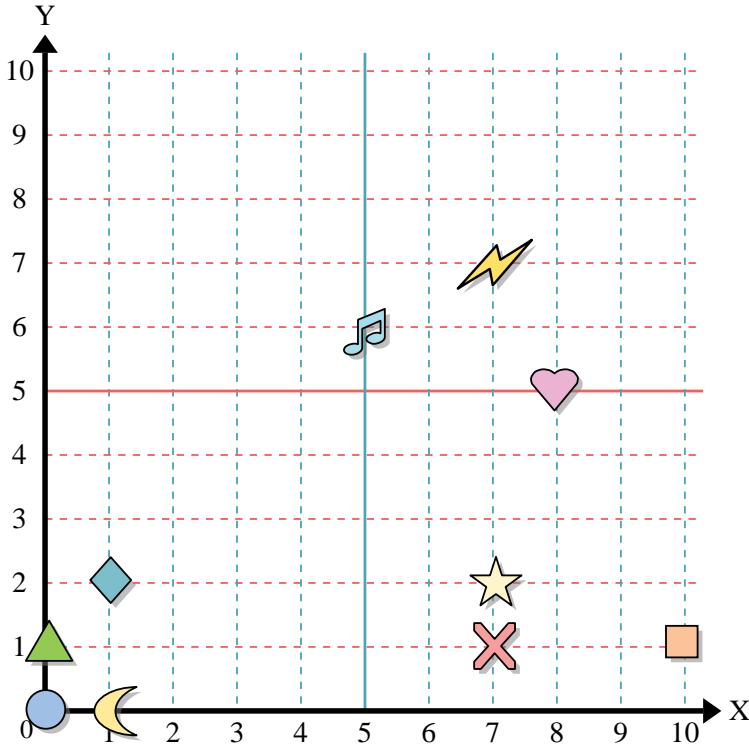




Benutze das Koordinatensystem um die Lage jeder Figur festzulegen.

Antworten

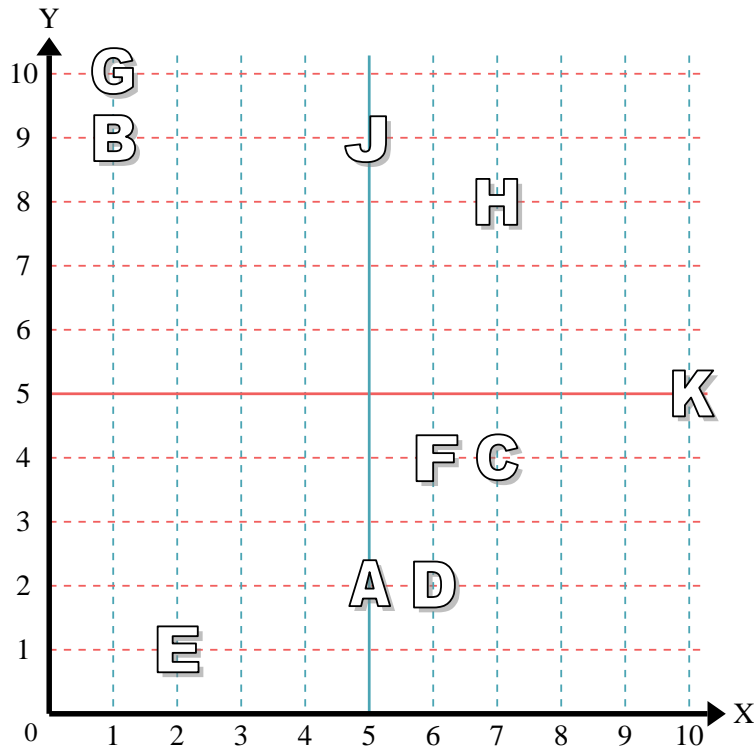


- 1) Stern _____
- 2) Blitz _____
- 3) Kreis _____
- 4) Herz _____
- 5) Kreuz _____
- 6) Dreieck _____
- 7) Mond _____
- 8) Quadrat _____
- 9) Diamant _____
- 10) Musiknote _____

- 1. _____
- 2. _____
- 3. _____
- 4. _____
- 5. _____
- 6. _____
- 7. _____
- 8. _____
- 9. _____
- 10. _____
- 11. _____
- 12. _____
- 13. _____
- 14. _____
- 15. _____
- 16. _____
- 17. _____
- 18. _____
- 19. _____
- 20. _____

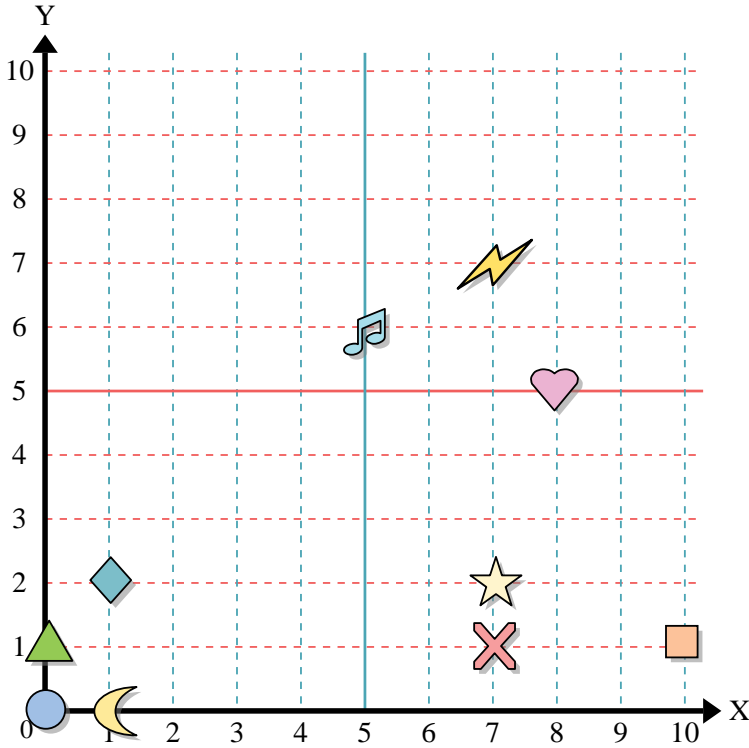
Stelle fest, welcher Buchstabe sich auf der Koordinate im Koordinatensystem unten befindet.

- 11) (7,8) _____
- 12) (1,10) _____
- 13) (5,9) _____
- 14) (10,5) _____
- 15) (7,4) _____
- 16) (1,9) _____
- 17) (5,2) _____
- 18) (2,1) _____
- 19) (6,4) _____
- 20) (6,2) _____





Benutze das Koordinatensystem um die Lage jeder Figur festzulegen.



- 1) Stern (7, 2)
- 2) Blitz (7, 7)
- 3) Kreis (0, 0)
- 4) Herz (8, 5)
- 5) Kreuz (7, 1)
- 6) Dreieck (0, 1)
- 7) Mond (1, 0)
- 8) Quadrat (10, 1)
- 9) Diamant (1, 2)
- 10) Musiknote (5, 6)

Antworten

- 1. (7, 2)
- 2. (7, 7)
- 3. (0, 0)
- 4. (8, 5)
- 5. (7, 1)
- 6. (0, 1)
- 7. (1, 0)
- 8. (10, 1)
- 9. (1, 2)
- 10. (5, 6)
- 11. H
- 12. G
- 13. J
- 14. K
- 15. C
- 16. B
- 17. A
- 18. E
- 19. F
- 20. D

Stelle fest, welcher Buchstabe sich auf der Koordinate im Koordinatensystem unten befindet.

- 11) (7,8) H
- 12) (1,10) G
- 13) (5,9) J
- 14) (10,5) K
- 15) (7,4) C
- 16) (1,9) B
- 17) (5,2) A
- 18) (2,1) E
- 19) (6,4) F
- 20) (6,2) D

