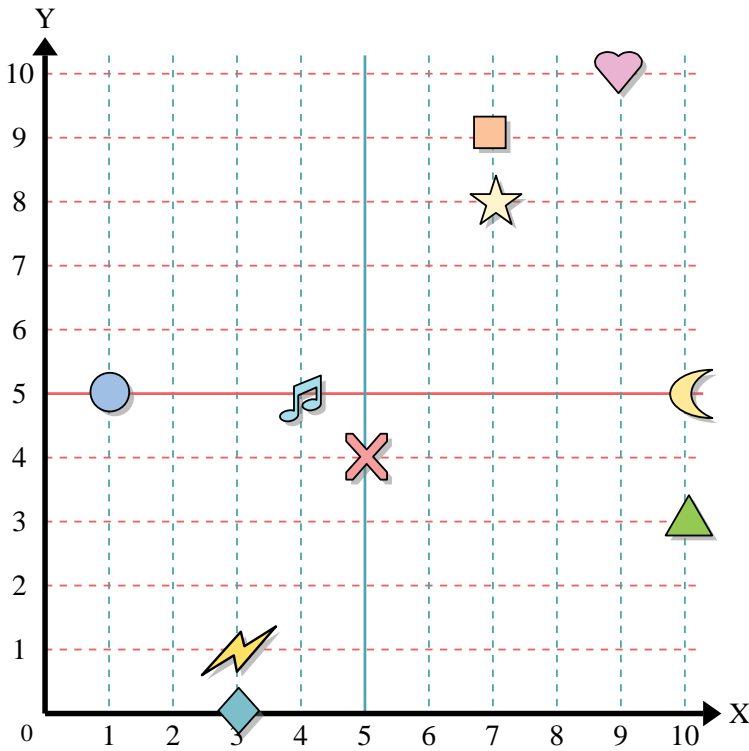




Benutze das Koordinatensystem um die Lage jeder Figur festzulegen.



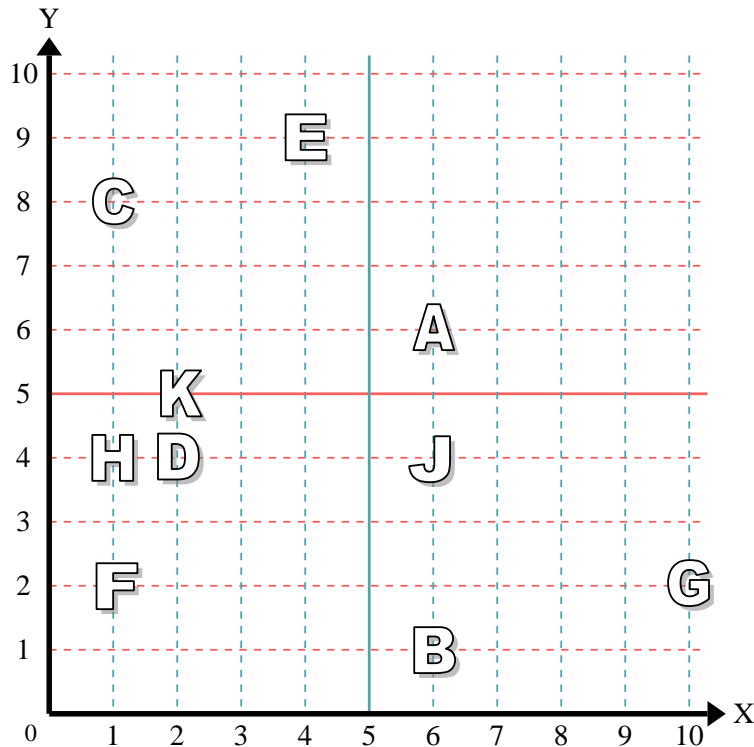
- 1) Stern _____
- 2) Blitz _____
- 3) Kreis _____
- 4) Herz _____
- 5) Kreuz _____
- 6) Dreieck _____
- 7) Mond _____
- 8) Quadrat _____
- 9) Diamant _____
- 10) Musiknote _____

Antworten

- 1. _____
- 2. _____
- 3. _____
- 4. _____
- 5. _____
- 6. _____
- 7. _____
- 8. _____
- 9. _____
- 10. _____
- 11. _____
- 12. _____
- 13. _____
- 14. _____
- 15. _____
- 16. _____
- 17. _____
- 18. _____
- 19. _____
- 20. _____

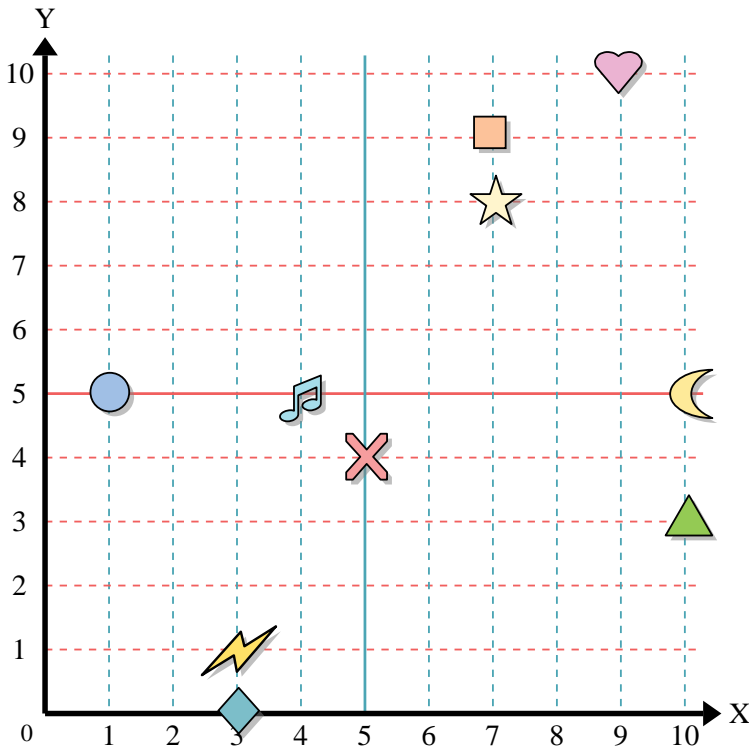
Stelle fest, welcher Buchstabe sich auf der Koordinate im Koordinatensystem unten befindet.

- 11) (4, 9) _____
- 12) (1, 2) _____
- 13) (2, 4) _____
- 14) (6, 1) _____
- 15) (1, 8) _____
- 16) (2, 5) _____
- 17) (10, 2) _____
- 18) (6, 6) _____
- 19) (6, 4) _____
- 20) (1, 4) _____





Benutze das Koordinatensystem um die Lage jeder Figur festzulegen.



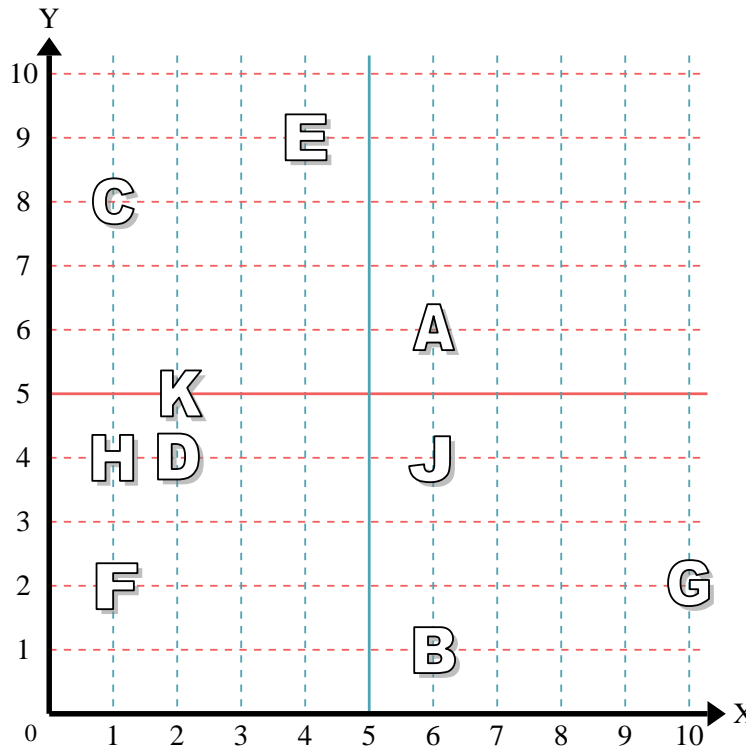
- 1) Stern (7,8)
- 2) Blitz (3,1)
- 3) Kreis (1,5)
- 4) Herz (9,10)
- 5) Kreuz (5,4)
- 6) Dreieck (10,3)
- 7) Mond (10,5)
- 8) Quadrat (7,9)
- 9) Diamant (3,0)
- 10) Musiknote (4,5)

Antworten

- 1. (7,8)
- 2. (3,1)
- 3. (1,5)
- 4. (9,10)
- 5. (5,4)
- 6. (10,3)
- 7. (10,5)
- 8. (7,9)
- 9. (3,0)
- 10. (4,5)

Stelle fest, welcher Buchstabe sich auf der Koordinate im Koordinatensystem unten befindet.

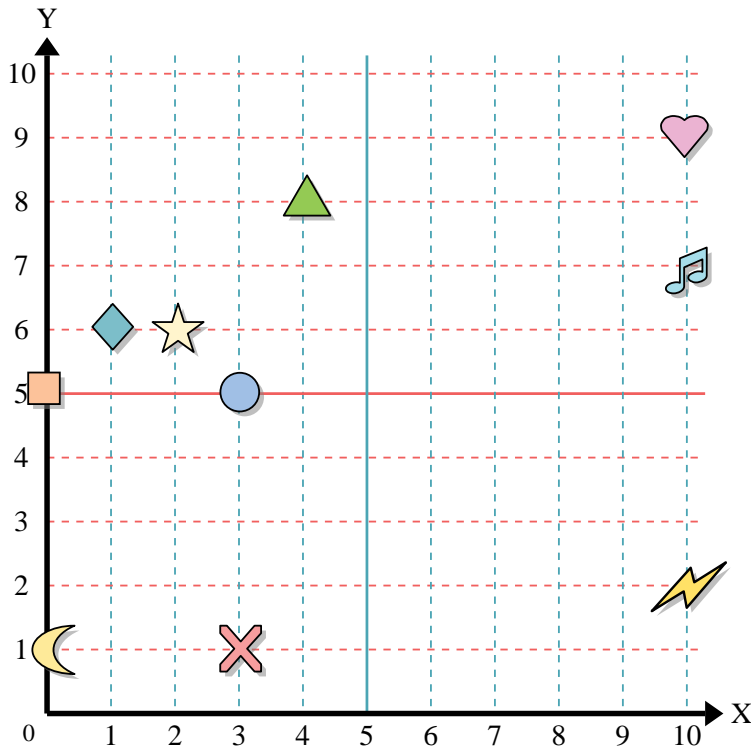
- 11) (4,9) E
- 12) (1,2) F
- 13) (2,4) D
- 14) (6,1) B
- 15) (1,8) C
- 16) (2,5) K
- 17) (10,2) G
- 18) (6,6) A
- 19) (6,4) J
- 20) (1,4) H



- 11. E
- 12. F
- 13. D
- 14. B
- 15. C
- 16. K
- 17. G
- 18. A
- 19. J
- 20. H



Benutze das Koordinatensystem um die Lage jeder Figur festzulegen.



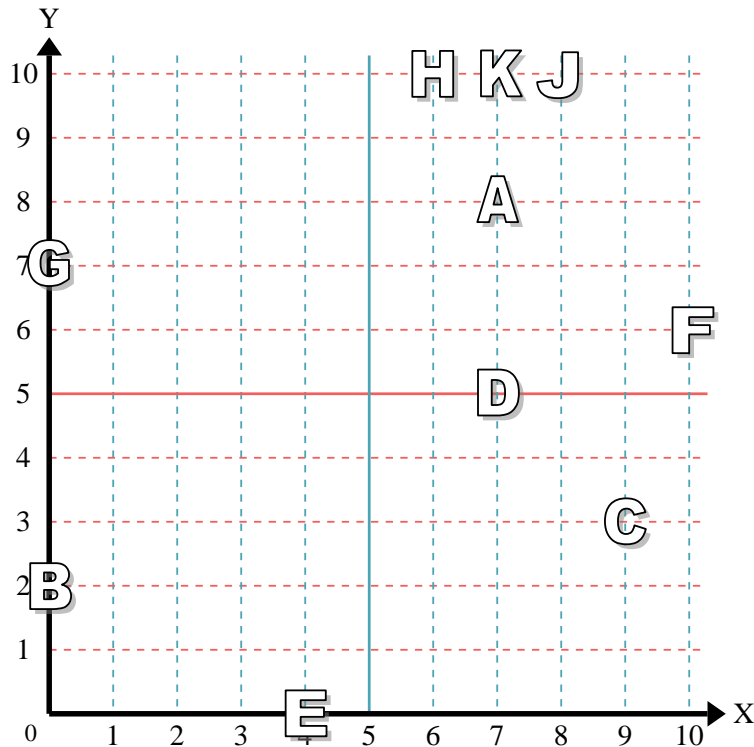
- 1) Stern _____
- 2) Blitz _____
- 3) Kreis _____
- 4) Herz _____
- 5) Kreuz _____
- 6) Dreieck _____
- 7) Mond _____
- 8) Quadrat _____
- 9) Diamant _____
- 10) Musiknote _____

Antworten

- 1. _____
- 2. _____
- 3. _____
- 4. _____
- 5. _____
- 6. _____
- 7. _____
- 8. _____
- 9. _____
- 10. _____
- 11. _____
- 12. _____
- 13. _____
- 14. _____
- 15. _____
- 16. _____
- 17. _____
- 18. _____
- 19. _____
- 20. _____

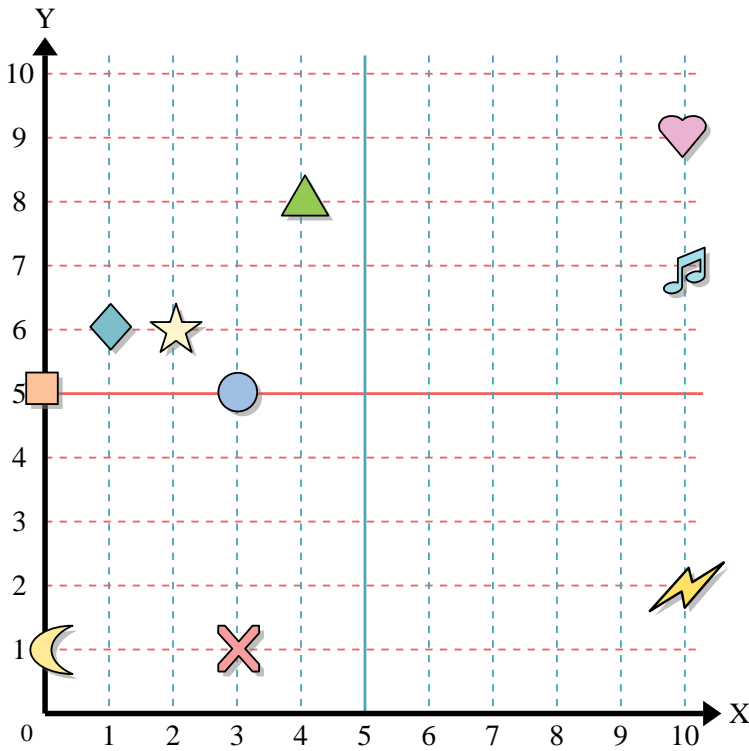
Stelle fest, welcher Buchstabe sich auf der Koordinate im Koordinatensystem unten befindet.

- 11) (0, 2) _____
- 12) (7, 10) _____
- 13) (6, 10) _____
- 14) (8, 10) _____
- 15) (7, 5) _____
- 16) (9, 3) _____
- 17) (10, 6) _____
- 18) (0, 7) _____
- 19) (7, 8) _____
- 20) (4, 0) _____





Benutze das Koordinatensystem um die Lage jeder Figur festzulegen.



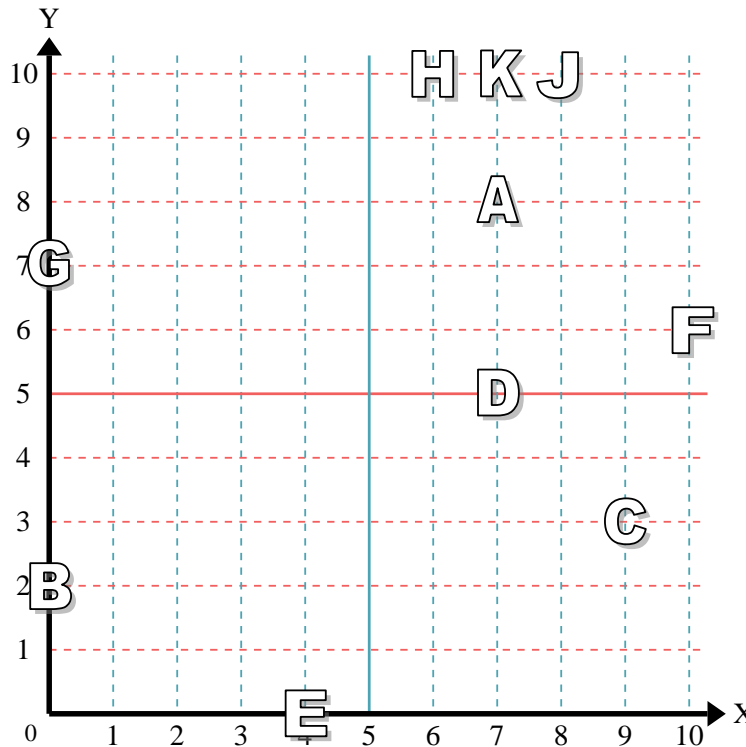
- 1) Stern (2, 6)
- 2) Blitz (10, 2)
- 3) Kreis (3, 5)
- 4) Herz (10, 9)
- 5) Kreuz (3, 1)
- 6) Dreieck (4, 8)
- 7) Mond (0, 1)
- 8) Quadrat (0, 5)
- 9) Diamant (1, 6)
- 10) Musiknote (10, 7)

Antworten

- 1. (2, 6)
- 2. (10, 2)
- 3. (3, 5)
- 4. (10, 9)
- 5. (3, 1)
- 6. (4, 8)
- 7. (0, 1)
- 8. (0, 5)
- 9. (1, 6)
- 10. (10, 7)

Stelle fest, welcher Buchstabe sich auf der Koordinate im Koordinatensystem unten befindet.

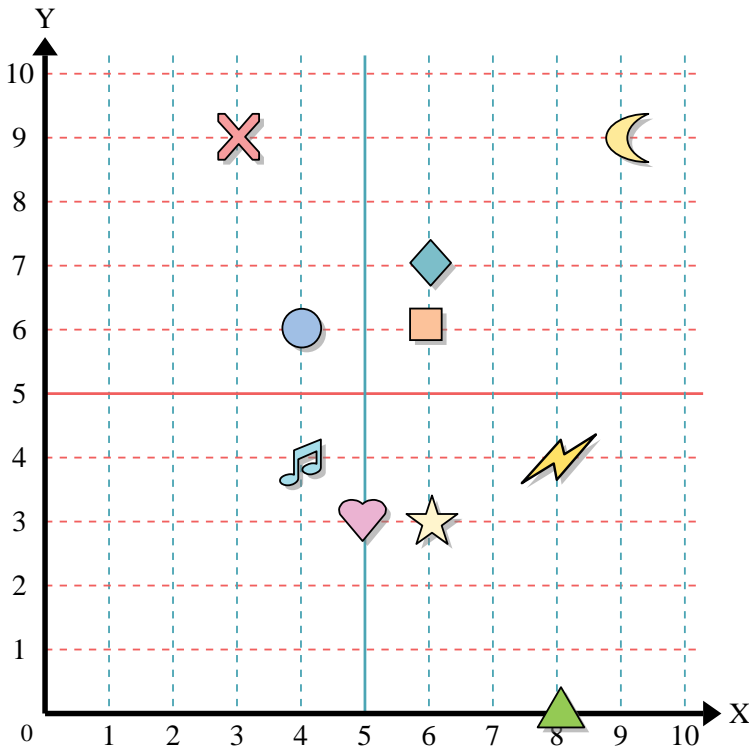
- 11) (0, 2) B
- 12) (7, 10) K
- 13) (6, 10) H
- 14) (8, 10) J
- 15) (7, 5) D
- 16) (9, 3) C
- 17) (10, 6) F
- 18) (0, 7) G
- 19) (7, 8) A
- 20) (4, 0) E



- 11. B
- 12. K
- 13. H
- 14. J
- 15. D
- 16. C
- 17. F
- 18. G
- 19. A
- 20. E



Benutze das Koordinatensystem um die Lage jeder Figur festzulegen.



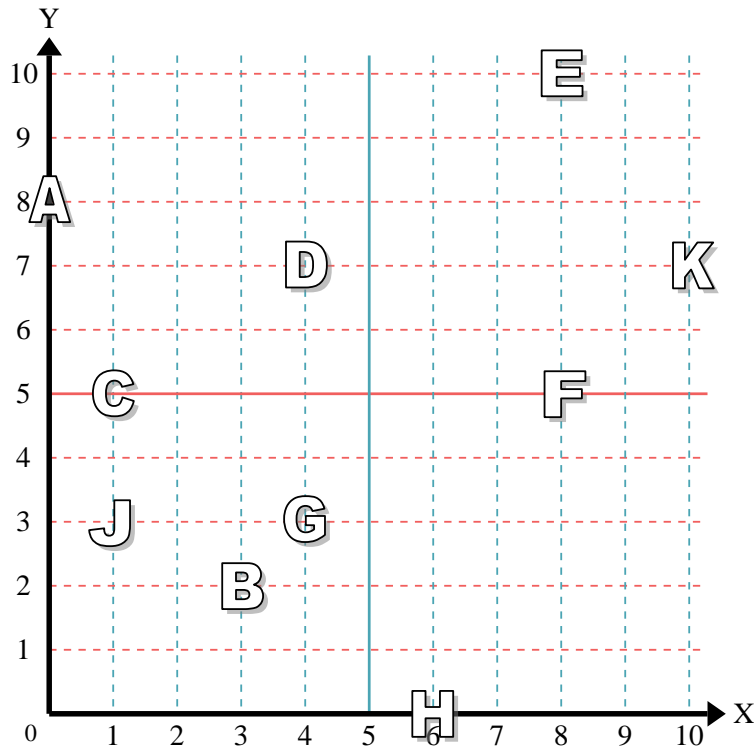
- 1) Stern _____
- 2) Blitz _____
- 3) Kreis _____
- 4) Herz _____
- 5) Kreuz _____
- 6) Dreieck _____
- 7) Mond _____
- 8) Quadrat _____
- 9) Diamant _____
- 10) Musiknote _____

Antworten

- 1. _____
- 2. _____
- 3. _____
- 4. _____
- 5. _____
- 6. _____
- 7. _____
- 8. _____
- 9. _____
- 10. _____
- 11. _____
- 12. _____
- 13. _____
- 14. _____
- 15. _____
- 16. _____
- 17. _____
- 18. _____
- 19. _____
- 20. _____

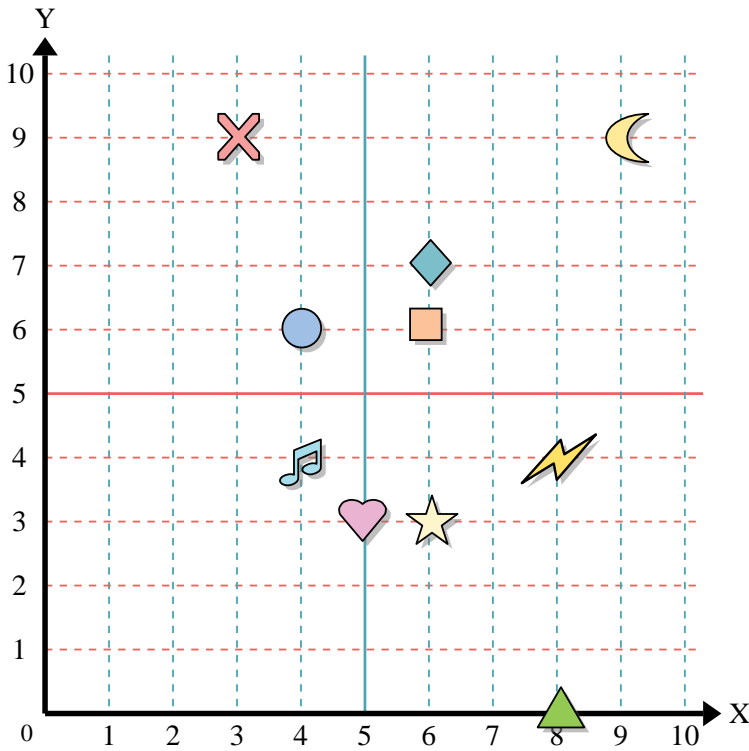
Stelle fest, welcher Buchstabe sich auf der Koordinate im Koordinatensystem unten befindet.

- 11) (8, 10) _____
- 12) (1, 3) _____
- 13) (8, 5) _____
- 14) (6, 0) _____
- 15) (10, 7) _____
- 16) (0, 8) _____
- 17) (1, 5) _____
- 18) (3, 2) _____
- 19) (4, 7) _____
- 20) (4, 3) _____





Benutze das Koordinatensystem um die Lage jeder Figur festzulegen.



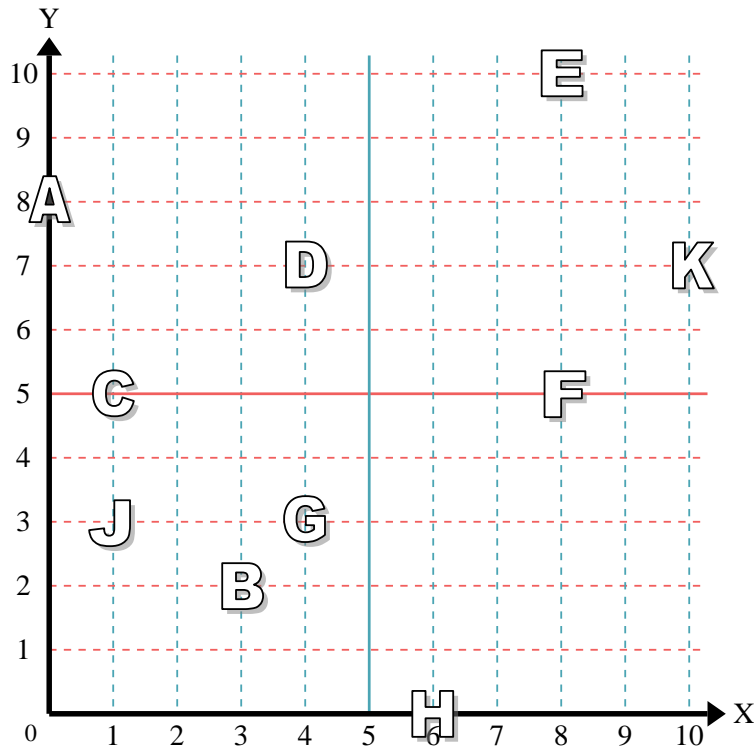
- 1) Stern (6,3)
- 2) Blitz (8,4)
- 3) Kreis (4,6)
- 4) Herz (5,3)
- 5) Kreuz (3,9)
- 6) Dreieck (8,0)
- 7) Mond (9,9)
- 8) Quadrat (6,6)
- 9) Diamant (6,7)
- 10) Musiknote (4,4)

Antworten

- 1. (6,3)
- 2. (8,4)
- 3. (4,6)
- 4. (5,3)
- 5. (3,9)
- 6. (8,0)
- 7. (9,9)
- 8. (6,6)
- 9. (6,7)
- 10. (4,4)
- 11. E
- 12. J
- 13. F
- 14. H
- 15. K
- 16. A
- 17. C
- 18. B
- 19. D
- 20. G

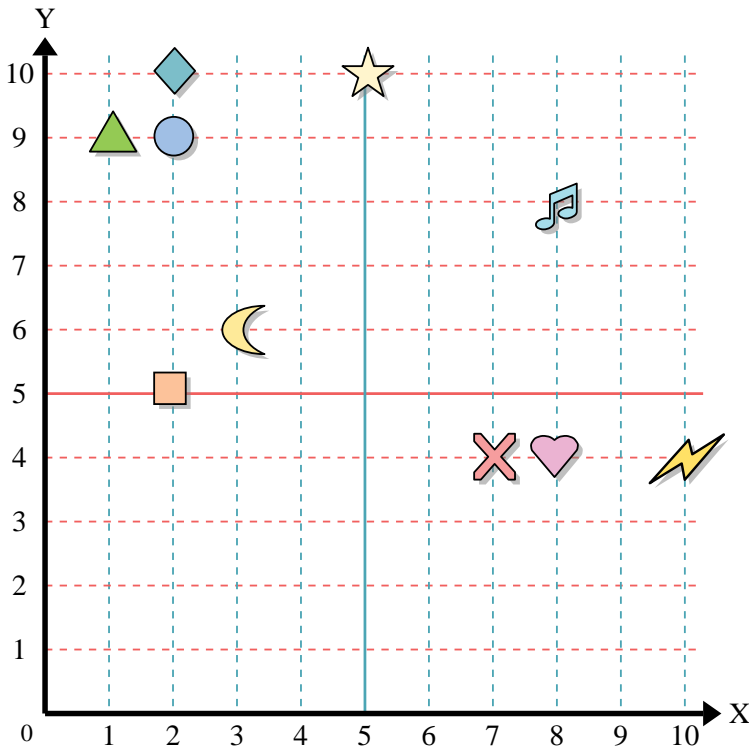
Stelle fest, welcher Buchstabe sich auf der Koordinate im Koordinatensystem unten befindet.

- 11) (8, 10) E
- 12) (1, 3) J
- 13) (8, 5) F
- 14) (6, 0) H
- 15) (10, 7) K
- 16) (0, 8) A
- 17) (1, 5) C
- 18) (3, 2) B
- 19) (4, 7) D
- 20) (4, 3) G





Benutze das Koordinatensystem um die Lage jeder Figur festzulegen.



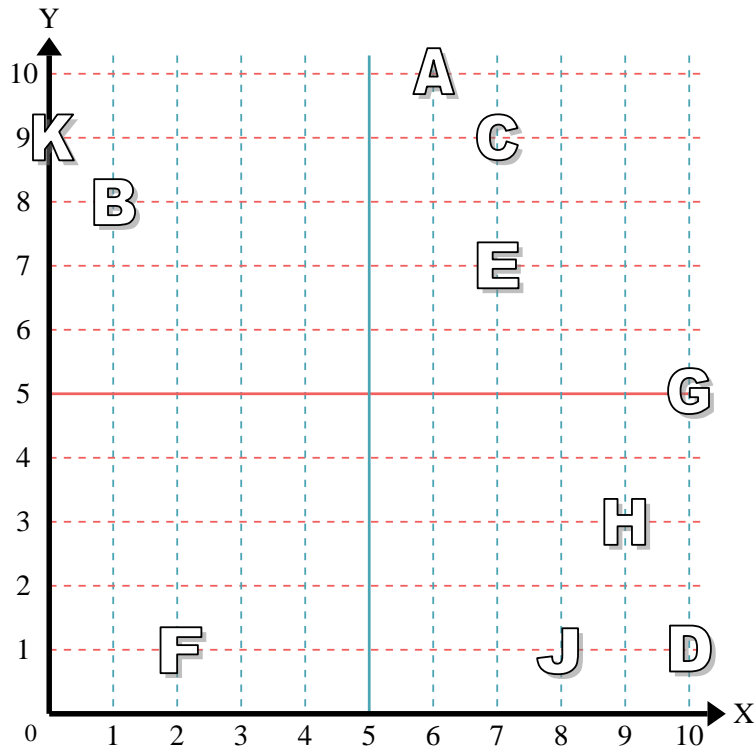
- 1) Stern _____
- 2) Blitz _____
- 3) Kreis _____
- 4) Herz _____
- 5) Kreuz _____
- 6) Dreieck _____
- 7) Mond _____
- 8) Quadrat _____
- 9) Diamant _____
- 10) Musiknote _____

Antworten

- 1. _____
- 2. _____
- 3. _____
- 4. _____
- 5. _____
- 6. _____
- 7. _____
- 8. _____
- 9. _____
- 10. _____
- 11. _____
- 12. _____
- 13. _____
- 14. _____
- 15. _____
- 16. _____
- 17. _____
- 18. _____
- 19. _____
- 20. _____

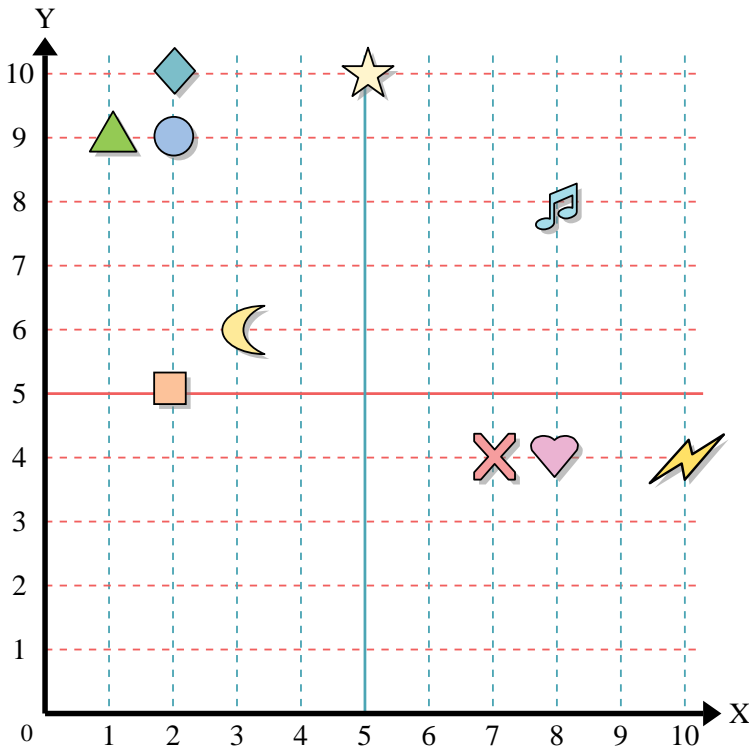
Stelle fest, welcher Buchstabe sich auf der Koordinate im Koordinatensystem unten befindet.

- 11) (8, 1) _____
- 12) (9, 3) _____
- 13) (0, 9) _____
- 14) (10, 1) _____
- 15) (1, 8) _____
- 16) (7, 7) _____
- 17) (7, 9) _____
- 18) (6, 10) _____
- 19) (2, 1) _____
- 20) (10, 5) _____





Benutze das Koordinatensystem um die Lage jeder Figur festzulegen.



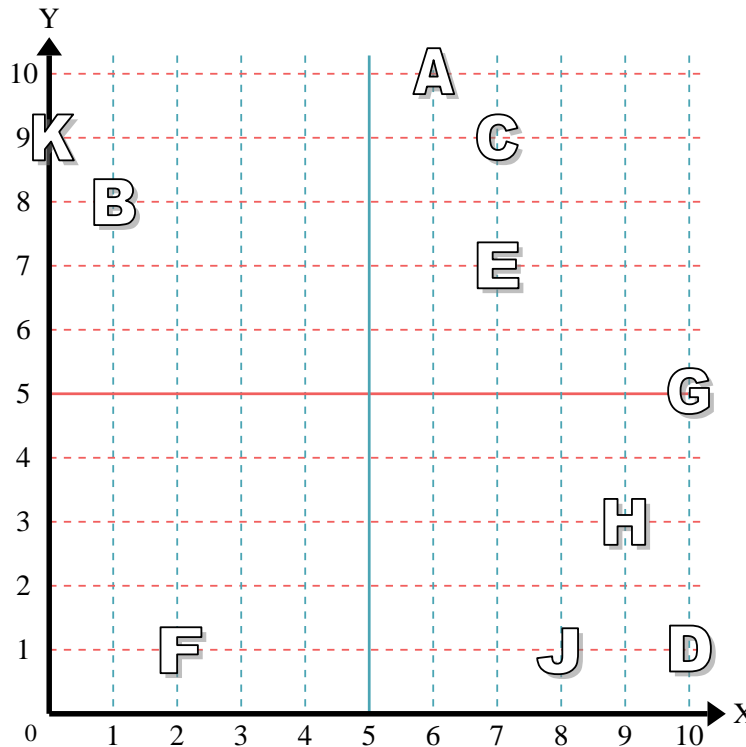
- 1) Stern (5, 10)
- 2) Blitz (10, 4)
- 3) Kreis (2, 9)
- 4) Herz (8, 4)
- 5) Kreuz (7, 4)
- 6) Dreieck (1, 9)
- 7) Mond (3, 6)
- 8) Quadrat (2, 5)
- 9) Diamant (2, 10)
- 10) Musiknote (8, 8)

Antworten

- 1. (5, 10)
- 2. (10, 4)
- 3. (2, 9)
- 4. (8, 4)
- 5. (7, 4)
- 6. (1, 9)
- 7. (3, 6)
- 8. (2, 5)
- 9. (2, 10)
- 10. (8, 8)

Stelle fest, welcher Buchstabe sich auf der Koordinate im Koordinatensystem unten befindet.

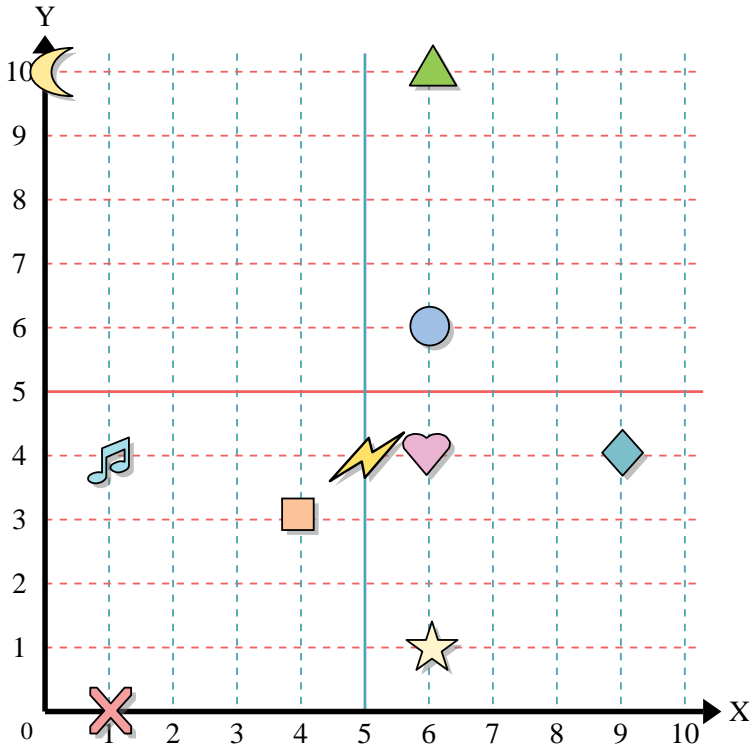
- 11) (8, 1) J
- 12) (9, 3) H
- 13) (0, 9) K
- 14) (10, 1) D
- 15) (1, 8) B
- 16) (7, 7) E
- 17) (7, 9) C
- 18) (6, 10) A
- 19) (2, 1) F
- 20) (10, 5) G



- 11. J
- 12. H
- 13. K
- 14. D
- 15. B
- 16. E
- 17. C
- 18. A
- 19. F
- 20. G



Benutze das Koordinatensystem um die Lage jeder Figur festzulegen.



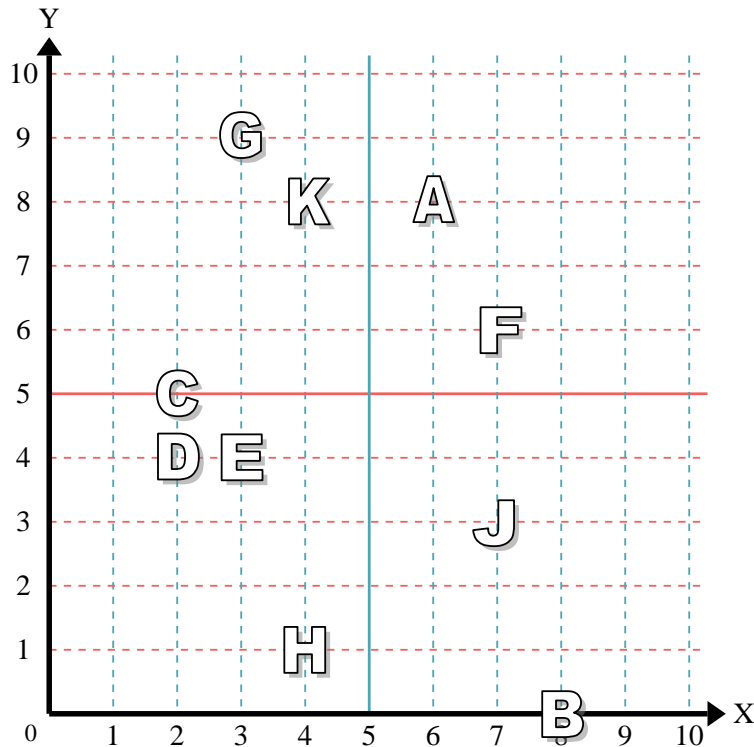
- 1) Stern _____
- 2) Blitz _____
- 3) Kreis _____
- 4) Herz _____
- 5) Kreuz _____
- 6) Dreieck _____
- 7) Mond _____
- 8) Quadrat _____
- 9) Diamant _____
- 10) Musiknote _____

Antworten

- 1. _____
- 2. _____
- 3. _____
- 4. _____
- 5. _____
- 6. _____
- 7. _____
- 8. _____
- 9. _____
- 10. _____
- 11. _____
- 12. _____
- 13. _____
- 14. _____
- 15. _____
- 16. _____
- 17. _____
- 18. _____
- 19. _____
- 20. _____

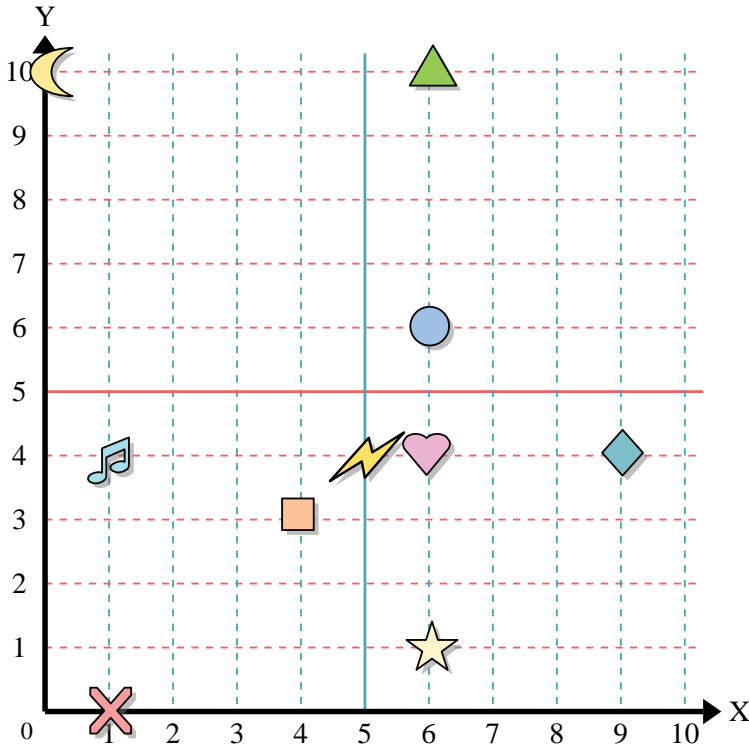
Stelle fest, welcher Buchstabe sich auf der Koordinate im Koordinatensystem unten befindet.

- 11) (6, 8) _____
- 12) (2, 5) _____
- 13) (8, 0) _____
- 14) (4, 8) _____
- 15) (4, 1) _____
- 16) (3, 9) _____
- 17) (2, 4) _____
- 18) (3, 4) _____
- 19) (7, 3) _____
- 20) (7, 6) _____





Benutze das Koordinatensystem um die Lage jeder Figur festzulegen.



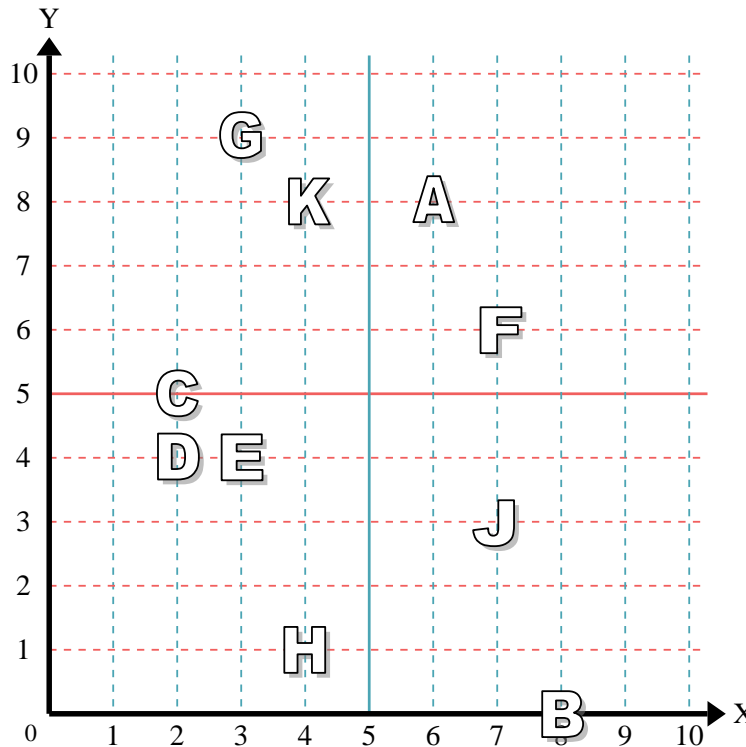
- 1) Stern (6,1)
- 2) Blitz (5,4)
- 3) Kreis (6,6)
- 4) Herz (6,4)
- 5) Kreuz (1,0)
- 6) Dreieck (6,10)
- 7) Mond (0,10)
- 8) Quadrat (4,3)
- 9) Diamant (9,4)
- 10) Musiknote (1,4)

Antworten

- 1. (6,1)
- 2. (5,4)
- 3. (6,6)
- 4. (6,4)
- 5. (1,0)
- 6. (6,10)
- 7. (0,10)
- 8. (4,3)
- 9. (9,4)
- 10. (1,4)
- 11. A
- 12. C
- 13. B
- 14. K
- 15. H
- 16. G
- 17. D
- 18. E
- 19. J
- 20. F

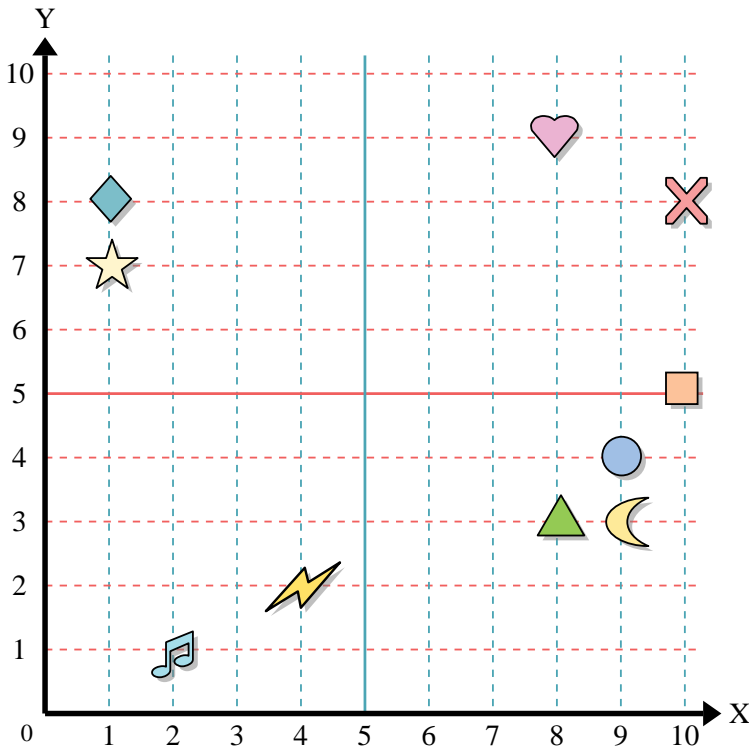
Stelle fest, welcher Buchstabe sich auf der Koordinate im Koordinatensystem unten befindet.

- 11) (6,8) A
- 12) (2,5) C
- 13) (8,0) B
- 14) (4,8) K
- 15) (4,1) H
- 16) (3,9) G
- 17) (2,4) D
- 18) (3,4) E
- 19) (7,3) J
- 20) (7,6) F





Benutze das Koordinatensystem um die Lage jeder Figur festzulegen.



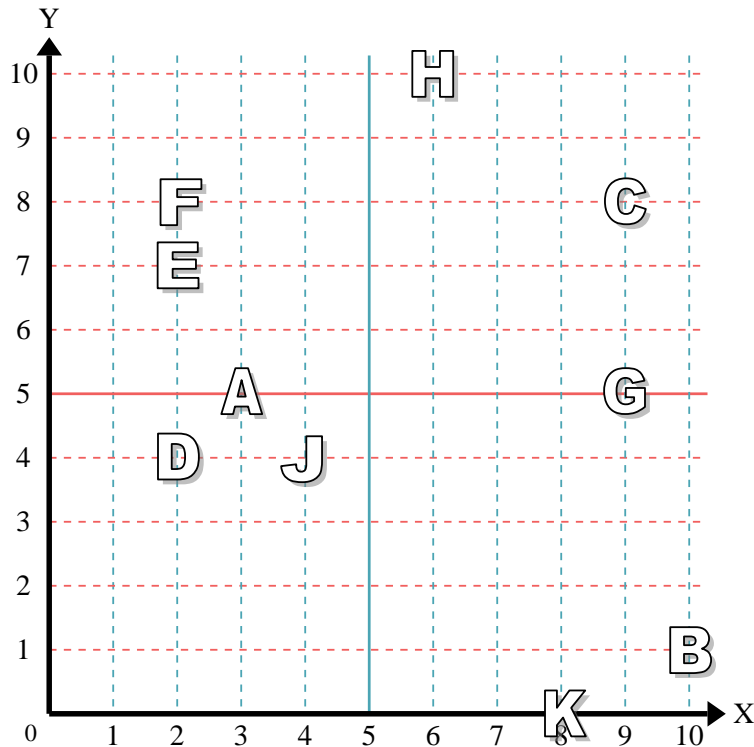
- 1) Stern _____
- 2) Blitz _____
- 3) Kreis _____
- 4) Herz _____
- 5) Kreuz _____
- 6) Dreieck _____
- 7) Mond _____
- 8) Quadrat _____
- 9) Diamant _____
- 10) Musiknote _____

Antworten

- 1. _____
- 2. _____
- 3. _____
- 4. _____
- 5. _____
- 6. _____
- 7. _____
- 8. _____
- 9. _____
- 10. _____
- 11. _____
- 12. _____
- 13. _____
- 14. _____
- 15. _____
- 16. _____
- 17. _____
- 18. _____
- 19. _____
- 20. _____

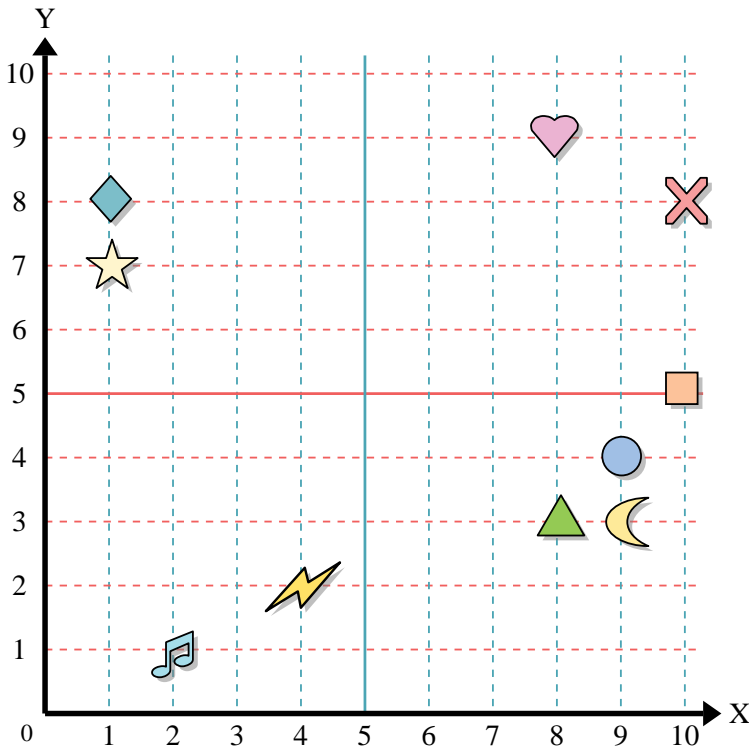
Stelle fest, welcher Buchstabe sich auf der Koordinate im Koordinatensystem unten befindet.

- 11) (6, 10) _____
- 12) (2, 4) _____
- 13) (4, 4) _____
- 14) (2, 8) _____
- 15) (9, 5) _____
- 16) (8, 0) _____
- 17) (10, 1) _____
- 18) (3, 5) _____
- 19) (2, 7) _____
- 20) (9, 8) _____





Benutze das Koordinatensystem um die Lage jeder Figur festzulegen.



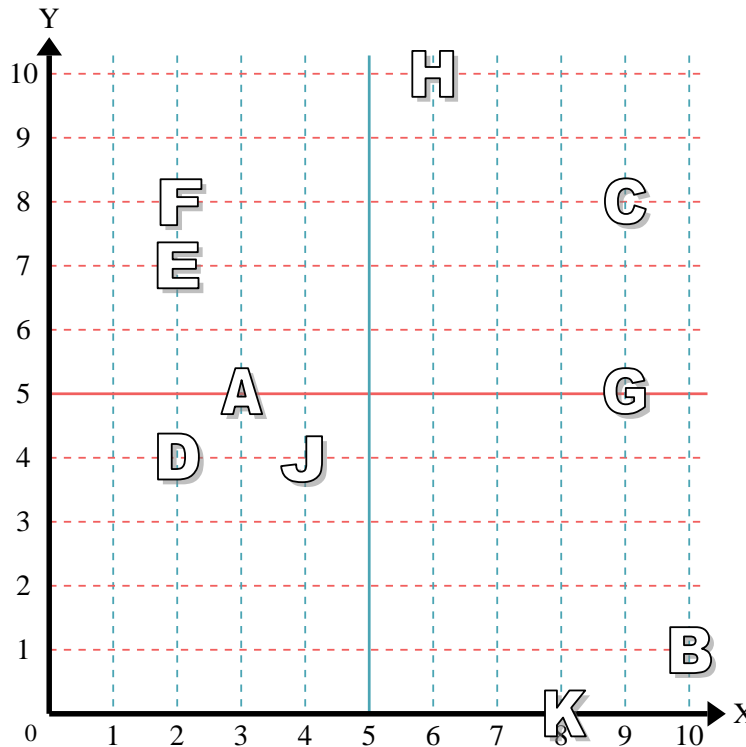
- 1) Stern (1, 7)
- 2) Blitz (4, 2)
- 3) Kreis (9, 4)
- 4) Herz (8, 9)
- 5) Kreuz (10, 8)
- 6) Dreieck (8, 3)
- 7) Mond (9, 3)
- 8) Quadrat (10, 5)
- 9) Diamant (1, 8)
- 10) Musiknote (2, 1)

Antworten

- 1. (1, 7)
- 2. (4, 2)
- 3. (9, 4)
- 4. (8, 9)
- 5. (10, 8)
- 6. (8, 3)
- 7. (9, 3)
- 8. (10, 5)
- 9. (1, 8)
- 10. (2, 1)

Stelle fest, welcher Buchstabe sich auf der Koordinate im Koordinatensystem unten befindet.

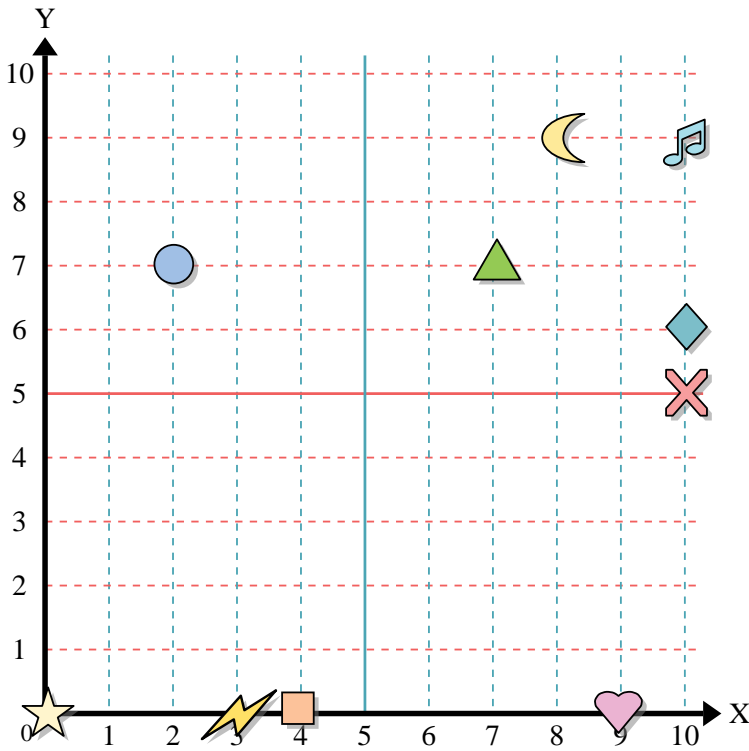
- 11) (6, 10) H
- 12) (2, 4) D
- 13) (4, 4) J
- 14) (2, 8) F
- 15) (9, 5) G
- 16) (8, 0) K
- 17) (10, 1) B
- 18) (3, 5) A
- 19) (2, 7) E
- 20) (9, 8) C



- 11. H
- 12. D
- 13. J
- 14. F
- 15. G
- 16. K
- 17. B
- 18. A
- 19. E
- 20. C



Benutze das Koordinatensystem um die Lage jeder Figur festzulegen.



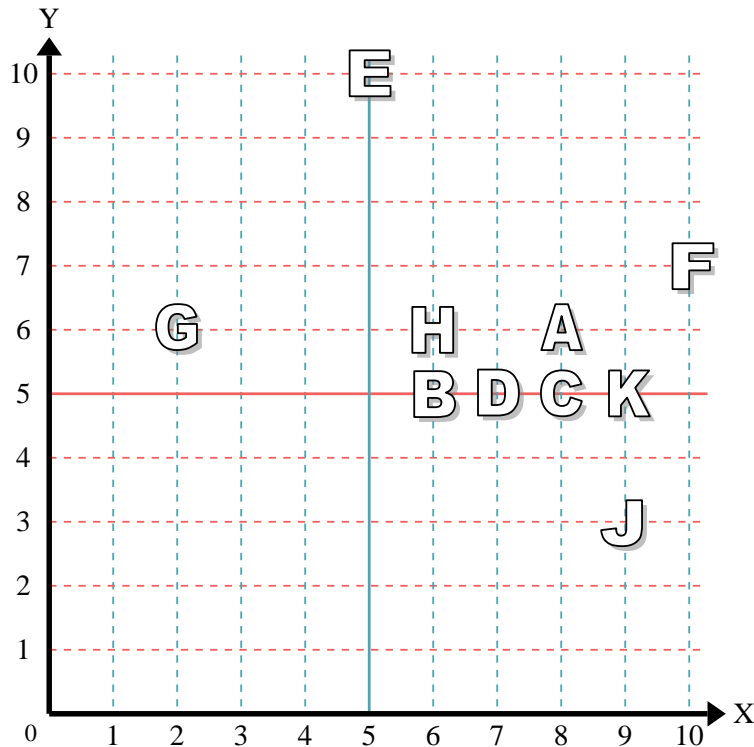
- 1) Stern _____
- 2) Blitz _____
- 3) Kreis _____
- 4) Herz _____
- 5) Kreuz _____
- 6) Dreieck _____
- 7) Mond _____
- 8) Quadrat _____
- 9) Diamant _____
- 10) Musiknote _____

Antworten

- 1. _____
- 2. _____
- 3. _____
- 4. _____
- 5. _____
- 6. _____
- 7. _____
- 8. _____
- 9. _____
- 10. _____
- 11. _____
- 12. _____
- 13. _____
- 14. _____
- 15. _____
- 16. _____
- 17. _____
- 18. _____
- 19. _____
- 20. _____

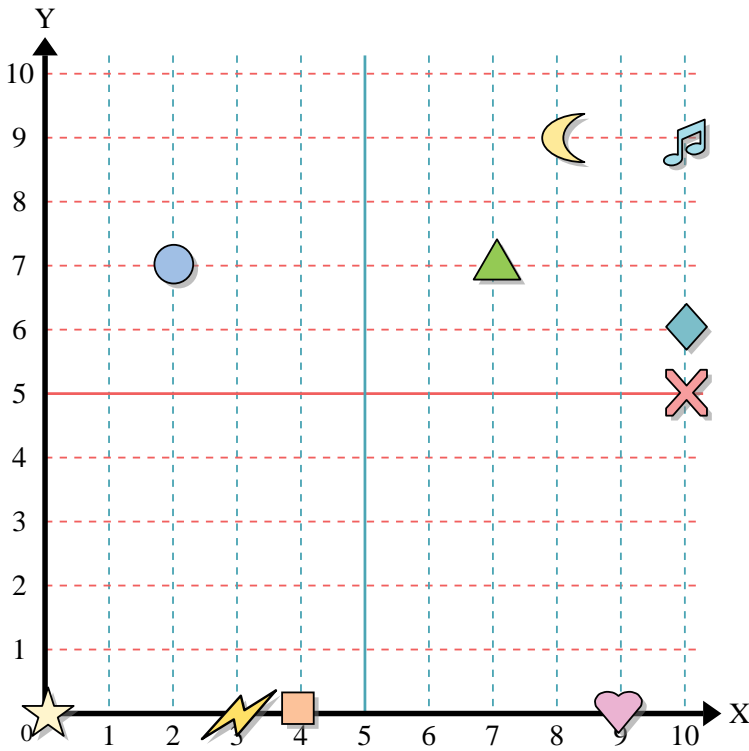
Stelle fest, welcher Buchstabe sich auf der Koordinate im Koordinatensystem unten befindet.

- 11) (9, 5) _____
- 12) (6, 5) _____
- 13) (5, 10) _____
- 14) (7, 5) _____
- 15) (2, 6) _____
- 16) (6, 6) _____
- 17) (9, 3) _____
- 18) (10, 7) _____
- 19) (8, 6) _____
- 20) (8, 5) _____





Benutze das Koordinatensystem um die Lage jeder Figur festzulegen.



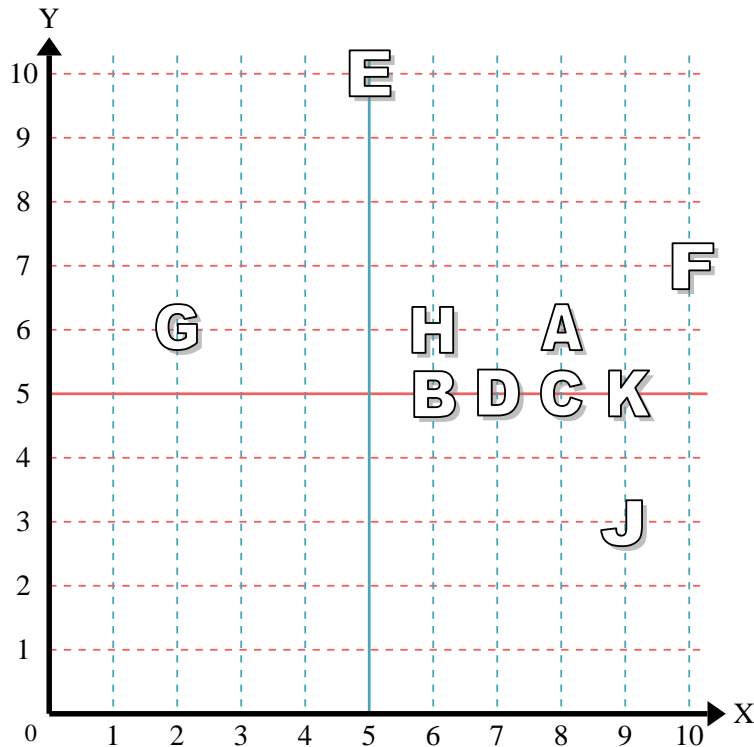
- 1) Stern (0,0)
- 2) Blitz (3,0)
- 3) Kreis (2,7)
- 4) Herz (9,0)
- 5) Kreuz (10,5)
- 6) Dreieck (7,7)
- 7) Mond (8,9)
- 8) Quadrat (4,0)
- 9) Diamant (10,6)
- 10) Musiknote (10,9)

Antworten

- 1. (0,0)
- 2. (3,0)
- 3. (2,7)
- 4. (9,0)
- 5. (10,5)
- 6. (7,7)
- 7. (8,9)
- 8. (4,0)
- 9. (10,6)
- 10. (10,9)

Stelle fest, welcher Buchstabe sich auf der Koordinate im Koordinatensystem unten befindet.

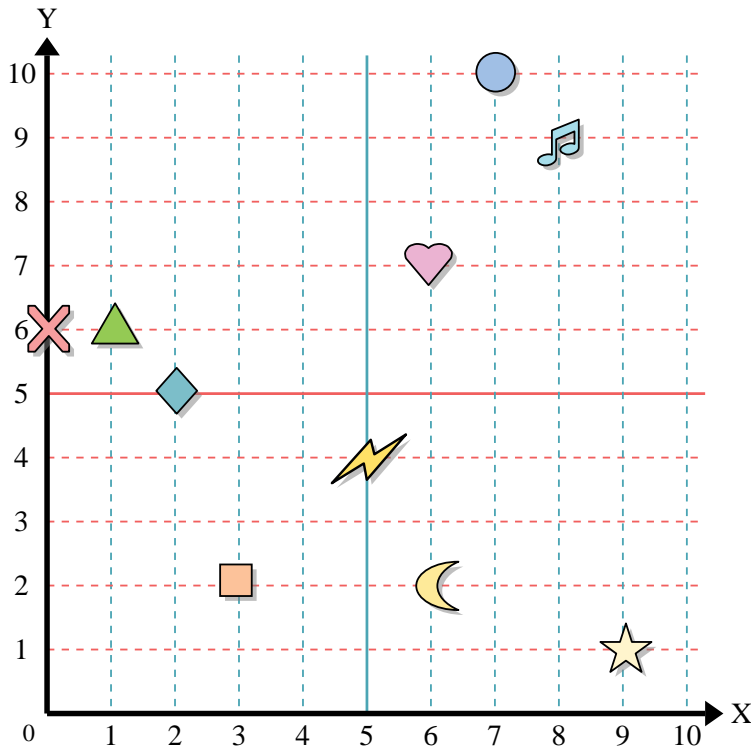
- 11) (9,5) K
- 12) (6,5) B
- 13) (5,10) E
- 14) (7,5) D
- 15) (2,6) G
- 16) (6,6) H
- 17) (9,3) J
- 18) (10,7) F
- 19) (8,6) A
- 20) (8,5) C



- 11. K
- 12. B
- 13. E
- 14. D
- 15. G
- 16. H
- 17. J
- 18. F
- 19. A
- 20. C



Benutze das Koordinatensystem um die Lage jeder Figur festzulegen.



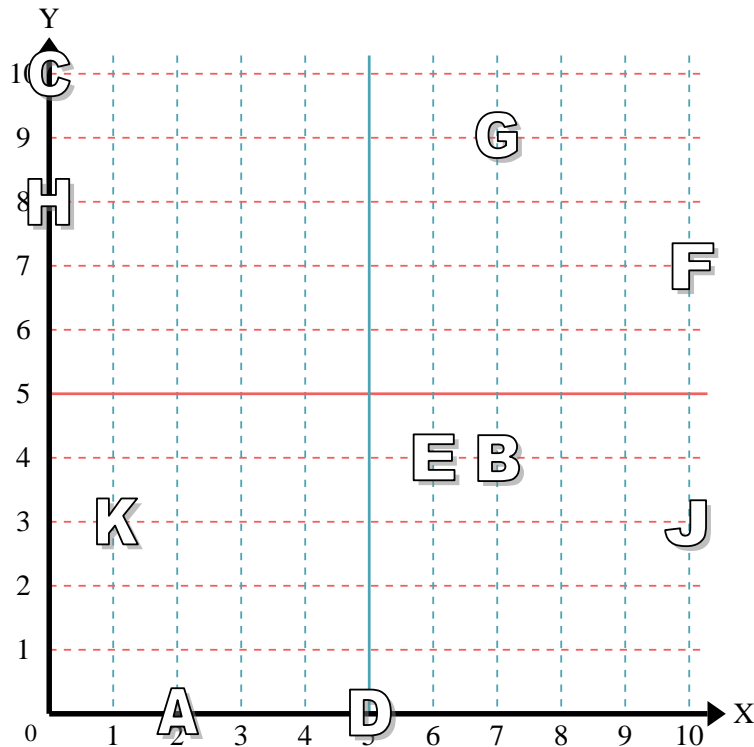
- 1) Stern _____
- 2) Blitz _____
- 3) Kreis _____
- 4) Herz _____
- 5) Kreuz _____
- 6) Dreieck _____
- 7) Mond _____
- 8) Quadrat _____
- 9) Diamant _____
- 10) Musiknote _____

Antworten

- 1. _____
- 2. _____
- 3. _____
- 4. _____
- 5. _____
- 6. _____
- 7. _____
- 8. _____
- 9. _____
- 10. _____
- 11. _____
- 12. _____
- 13. _____
- 14. _____
- 15. _____
- 16. _____
- 17. _____
- 18. _____
- 19. _____
- 20. _____

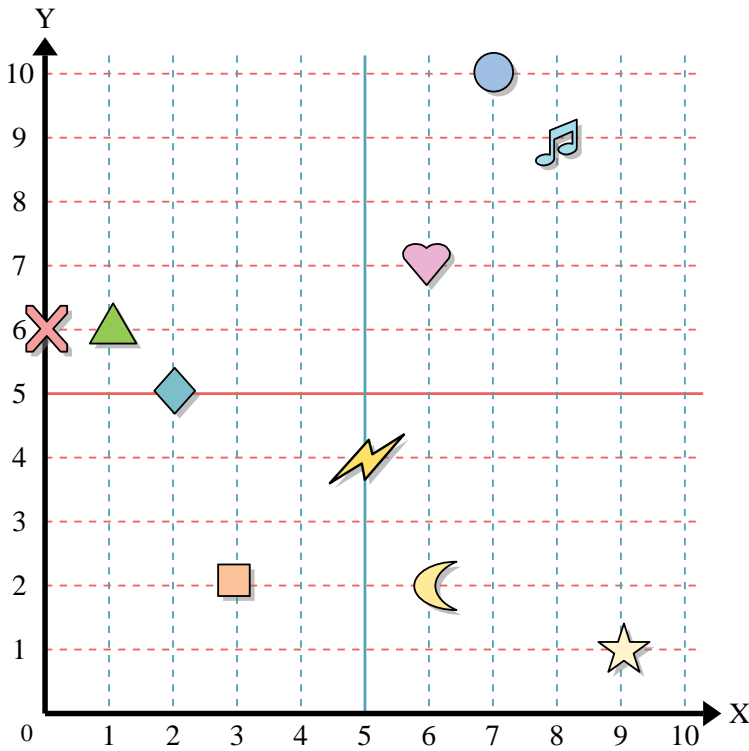
Stelle fest, welcher Buchstabe sich auf der Koordinate im Koordinatensystem unten befindet.

- 11) (2, 0) _____
- 12) (10, 3) _____
- 13) (0, 10) _____
- 14) (7, 9) _____
- 15) (1, 3) _____
- 16) (10, 7) _____
- 17) (7, 4) _____
- 18) (0, 8) _____
- 19) (6, 4) _____
- 20) (5, 0) _____





Benutze das Koordinatensystem um die Lage jeder Figur festzulegen.



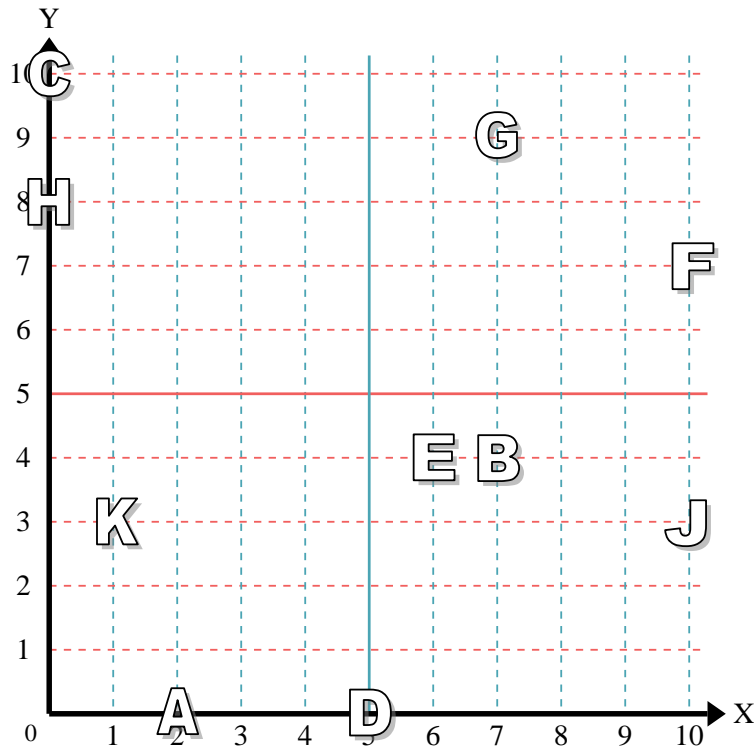
- 1) Stern (9,1)
- 2) Blitz (5,4)
- 3) Kreis (7,10)
- 4) Herz (6,7)
- 5) Kreuz (0,6)
- 6) Dreieck (1,6)
- 7) Mond (6,2)
- 8) Quadrat (3,2)
- 9) Diamant (2,5)
- 10) Musiknote (8,9)

Antworten

- 1. (9,1)
- 2. (5,4)
- 3. (7,10)
- 4. (6,7)
- 5. (0,6)
- 6. (1,6)
- 7. (6,2)
- 8. (3,2)
- 9. (2,5)
- 10. (8,9)

Stelle fest, welcher Buchstabe sich auf der Koordinate im Koordinatensystem unten befindet.

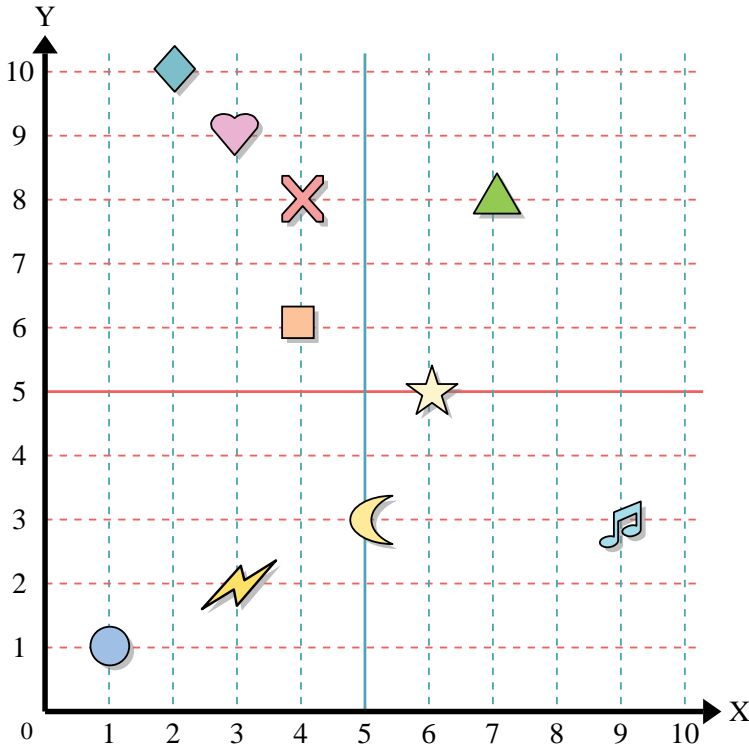
- 11) (2,0) A
- 12) (10,3) J
- 13) (0,10) C
- 14) (7,9) G
- 15) (1,3) K
- 16) (10,7) F
- 17) (7,4) B
- 18) (0,8) H
- 19) (6,4) E
- 20) (5,0) D



- 11. A
- 12. J
- 13. C
- 14. G
- 15. K
- 16. F
- 17. B
- 18. H
- 19. E
- 20. D



Benutze das Koordinatensystem um die Lage jeder Figur festzulegen.



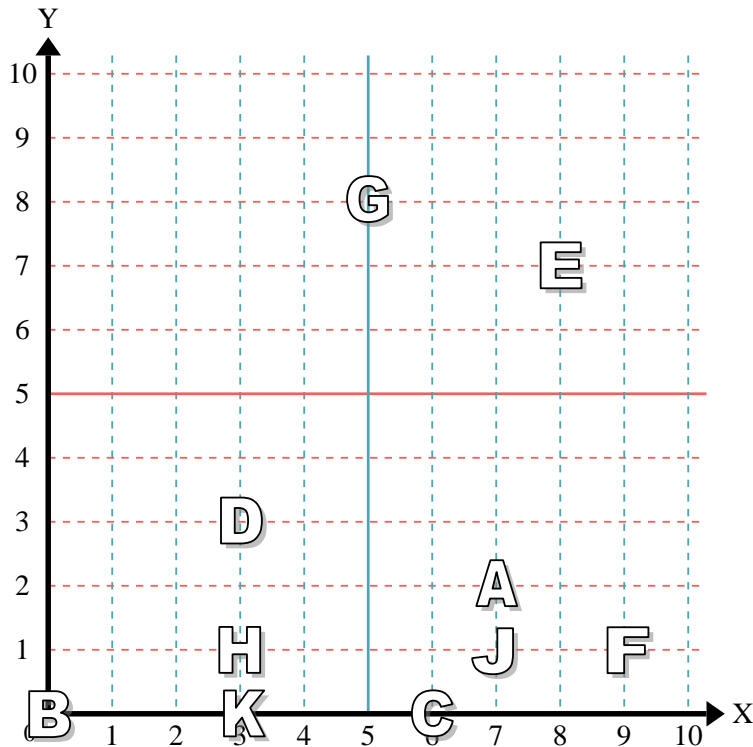
- 1) Stern _____
- 2) Blitz _____
- 3) Kreis _____
- 4) Herz _____
- 5) Kreuz _____
- 6) Dreieck _____
- 7) Mond _____
- 8) Quadrat _____
- 9) Diamant _____
- 10) Musiknote _____

Antworten

- 1. _____
- 2. _____
- 3. _____
- 4. _____
- 5. _____
- 6. _____
- 7. _____
- 8. _____
- 9. _____
- 10. _____
- 11. _____
- 12. _____
- 13. _____
- 14. _____
- 15. _____
- 16. _____
- 17. _____
- 18. _____
- 19. _____
- 20. _____

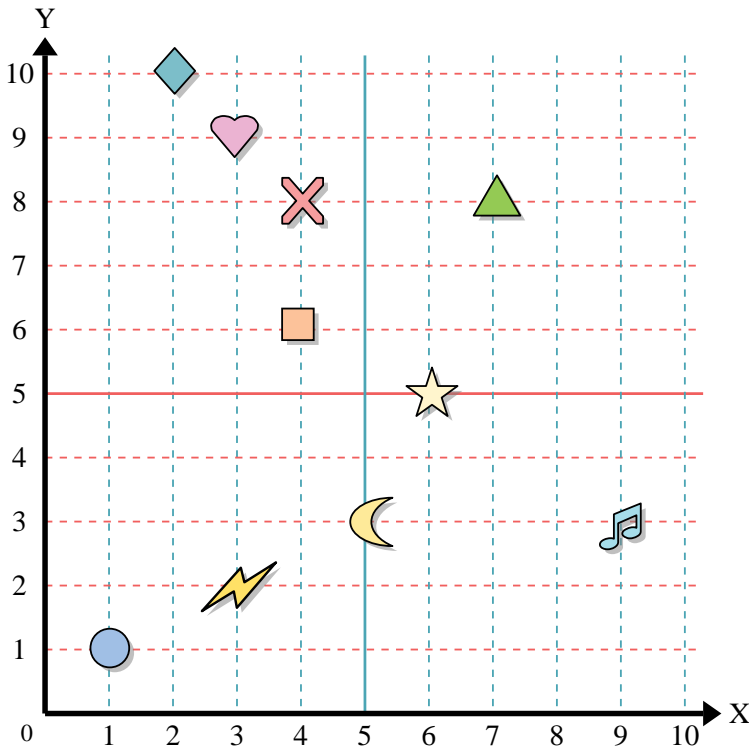
Stelle fest, welcher Buchstabe sich auf der Koordinate im Koordinatensystem unten befindet.

- 11) (3, 0) _____
- 12) (6, 0) _____
- 13) (3, 3) _____
- 14) (0, 0) _____
- 15) (7, 1) _____
- 16) (9, 1) _____
- 17) (8, 7) _____
- 18) (7, 2) _____
- 19) (5, 8) _____
- 20) (3, 1) _____





Benutze das Koordinatensystem um die Lage jeder Figur festzulegen.



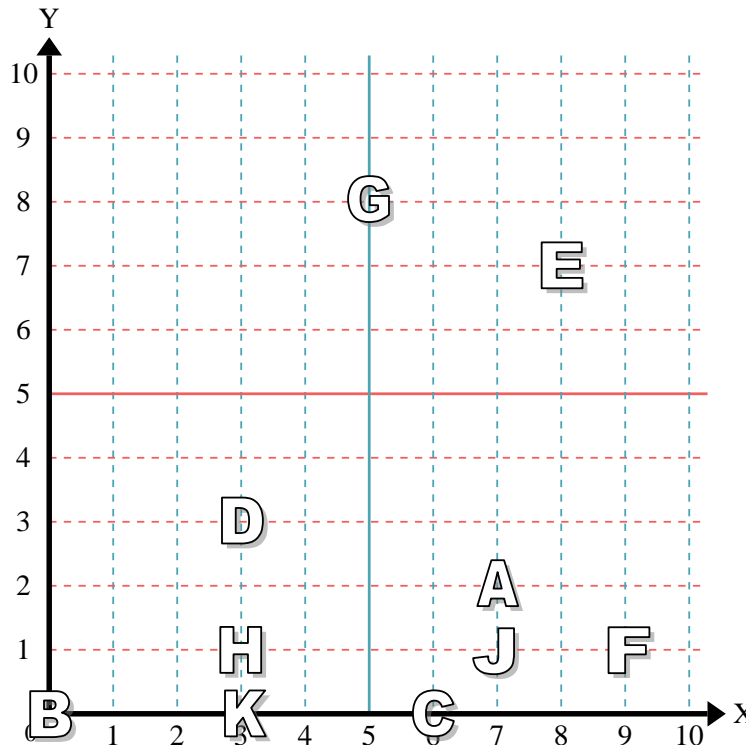
- 1) Stern (6,5)
- 2) Blitz (3,2)
- 3) Kreis (1,1)
- 4) Herz (3,9)
- 5) Kreuz (4,8)
- 6) Dreieck (7,8)
- 7) Mond (5,3)
- 8) Quadrat (4,6)
- 9) Diamant (2,10)
- 10) Musiknote (9,3)

Antworten

- 1. (6,5)
- 2. (3,2)
- 3. (1,1)
- 4. (3,9)
- 5. (4,8)
- 6. (7,8)
- 7. (5,3)
- 8. (4,6)
- 9. (2,10)
- 10. (9,3)

Stelle fest, welcher Buchstabe sich auf der Koordinate im Koordinatensystem unten befindet.

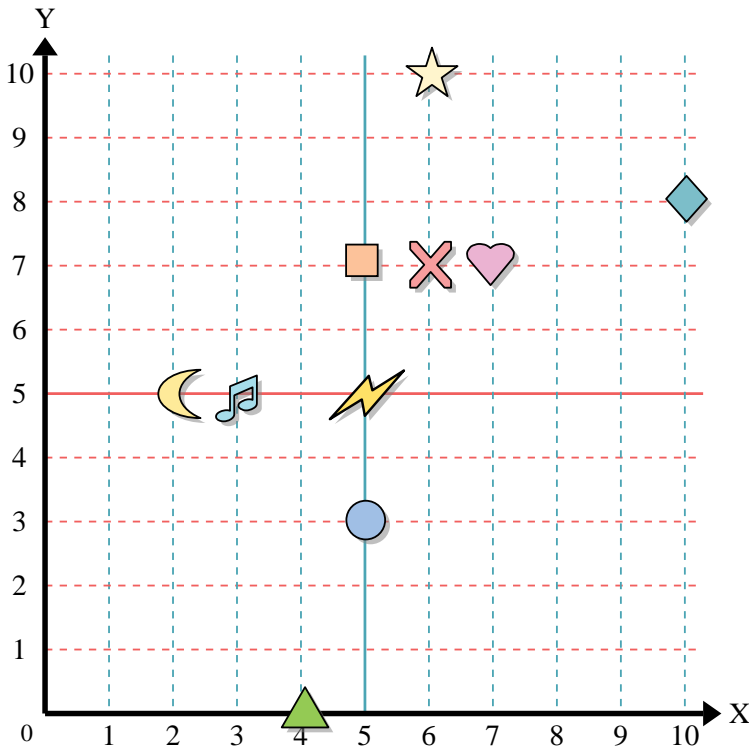
- 11) (3, 0) K
- 12) (6, 0) C
- 13) (3, 3) D
- 14) (0, 0) B
- 15) (7, 1) J
- 16) (9, 1) F
- 17) (8, 7) E
- 18) (7, 2) A
- 19) (5, 8) G
- 20) (3, 1) H



- 11. K
- 12. C
- 13. D
- 14. B
- 15. J
- 16. F
- 17. E
- 18. A
- 19. G
- 20. H



Benutze das Koordinatensystem um die Lage jeder Figur festzulegen.



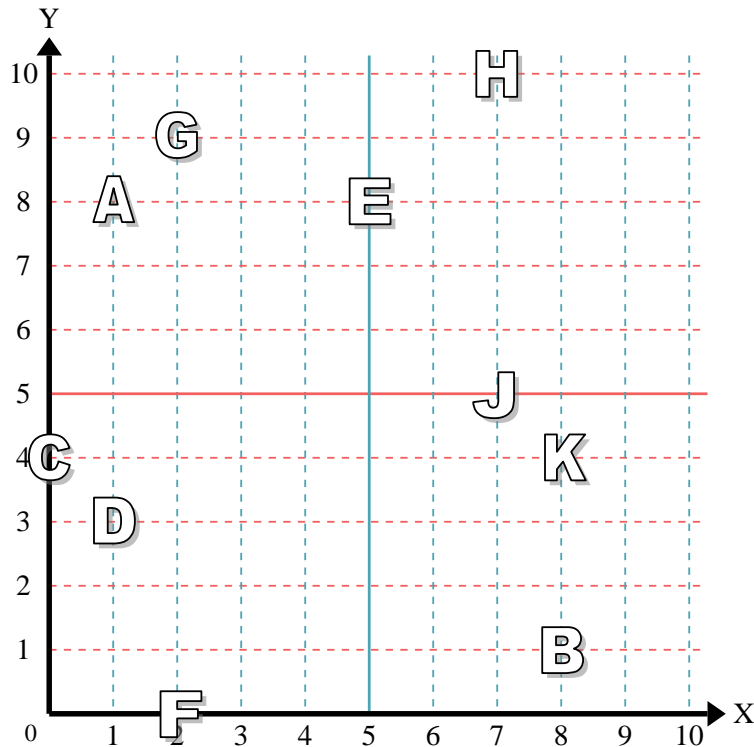
- 1) Stern _____
- 2) Blitz _____
- 3) Kreis _____
- 4) Herz _____
- 5) Kreuz _____
- 6) Dreieck _____
- 7) Mond _____
- 8) Quadrat _____
- 9) Diamant _____
- 10) Musiknote _____

Antworten

- 1. _____
- 2. _____
- 3. _____
- 4. _____
- 5. _____
- 6. _____
- 7. _____
- 8. _____
- 9. _____
- 10. _____
- 11. _____
- 12. _____
- 13. _____
- 14. _____
- 15. _____
- 16. _____
- 17. _____
- 18. _____
- 19. _____
- 20. _____

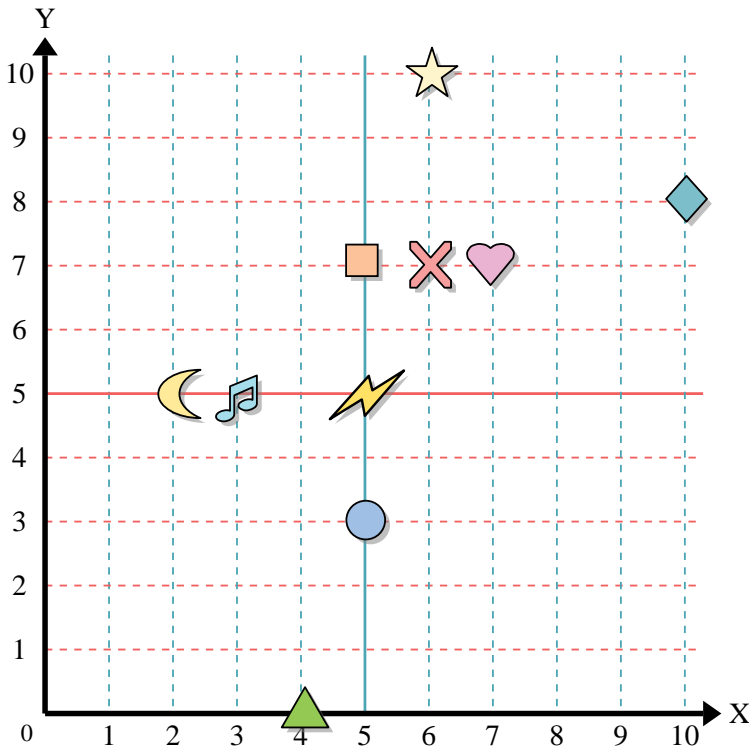
Stelle fest, welcher Buchstabe sich auf der Koordinate im Koordinatensystem unten befindet.

- 11) (8, 1) _____
- 12) (7, 10) _____
- 13) (1, 3) _____
- 14) (5, 8) _____
- 15) (8, 4) _____
- 16) (2, 9) _____
- 17) (2, 0) _____
- 18) (1, 8) _____
- 19) (7, 5) _____
- 20) (0, 4) _____





Benutze das Koordinatensystem um die Lage jeder Figur festzulegen.



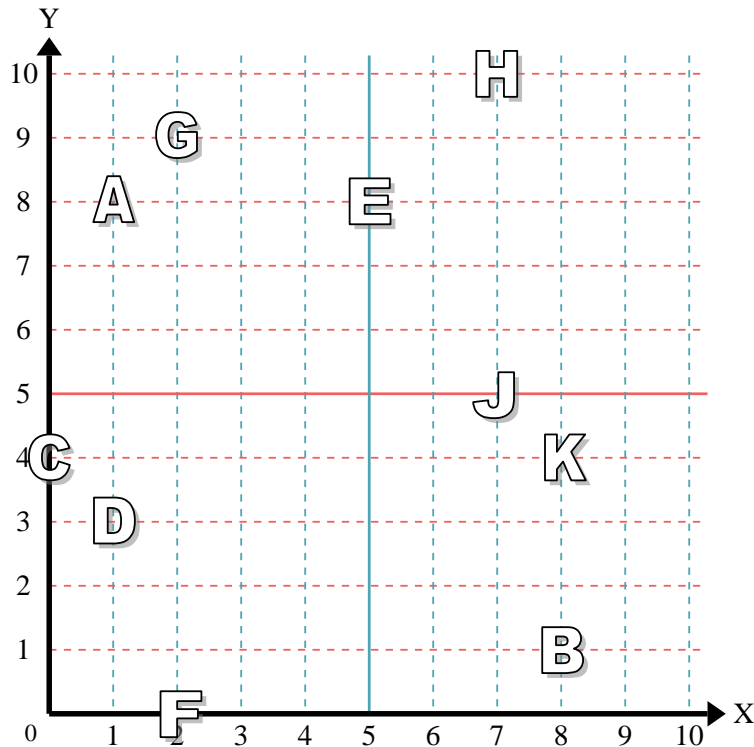
- 1) Stern (6, 10)
- 2) Blitz (5, 5)
- 3) Kreis (5, 3)
- 4) Herz (7, 7)
- 5) Kreuz (6, 7)
- 6) Dreieck (4, 0)
- 7) Mond (2, 5)
- 8) Quadrat (5, 7)
- 9) Diamant (10, 8)
- 10) Musiknote (3, 5)

Antworten

- 1. (6, 10)
- 2. (5, 5)
- 3. (5, 3)
- 4. (7, 7)
- 5. (6, 7)
- 6. (4, 0)
- 7. (2, 5)
- 8. (5, 7)
- 9. (10, 8)
- 10. (3, 5)

Stelle fest, welcher Buchstabe sich auf der Koordinate im Koordinatensystem unten befindet.

- 11) (8, 1) B
- 12) (7, 10) H
- 13) (1, 3) D
- 14) (5, 8) E
- 15) (8, 4) K
- 16) (2, 9) G
- 17) (2, 0) F
- 18) (1, 8) A
- 19) (7, 5) J
- 20) (0, 4) C



- 11. B
- 12. H
- 13. D
- 14. E
- 15. K
- 16. G
- 17. F
- 18. A
- 19. J
- 20. C