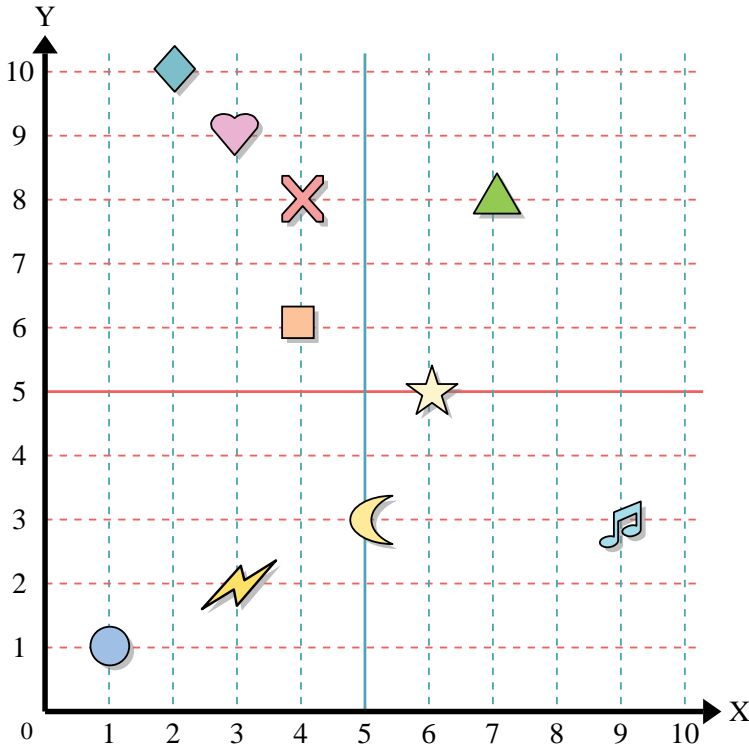




Benutze das Koordinatensystem um die Lage jeder Figur festzulegen.



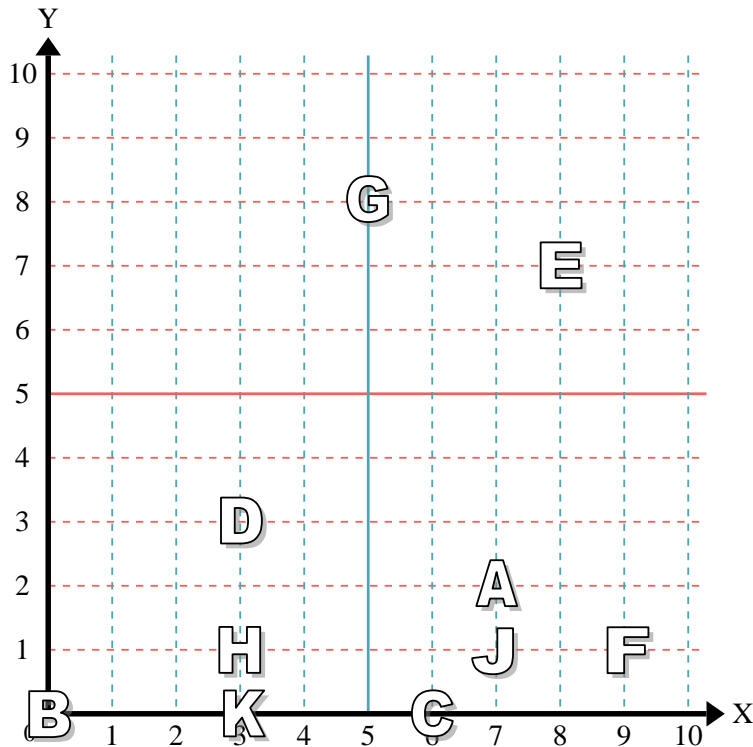
- 1) Stern _____
- 2) Blitz _____
- 3) Kreis _____
- 4) Herz _____
- 5) Kreuz _____
- 6) Dreieck _____
- 7) Mond _____
- 8) Quadrat _____
- 9) Diamant _____
- 10) Musiknote _____

Antworten

- 1. _____
- 2. _____
- 3. _____
- 4. _____
- 5. _____
- 6. _____
- 7. _____
- 8. _____
- 9. _____
- 10. _____
- 11. _____
- 12. _____
- 13. _____
- 14. _____
- 15. _____
- 16. _____
- 17. _____
- 18. _____
- 19. _____
- 20. _____

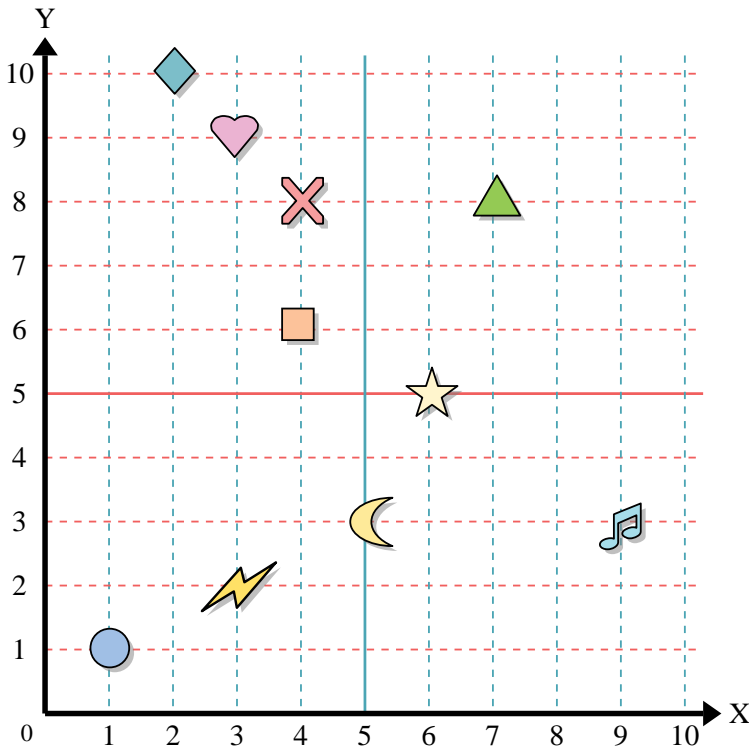
Stelle fest, welcher Buchstabe sich auf der Koordinate im Koordinatensystem unten befindet.

- 11) (3, 0) _____
- 12) (6, 0) _____
- 13) (3, 3) _____
- 14) (0, 0) _____
- 15) (7, 1) _____
- 16) (9, 1) _____
- 17) (8, 7) _____
- 18) (7, 2) _____
- 19) (5, 8) _____
- 20) (3, 1) _____





Benutze das Koordinatensystem um die Lage jeder Figur festzulegen.



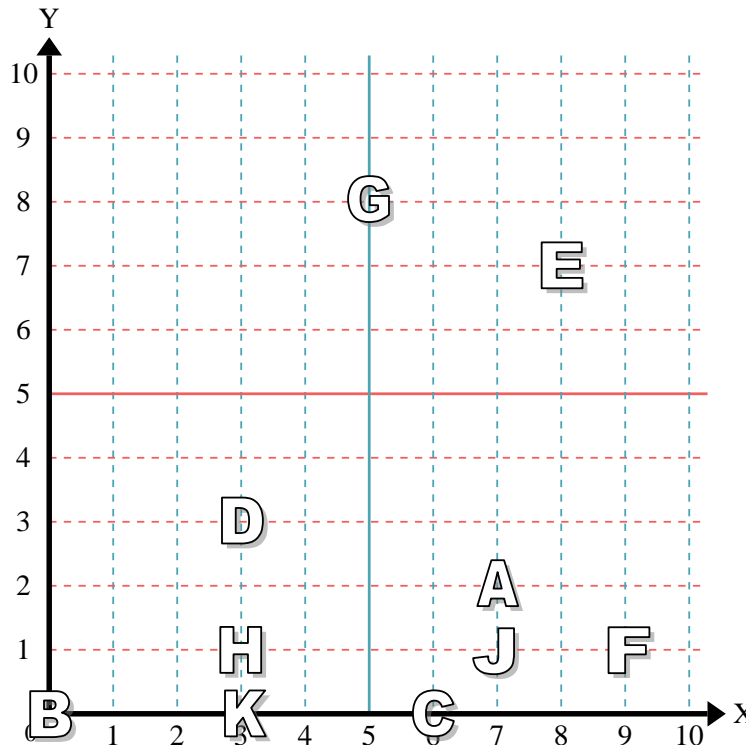
- 1) Stern (6,5)
- 2) Blitz (3,2)
- 3) Kreis (1,1)
- 4) Herz (3,9)
- 5) Kreuz (4,8)
- 6) Dreieck (7,8)
- 7) Mond (5,3)
- 8) Quadrat (4,6)
- 9) Diamant (2,10)
- 10) Musiknote (9,3)

Antworten

- 1. (6,5)
- 2. (3,2)
- 3. (1,1)
- 4. (3,9)
- 5. (4,8)
- 6. (7,8)
- 7. (5,3)
- 8. (4,6)
- 9. (2,10)
- 10. (9,3)

Stelle fest, welcher Buchstabe sich auf der Koordinate im Koordinatensystem unten befindet.

- 11) (3, 0) K
- 12) (6, 0) C
- 13) (3, 3) D
- 14) (0, 0) B
- 15) (7, 1) J
- 16) (9, 1) F
- 17) (8, 7) E
- 18) (7, 2) A
- 19) (5, 8) G
- 20) (3, 1) H



- 11. K
- 12. C
- 13. D
- 14. B
- 15. J
- 16. F
- 17. E
- 18. A
- 19. G
- 20. H