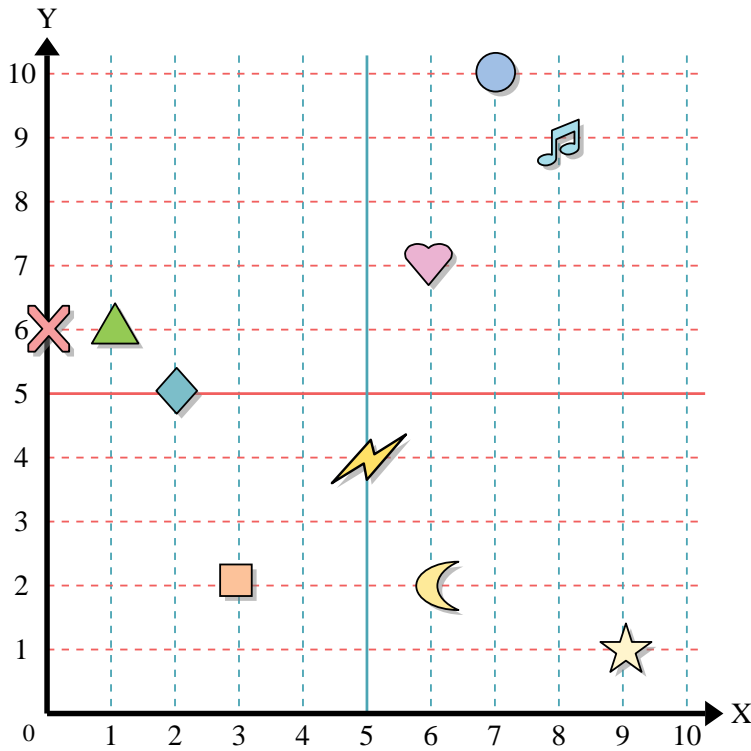




Benutze das Koordinatensystem um die Lage jeder Figur festzulegen.



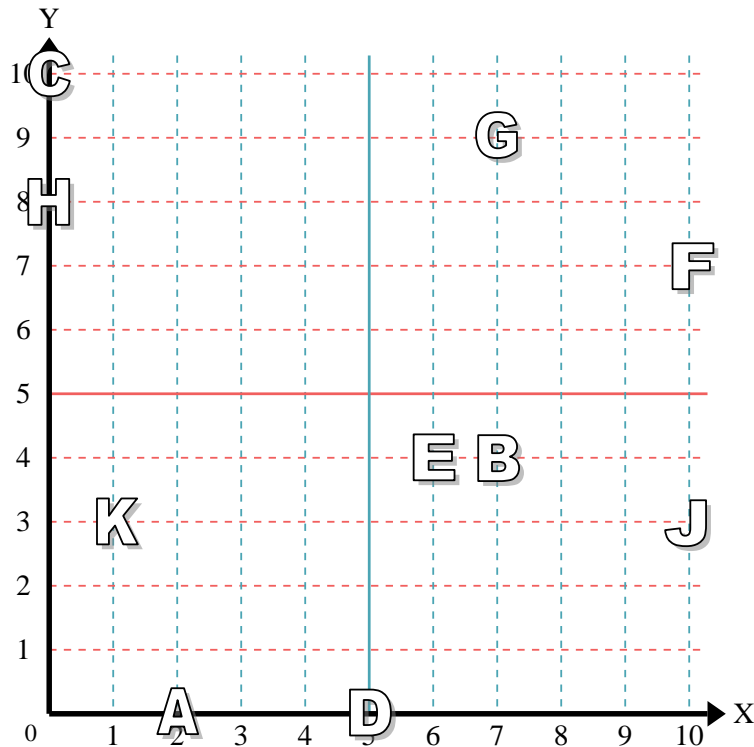
- 1) Stern _____
- 2) Blitz _____
- 3) Kreis _____
- 4) Herz _____
- 5) Kreuz _____
- 6) Dreieck _____
- 7) Mond _____
- 8) Quadrat _____
- 9) Diamant _____
- 10) Musiknote _____

Antworten

- 1. _____
- 2. _____
- 3. _____
- 4. _____
- 5. _____
- 6. _____
- 7. _____
- 8. _____
- 9. _____
- 10. _____
- 11. _____
- 12. _____
- 13. _____
- 14. _____
- 15. _____
- 16. _____
- 17. _____
- 18. _____
- 19. _____
- 20. _____

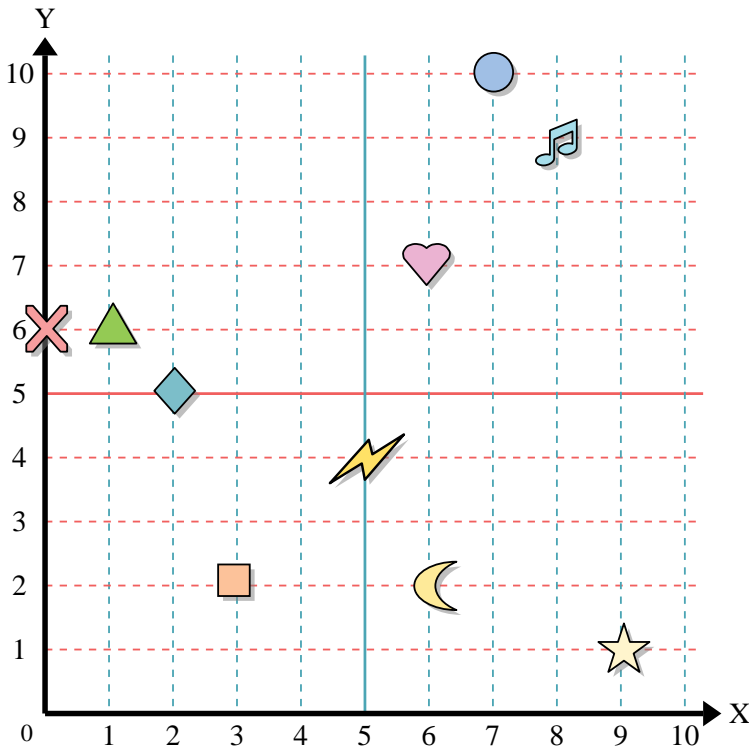
Stelle fest, welcher Buchstabe sich auf der Koordinate im Koordinatensystem unten befindet.

- 11) (2, 0) _____
- 12) (10, 3) _____
- 13) (0, 10) _____
- 14) (7, 9) _____
- 15) (1, 3) _____
- 16) (10, 7) _____
- 17) (7, 4) _____
- 18) (0, 8) _____
- 19) (6, 4) _____
- 20) (5, 0) _____





Benutze das Koordinatensystem um die Lage jeder Figur festzulegen.



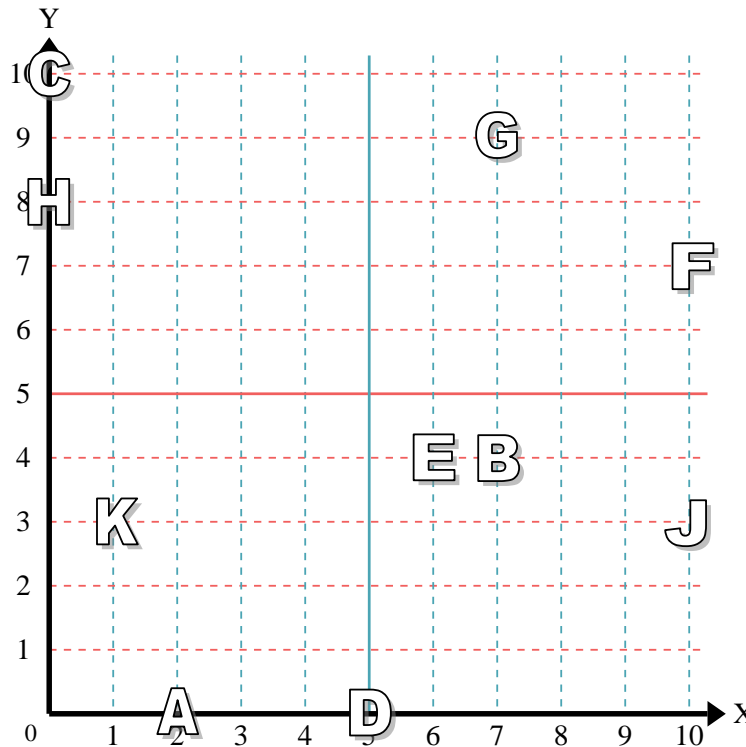
- 1) Stern (9, 1)
- 2) Blitz (5, 4)
- 3) Kreis (7, 10)
- 4) Herz (6, 7)
- 5) Kreuz (0, 6)
- 6) Dreieck (1, 6)
- 7) Mond (6, 2)
- 8) Quadrat (3, 2)
- 9) Diamant (2, 5)
- 10) Musiknote (8, 9)

Antworten

- 1. (9, 1)
- 2. (5, 4)
- 3. (7, 10)
- 4. (6, 7)
- 5. (0, 6)
- 6. (1, 6)
- 7. (6, 2)
- 8. (3, 2)
- 9. (2, 5)
- 10. (8, 9)

Stelle fest, welcher Buchstabe sich auf der Koordinate im Koordinatensystem unten befindet.

- 11) (2, 0) A
- 12) (10, 3) J
- 13) (0, 10) C
- 14) (7, 9) G
- 15) (1, 3) K
- 16) (10, 7) F
- 17) (7, 4) B
- 18) (0, 8) H
- 19) (6, 4) E
- 20) (5, 0) D



- 11. A
- 12. J
- 13. C
- 14. G
- 15. K
- 16. F
- 17. B
- 18. H
- 19. E
- 20. D