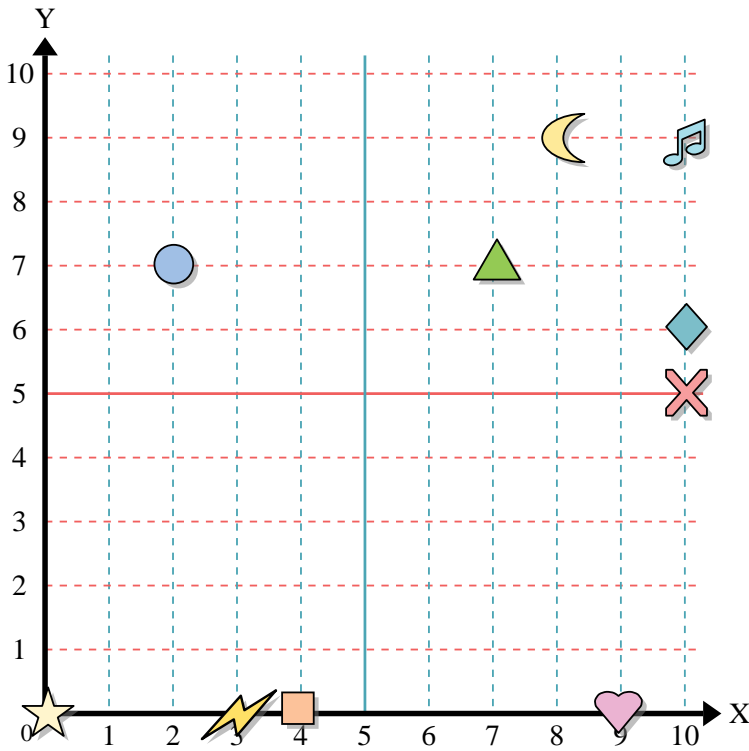




Benutze das Koordinatensystem um die Lage jeder Figur festzulegen.



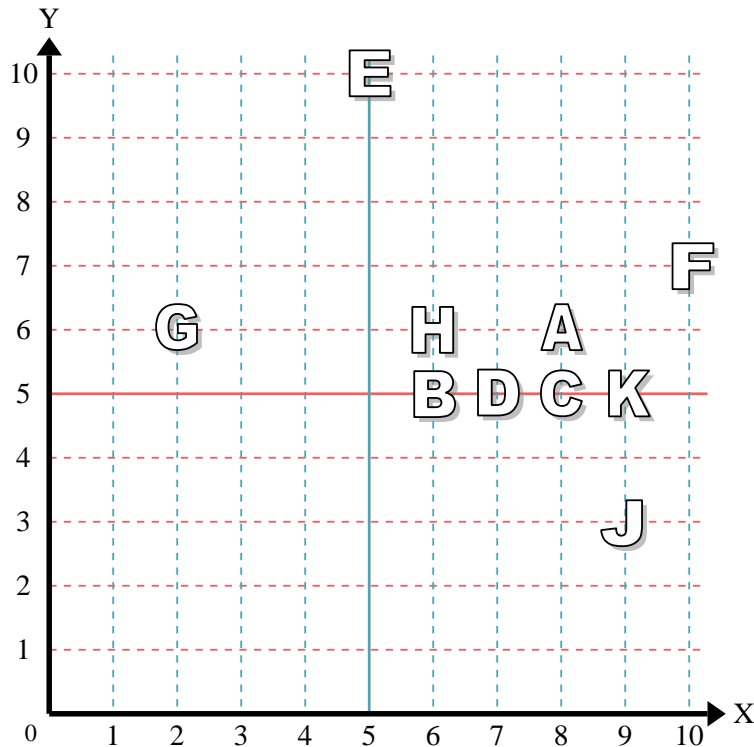
- 1) Stern _____
- 2) Blitz _____
- 3) Kreis _____
- 4) Herz _____
- 5) Kreuz _____
- 6) Dreieck _____
- 7) Mond _____
- 8) Quadrat _____
- 9) Diamant _____
- 10) Musiknote _____

Antworten

- 1. _____
- 2. _____
- 3. _____
- 4. _____
- 5. _____
- 6. _____
- 7. _____
- 8. _____
- 9. _____
- 10. _____
- 11. _____
- 12. _____
- 13. _____
- 14. _____
- 15. _____
- 16. _____
- 17. _____
- 18. _____
- 19. _____
- 20. _____

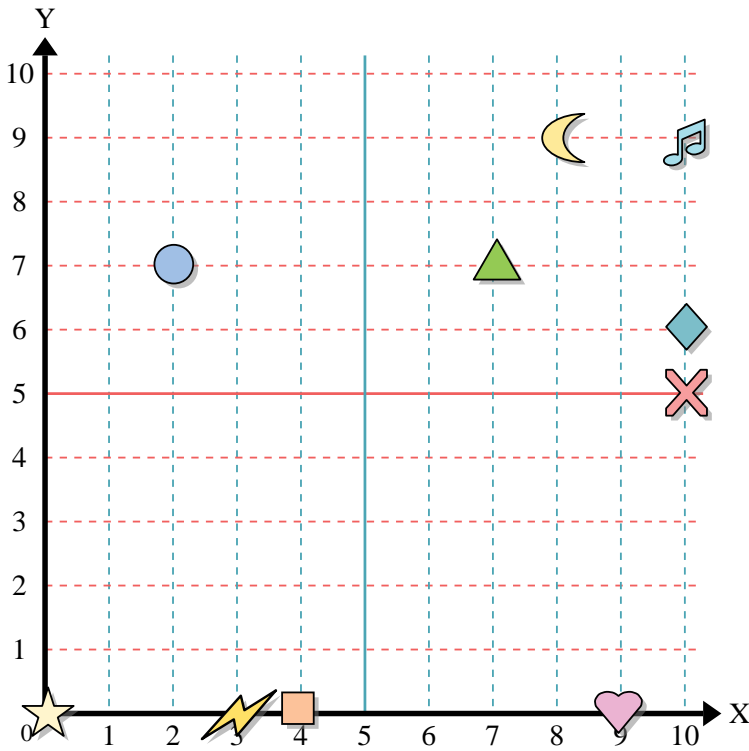
Stelle fest, welcher Buchstabe sich auf der Koordinate im Koordinatensystem unten befindet.

- 11) (9, 5) _____
- 12) (6, 5) _____
- 13) (5, 10) _____
- 14) (7, 5) _____
- 15) (2, 6) _____
- 16) (6, 6) _____
- 17) (9, 3) _____
- 18) (10, 7) _____
- 19) (8, 6) _____
- 20) (8, 5) _____





Benutze das Koordinatensystem um die Lage jeder Figur festzulegen.



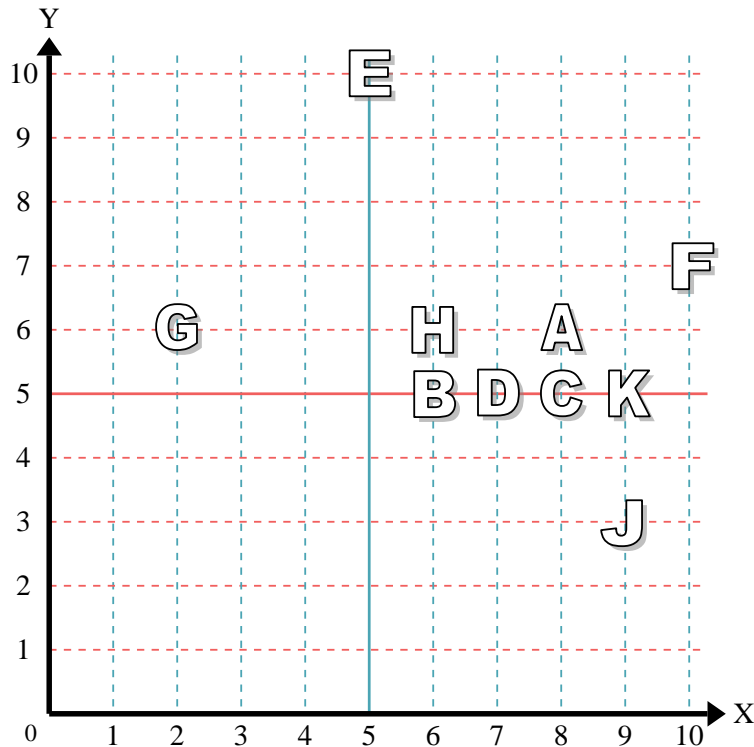
- 1) Stern (0,0)
- 2) Blitz (3,0)
- 3) Kreis (2,7)
- 4) Herz (9,0)
- 5) Kreuz (10,5)
- 6) Dreieck (7,7)
- 7) Mond (8,9)
- 8) Quadrat (4,0)
- 9) Diamant (10,6)
- 10) Musiknote (10,9)

Antworten

- 1. (0,0)
- 2. (3,0)
- 3. (2,7)
- 4. (9,0)
- 5. (10,5)
- 6. (7,7)
- 7. (8,9)
- 8. (4,0)
- 9. (10,6)
- 10. (10,9)

Stelle fest, welcher Buchstabe sich auf der Koordinate im Koordinatensystem unten befindet.

- 11) (9,5) K
- 12) (6,5) B
- 13) (5,10) E
- 14) (7,5) D
- 15) (2,6) G
- 16) (6,6) H
- 17) (9,3) J
- 18) (10,7) F
- 19) (8,6) A
- 20) (8,5) C



- 11. K
- 12. B
- 13. E
- 14. D
- 15. G
- 16. H
- 17. J
- 18. F
- 19. A
- 20. C