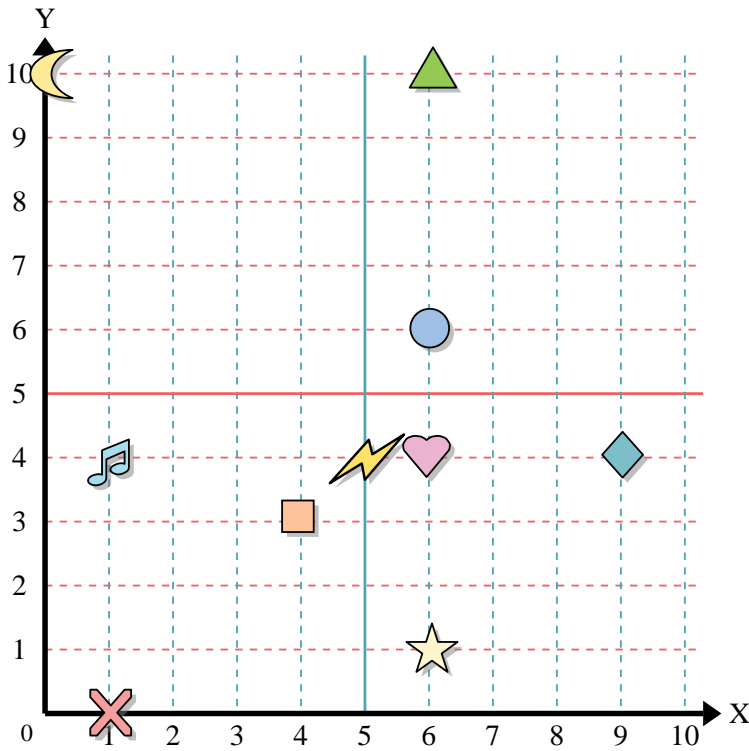




Benutze das Koordinatensystem um die Lage jeder Figur festzulegen.



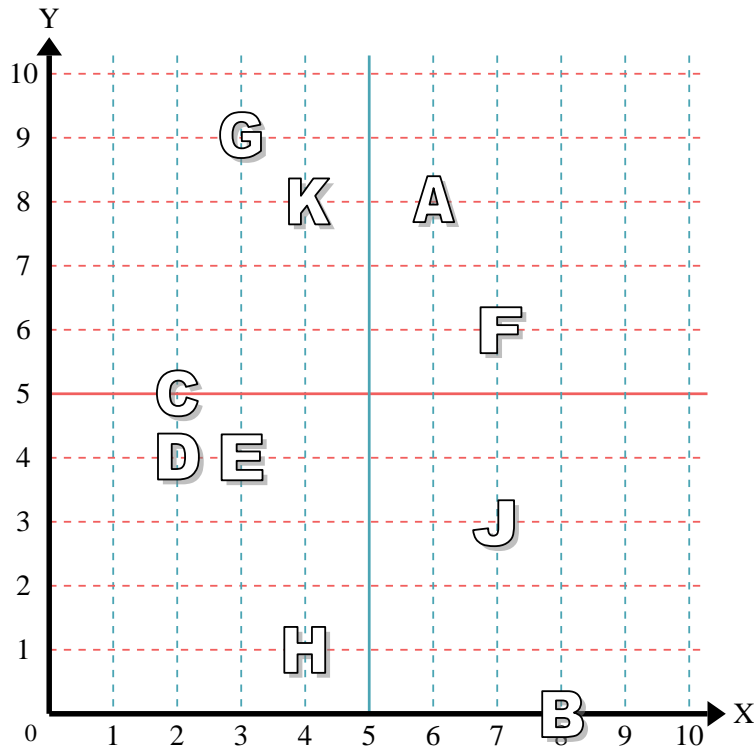
- 1) Stern \_\_\_\_\_
- 2) Blitz \_\_\_\_\_
- 3) Kreis \_\_\_\_\_
- 4) Herz \_\_\_\_\_
- 5) Kreuz \_\_\_\_\_
- 6) Dreieck \_\_\_\_\_
- 7) Mond \_\_\_\_\_
- 8) Quadrat \_\_\_\_\_
- 9) Diamant \_\_\_\_\_
- 10) Musiknote \_\_\_\_\_

Antworten

- 1. \_\_\_\_\_
- 2. \_\_\_\_\_
- 3. \_\_\_\_\_
- 4. \_\_\_\_\_
- 5. \_\_\_\_\_
- 6. \_\_\_\_\_
- 7. \_\_\_\_\_
- 8. \_\_\_\_\_
- 9. \_\_\_\_\_
- 10. \_\_\_\_\_
- 11. \_\_\_\_\_
- 12. \_\_\_\_\_
- 13. \_\_\_\_\_
- 14. \_\_\_\_\_
- 15. \_\_\_\_\_
- 16. \_\_\_\_\_
- 17. \_\_\_\_\_
- 18. \_\_\_\_\_
- 19. \_\_\_\_\_
- 20. \_\_\_\_\_

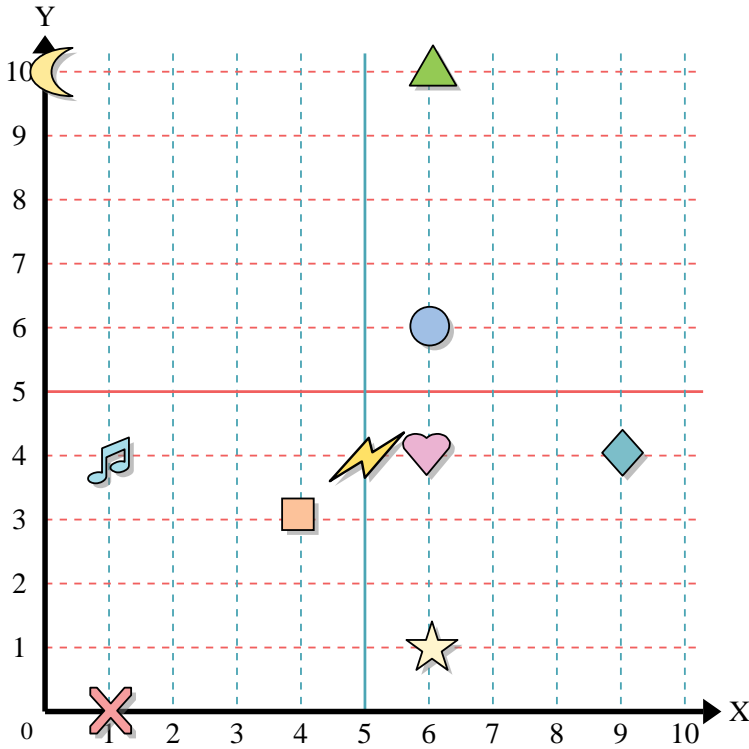
Stelle fest, welcher Buchstabe sich auf der Koordinate im Koordinatensystem unten befindet.

- 11) (6, 8) \_\_\_\_\_
- 12) (2, 5) \_\_\_\_\_
- 13) (8, 0) \_\_\_\_\_
- 14) (4, 8) \_\_\_\_\_
- 15) (4, 1) \_\_\_\_\_
- 16) (3, 9) \_\_\_\_\_
- 17) (2, 4) \_\_\_\_\_
- 18) (3, 4) \_\_\_\_\_
- 19) (7, 3) \_\_\_\_\_
- 20) (7, 6) \_\_\_\_\_





Benutze das Koordinatensystem um die Lage jeder Figur festzulegen.



- 1) Stern (6,1)
- 2) Blitz (5,4)
- 3) Kreis (6,6)
- 4) Herz (6,4)
- 5) Kreuz (1,0)
- 6) Dreieck (6,10)
- 7) Mond (0,10)
- 8) Quadrat (4,3)
- 9) Diamant (9,4)
- 10) Musiknote (1,4)

**Antworten**

- 1. (6,1)
- 2. (5,4)
- 3. (6,6)
- 4. (6,4)
- 5. (1,0)
- 6. (6,10)
- 7. (0,10)
- 8. (4,3)
- 9. (9,4)
- 10. (1,4)
- 11. A
- 12. C
- 13. B
- 14. K
- 15. H
- 16. G
- 17. D
- 18. E
- 19. J
- 20. F

Stelle fest, welcher Buchstabe sich auf der Koordinate im Koordinatensystem unten befindet.

- 11) (6,8) A
- 12) (2,5) C
- 13) (8,0) B
- 14) (4,8) K
- 15) (4,1) H
- 16) (3,9) G
- 17) (2,4) D
- 18) (3,4) E
- 19) (7,3) J
- 20) (7,6) F

