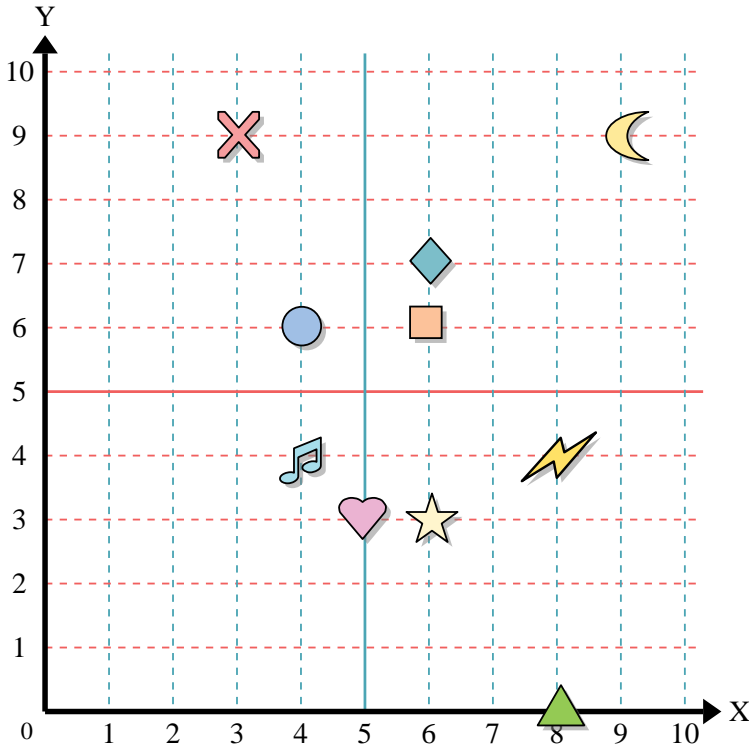




Benutze das Koordinatensystem um die Lage jeder Figur festzulegen.



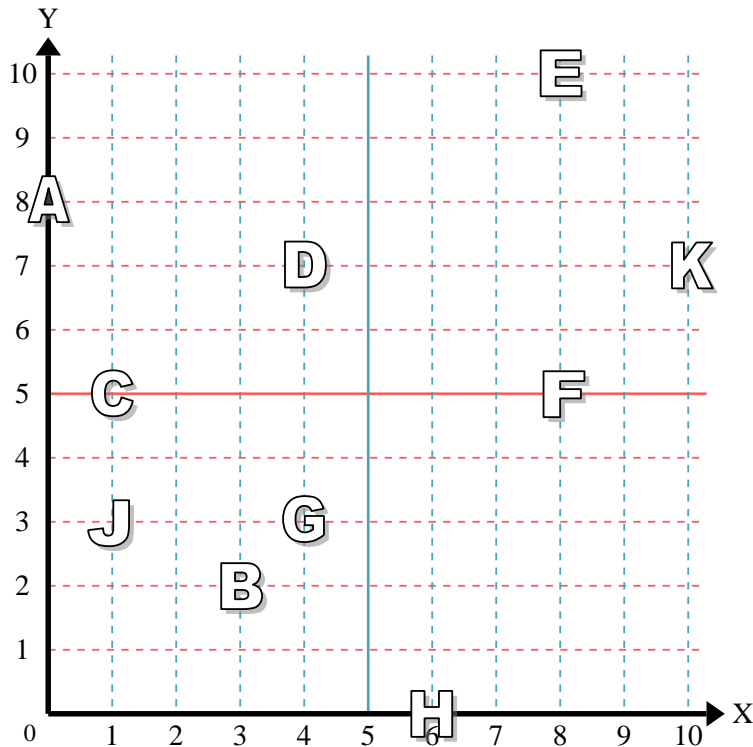
- 1) Stern _____
- 2) Blitz _____
- 3) Kreis _____
- 4) Herz _____
- 5) Kreuz _____
- 6) Dreieck _____
- 7) Mond _____
- 8) Quadrat _____
- 9) Diamant _____
- 10) Musiknote _____

Antworten

- 1. _____
- 2. _____
- 3. _____
- 4. _____
- 5. _____
- 6. _____
- 7. _____
- 8. _____
- 9. _____
- 10. _____
- 11. _____
- 12. _____
- 13. _____
- 14. _____
- 15. _____
- 16. _____
- 17. _____
- 18. _____
- 19. _____
- 20. _____

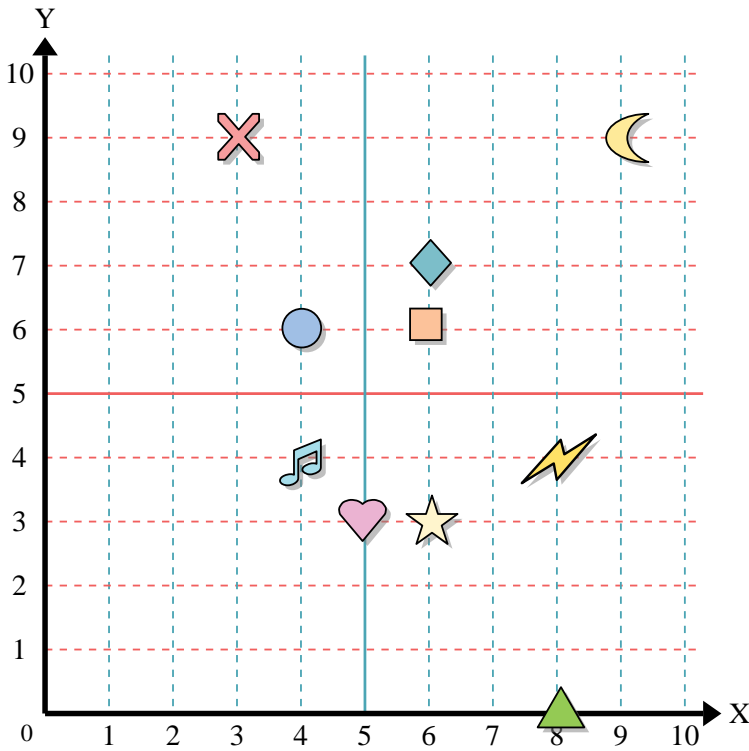
Stelle fest, welcher Buchstabe sich auf der Koordinate im Koordinatensystem unten befindet.

- 11) (8, 10) _____
- 12) (1, 3) _____
- 13) (8, 5) _____
- 14) (6, 0) _____
- 15) (10, 7) _____
- 16) (0, 8) _____
- 17) (1, 5) _____
- 18) (3, 2) _____
- 19) (4, 7) _____
- 20) (4, 3) _____





Benutze das Koordinatensystem um die Lage jeder Figur festzulegen.



- 1) Stern (6,3)
- 2) Blitz (8,4)
- 3) Kreis (4,6)
- 4) Herz (5,3)
- 5) Kreuz (3,9)
- 6) Dreieck (8,0)
- 7) Mond (9,9)
- 8) Quadrat (6,6)
- 9) Diamant (6,7)
- 10) Musiknote (4,4)

Antworten

- 1. (6,3)
- 2. (8,4)
- 3. (4,6)
- 4. (5,3)
- 5. (3,9)
- 6. (8,0)
- 7. (9,9)
- 8. (6,6)
- 9. (6,7)
- 10. (4,4)
- 11. E
- 12. J
- 13. F
- 14. H
- 15. K
- 16. A
- 17. C
- 18. B
- 19. D
- 20. G

Stelle fest, welcher Buchstabe sich auf der Koordinate im Koordinatensystem unten befindet.

- 11) (8, 10) E
- 12) (1, 3) J
- 13) (8, 5) F
- 14) (6, 0) H
- 15) (10, 7) K
- 16) (0, 8) A
- 17) (1, 5) C
- 18) (3, 2) B
- 19) (4, 7) D
- 20) (4, 3) G

