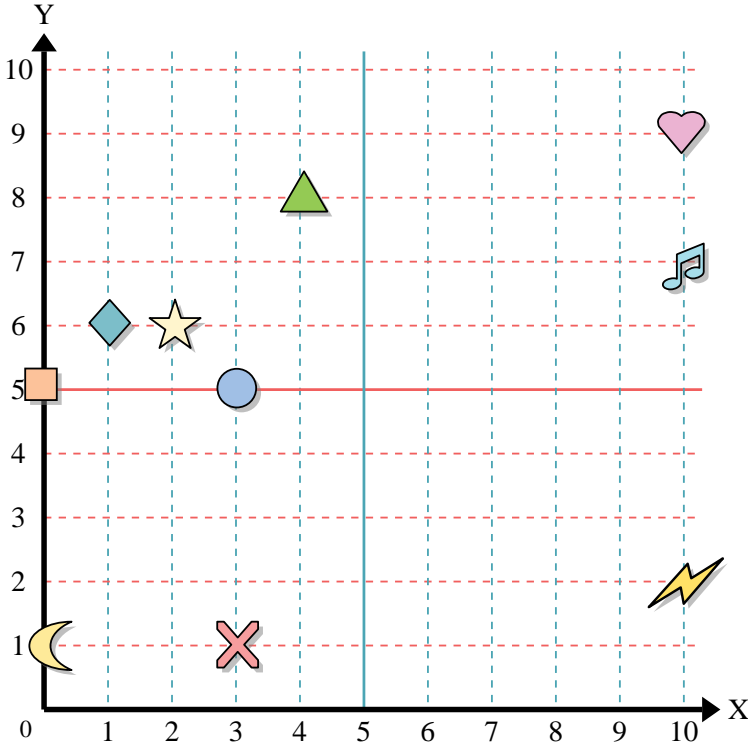




Benutze das Koordinatensystem um die Lage jeder Figur festzulegen.



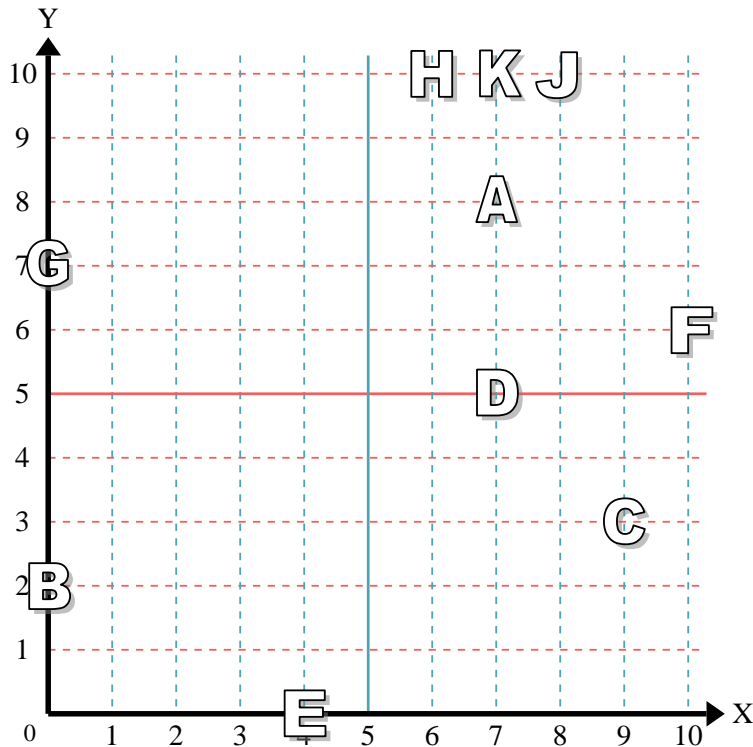
- 1) Stern _____
- 2) Blitz _____
- 3) Kreis _____
- 4) Herz _____
- 5) Kreuz _____
- 6) Dreieck _____
- 7) Mond _____
- 8) Quadrat _____
- 9) Diamant _____
- 10) Musiknote _____

Antworten

- 1. _____
- 2. _____
- 3. _____
- 4. _____
- 5. _____
- 6. _____
- 7. _____
- 8. _____
- 9. _____
- 10. _____
- 11. _____
- 12. _____
- 13. _____
- 14. _____
- 15. _____
- 16. _____
- 17. _____
- 18. _____
- 19. _____
- 20. _____

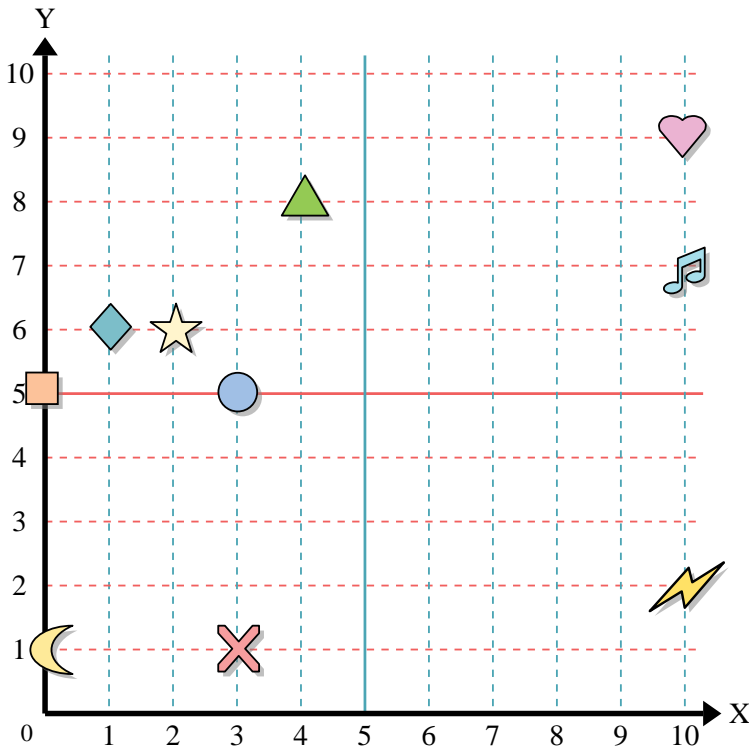
Stelle fest, welcher Buchstabe sich auf der Koordinate im Koordinatensystem unten befindet.

- 11) (0, 2) _____
- 12) (7, 10) _____
- 13) (6, 10) _____
- 14) (8, 10) _____
- 15) (7, 5) _____
- 16) (9, 3) _____
- 17) (10, 6) _____
- 18) (0, 7) _____
- 19) (7, 8) _____
- 20) (4, 0) _____





Benutze das Koordinatensystem um die Lage jeder Figur festzulegen.



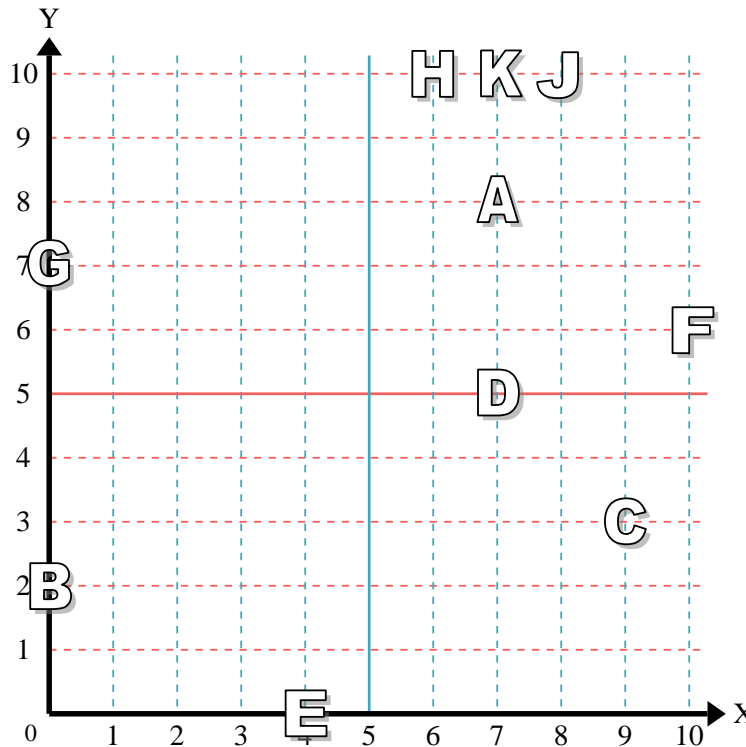
- 1) Stern (2,6)
- 2) Blitz (10,2)
- 3) Kreis (3,5)
- 4) Herz (10,9)
- 5) Kreuz (3,1)
- 6) Dreieck (4,8)
- 7) Mond (0,1)
- 8) Quadrat (0,5)
- 9) Diamant (1,6)
- 10) Musiknote (10,7)

Antworten

- 1. (2,6)
- 2. (10,2)
- 3. (3,5)
- 4. (10,9)
- 5. (3,1)
- 6. (4,8)
- 7. (0,1)
- 8. (0,5)
- 9. (1,6)
- 10. (10,7)

Stelle fest, welcher Buchstabe sich auf der Koordinate im Koordinatensystem unten befindet.

- 11) (0,2) B
- 12) (7,10) K
- 13) (6,10) H
- 14) (8,10) J
- 15) (7,5) D
- 16) (9,3) C
- 17) (10,6) F
- 18) (0,7) G
- 19) (7,8) A
- 20) (4,0) E



- 11. B
- 12. K
- 13. H
- 14. J
- 15. D
- 16. C
- 17. F
- 18. G
- 19. A
- 20. E