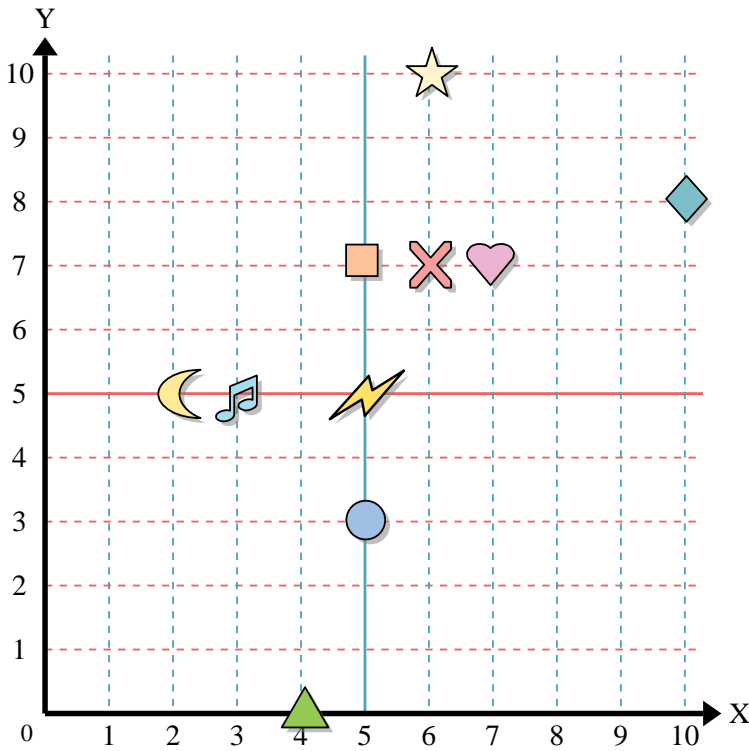




Benutze das Koordinatensystem um die Lage jeder Figur festzulegen.



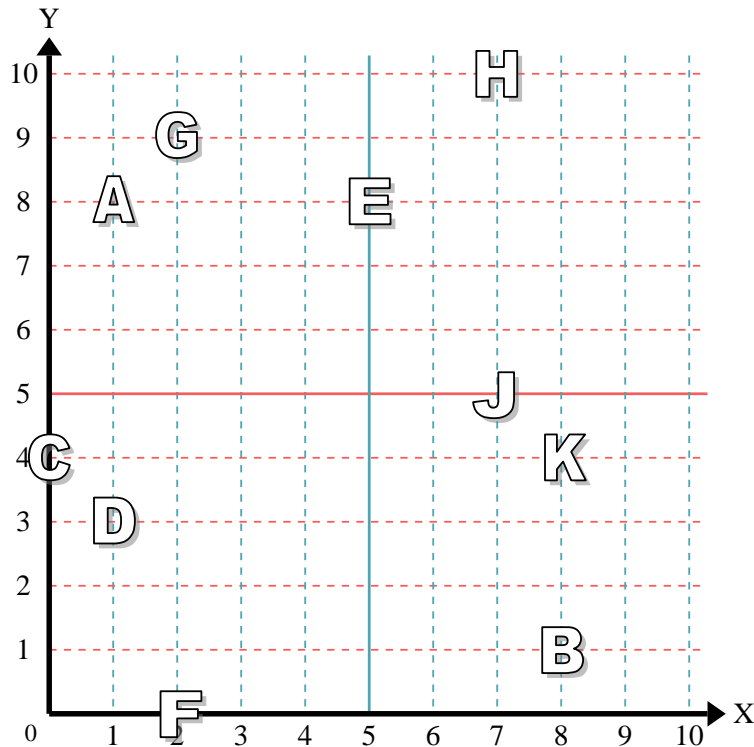
- 1) Stern _____
- 2) Blitz _____
- 3) Kreis _____
- 4) Herz _____
- 5) Kreuz _____
- 6) Dreieck _____
- 7) Mond _____
- 8) Quadrat _____
- 9) Diamant _____
- 10) Musiknote _____

Antworten

- 1. _____
- 2. _____
- 3. _____
- 4. _____
- 5. _____
- 6. _____
- 7. _____
- 8. _____
- 9. _____
- 10. _____
- 11. _____
- 12. _____
- 13. _____
- 14. _____
- 15. _____
- 16. _____
- 17. _____
- 18. _____
- 19. _____
- 20. _____

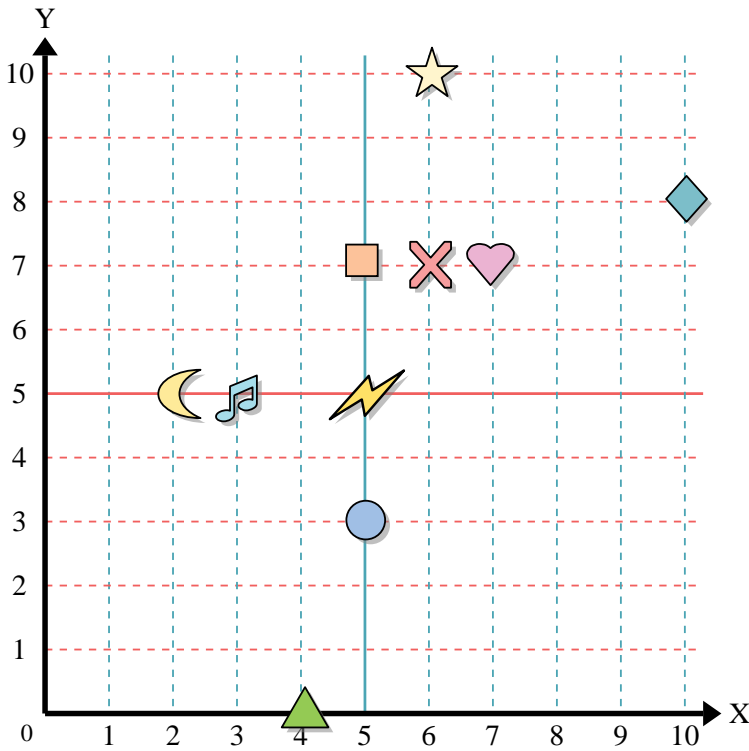
Stelle fest, welcher Buchstabe sich auf der Koordinate im Koordinatensystem unten befindet.

- 11) (8, 1) _____
- 12) (7, 10) _____
- 13) (1, 3) _____
- 14) (5, 8) _____
- 15) (8, 4) _____
- 16) (2, 9) _____
- 17) (2, 0) _____
- 18) (1, 8) _____
- 19) (7, 5) _____
- 20) (0, 4) _____





Benutze das Koordinatensystem um die Lage jeder Figur festzulegen.



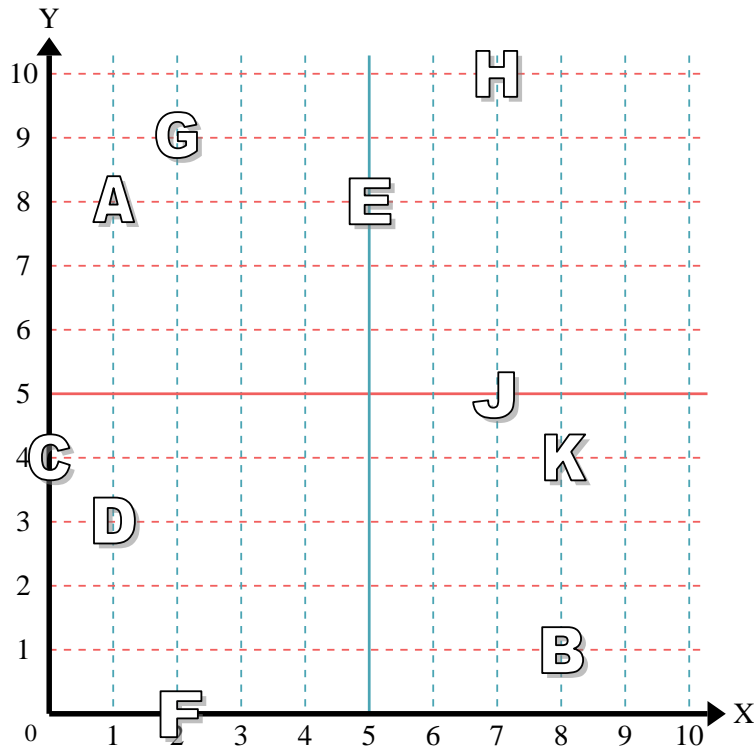
- 1) Stern (6, 10)
- 2) Blitz (5, 5)
- 3) Kreis (5, 3)
- 4) Herz (7, 7)
- 5) Kreuz (6, 7)
- 6) Dreieck (4, 0)
- 7) Mond (2, 5)
- 8) Quadrat (5, 7)
- 9) Diamant (10, 8)
- 10) Musiknote (3, 5)

Antworten

- 1. (6, 10)
- 2. (5, 5)
- 3. (5, 3)
- 4. (7, 7)
- 5. (6, 7)
- 6. (4, 0)
- 7. (2, 5)
- 8. (5, 7)
- 9. (10, 8)
- 10. (3, 5)

Stelle fest, welcher Buchstabe sich auf der Koordinate im Koordinatensystem unten befindet.

- 11) (8, 1) B
- 12) (7, 10) H
- 13) (1, 3) D
- 14) (5, 8) E
- 15) (8, 4) K
- 16) (2, 9) G
- 17) (2, 0) F
- 18) (1, 8) A
- 19) (7, 5) J
- 20) (0, 4) C



- 11. B
- 12. H
- 13. D
- 14. E
- 15. K
- 16. G
- 17. F
- 18. A
- 19. J
- 20. C