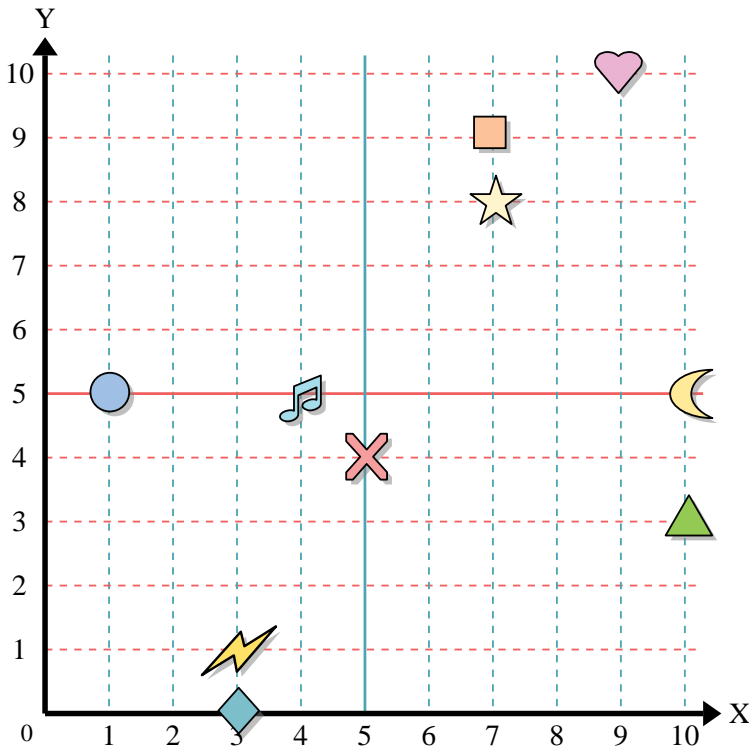




Benutze das Koordinatensystem um die Lage jeder Figur festzulegen.



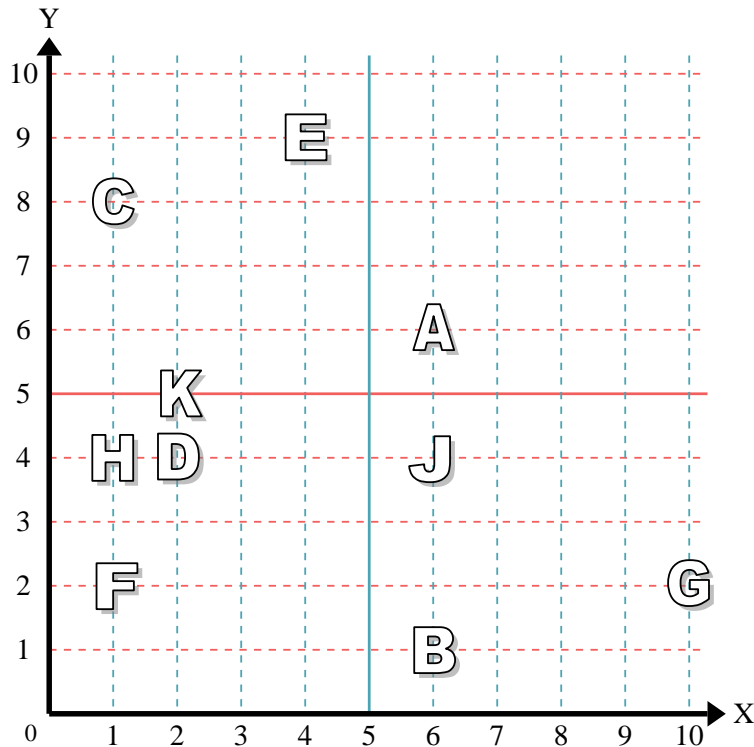
- 1) Stern _____
- 2) Blitz _____
- 3) Kreis _____
- 4) Herz _____
- 5) Kreuz _____
- 6) Dreieck _____
- 7) Mond _____
- 8) Quadrat _____
- 9) Diamant _____
- 10) Musiknote _____

Antworten

- 1. _____
- 2. _____
- 3. _____
- 4. _____
- 5. _____
- 6. _____
- 7. _____
- 8. _____
- 9. _____
- 10. _____
- 11. _____
- 12. _____
- 13. _____
- 14. _____
- 15. _____
- 16. _____
- 17. _____
- 18. _____
- 19. _____
- 20. _____

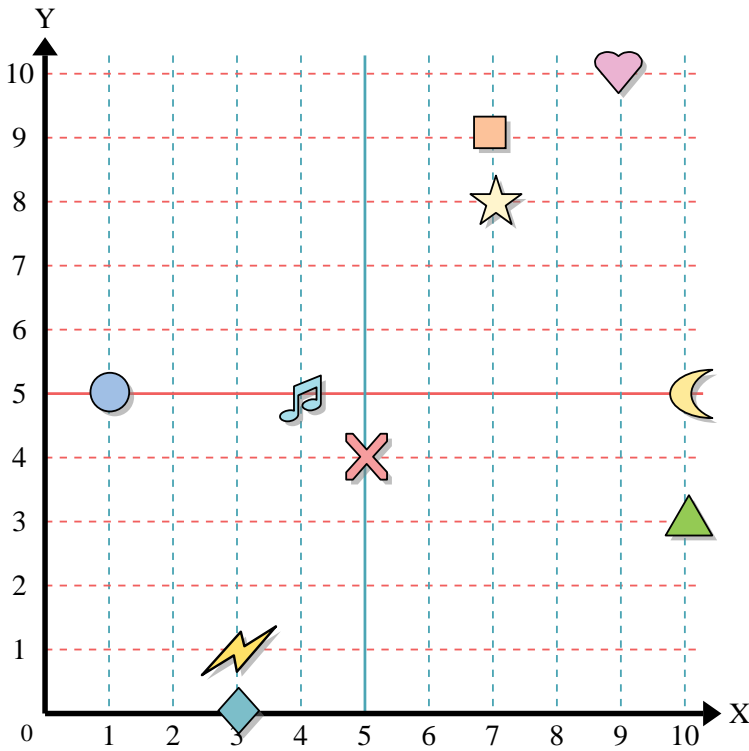
Stelle fest, welcher Buchstabe sich auf der Koordinate im Koordinatensystem unten befindet.

- 11) (4, 9) _____
- 12) (1, 2) _____
- 13) (2, 4) _____
- 14) (6, 1) _____
- 15) (1, 8) _____
- 16) (2, 5) _____
- 17) (10, 2) _____
- 18) (6, 6) _____
- 19) (6, 4) _____
- 20) (1, 4) _____





Benutze das Koordinatensystem um die Lage jeder Figur festzulegen.



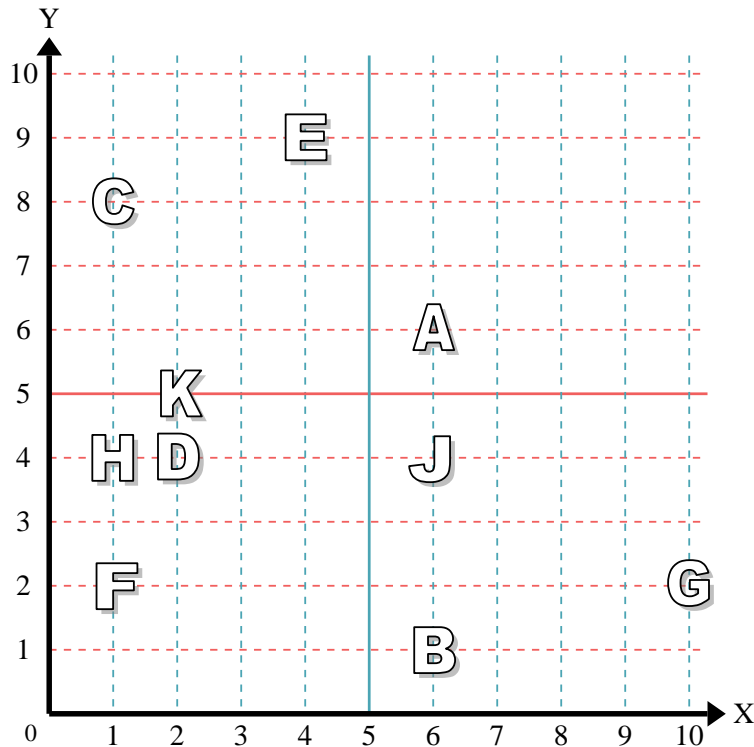
- 1) Stern (7,8)
- 2) Blitz (3,1)
- 3) Kreis (1,5)
- 4) Herz (9,10)
- 5) Kreuz (5,4)
- 6) Dreieck (10,3)
- 7) Mond (10,5)
- 8) Quadrat (7,9)
- 9) Diamant (3,0)
- 10) Musiknote (4,5)

Antworten

- 1. (7,8)
- 2. (3,1)
- 3. (1,5)
- 4. (9,10)
- 5. (5,4)
- 6. (10,3)
- 7. (10,5)
- 8. (7,9)
- 9. (3,0)
- 10. (4,5)

Stelle fest, welcher Buchstabe sich auf der Koordinate im Koordinatensystem unten befindet.

- 11) (4,9) E
- 12) (1,2) F
- 13) (2,4) D
- 14) (6,1) B
- 15) (1,8) C
- 16) (2,5) K
- 17) (10,2) G
- 18) (6,6) A
- 19) (6,4) J
- 20) (1,4) H



- 11. E
- 12. F
- 13. D
- 14. B
- 15. C
- 16. K
- 17. G
- 18. A
- 19. J
- 20. H