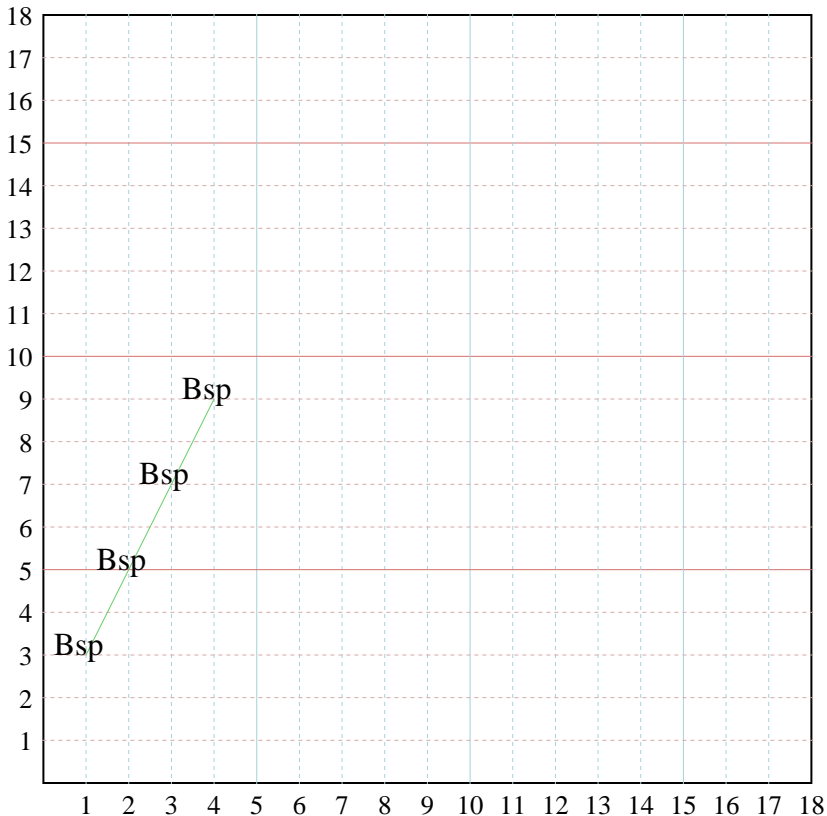




Fülle die Lücken auf und stelle die Koordinatenpaare grafisch dar.



Antworten

Bsp. (1,3)

Bsp. Graph

1. _____

1. Graph

2. _____

2. Graph

3. _____

3. Graph

4. _____

4. Graph

5. _____

5. Graph

Bsp) X: Beginne bei 4 und ziehe 1 ab.

Y: Beginne bei 9 und ziehe 2 ab.

x: 4 3 2 1

y: 9 7 5 3

1) X: Beginne bei 18 und ziehe 3 ab.

Y: Beginne bei 10 und addiere 2.

x: _____

y: _____

2) X: Beginne bei 8 und ziehe 2 ab.

Y: Beginne bei 10 und addiere 2.

x: _____

y: _____

3) X: Beginne bei 5 und addiere 1.

Y: Beginne bei 5 und addiere 2.

x: _____

y: _____

4) X: Beginne bei 4 und addiere 1.

Y: Beginne bei 9 und addiere 1.

x: _____

y: _____

5) X: Beginne bei 6 und addiere 2.

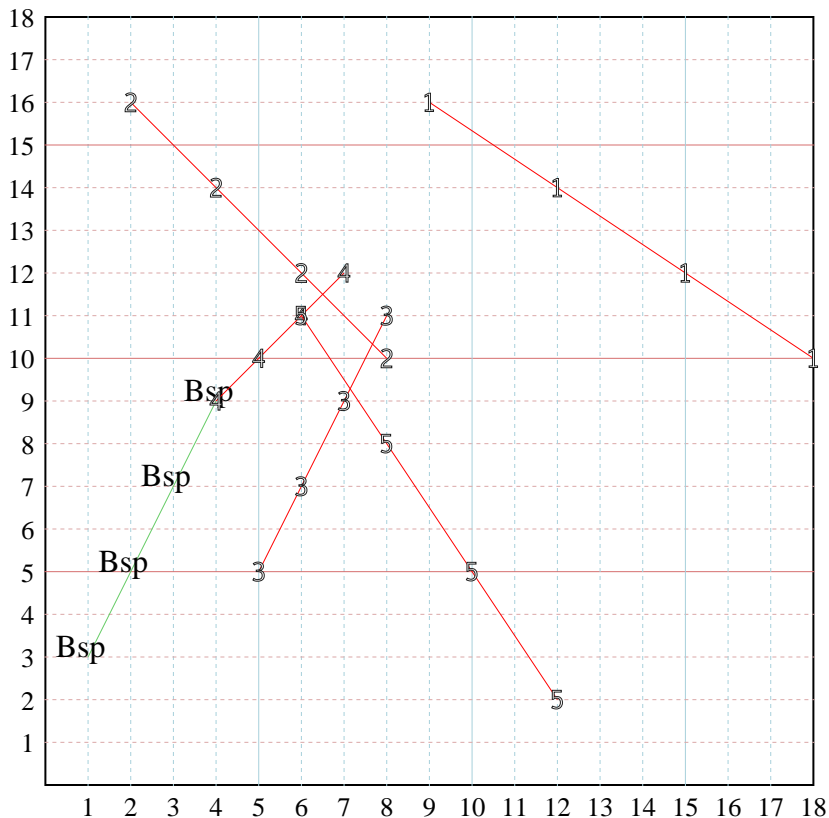
Y: Beginne bei 11 und ziehe 3 ab.

x: _____

y: _____



Fülle die Lücken auf und stelle die Koordinatenpaare grafisch dar.

**Bsp)** X: Beginne bei 4 und ziehe 1 ab.

Y: Beginne bei 9 und ziehe 2 ab.

x: 4 3 2 1y: 9 7 5 3**1)** X: Beginne bei 18 und ziehe 3 ab.

Y: Beginne bei 10 und addiere 2.

x: _____

y: _____

2) X: Beginne bei 8 und ziehe 2 ab.

Y: Beginne bei 10 und addiere 2.

x: _____

y: _____

3) X: Beginne bei 5 und addiere 1.

Y: Beginne bei 5 und addiere 2.

x: _____

y: _____

4) X: Beginne bei 4 und addiere 1.

Y: Beginne bei 9 und addiere 1.

x: _____

y: _____

5) X: Beginne bei 6 und addiere 2.

Y: Beginne bei 11 und ziehe 3 ab.

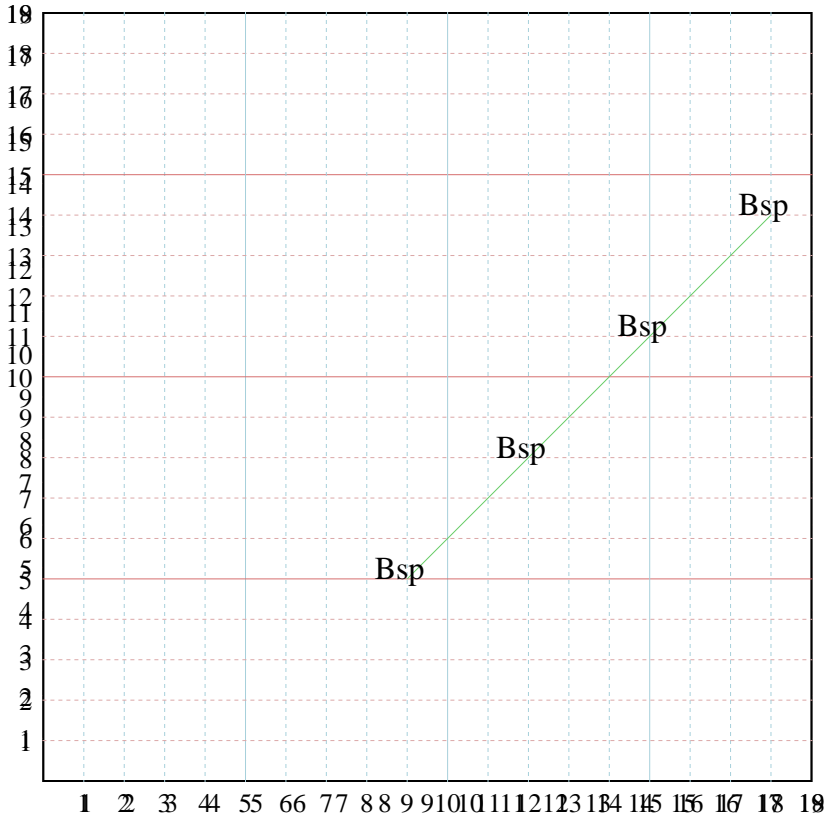
x: _____

y: _____

AntwortenBsp. (1,3)Bsp. Graph1. (9,16)1. Graph2. (2,16)2. Graph3. (8,11)3. Graph4. (7,12)4. Graph5. (12,2)5. Graph



Fülle die Lücken auf und stelle die Koordinatenpaare grafisch dar.



Antworten

Bsp. (9,5)

Bsp. Graph

1. _____

1. Graph

2. _____

2. Graph

3. _____

3. Graph

4. _____

4. Graph

5. _____

5. Graph

Bsp) X: Beginne bei 48 und addiere 3 ab.

Y: Beginne bei 94 und addiere 2 ab.

x: 48 55 62 69

y: 94 91 88 85

1) X: Beginne bei 18 und addiere 3 ab.

Y: Beginne bei 10 und addiere 2.

x: _____

y: _____

2) X: Beginne bei 8 und addiere 2 ab.

Y: Beginne bei 7 und addiere 2.

x: _____

y: _____

3) X: Beginne bei 3 und addiere 2 ab.

Y: Beginne bei 5 und addiere 2 ab.

x: _____

y: _____

4) X: Beginne bei 4 und addiere 3 ab.

Y: Beginne bei 9 und addiere 3 ab.

x: _____

y: _____

5) X: Beginne bei 6 und addiere 2.

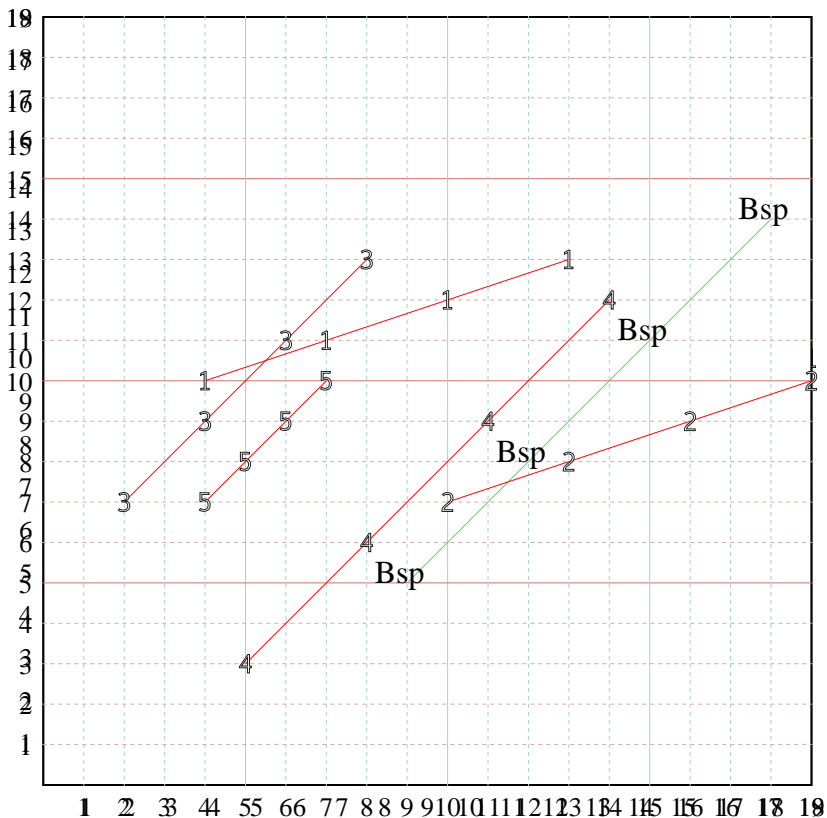
Y: Beginne bei 7 und addiere 3 ab.

x: _____

y: _____



Fülle die Lücken auf und stelle die Koordinatenpaare grafisch dar.



Antworten

Bsp. (9,5)

Bsp. Graph

1. (13,13)

1. Graph

2. (19,10)

2. Graph

3. (2,7)

3. Graph

4. (5,3)

4. Graph

5. (7,10)

5. Graph

Bsp) X: Beginne bei 48 und addiere 3 ab.

Y: Beginne bei 94 und addiere 2 ab.

x: 48 55 62 69

y: 94 91 88 85

1) X: Beginne bei 18 und addiere 3 ab.

Y: Beginne bei 10 und addiere 2.

x: _____

y: _____

2) X: Beginne bei 8 und addiere 2 ab.

Y: Beginne bei 7 und addiere 2.

x: _____

y: _____

3) X: Beginne bei 3 und addiere 2 ab.

Y: Beginne bei 5 und addiere 2 ab.

x: _____

y: _____

4) X: Beginne bei 4 und addiere 3 ab.

Y: Beginne bei 9 und addiere 3 ab.

x: _____

y: _____

5) X: Beginne bei 6 und addiere 2.

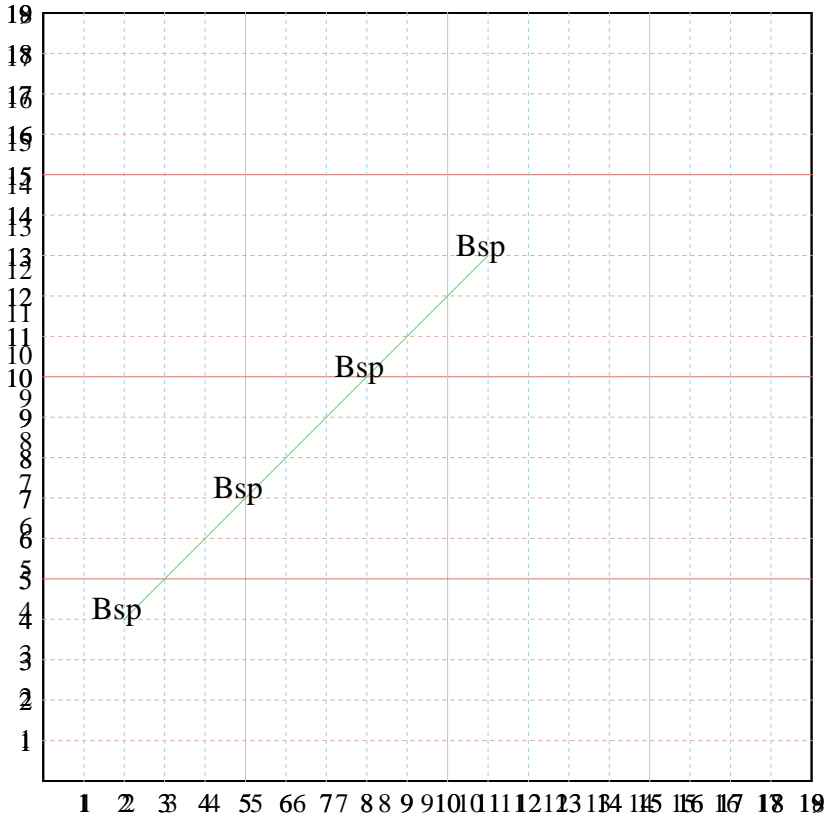
Y: Beginne bei 7 und addiere 3 ab.

x: _____

y: _____



Fülle die Lücken auf und stelle die Koordinatenpaare grafisch dar.



Antworten

Bsp. (11,13)

Bsp. Graph

1. _____

1. Graph

2. _____

2. Graph

3. _____

3. Graph

4. _____

4. Graph

5. _____

5. Graph

Bsp) X: Beginne bei 18 und addiere 3 ab.

Y: Beginne bei 4 und addiere 3 ab.

x: 21 24 27 30

y: 7 10 13 16

1) X: Beginne bei 19 und addiere 3 ab.

Y: Beginne bei 10 und addiere 1 ab.

x: _____

y: _____

2) X: Beginne bei 80 und addiere 3 ab.

Y: Beginne bei 70 und addiere 3 ab.

x: _____

y: _____

3) X: Beginne bei 3 und addiere 2 ab.

Y: Beginne bei 3 und addiere 2 ab.

x: _____

y: _____

4) X: Beginne bei 4 und addiere 3 ab.

Y: Beginne bei 9 und addiere 3 ab.

x: _____

y: _____

5) X: Beginne bei 9 und addiere 2 ab.

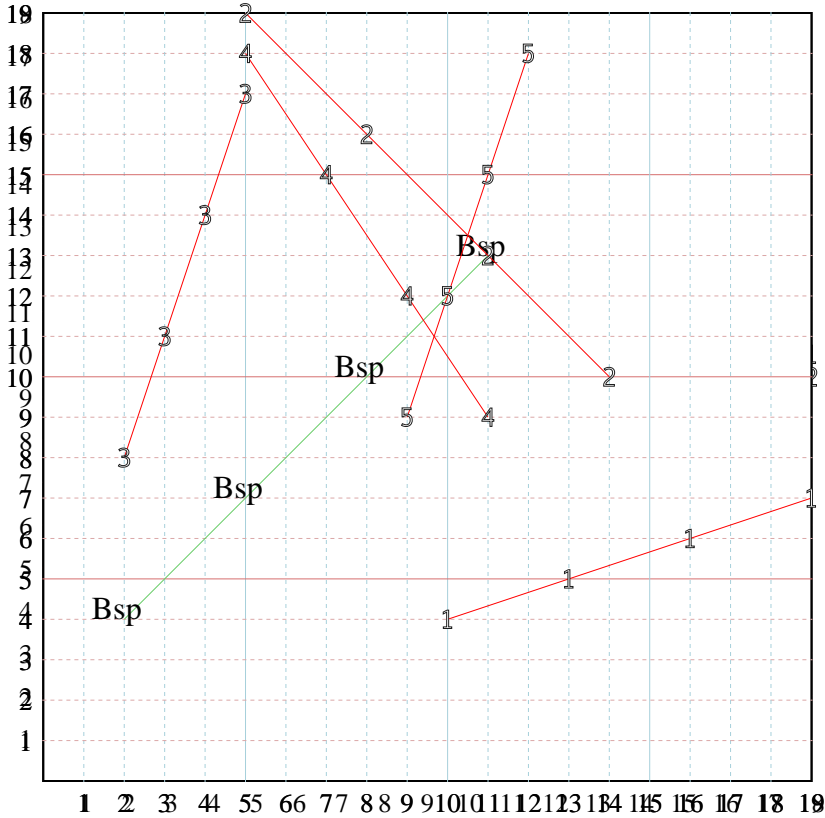
Y: Beginne bei 9 und addiere 3 ab.

x: _____

y: _____



Fülle die Lücken auf und stelle die Koordinatenpaare grafisch dar.



Antworten

Bsp. (11,13)

Bsp. Graph

1. (10,4)

1. Graph

2. (5,19)

2. Graph

3. (5,17)

3. Graph

4. (11,9)

4. Graph

5. (12,18)

5. Graph

Bsp) X: Beginne bei ~~18~~ und ~~addiere 3~~ ab.
 Y: Beginne bei ~~4~~ und ~~addiere 3~~ ab.
 x: 28 35 42 49
 y: 44 71 18 13

1) X: Beginne bei ~~19~~ und ~~addiere 3~~ ab.
 Y: Beginne bei ~~10~~ und ~~addiere 1~~ ab.
 x: _____
 y: _____

2) X: Beginne bei ~~8~~ und ~~addiere 3~~ ab.
 Y: Beginne bei ~~7~~ und ~~addiere 3~~ ab.
 x: _____
 y: _____

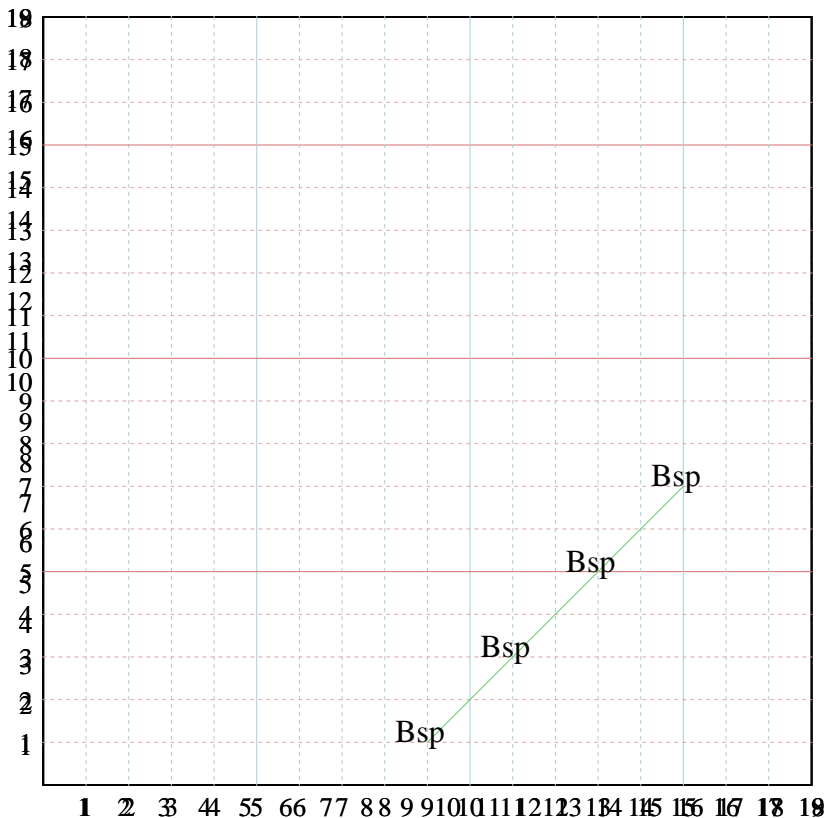
3) X: Beginne bei ~~3~~ und ~~addiere 1~~ ab.
 Y: Beginne bei ~~3~~ und ~~addiere 2~~ ab.
 x: _____
 y: _____

4) X: Beginne bei ~~4~~ und ~~addiere 3~~ ab.
 Y: Beginne bei ~~9~~ und ~~addiere 3~~ ab.
 x: _____
 y: _____

5) X: Beginne bei ~~9~~ und ~~addiere 1~~ ab.
 Y: Beginne bei ~~9~~ und ~~addiere 3~~ ab.
 x: _____
 y: _____



Fülle die Lücken auf und stelle die Koordinatenpaare grafisch dar.



Antworten

Bsp. (9,1)

Bsp. Graph

1. _____

1. Graph

2. _____

2. Graph

3. _____

3. Graph

4. _____

4. Graph

5. _____

5. Graph

Bsp) X: Beginne bei 10 und addiere 5 ab.

Y: Beginne bei 1 und addiere 2 ab.

x: 15 20 25 30

y: 1 3 5 7

1) X: Beginne bei 10 und addiere 3 ab.

Y: Beginne bei 10 und addiere 2 ab.

x: _____

y: _____

2) X: Beginne bei 10 und addiere 3 ab.

Y: Beginne bei 10 und addiere 3 ab.

x: _____

y: _____

3) X: Beginne bei 3 und addiere 2 ab.

Y: Beginne bei 3 und addiere 2 ab.

x: _____

y: _____

4) X: Beginne bei 4 und addiere 3 ab.

Y: Beginne bei 9 und addiere 3 ab.

x: _____

y: _____

5) X: Beginne bei 0 und addiere 1.

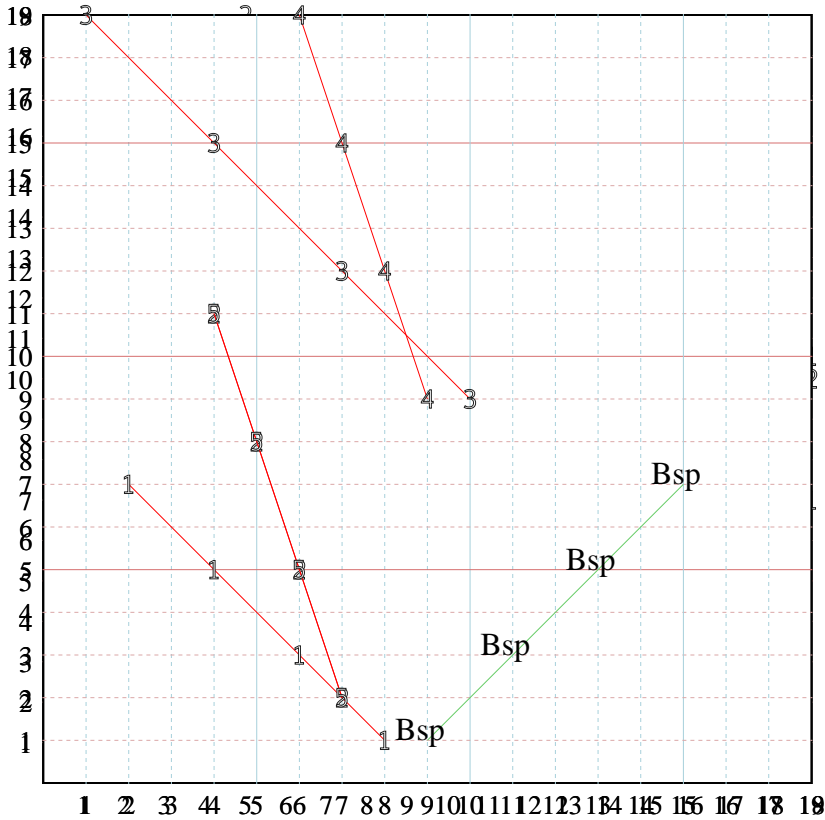
Y: Beginne bei 0 und addiere 3 ab.

x: _____

y: _____



Fülle die Lücken auf und stelle die Koordinatenpaare grafisch dar.



Antworten

Bsp. (9,1)

Bsp. Graph

1. (2,7)

1. Graph

2. (7,2)

2. Graph

3. (10,9)

3. Graph

4. (9,9)

4. Graph

5. (7,2)

5. Graph

Bsp) X: Beginne bei ~~15~~ und ~~addiere 3~~ ab.
 Y: Beginne bei ~~4~~ und ~~addiere 3~~ ab.
 x: 18 35 82 19
 y: 7 71 18 13

1) X: Beginne bei ~~19~~ und ~~addiere 3~~ ab.
 Y: Beginne bei ~~10~~ und ~~addiere 2~~ ab.
 x: _____
 y: _____

2) X: Beginne bei ~~30~~ und ~~addiere 3~~ ab.
 Y: Beginne bei ~~10~~ und ~~addiere 3~~ ab.
 x: _____
 y: _____

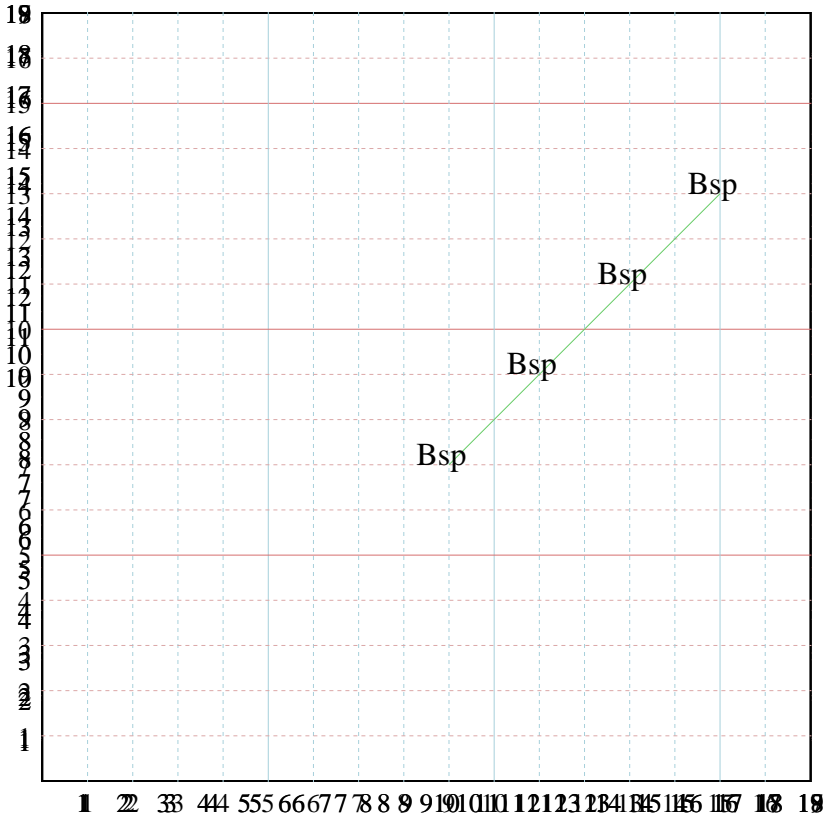
3) X: Beginne bei ~~3~~ und ~~addiere 2~~ ab.
 Y: Beginne bei ~~3~~ und ~~addiere 2~~ ab.
 x: _____
 y: _____

4) X: Beginne bei ~~4~~ und ~~addiere 3~~ ab.
 Y: Beginne bei ~~9~~ und ~~addiere 3~~ ab.
 x: _____
 y: _____

5) X: Beginne bei ~~4~~ und ~~addiere 1~~ ab.
 Y: Beginne bei ~~9~~ und ~~addiere 3~~ ab.
 x: _____
 y: _____



Fülle die Lücken auf und stelle die Koordinatenpaare grafisch dar.



Antworten

Bsp. (9,7)

Bsp. Graph

1. _____

1. Graph

2. _____

2. Graph

3. _____

3. Graph

4. _____

4. Graph

5. _____

5. Graph

Bsp) X: Beginne bei ~~15~~ und ~~zähle 2~~ ab.

Y: Beginne bei ~~11~~ und ~~zähle 2~~ ab.

x: 15 33 21 19

y: 11 71 19 13

1) X: Beginne bei ~~15~~ und ~~zähle 3~~ ab.

Y: Beginne bei ~~10~~ und ~~zähle 2~~ ab.

x: _____

y: _____

2) X: Beginne bei ~~10~~ und ~~zähle 3~~ ab.

Y: Beginne bei ~~10~~ und ~~zähle 2~~ ab.

x: _____

y: _____

3) X: Beginne bei ~~3~~ und ~~addiere 1~~.

Y: Beginne bei ~~3~~ und ~~addiere 2~~ ab.

x: _____

y: _____

4) X: Beginne bei ~~4~~ und ~~addiere 3~~ ab.

Y: Beginne bei ~~18~~ und ~~zähle 3~~ ab.

x: _____

y: _____

5) X: Beginne bei ~~4~~ und ~~addiere 2~~ ab.

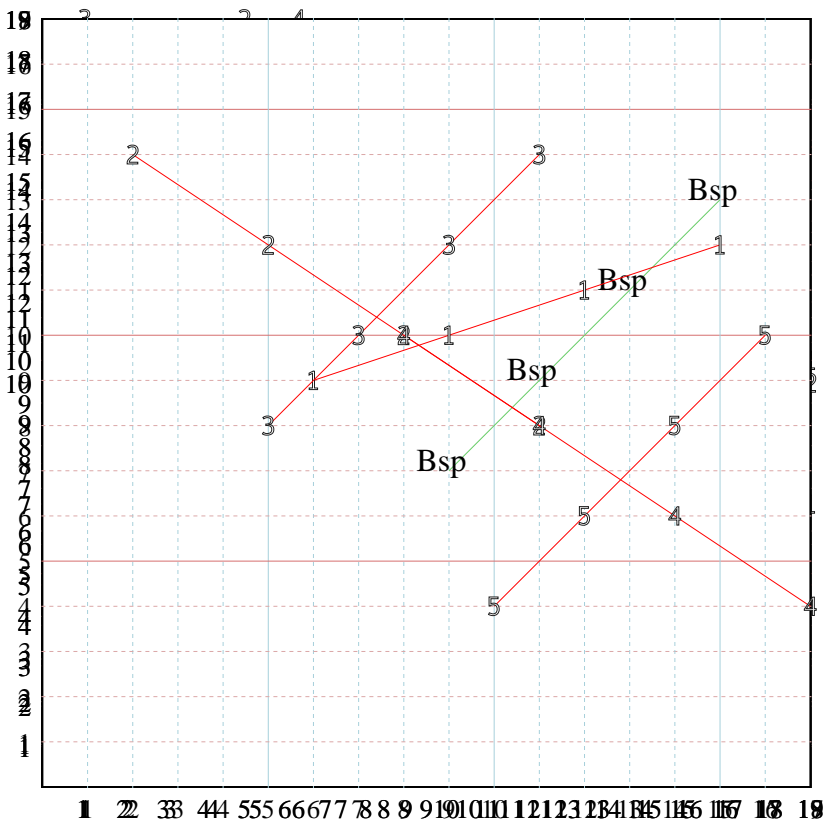
Y: Beginne bei ~~17~~ und ~~zähle 3~~ ab.

x: _____

y: _____



Fülle die Lücken auf und stelle die Koordinatenpaare grafisch dar.



Antworten

Bsp. (9,7)

Bsp. Graph

1. (6,9)

1. Graph

2. (2,14)

2. Graph

3. (11,14)

3. Graph

4. (8,10)

4. Graph

5. (10,4)

5. Graph

Bsp) X: Beginne bei ~~15~~ und addiere ~~2~~ ab.

Y: Beginne bei ~~14~~ und addiere ~~2~~ ab.

x: 15 17 19 21

y: 14 16 18 20

1) X: Beginne bei ~~15~~ und addiere ~~3~~ ab.

Y: Beginne bei ~~10~~ und addiere ~~2~~ ab.

x: _____

y: _____

2) X: Beginne bei ~~10~~ und addiere ~~3~~ ab.

Y: Beginne bei ~~10~~ und addiere ~~2~~ ab.

x: _____

y: _____

3) X: Beginne bei ~~3~~ und addiere ~~1~~ ab.

Y: Beginne bei ~~3~~ und addiere ~~2~~ ab.

x: _____

y: _____

4) X: Beginne bei ~~4~~ und addiere ~~3~~ ab.

Y: Beginne bei ~~18~~ und addiere ~~3~~ ab.

x: _____

y: _____

5) X: Beginne bei ~~4~~ und addiere ~~2~~ ab.

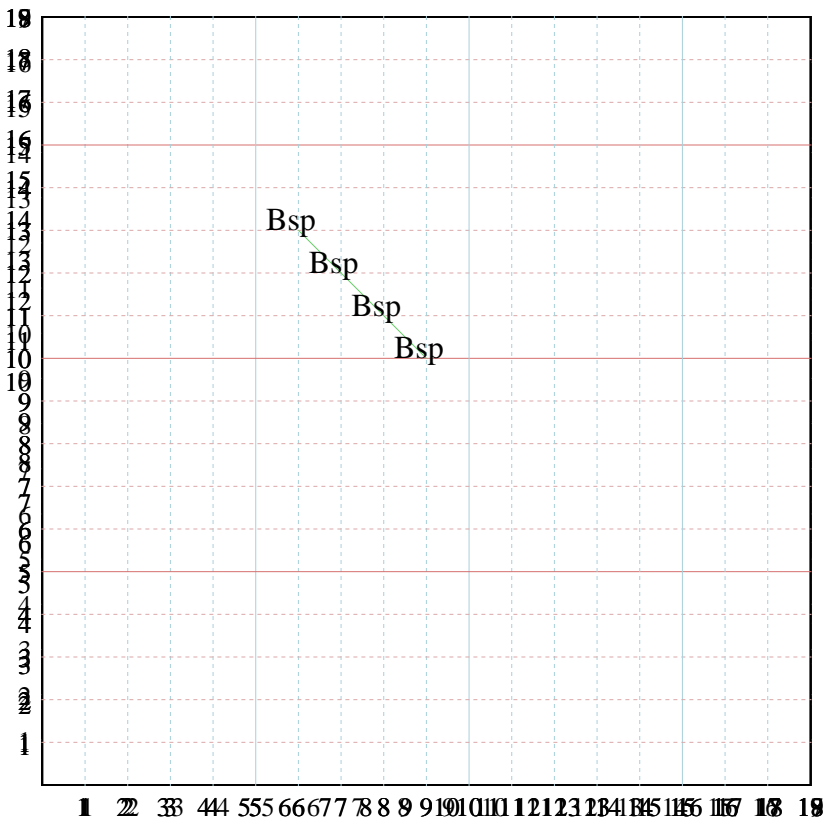
Y: Beginne bei ~~17~~ und addiere ~~3~~ ab.

x: _____

y: _____



Fülle die Lücken auf und stelle die Koordinatenpaare grafisch dar.



Antworten

Bsp. (9,10)

Bsp. Graph

1. _____

1. Graph

2. _____

2. Graph

3. _____

3. Graph

4. _____

4. Graph

5. _____

5. Graph

Bsp) X: Beginne bei 5 und zähle 3 ab.

Y: Beginne bei 13 und zähle 3 ab.

x: 2 5 8 11

y: 13 12 11 10

1) X: Beginne bei 10 und zähle 3 ab.

Y: Beginne bei 10 und zähle 2 ab.

x: _____

y: _____

2) X: Beginne bei 3 und zähle 3 ab.

Y: Beginne bei 3 und zähle 2 ab.

x: _____

y: _____

3) X: Beginne bei 1 und zähle 1 ab.

Y: Beginne bei 3 und zähle 2 ab.

x: _____

y: _____

4) X: Beginne bei 4 und zähle 3 ab.

Y: Beginne bei 12 und zähle 3 ab.

x: _____

y: _____

5) X: Beginne bei 4 und zähle 2 ab.

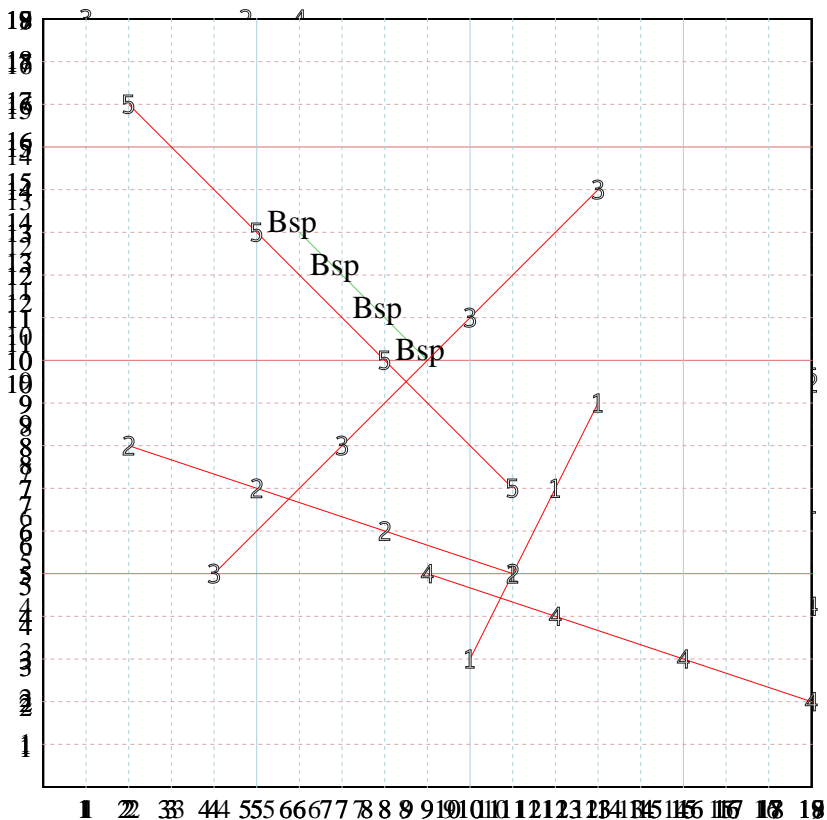
Y: Beginne bei 11 und zähle 3 ab.

x: _____

y: _____



Fülle die Lücken auf und stelle die Koordinatenpaare grafisch dar.



Antworten

Bsp. (9,10)

Bsp. Graph

1. (13,9)

1. Graph

2. (2,8)

2. Graph

3. (4,5)

3. Graph

4. (9,5)

4. Graph

5. (2,16)

5. Graph

Bsp) X: Beginne bei ~~4~~ und ~~zähle~~ ab.

Y: Beginne bei ~~4~~ und ~~zähle~~ ab.

x: 15 35 82 19

y: 43 71 191 10

1) X: Beginne bei ~~15~~ und ~~zähle~~ ab.

Y: Beginne bei ~~10~~ und ~~zähle~~ ab.

x: _____

y: _____

2) X: Beginne bei ~~10~~ und ~~zähle~~ ab.

Y: Beginne bei ~~10~~ und ~~zähle~~ ab.

x: _____

y: _____

3) X: Beginne bei ~~1~~ und ~~zähle~~ ab.

Y: Beginne bei ~~1~~ und ~~zähle~~ ab.

x: _____

y: _____

4) X: Beginne bei ~~1~~ und ~~zähle~~ ab.

Y: Beginne bei ~~1~~ und ~~zähle~~ ab.

x: _____

y: _____

5) X: Beginne bei ~~1~~ und ~~zähle~~ ab.

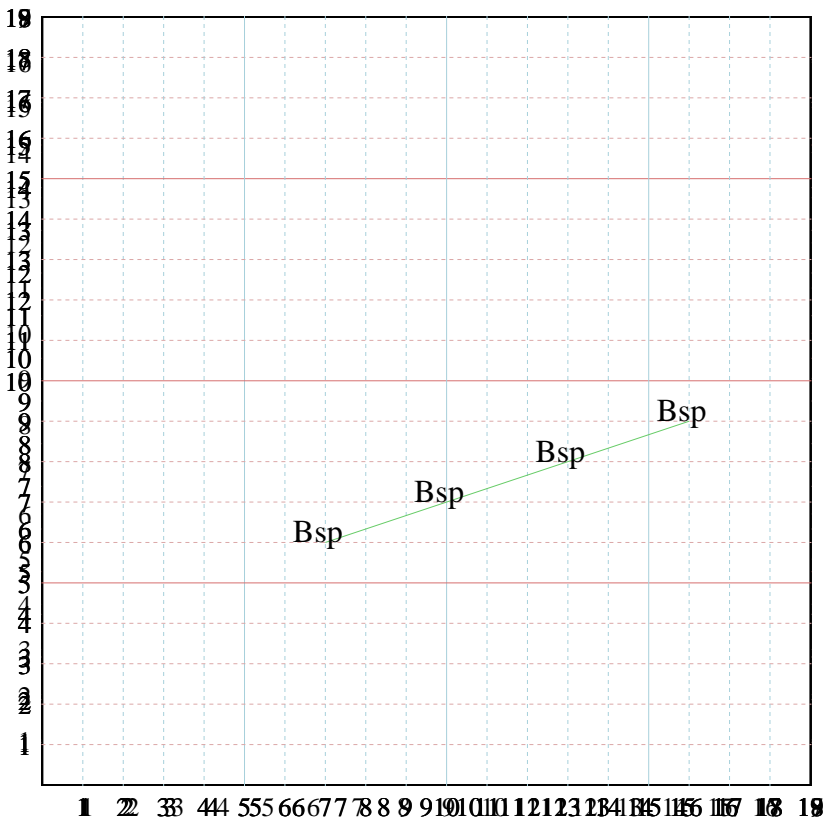
Y: Beginne bei ~~1~~ und ~~zähle~~ ab.

x: _____

y: _____



Fülle die Lücken auf und stelle die Koordinatenpaare grafisch dar.



Antworten

Bsp. (16,9)

Bsp. Graph

1. _____

1. Graph

2. _____

2. Graph

3. _____

3. Graph

4. _____

4. Graph

5. _____

5. Graph

Bsp) X: Beginne bei ~~4~~ 5 und ~~11~~ 15 Tab.

Y: Beginne bei ~~1~~ 6 und ~~2~~ 9 Tab.

x: 5 15 18 19

y: 6 7 8 9

1) X: Beginne bei ~~15~~ 5 und ~~11~~ 3 Tab.

Y: Beginne bei ~~10~~ 6 und ~~11~~ 2 Tab.

x: _____

y: _____

2) X: Beginne bei ~~10~~ 3 und ~~11~~ 15 Tab.

Y: Beginne bei ~~10~~ 6 und ~~11~~ 2 Tab.

x: _____

y: _____

3) X: Beginne bei ~~3~~ 15 und ~~11~~ 3 Tab.

Y: Beginne bei ~~3~~ 6 und ~~11~~ 2 Tab.

x: _____

y: _____

4) X: Beginne bei ~~11~~ 5 und ~~11~~ 3 Tab.

Y: Beginne bei ~~1~~ 6 und ~~2~~ 9 Tab.

x: _____

y: _____

5) X: Beginne bei ~~11~~ 6 und ~~11~~ 3 Tab.

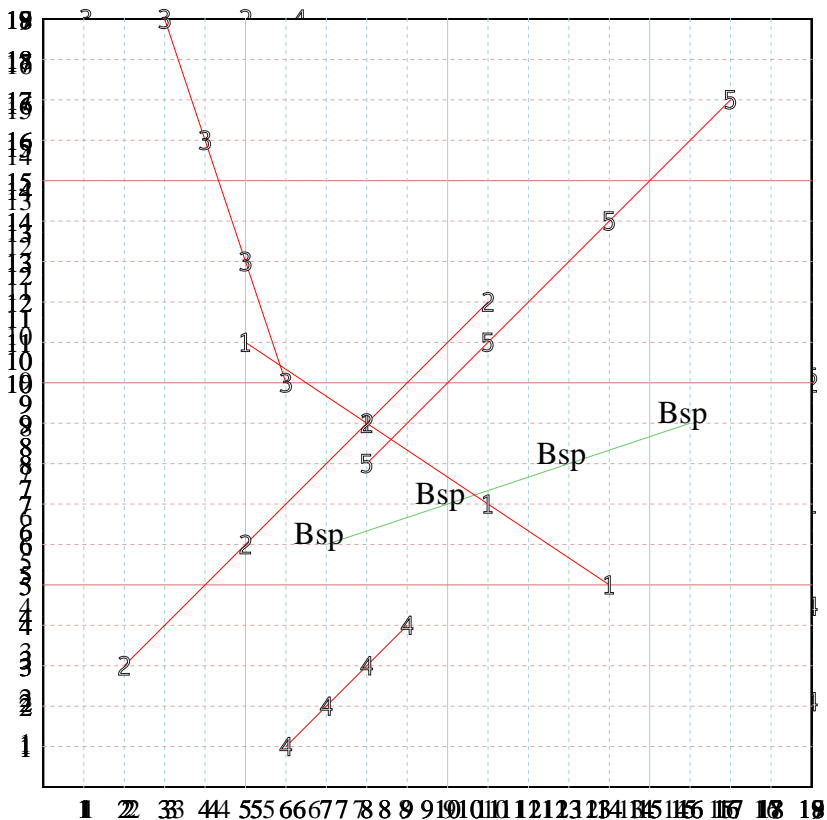
Y: Beginne bei ~~10~~ 6 und ~~11~~ 2 Tab.

x: _____

y: _____



Fülle die Lücken auf und stelle die Koordinatenpaare grafisch dar.



Antworten

Bsp. (16,9)

Bsp. Graph

1. (14,5)

1. Graph

2. (2,3)

2. Graph

3. (6,10)

3. Graph

4. (6,1)

4. Graph

5. (17,17)

5. Graph

Bsp) X: Beginne bei ~~15~~ und ~~zähle 2~~ ab.

Y: Beginne bei ~~11~~ und ~~zähle 2~~ ab.

x: 15 16 18 19

y: 11 13 15 17

1) X: Beginne bei ~~15~~ und ~~zähle 3~~ ab.

Y: Beginne bei ~~10~~ und ~~zähle 2~~ ab.

x: _____

y: _____

2) X: Beginne bei ~~10~~ und ~~zähle 3~~ ab.

Y: Beginne bei ~~10~~ und ~~zähle 2~~ ab.

x: _____

y: _____

3) X: Beginne bei ~~1~~ und ~~zähle 1~~ ab.

Y: Beginne bei ~~1~~ und ~~zähle 2~~ ab.

x: _____

y: _____

4) X: Beginne bei ~~11~~ und ~~zähle 3~~ ab.

Y: Beginne bei ~~1~~ und ~~zähle 3~~ ab.

x: _____

y: _____

5) X: Beginne bei ~~1~~ und ~~zähle 2~~ ab.

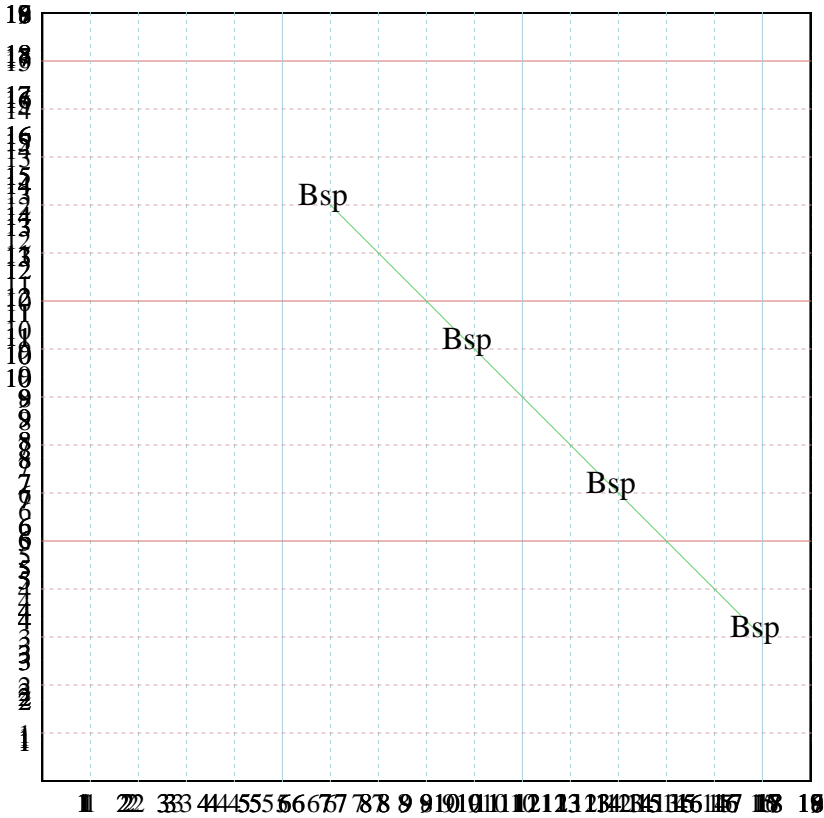
Y: Beginne bei ~~10~~ und ~~zähle 3~~ ab.

x: _____

y: _____



Fülle die Lücken auf und stelle die Koordinatenpaare grafisch dar.



Antworten

Bsp. (15,3)

Bsp. Graph

1. _____

1. Graph

2. _____

2. Graph

3. _____

3. Graph

4. _____

4. Graph

5. _____

5. Graph

Bsp) X: Beginne bei ~~5~~ und ~~15~~ Tab.

Y: Beginne bei ~~3~~ und ~~8~~ Tab.

x: 5 15 13 15

y: 8 6 4 3

1) X: Beginne bei ~~5~~ und ~~15~~ Tab.

Y: Beginne bei ~~3~~ und ~~8~~ Tab.

x: _____

y: _____

2) X: Beginne bei ~~5~~ und ~~15~~ Tab.

Y: Beginne bei ~~3~~ und ~~8~~ Tab.

x: _____

y: _____

3) X: Beginne bei ~~5~~ und ~~15~~ Tab.

Y: Beginne bei ~~3~~ und ~~8~~ Tab.

x: _____

y: _____

4) X: Beginne bei ~~5~~ und ~~15~~ Tab.

Y: Beginne bei ~~3~~ und ~~8~~ Tab.

x: _____

y: _____

5) X: Beginne bei ~~5~~ und ~~15~~ Tab.

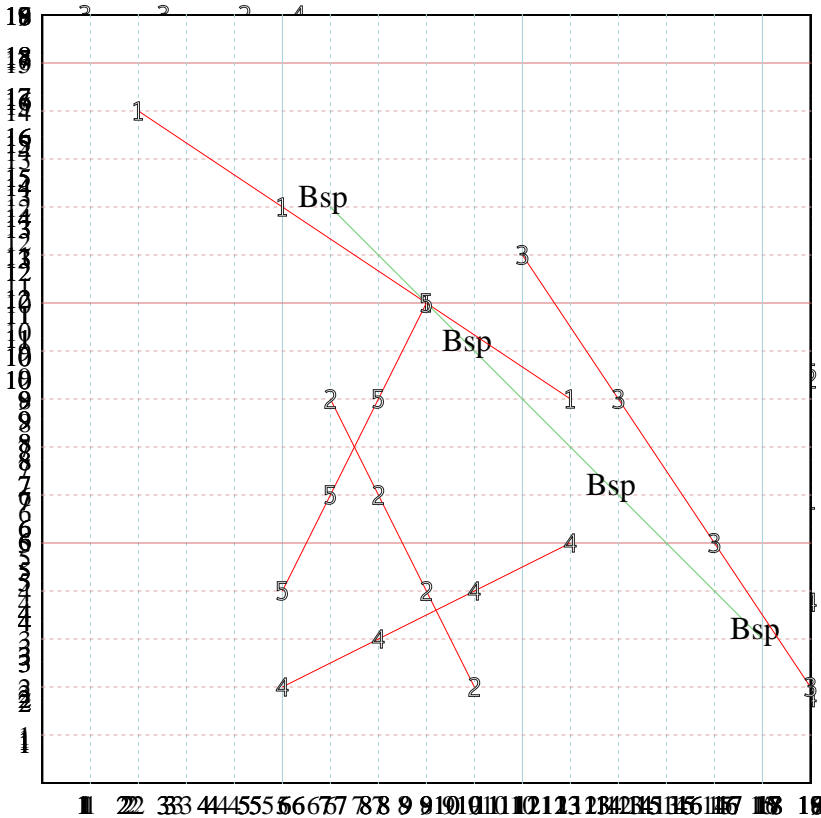
Y: Beginne bei ~~3~~ und ~~8~~ Tab.

x: _____

y: _____



Fülle die Lücken auf und stelle die Koordinatenpaare grafisch dar.



Antworten

Bsp. (15,3)

Bsp. Graph

1. (11,8)

1. Graph

2. (6,8)

2. Graph

3. (10,11)

3. Graph

4. (5,2)

4. Graph

5. (5,4)

5. Graph

Bsp) X: Beginne bei ~~4~~ 15 und ~~ähle~~ 3 ab.

Y: Beginne bei ~~9~~ 15 und ~~ähle~~ 3 ab.

x: 15 16 18 15

y: 9 7 11 9

1) X: Beginne bei ~~15~~ 10 und ~~ähle~~ 2 ab.

Y: Beginne bei ~~10~~ 10 und ~~ähle~~ 2 ab.

x: _____

y: _____

2) X: Beginne bei ~~9~~ 10 und ~~ähle~~ 3 ab.

Y: Beginne bei ~~10~~ 10 und ~~ähle~~ 3 ab.

x: _____

y: _____

3) X: Beginne bei ~~10~~ 10 und ~~ähle~~ 2 ab.

Y: Beginne bei ~~10~~ 10 und ~~ähle~~ 2 ab.

x: _____

y: _____

4) X: Beginne bei ~~10~~ 11 und ~~ähle~~ 3 ab.

Y: Beginne bei ~~10~~ 11 und ~~ähle~~ 3 ab.

x: _____

y: _____

5) X: Beginne bei ~~10~~ 10 und ~~ähle~~ 3 ab.

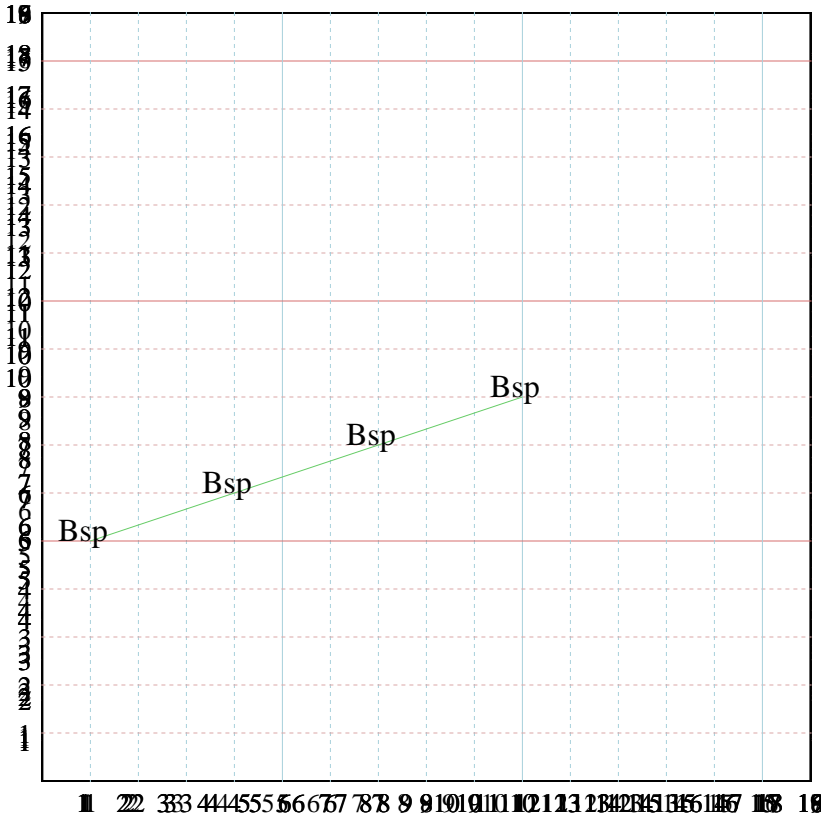
Y: Beginne bei ~~10~~ 10 und ~~ähle~~ 3 ab.

x: _____

y: _____



Fülle die Lücken auf und stelle die Koordinatenpaare grafisch dar.



Antworten

Bsp. (10,8)

Bsp. Graph

1. _____

1. Graph

2. _____

2. Graph

3. _____

3. Graph

4. _____

4. Graph

5. _____

5. Graph

Bsp) X: Beginne bei ~~1~~ und ~~über~~ ~~2~~ ab.

Y: Beginne bei ~~1~~ und ~~über~~ ~~2~~ ab.

x: 1 5 11 15

y: 3 4 6 8

1)) X: ~~Beginne bei 15 und über 30 ab.~~

Y: ~~Beginne bei 10 und über 20 ab.~~

x: _____

y: _____

2) X: Beginne bei ~~10~~ und ~~über~~ ~~20~~ ab.

Y: Beginne bei ~~10~~ und ~~über~~ ~~20~~ ab.

x: _____

y: _____

3)) X: ~~Beginne bei 10 und über 20 ab.~~

Y: ~~Beginne bei 10 und über 20 ab.~~

x: _____

y: _____

4) X: Beginne bei ~~10~~ und ~~über~~ ~~20~~ ab.

Y: Beginne bei ~~1~~ und ~~über~~ ~~2~~ ab.

x: _____

y: _____

5)) X: ~~Beginne bei 10 und über 20 ab.~~

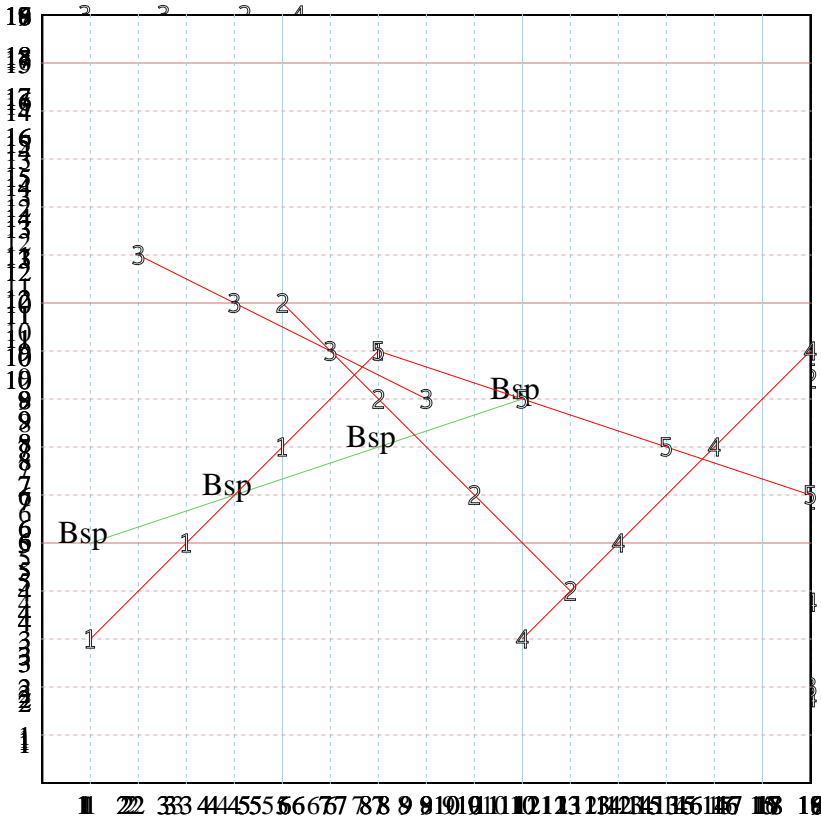
Y: ~~Beginne bei 10 und über 20 ab.~~

x: _____

y: _____



Fülle die Lücken auf und stelle die Koordinatenpaare grafisch dar.



Antworten

Bsp. (10,8)

Bsp. Graph

1. (7,9)

1. Graph

2. (5,10)

2. Graph

3. (2,11)

3. Graph

4. (16,9)

4. Graph

5. (16,6)

5. Graph

Bsp) X: Beginne bei ~~15~~ und ~~zähle 2~~ ab.

Y: Beginne bei ~~11~~ und ~~zähle 2~~ ab.

x: 15 16 18 16

y: 12 14 16 18

~~10)~~ X: Beginne bei ~~15~~ und ~~zähle 3~~ ab.

Y: Beginne bei ~~10~~ und ~~zähle 2~~ ab.

x: _____

y: _____

2) X: Beginne bei ~~10~~ und ~~zähle 2~~ ab.

Y: Beginne bei ~~10~~ und ~~zähle 2~~ ab.

x: _____

y: _____

~~30)~~ X: Beginne bei ~~11~~ und ~~zähle 2~~ ab.

Y: Beginne bei ~~10~~ und ~~zähle 2~~ ab.

x: _____

y: _____

4) X: Beginne bei ~~10~~ und ~~zähle 2~~ ab.

Y: Beginne bei ~~11~~ und ~~zähle 2~~ ab.

x: _____

y: _____

~~50)~~ X: Beginne bei ~~11~~ und ~~zähle 2~~ ab.

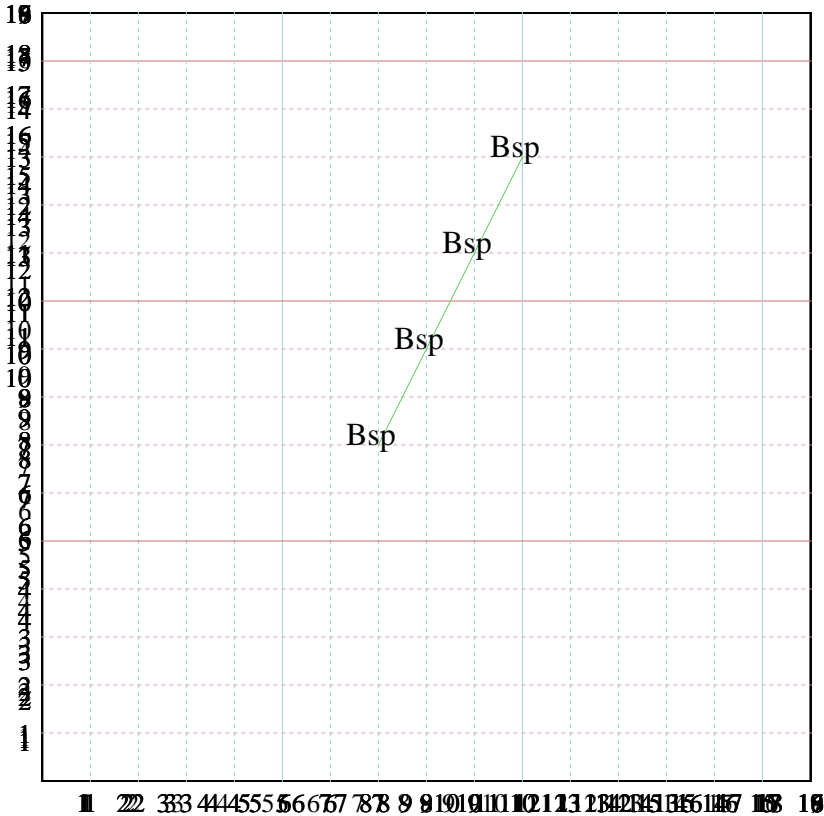
Y: Beginne bei ~~10~~ und ~~zähle 2~~ ab.

x: _____

y: _____



Fülle die Lücken auf und stelle die Koordinatenpaare grafisch dar.



Antworten

Bsp. (10,13)

Bsp. Graph

1. _____

1. Graph

2. _____

2. Graph

3. _____

3. Graph

4. _____

4. Graph

5. _____

5. Graph

Bsp) X: Beginne bei ~~5~~ und ~~zähle 2~~ ab.

Y: Beginne bei ~~3~~ und ~~zähle 2~~ ab.

x: 15 16 17 18

y: 12 13 14 15

1)) ~~X: Beginne bei 5 und zähle 3 ab.~~

~~Y: Beginne bei 10 und zähle 2 ab.~~

~~x: _____~~

~~y: _____~~

2) X: Beginne bei ~~9~~ und ~~zähle 2~~ ab.

Y: Beginne bei ~~5~~ und ~~zähle 3~~ ab.

x: _____

y: _____

3)) ~~X: Beginne bei 11 und zähle 2 ab.~~

~~Y: Beginne bei 14 und zähle 2 ab.~~

~~x: _____~~

~~y: _____~~

4) X: Beginne bei ~~9~~ und ~~zähle 2~~ ab.

Y: Beginne bei ~~3~~ und ~~zähle 3~~ ab.

x: _____

y: _____

5)) ~~X: Beginne bei 10 und zähle 2 ab.~~

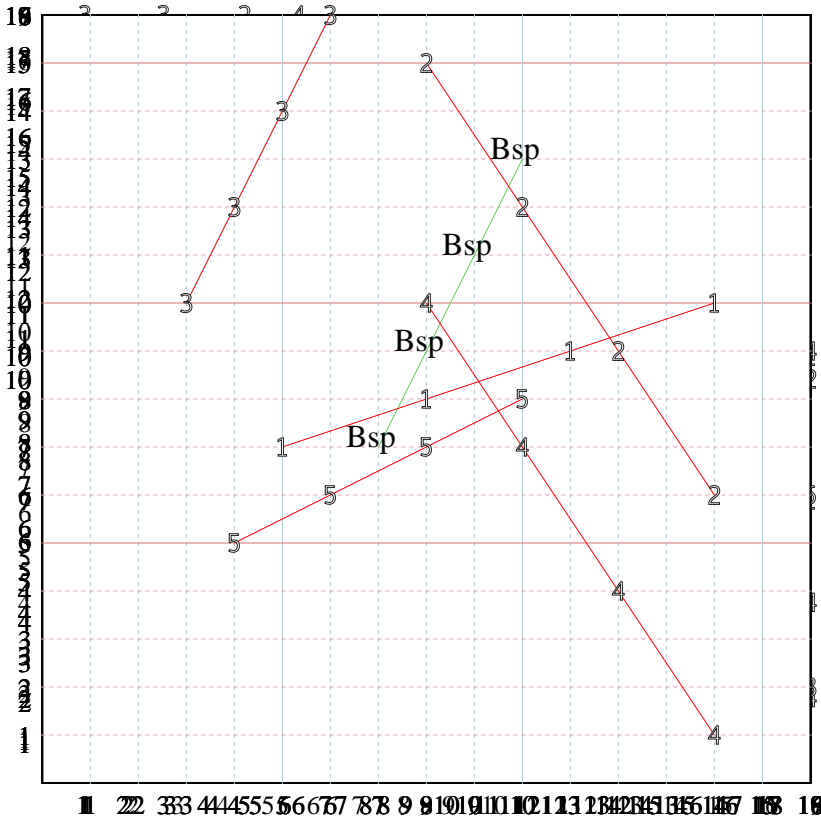
~~Y: Beginne bei 10 und zähle 3 ab.~~

~~x: _____~~

~~y: _____~~



Fülle die Lücken auf und stelle die Koordinatenpaare grafisch dar.



Antworten

Bsp. (10,13)

Bsp. Graph

1. (5,7)

1. Graph

2. (8,15)

2. Graph

3. (3,10)

3. Graph

4. (8,10)

4. Graph

5. (4,5)

5. Graph

Bsp) X: Beginne bei ~~5~~ und zähle ~~2~~ ab.
 Y: Beginne bei ~~5~~ und zähle ~~2~~ ab.
 x: 15 16 17 18
 y: 12 13 14 15

~~1)~~ X: Beginne bei ~~5~~ und zähle ~~3~~ ab.
 Y: Beginne bei ~~10~~ und zähle ~~2~~ ab.
 x: _____
 y: _____

2) X: Beginne bei ~~9~~ und zähle ~~2~~ ab.
 Y: Beginne bei ~~5~~ und zähle ~~3~~ ab.
 x: _____
 y: _____

~~3)~~ X: Beginne bei ~~1~~ und zähle ~~2~~ ab.
 Y: Beginne bei ~~14~~ und zähle ~~2~~ ab.
 x: _____
 y: _____

4) X: Beginne bei ~~9~~ und zähle ~~2~~ ab.
 Y: Beginne bei ~~1~~ und zähle ~~3~~ ab.
 x: _____
 y: _____

~~5)~~ X: Beginne bei ~~10~~ und zähle ~~2~~ ab.
 Y: Beginne bei ~~10~~ und zähle ~~3~~ ab.
 x: _____
 y: _____