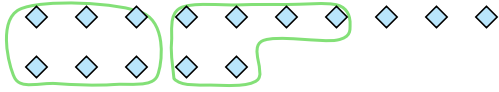




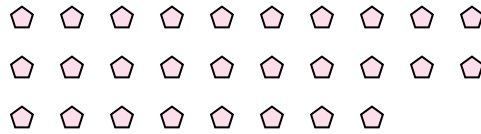
Verwende die Beispiele mit den Figuren im Feld zur Beantwortung der Fragen.

**Antworten**

**Bsp)** Es gibt 15 Figuren unten. Wie viele Gruppen mit 6 kannst du daraus machen? Wie viele Figuren wirst du übrig haben?



**1)** Es gibt 28 Figuren unten. Wie viele Gruppen mit 8 kannst du daraus machen? Wie viele Figuren wirst du übrig haben?



Bsp. 2

Bsp. 3

**2)** Es gibt 17 Figuren unten. Wie viele Gruppen mit 3 kannst du daraus machen? Wie viele Figuren wirst du übrig haben?



**3)** Es gibt 21 Figuren unten. Wie viele Gruppen mit 9 kannst du daraus machen? Wie viele Figuren wirst du übrig haben?



1. \_\_\_\_\_


1. \_\_\_\_\_

2. \_\_\_\_\_

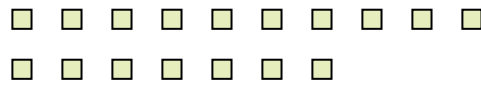
2. \_\_\_\_\_

3. \_\_\_\_\_

**4)** Es gibt 18 Figuren unten. Wie viele Gruppen mit 4 kannst du daraus machen? Wie viele Figuren wirst du übrig haben?



**5)** Es gibt 17 Figuren unten. Wie viele Gruppen mit 2 kannst du daraus machen? Wie viele Figuren wirst du übrig haben?



3. \_\_\_\_\_

4. \_\_\_\_\_


4. \_\_\_\_\_

5. \_\_\_\_\_

**6)** Es gibt 29 Figuren unten. Wie viele Gruppen mit 6 kannst du daraus machen? Wie viele Figuren wirst du übrig haben?



**7)** Es gibt 26 Figuren unten. Wie viele Gruppen mit 4 kannst du daraus machen? Wie viele Figuren wirst du übrig haben?



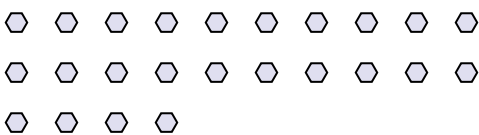
5. \_\_\_\_\_

6. \_\_\_\_\_


6. \_\_\_\_\_

7. \_\_\_\_\_

**8)** Es gibt 24 Figuren unten. Wie viele Gruppen mit 7 kannst du daraus machen? Wie viele Figuren wirst du übrig haben?



**9)** Es gibt 19 Figuren unten. Wie viele Gruppen mit 7 kannst du daraus machen? Wie viele Figuren wirst du übrig haben?



7. \_\_\_\_\_

8. \_\_\_\_\_

8. \_\_\_\_\_

9. \_\_\_\_\_

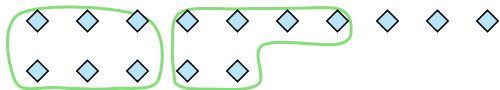
9. \_\_\_\_\_



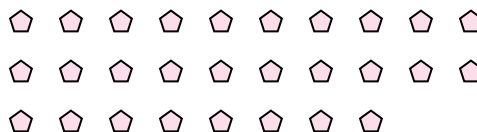
Verwende die Beispiele mit den Figuren im Feld zur Beantwortung der Fragen.

**Antworten**

**Bsp)** Es gibt 15 Figuren unten. Wie viele Gruppen mit 6 kannst du daraus machen? Wie viele Figuren wirst du übrig haben?



**1)** Es gibt 28 Figuren unten. Wie viele Gruppen mit 8 kannst du daraus machen? Wie viele Figuren wirst du übrig haben?



Bsp. 2

Bsp. 3

**2)** Es gibt 17 Figuren unten. Wie viele Gruppen mit 3 kannst du daraus machen? Wie viele Figuren wirst du übrig haben?



**3)** Es gibt 21 Figuren unten. Wie viele Gruppen mit 9 kannst du daraus machen? Wie viele Figuren wirst du übrig haben?



1. 3


1. 4

2. 5

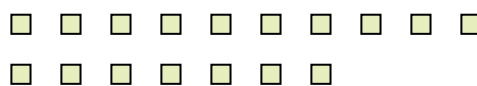
2. 2

3. 2

**4)** Es gibt 18 Figuren unten. Wie viele Gruppen mit 4 kannst du daraus machen? Wie viele Figuren wirst du übrig haben?



**5)** Es gibt 17 Figuren unten. Wie viele Gruppen mit 2 kannst du daraus machen? Wie viele Figuren wirst du übrig haben?



3. 3

4. 4


4. 2

5. 8

**6)** Es gibt 29 Figuren unten. Wie viele Gruppen mit 6 kannst du daraus machen? Wie viele Figuren wirst du übrig haben?



**7)** Es gibt 26 Figuren unten. Wie viele Gruppen mit 4 kannst du daraus machen? Wie viele Figuren wirst du übrig haben?



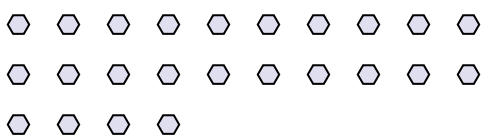
5. 1

6. 4

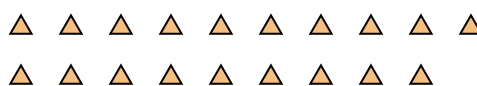
6. 5

7. 6

**8)** Es gibt 24 Figuren unten. Wie viele Gruppen mit 7 kannst du daraus machen? Wie viele Figuren wirst du übrig haben?



**9)** Es gibt 19 Figuren unten. Wie viele Gruppen mit 7 kannst du daraus machen? Wie viele Figuren wirst du übrig haben?



7. 2

8. 3

8. 3

9. 2

9. 5