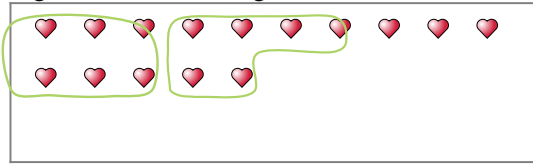




Verwende die Beispiele mit den Figuren im Feld zur Beantwortung der Fragen.

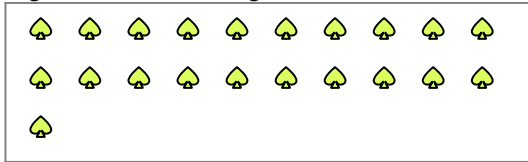
Bsp) Es gibt 15 Figuren unten. Wie viele Gruppen mit 6 kannst du daraus machen? Wie viele Figuren wirst du übrig haben?



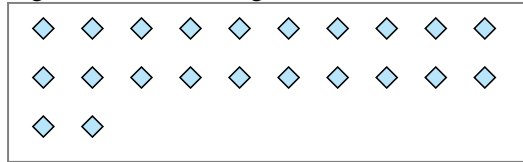
1) Es gibt 29 Figuren unten. Wie viele Gruppen mit 4 kannst du daraus machen? Wie viele Figuren wirst du übrig haben?




2) Es gibt 21 Figuren unten. Wie viele Gruppen mit 3 kannst du daraus machen? Wie viele Figuren wirst du übrig haben?



3) Es gibt 22 Figuren unten. Wie viele Gruppen mit 3 kannst du daraus machen? Wie viele Figuren wirst du übrig haben?



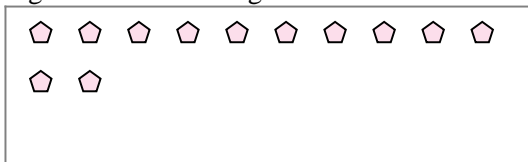
4) Es gibt 25 Figuren unten. Wie viele Gruppen mit 6 kannst du daraus machen? Wie viele Figuren wirst du übrig haben?



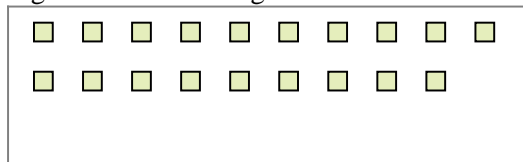
5) Es gibt 19 Figuren unten. Wie viele Gruppen mit 3 kannst du daraus machen? Wie viele Figuren wirst du übrig haben?




6) Es gibt 12 Figuren unten. Wie viele Gruppen mit 7 kannst du daraus machen? Wie viele Figuren wirst du übrig haben?



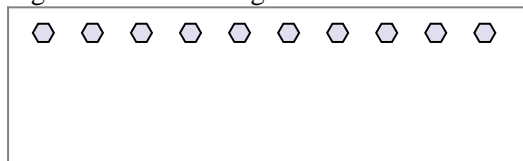
7) Es gibt 19 Figuren unten. Wie viele Gruppen mit 2 kannst du daraus machen? Wie viele Figuren wirst du übrig haben?



8) Es gibt 18 Figuren unten. Wie viele Gruppen mit 4 kannst du daraus machen? Wie viele Figuren wirst du übrig haben?



9) Es gibt 10 Figuren unten. Wie viele Gruppen mit 3 kannst du daraus machen? Wie viele Figuren wirst du übrig haben?



Antworten

Bsp. 2

Bsp. 3

1a. _____

1b. _____

2a. _____

2b. _____

3a. _____

3b. _____

4a. _____

4b. _____

5a. _____

5b. _____

6a. _____

6b. _____

7a. _____

7b. _____

8a. _____

8b. _____

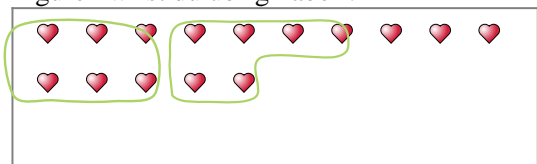
9a. _____

9b. _____



Verwende die Beispiele mit den Figuren im Feld zur Beantwortung der Fragen.

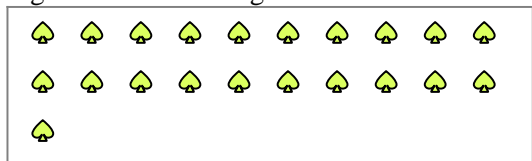
Bsp) Es gibt 15 Figuren unten. Wie viele Gruppen mit 6 kannst du daraus machen? Wie viele Figuren wirst du übrig haben?



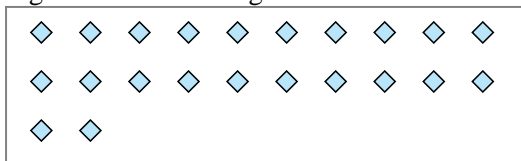
1) Es gibt 29 Figuren unten. Wie viele Gruppen mit 4 kannst du daraus machen? Wie viele Figuren wirst du übrig haben?




2) Es gibt 21 Figuren unten. Wie viele Gruppen mit 3 kannst du daraus machen? Wie viele Figuren wirst du übrig haben?



3) Es gibt 22 Figuren unten. Wie viele Gruppen mit 3 kannst du daraus machen? Wie viele Figuren wirst du übrig haben?



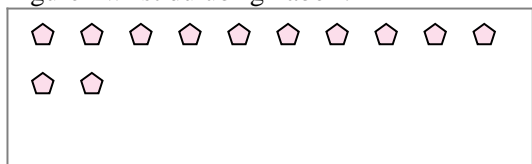
4) Es gibt 25 Figuren unten. Wie viele Gruppen mit 6 kannst du daraus machen? Wie viele Figuren wirst du übrig haben?



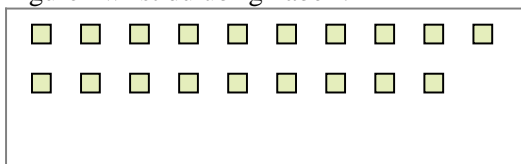
5) Es gibt 19 Figuren unten. Wie viele Gruppen mit 3 kannst du daraus machen? Wie viele Figuren wirst du übrig haben?




6) Es gibt 12 Figuren unten. Wie viele Gruppen mit 7 kannst du daraus machen? Wie viele Figuren wirst du übrig haben?



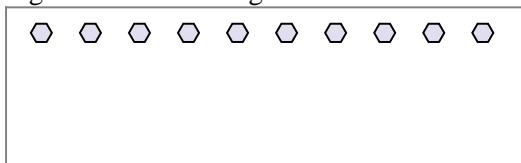
7) Es gibt 19 Figuren unten. Wie viele Gruppen mit 2 kannst du daraus machen? Wie viele Figuren wirst du übrig haben?



8) Es gibt 18 Figuren unten. Wie viele Gruppen mit 4 kannst du daraus machen? Wie viele Figuren wirst du übrig haben?



9) Es gibt 10 Figuren unten. Wie viele Gruppen mit 3 kannst du daraus machen? Wie viele Figuren wirst du übrig haben?



Antworten

Bsp. 2

Bsp. 3

1a. 7

1b. 1

2a. 7

2b. 0

3a. 7

3b. 1

4a. 4

4b. 1

5a. 6

5b. 1

6a. 1

6b. 5

7a. 9

7b. 1

8a. 4

8b. 2

9a. 3

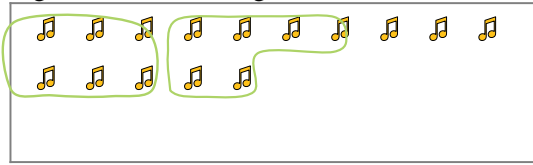
9b. 1



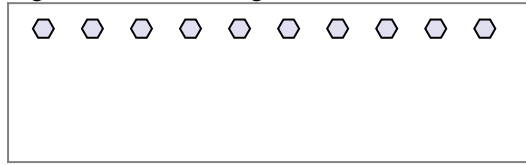
Verwende die Beispiele mit den Figuren im Feld zur Beantwortung der Fragen.

Antworten

Bsp) Es gibt 15 Figuren unten. Wie viele Gruppen mit 6 kannst du daraus machen? Wie viele Figuren wirst du übrig haben?



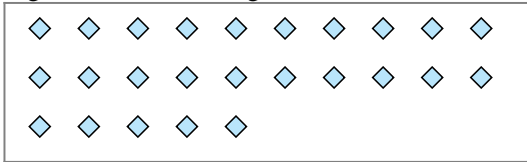
1) Es gibt 10 Figuren unten. Wie viele Gruppen mit 6 kannst du daraus machen? Wie viele Figuren wirst du übrig haben?




Bsp. 2

Bsp. 3

2) Es gibt 25 Figuren unten. Wie viele Gruppen mit 9 kannst du daraus machen? Wie viele Figuren wirst du übrig haben?



3) Es gibt 16 Figuren unten. Wie viele Gruppen mit 5 kannst du daraus machen? Wie viele Figuren wirst du übrig haben?



1a. _____

1b. _____

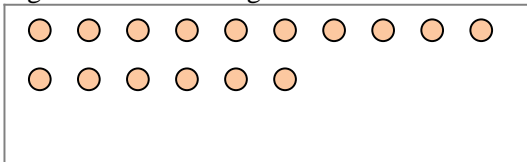
2a. _____

2b. _____

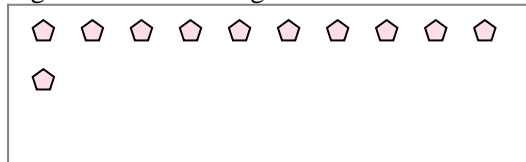
3a. _____

3b. _____

4) Es gibt 16 Figuren unten. Wie viele Gruppen mit 5 kannst du daraus machen? Wie viele Figuren wirst du übrig haben?



5) Es gibt 11 Figuren unten. Wie viele Gruppen mit 5 kannst du daraus machen? Wie viele Figuren wirst du übrig haben?




4a. _____

4b. _____

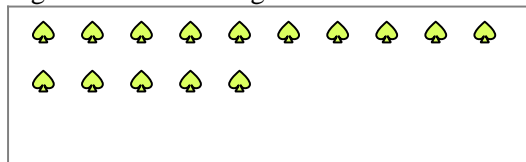
5a. _____

5b. _____

6) Es gibt 23 Figuren unten. Wie viele Gruppen mit 8 kannst du daraus machen? Wie viele Figuren wirst du übrig haben?



7) Es gibt 15 Figuren unten. Wie viele Gruppen mit 8 kannst du daraus machen? Wie viele Figuren wirst du übrig haben?



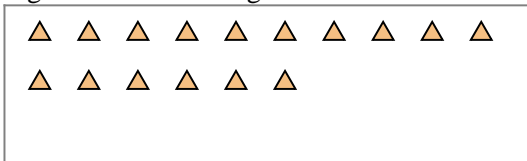
6a. _____

6b. _____


7a. _____

7b. _____

8) Es gibt 16 Figuren unten. Wie viele Gruppen mit 2 kannst du daraus machen? Wie viele Figuren wirst du übrig haben?



9) Es gibt 12 Figuren unten. Wie viele Gruppen mit 4 kannst du daraus machen? Wie viele Figuren wirst du übrig haben?



8a. _____

8b. _____

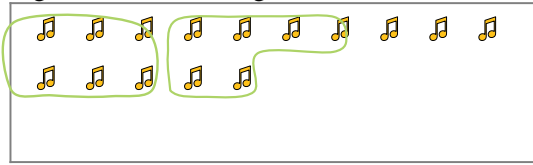
9a. _____

9b. _____

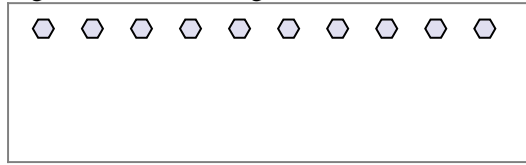


Verwende die Beispiele mit den Figuren im Feld zur Beantwortung der Fragen.

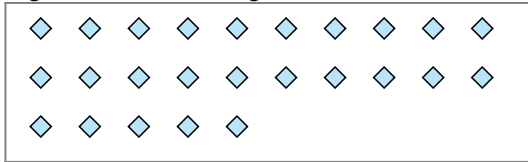
Bsp) Es gibt 15 Figuren unten. Wie viele Gruppen mit 6 kannst du daraus machen? Wie viele Figuren wirst du übrig haben?




1) Es gibt 10 Figuren unten. Wie viele Gruppen mit 6 kannst du daraus machen? Wie viele Figuren wirst du übrig haben?



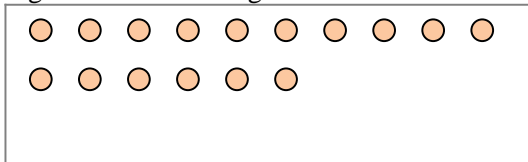
2) Es gibt 25 Figuren unten. Wie viele Gruppen mit 9 kannst du daraus machen? Wie viele Figuren wirst du übrig haben?



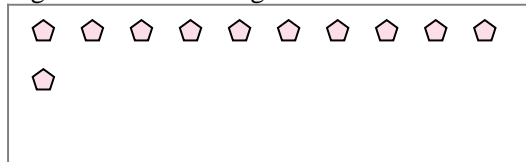
3) Es gibt 16 Figuren unten. Wie viele Gruppen mit 5 kannst du daraus machen? Wie viele Figuren wirst du übrig haben?




4) Es gibt 16 Figuren unten. Wie viele Gruppen mit 5 kannst du daraus machen? Wie viele Figuren wirst du übrig haben?



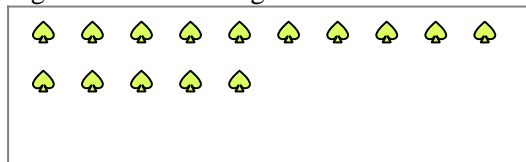
5) Es gibt 11 Figuren unten. Wie viele Gruppen mit 5 kannst du daraus machen? Wie viele Figuren wirst du übrig haben?



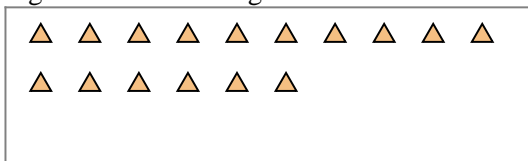
6) Es gibt 23 Figuren unten. Wie viele Gruppen mit 8 kannst du daraus machen? Wie viele Figuren wirst du übrig haben?



7) Es gibt 15 Figuren unten. Wie viele Gruppen mit 8 kannst du daraus machen? Wie viele Figuren wirst du übrig haben?



8) Es gibt 16 Figuren unten. Wie viele Gruppen mit 2 kannst du daraus machen? Wie viele Figuren wirst du übrig haben?



9) Es gibt 12 Figuren unten. Wie viele Gruppen mit 4 kannst du daraus machen? Wie viele Figuren wirst du übrig haben?



Antworten

Bsp. 2

Bsp. 3

1a. 1

1b. 4

2a. 2

2b. 7

3a. 3

3b. 1

4a. 3

4b. 1

5a. 2

5b. 1

6a. 2

6b. 7

7a. 1

7b. 7

8a. 8

8b. 0

9a. 3

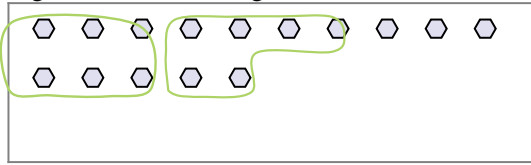
9b. 0



Verwende die Beispiele mit den Figuren im Feld zur Beantwortung der Fragen.

Antworten

Bsp) Es gibt 15 Figuren unten. Wie viele Gruppen mit 6 kannst du daraus machen? Wie viele Figuren wirst du übrig haben?




1) Es gibt 16 Figuren unten. Wie viele Gruppen mit 7 kannst du daraus machen? Wie viele Figuren wirst du übrig haben?




Bsp. 2

Bsp. 3

2) Es gibt 21 Figuren unten. Wie viele Gruppen mit 4 kannst du daraus machen? Wie viele Figuren wirst du übrig haben?



3) Es gibt 23 Figuren unten. Wie viele Gruppen mit 4 kannst du daraus machen? Wie viele Figuren wirst du übrig haben?



1a. _____

1b. _____


2a. _____

2b. _____

3a. _____

3b. _____

4) Es gibt 27 Figuren unten. Wie viele Gruppen mit 5 kannst du daraus machen? Wie viele Figuren wirst du übrig haben?



5) Es gibt 17 Figuren unten. Wie viele Gruppen mit 6 kannst du daraus machen? Wie viele Figuren wirst du übrig haben?



4a. _____

4b. _____

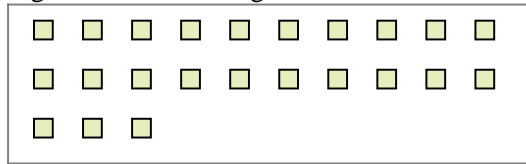
5a. _____

5b. _____

6) Es gibt 23 Figuren unten. Wie viele Gruppen mit 5 kannst du daraus machen? Wie viele Figuren wirst du übrig haben?



7) Es gibt 23 Figuren unten. Wie viele Gruppen mit 5 kannst du daraus machen? Wie viele Figuren wirst du übrig haben?




6a. _____

6b. _____

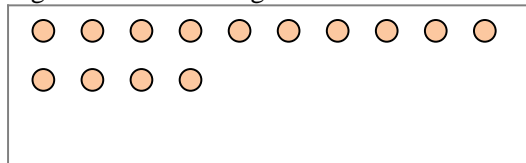
7a. _____

7b. _____

8) Es gibt 29 Figuren unten. Wie viele Gruppen mit 3 kannst du daraus machen? Wie viele Figuren wirst du übrig haben?



9) Es gibt 14 Figuren unten. Wie viele Gruppen mit 6 kannst du daraus machen? Wie viele Figuren wirst du übrig haben?



8a. _____

8b. _____

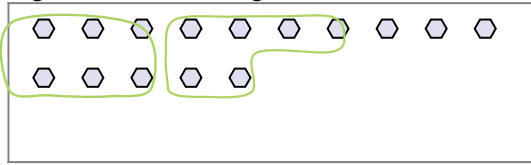
9a. _____

9b. _____



Verwende die Beispiele mit den Figuren im Feld zur Beantwortung der Fragen.


Bsp) Es gibt 15 Figuren unten. Wie viele Gruppen mit 6 kannst du daraus machen? Wie viele Figuren wirst du übrig haben?




1) Es gibt 16 Figuren unten. Wie viele Gruppen mit 7 kannst du daraus machen? Wie viele Figuren wirst du übrig haben?



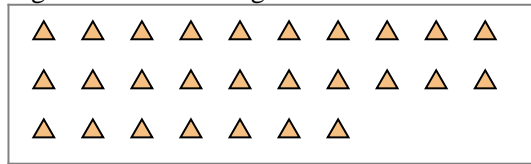
2) Es gibt 21 Figuren unten. Wie viele Gruppen mit 4 kannst du daraus machen? Wie viele Figuren wirst du übrig haben?



3) Es gibt 23 Figuren unten. Wie viele Gruppen mit 4 kannst du daraus machen? Wie viele Figuren wirst du übrig haben?



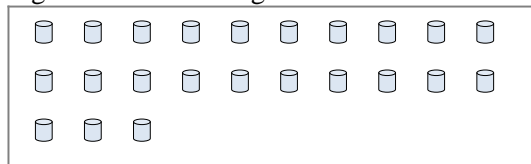
4) Es gibt 27 Figuren unten. Wie viele Gruppen mit 5 kannst du daraus machen? Wie viele Figuren wirst du übrig haben?



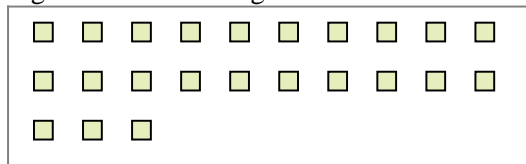
5) Es gibt 17 Figuren unten. Wie viele Gruppen mit 6 kannst du daraus machen? Wie viele Figuren wirst du übrig haben?




6) Es gibt 23 Figuren unten. Wie viele Gruppen mit 5 kannst du daraus machen? Wie viele Figuren wirst du übrig haben?



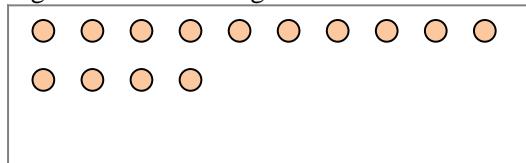
7) Es gibt 23 Figuren unten. Wie viele Gruppen mit 5 kannst du daraus machen? Wie viele Figuren wirst du übrig haben?



8) Es gibt 29 Figuren unten. Wie viele Gruppen mit 3 kannst du daraus machen? Wie viele Figuren wirst du übrig haben?



9) Es gibt 14 Figuren unten. Wie viele Gruppen mit 6 kannst du daraus machen? Wie viele Figuren wirst du übrig haben?



Antworten

Bsp. 2

Bsp. 3

1a. 2

1b. 2

2a. 5

2b. 1

3a. 5

3b. 3

4a. 5

4b. 2

5a. 2

5b. 5

6a. 4

6b. 3

7a. 4

7b. 3

8a. 9

8b. 2

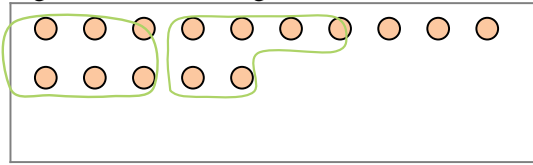
9a. 2

9b. 2

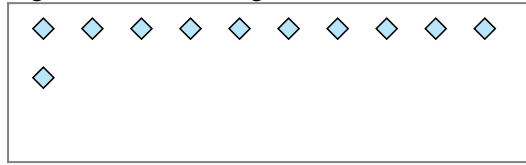


Verwende die Beispiele mit den Figuren im Feld zur Beantwortung der Fragen.

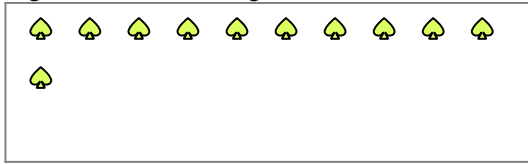
Bsp) Es gibt 15 Figuren unten. Wie viele Gruppen mit 6 kannst du daraus machen? Wie viele Figuren wirst du übrig haben?



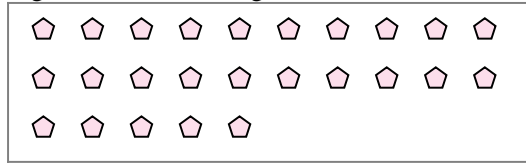
1) Es gibt 11 Figuren unten. Wie viele Gruppen mit 5 kannst du daraus machen? Wie viele Figuren wirst du übrig haben?




2) Es gibt 11 Figuren unten. Wie viele Gruppen mit 4 kannst du daraus machen? Wie viele Figuren wirst du übrig haben?




3) Es gibt 25 Figuren unten. Wie viele Gruppen mit 6 kannst du daraus machen? Wie viele Figuren wirst du übrig haben?




4) Es gibt 15 Figuren unten. Wie viele Gruppen mit 2 kannst du daraus machen? Wie viele Figuren wirst du übrig haben?



5) Es gibt 29 Figuren unten. Wie viele Gruppen mit 6 kannst du daraus machen? Wie viele Figuren wirst du übrig haben?



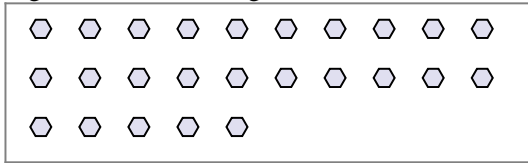
6) Es gibt 28 Figuren unten. Wie viele Gruppen mit 4 kannst du daraus machen? Wie viele Figuren wirst du übrig haben?



7) Es gibt 26 Figuren unten. Wie viele Gruppen mit 6 kannst du daraus machen? Wie viele Figuren wirst du übrig haben?



8) Es gibt 25 Figuren unten. Wie viele Gruppen mit 4 kannst du daraus machen? Wie viele Figuren wirst du übrig haben?



9) Es gibt 27 Figuren unten. Wie viele Gruppen mit 9 kannst du daraus machen? Wie viele Figuren wirst du übrig haben?



Antworten

Bsp. 2

Bsp. 3

1a. _____

1b. _____

2a. _____

2b. _____

3a. _____

3b. _____

4a. _____

4b. _____

5a. _____

5b. _____

6a. _____

6b. _____

7a. _____

7b. _____

8a. _____

8b. _____

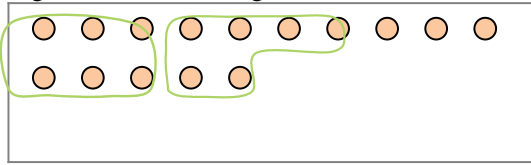
9a. _____

9b. _____

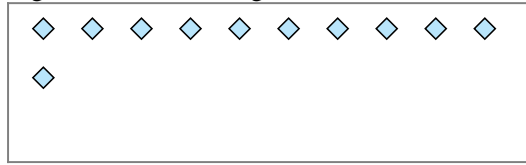


Verwende die Beispiele mit den Figuren im Feld zur Beantwortung der Fragen.

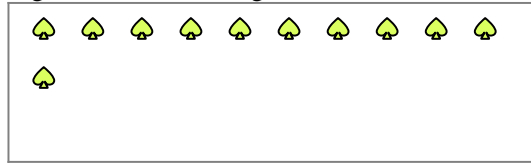
Bsp) Es gibt 15 Figuren unten. Wie viele Gruppen mit 6 kannst du daraus machen? Wie viele Figuren wirst du übrig haben?



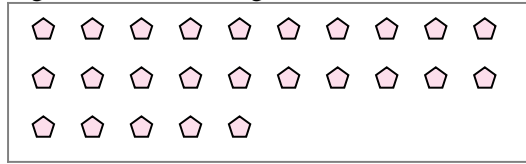
1) Es gibt 11 Figuren unten. Wie viele Gruppen mit 5 kannst du daraus machen? Wie viele Figuren wirst du übrig haben?




2) Es gibt 11 Figuren unten. Wie viele Gruppen mit 4 kannst du daraus machen? Wie viele Figuren wirst du übrig haben?




3) Es gibt 25 Figuren unten. Wie viele Gruppen mit 6 kannst du daraus machen? Wie viele Figuren wirst du übrig haben?




4) Es gibt 15 Figuren unten. Wie viele Gruppen mit 2 kannst du daraus machen? Wie viele Figuren wirst du übrig haben?



5) Es gibt 29 Figuren unten. Wie viele Gruppen mit 6 kannst du daraus machen? Wie viele Figuren wirst du übrig haben?



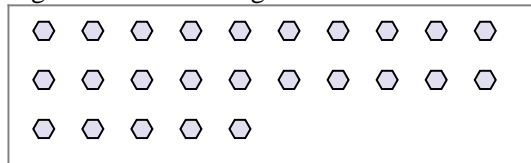
6) Es gibt 28 Figuren unten. Wie viele Gruppen mit 4 kannst du daraus machen? Wie viele Figuren wirst du übrig haben?



7) Es gibt 26 Figuren unten. Wie viele Gruppen mit 6 kannst du daraus machen? Wie viele Figuren wirst du übrig haben?



8) Es gibt 25 Figuren unten. Wie viele Gruppen mit 4 kannst du daraus machen? Wie viele Figuren wirst du übrig haben?



9) Es gibt 27 Figuren unten. Wie viele Gruppen mit 9 kannst du daraus machen? Wie viele Figuren wirst du übrig haben?



Antworten

Bsp. 2

Bsp. 3

1a. 2

1b. 1

2a. 2

2b. 3

3a. 4

3b. 1

4a. 7

4b. 1

5a. 4

5b. 5

6a. 7

6b. 0

7a. 4

7b. 2

8a. 6

8b. 1

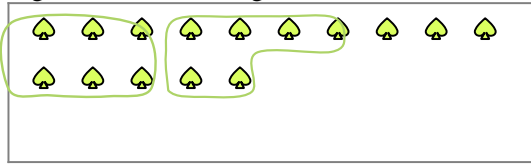
9a. 3

9b. 0




Verwende die Beispiele mit den Figuren im Feld zur Beantwortung der Fragen.

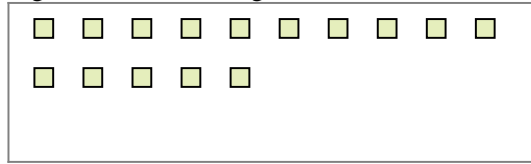
Bsp) Es gibt 15 Figuren unten. Wie viele Gruppen mit 6 kannst du daraus machen? Wie viele Figuren wirst du übrig haben?



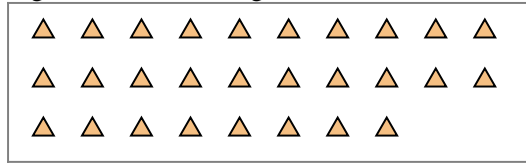
1) Es gibt 29 Figuren unten. Wie viele Gruppen mit 7 kannst du daraus machen? Wie viele Figuren wirst du übrig haben?



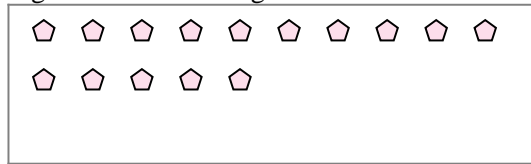
2) Es gibt 15 Figuren unten. Wie viele Gruppen mit 7 kannst du daraus machen? Wie viele Figuren wirst du übrig haben?



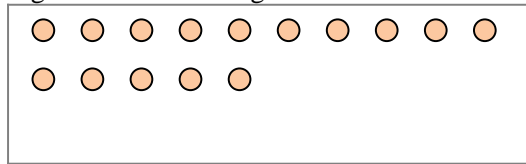
3) Es gibt 28 Figuren unten. Wie viele Gruppen mit 9 kannst du daraus machen? Wie viele Figuren wirst du übrig haben?



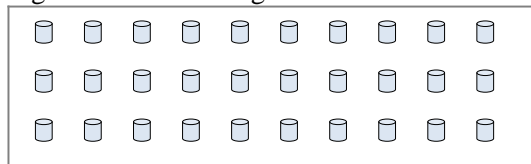
4) Es gibt 15 Figuren unten. Wie viele Gruppen mit 8 kannst du daraus machen? Wie viele Figuren wirst du übrig haben?



5) Es gibt 15 Figuren unten. Wie viele Gruppen mit 7 kannst du daraus machen? Wie viele Figuren wirst du übrig haben?



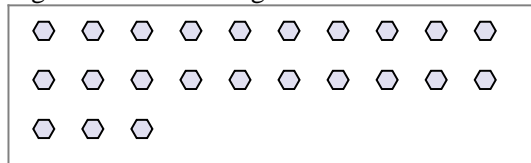
6) Es gibt 30 Figuren unten. Wie viele Gruppen mit 4 kannst du daraus machen? Wie viele Figuren wirst du übrig haben?



7) Es gibt 20 Figuren unten. Wie viele Gruppen mit 3 kannst du daraus machen? Wie viele Figuren wirst du übrig haben?



8) Es gibt 23 Figuren unten. Wie viele Gruppen mit 5 kannst du daraus machen? Wie viele Figuren wirst du übrig haben?



9) Es gibt 23 Figuren unten. Wie viele Gruppen mit 5 kannst du daraus machen? Wie viele Figuren wirst du übrig haben?



Antworten

Bsp. 2

Bsp. 3

1a. _____

1b. _____

2a. _____

2b. _____

3a. _____

3b. _____

4a. _____

4b. _____

5a. _____

5b. _____

6a. _____

6b. _____

7a. _____

7b. _____

8a. _____

8b. _____

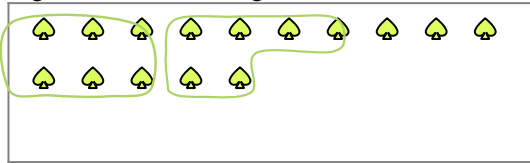
9a. _____

9b. _____




Verwende die Beispiele mit den Figuren im Feld zur Beantwortung der Fragen.

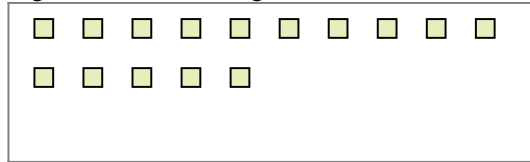
Bsp) Es gibt 15 Figuren unten. Wie viele Gruppen mit 6 kannst du daraus machen? Wie viele Figuren wirst du übrig haben?



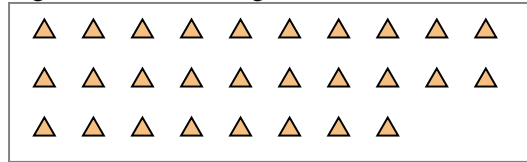
1) Es gibt 29 Figuren unten. Wie viele Gruppen mit 7 kannst du daraus machen? Wie viele Figuren wirst du übrig haben?



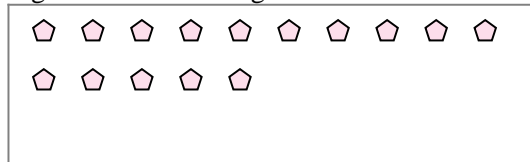
2) Es gibt 15 Figuren unten. Wie viele Gruppen mit 7 kannst du daraus machen? Wie viele Figuren wirst du übrig haben?



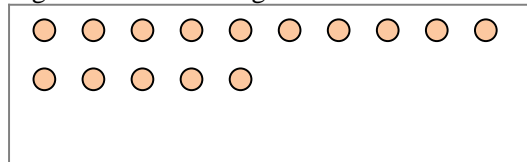
3) Es gibt 28 Figuren unten. Wie viele Gruppen mit 9 kannst du daraus machen? Wie viele Figuren wirst du übrig haben?



4) Es gibt 15 Figuren unten. Wie viele Gruppen mit 8 kannst du daraus machen? Wie viele Figuren wirst du übrig haben?



5) Es gibt 15 Figuren unten. Wie viele Gruppen mit 7 kannst du daraus machen? Wie viele Figuren wirst du übrig haben?



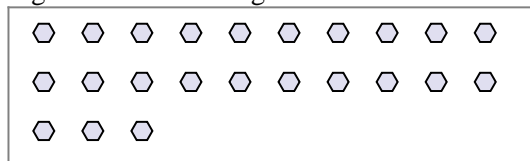
6) Es gibt 30 Figuren unten. Wie viele Gruppen mit 4 kannst du daraus machen? Wie viele Figuren wirst du übrig haben?




7) Es gibt 20 Figuren unten. Wie viele Gruppen mit 3 kannst du daraus machen? Wie viele Figuren wirst du übrig haben?



8) Es gibt 23 Figuren unten. Wie viele Gruppen mit 5 kannst du daraus machen? Wie viele Figuren wirst du übrig haben?



9) Es gibt 23 Figuren unten. Wie viele Gruppen mit 5 kannst du daraus machen? Wie viele Figuren wirst du übrig haben?



Antworten

Bsp. 2

Bsp. 3

1a. 4

1b. 1

2a. 2

2b. 1

3a. 3

3b. 1

4a. 1

4b. 7

5a. 2

5b. 1

6a. 7

6b. 2

7a. 6

7b. 2

8a. 4

8b. 3

9a. 4

9b. 3



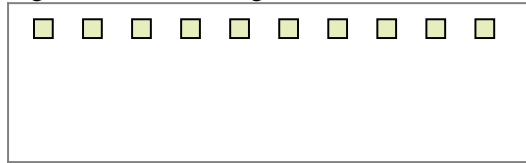
Verwende die Beispiele mit den Figuren im Feld zur Beantwortung der Fragen.

Antworten

Bsp) Es gibt 15 Figuren unten. Wie viele Gruppen mit 6 kannst du daraus machen? Wie viele Figuren wirst du übrig haben?



1) Es gibt 10 Figuren unten. Wie viele Gruppen mit 2 kannst du daraus machen? Wie viele Figuren wirst du übrig haben?



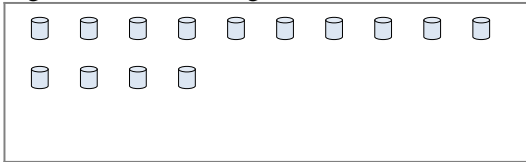
Bsp. 2

Bsp. 3

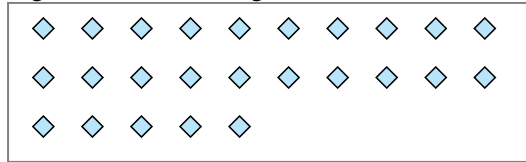
1a. _____

1b. _____

2) Es gibt 14 Figuren unten. Wie viele Gruppen mit 5 kannst du daraus machen? Wie viele Figuren wirst du übrig haben?



3) Es gibt 25 Figuren unten. Wie viele Gruppen mit 9 kannst du daraus machen? Wie viele Figuren wirst du übrig haben?




2a. _____

2b. _____

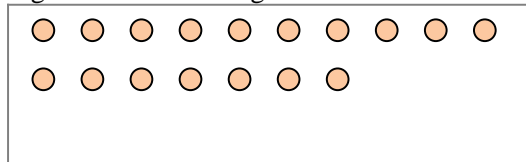
3a. _____

3b. _____

4) Es gibt 12 Figuren unten. Wie viele Gruppen mit 2 kannst du daraus machen? Wie viele Figuren wirst du übrig haben?



5) Es gibt 17 Figuren unten. Wie viele Gruppen mit 2 kannst du daraus machen? Wie viele Figuren wirst du übrig haben?




4a. _____

4b. _____

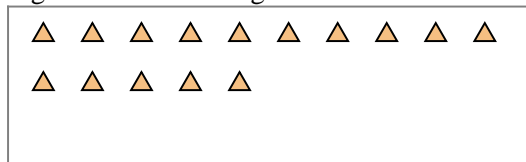
5a. _____

5b. _____

6) Es gibt 19 Figuren unten. Wie viele Gruppen mit 8 kannst du daraus machen? Wie viele Figuren wirst du übrig haben?



7) Es gibt 15 Figuren unten. Wie viele Gruppen mit 3 kannst du daraus machen? Wie viele Figuren wirst du übrig haben?



6a. _____

6b. _____

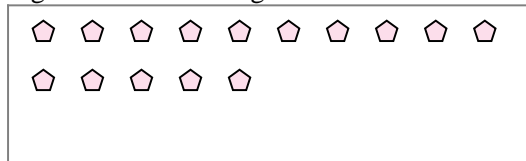
7a. _____

7b. _____

8) Es gibt 15 Figuren unten. Wie viele Gruppen mit 2 kannst du daraus machen? Wie viele Figuren wirst du übrig haben?



9) Es gibt 15 Figuren unten. Wie viele Gruppen mit 4 kannst du daraus machen? Wie viele Figuren wirst du übrig haben?



8a. _____

8b. _____

9a. _____

9b. _____

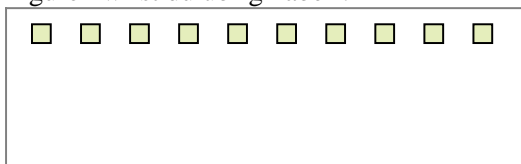


Verwende die Beispiele mit den Figuren im Feld zur Beantwortung der Fragen.

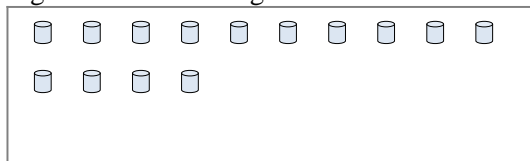
Bsp) Es gibt 15 Figuren unten. Wie viele Gruppen mit 6 kannst du daraus machen? Wie viele Figuren wirst du übrig haben?



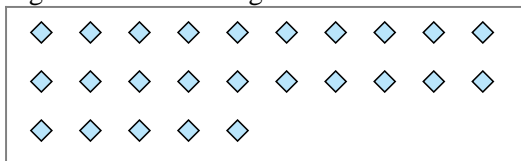
1) Es gibt 10 Figuren unten. Wie viele Gruppen mit 2 kannst du daraus machen? Wie viele Figuren wirst du übrig haben?




2) Es gibt 14 Figuren unten. Wie viele Gruppen mit 5 kannst du daraus machen? Wie viele Figuren wirst du übrig haben?



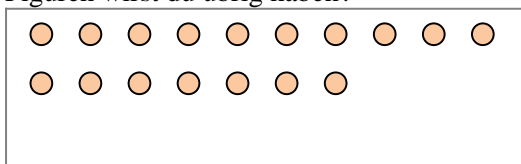
3) Es gibt 25 Figuren unten. Wie viele Gruppen mit 9 kannst du daraus machen? Wie viele Figuren wirst du übrig haben?




4) Es gibt 12 Figuren unten. Wie viele Gruppen mit 2 kannst du daraus machen? Wie viele Figuren wirst du übrig haben?



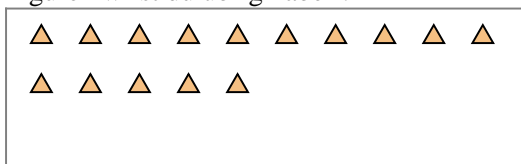
5) Es gibt 17 Figuren unten. Wie viele Gruppen mit 2 kannst du daraus machen? Wie viele Figuren wirst du übrig haben?



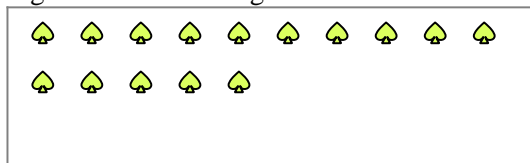
6) Es gibt 19 Figuren unten. Wie viele Gruppen mit 8 kannst du daraus machen? Wie viele Figuren wirst du übrig haben?



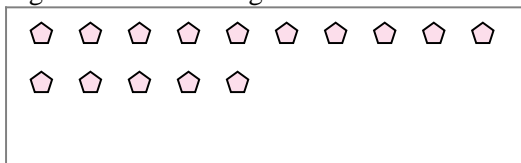
7) Es gibt 15 Figuren unten. Wie viele Gruppen mit 3 kannst du daraus machen? Wie viele Figuren wirst du übrig haben?



8) Es gibt 15 Figuren unten. Wie viele Gruppen mit 2 kannst du daraus machen? Wie viele Figuren wirst du übrig haben?



9) Es gibt 15 Figuren unten. Wie viele Gruppen mit 4 kannst du daraus machen? Wie viele Figuren wirst du übrig haben?



Antworten

Bsp. 2

Bsp. 3

1a. 5

1b. 0

2a. 2

2b. 4

3a. 2

3b. 7

4a. 6

4b. 0

5a. 8

5b. 1

6a. 2

6b. 3

7a. 5

7b. 0

8a. 7

8b. 1

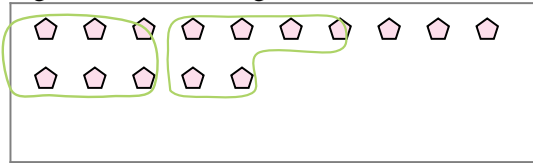
9a. 3

9b. 3



Verwende die Beispiele mit den Figuren im Feld zur Beantwortung der Fragen.

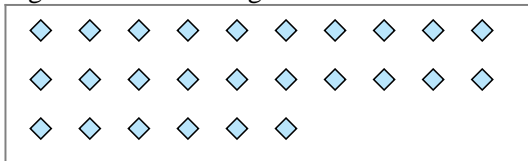
Bsp) Es gibt 15 Figuren unten. Wie viele Gruppen mit 6 kannst du daraus machen? Wie viele Figuren wirst du übrig haben?



1) Es gibt 18 Figuren unten. Wie viele Gruppen mit 3 kannst du daraus machen? Wie viele Figuren wirst du übrig haben?



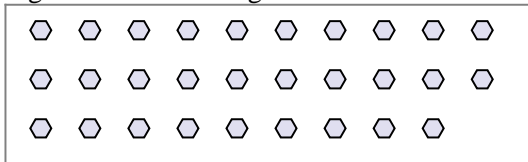
2) Es gibt 26 Figuren unten. Wie viele Gruppen mit 6 kannst du daraus machen? Wie viele Figuren wirst du übrig haben?




3) Es gibt 13 Figuren unten. Wie viele Gruppen mit 5 kannst du daraus machen? Wie viele Figuren wirst du übrig haben?




4) Es gibt 29 Figuren unten. Wie viele Gruppen mit 3 kannst du daraus machen? Wie viele Figuren wirst du übrig haben?




5) Es gibt 16 Figuren unten. Wie viele Gruppen mit 6 kannst du daraus machen? Wie viele Figuren wirst du übrig haben?



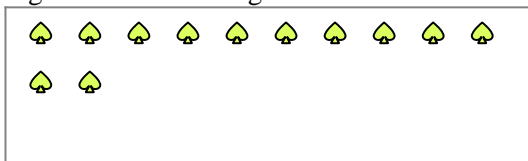
6) Es gibt 28 Figuren unten. Wie viele Gruppen mit 2 kannst du daraus machen? Wie viele Figuren wirst du übrig haben?



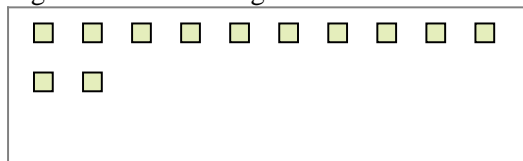
7) Es gibt 21 Figuren unten. Wie viele Gruppen mit 2 kannst du daraus machen? Wie viele Figuren wirst du übrig haben?



8) Es gibt 12 Figuren unten. Wie viele Gruppen mit 7 kannst du daraus machen? Wie viele Figuren wirst du übrig haben?



9) Es gibt 12 Figuren unten. Wie viele Gruppen mit 9 kannst du daraus machen? Wie viele Figuren wirst du übrig haben?



Antworten

Bsp. 2

Bsp. 3

1a. _____

1b. _____

2a. _____

2b. _____

3a. _____

3b. _____

4a. _____

4b. _____

5a. _____

5b. _____

6a. _____

6b. _____

7a. _____

7b. _____

8a. _____

8b. _____

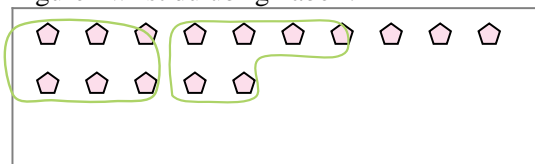
9a. _____

9b. _____

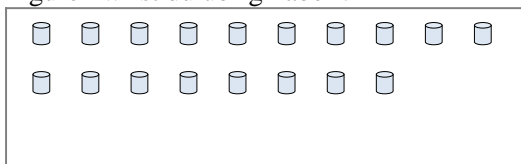


Verwende die Beispiele mit den Figuren im Feld zur Beantwortung der Fragen.

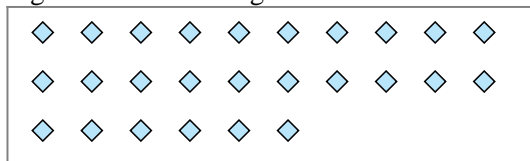
Bsp) Es gibt 15 Figuren unten. Wie viele Gruppen mit 6 kannst du daraus machen? Wie viele Figuren wirst du übrig haben?




1) Es gibt 18 Figuren unten. Wie viele Gruppen mit 3 kannst du daraus machen? Wie viele Figuren wirst du übrig haben?



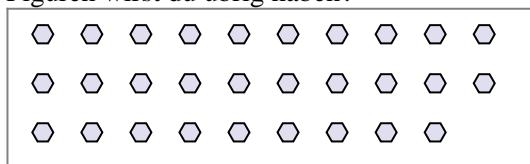
2) Es gibt 26 Figuren unten. Wie viele Gruppen mit 6 kannst du daraus machen? Wie viele Figuren wirst du übrig haben?



3) Es gibt 13 Figuren unten. Wie viele Gruppen mit 5 kannst du daraus machen? Wie viele Figuren wirst du übrig haben?




4) Es gibt 29 Figuren unten. Wie viele Gruppen mit 3 kannst du daraus machen? Wie viele Figuren wirst du übrig haben?




5) Es gibt 16 Figuren unten. Wie viele Gruppen mit 6 kannst du daraus machen? Wie viele Figuren wirst du übrig haben?



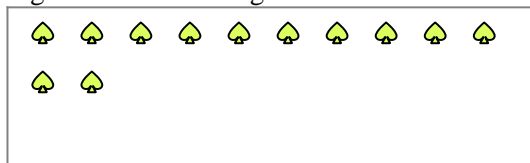
6) Es gibt 28 Figuren unten. Wie viele Gruppen mit 2 kannst du daraus machen? Wie viele Figuren wirst du übrig haben?



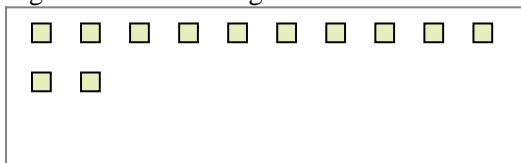
7) Es gibt 21 Figuren unten. Wie viele Gruppen mit 2 kannst du daraus machen? Wie viele Figuren wirst du übrig haben?



8) Es gibt 12 Figuren unten. Wie viele Gruppen mit 7 kannst du daraus machen? Wie viele Figuren wirst du übrig haben?



9) Es gibt 12 Figuren unten. Wie viele Gruppen mit 9 kannst du daraus machen? Wie viele Figuren wirst du übrig haben?



Antworten

Bsp. 2

Bsp. 3

1a. 6

1b. 0

2a. 4

2b. 2

3a. 2

3b. 3

4a. 9

4b. 2

5a. 2

5b. 4

6a. 14

6b. 0

7a. 10

7b. 1

8a. 1

8b. 5

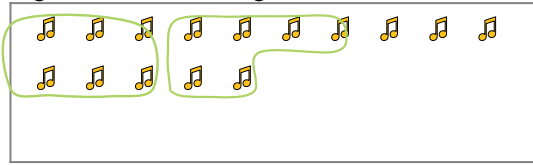
9a. 1

9b. 3

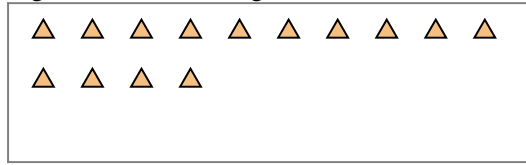


Verwende die Beispiele mit den Figuren im Feld zur Beantwortung der Fragen.

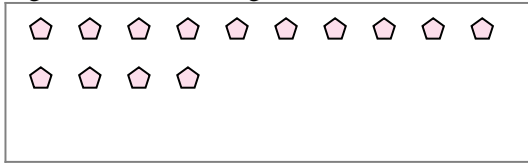
Bsp) Es gibt 15 Figuren unten. Wie viele Gruppen mit 6 kannst du daraus machen? Wie viele Figuren wirst du übrig haben?



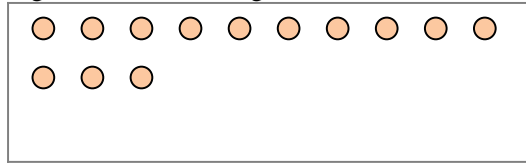
1) Es gibt 14 Figuren unten. Wie viele Gruppen mit 7 kannst du daraus machen? Wie viele Figuren wirst du übrig haben?




2) Es gibt 14 Figuren unten. Wie viele Gruppen mit 3 kannst du daraus machen? Wie viele Figuren wirst du übrig haben?



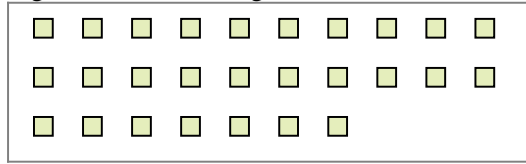
3) Es gibt 13 Figuren unten. Wie viele Gruppen mit 7 kannst du daraus machen? Wie viele Figuren wirst du übrig haben?



4) Es gibt 30 Figuren unten. Wie viele Gruppen mit 6 kannst du daraus machen? Wie viele Figuren wirst du übrig haben?



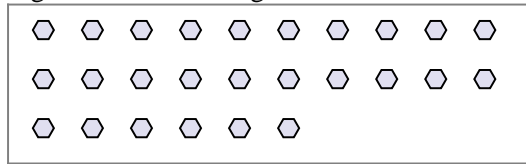
5) Es gibt 27 Figuren unten. Wie viele Gruppen mit 3 kannst du daraus machen? Wie viele Figuren wirst du übrig haben?



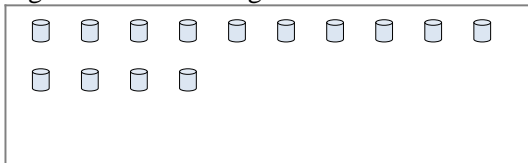
6) Es gibt 20 Figuren unten. Wie viele Gruppen mit 7 kannst du daraus machen? Wie viele Figuren wirst du übrig haben?



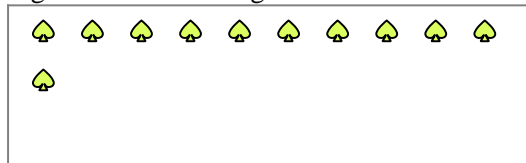
7) Es gibt 26 Figuren unten. Wie viele Gruppen mit 4 kannst du daraus machen? Wie viele Figuren wirst du übrig haben?



8) Es gibt 14 Figuren unten. Wie viele Gruppen mit 9 kannst du daraus machen? Wie viele Figuren wirst du übrig haben?



9) Es gibt 11 Figuren unten. Wie viele Gruppen mit 4 kannst du daraus machen? Wie viele Figuren wirst du übrig haben?



Antworten

Bsp. 2

Bsp. 3

1a. _____

1b. _____

2a. _____

2b. _____

3a. _____

3b. _____

4a. _____

4b. _____

5a. _____

5b. _____

6a. _____

6b. _____

7a. _____

7b. _____

8a. _____

8b. _____

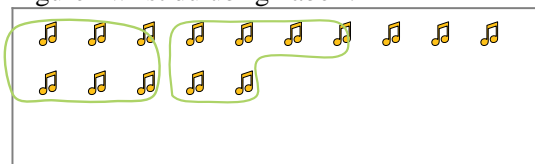
9a. _____

9b. _____

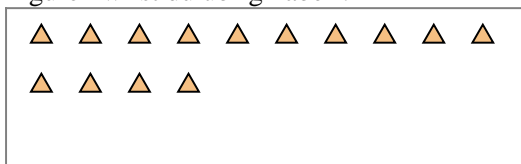


Verwende die Beispiele mit den Figuren im Feld zur Beantwortung der Fragen.

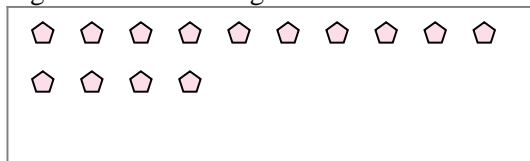
Bsp) Es gibt 15 Figuren unten. Wie viele Gruppen mit 6 kannst du daraus machen? Wie viele Figuren wirst du übrig haben?



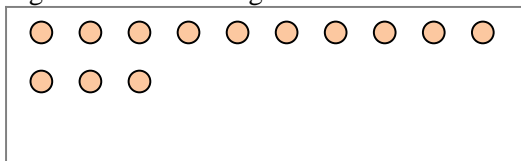
1) Es gibt 14 Figuren unten. Wie viele Gruppen mit 7 kannst du daraus machen? Wie viele Figuren wirst du übrig haben?




2) Es gibt 14 Figuren unten. Wie viele Gruppen mit 3 kannst du daraus machen? Wie viele Figuren wirst du übrig haben?



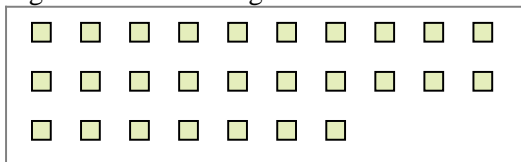
3) Es gibt 13 Figuren unten. Wie viele Gruppen mit 7 kannst du daraus machen? Wie viele Figuren wirst du übrig haben?




4) Es gibt 30 Figuren unten. Wie viele Gruppen mit 6 kannst du daraus machen? Wie viele Figuren wirst du übrig haben?



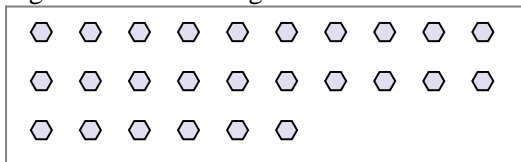
5) Es gibt 27 Figuren unten. Wie viele Gruppen mit 3 kannst du daraus machen? Wie viele Figuren wirst du übrig haben?



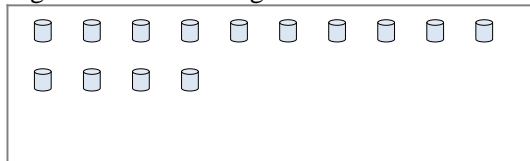
6) Es gibt 20 Figuren unten. Wie viele Gruppen mit 7 kannst du daraus machen? Wie viele Figuren wirst du übrig haben?




7) Es gibt 26 Figuren unten. Wie viele Gruppen mit 4 kannst du daraus machen? Wie viele Figuren wirst du übrig haben?



8) Es gibt 14 Figuren unten. Wie viele Gruppen mit 9 kannst du daraus machen? Wie viele Figuren wirst du übrig haben?



9) Es gibt 11 Figuren unten. Wie viele Gruppen mit 4 kannst du daraus machen? Wie viele Figuren wirst du übrig haben?



Antworten

Bsp. 2

Bsp. 3

1a. 2

1b. 0

2a. 4

2b. 2

3a. 1

3b. 6

4a. 5

4b. 0

5a. 9

5b. 0

6a. 2

6b. 6

7a. 6

7b. 2

8a. 1

8b. 5

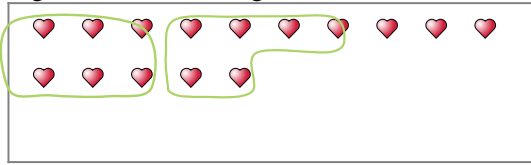
9a. 2

9b. 3

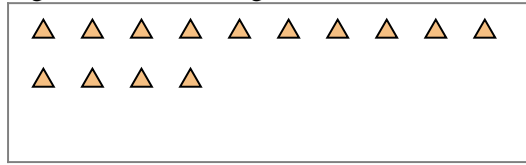


Verwende die Beispiele mit den Figuren im Feld zur Beantwortung der Fragen.

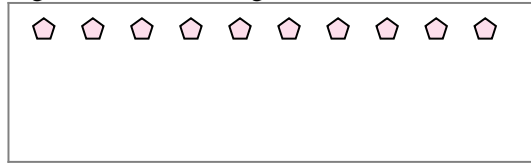
Bsp) Es gibt 15 Figuren unten. Wie viele Gruppen mit 6 kannst du daraus machen? Wie viele Figuren wirst du übrig haben?



1) Es gibt 14 Figuren unten. Wie viele Gruppen mit 6 kannst du daraus machen? Wie viele Figuren wirst du übrig haben?




2) Es gibt 10 Figuren unten. Wie viele Gruppen mit 3 kannst du daraus machen? Wie viele Figuren wirst du übrig haben?



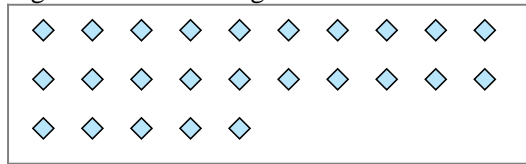
3) Es gibt 28 Figuren unten. Wie viele Gruppen mit 6 kannst du daraus machen? Wie viele Figuren wirst du übrig haben?



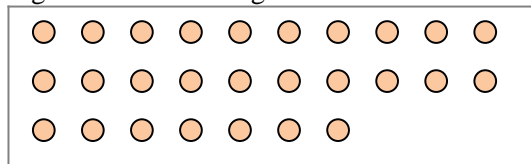
4) Es gibt 10 Figuren unten. Wie viele Gruppen mit 2 kannst du daraus machen? Wie viele Figuren wirst du übrig haben?



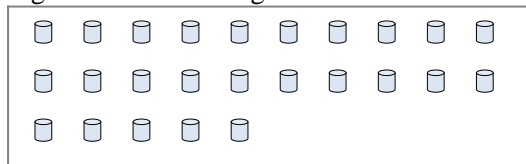
5) Es gibt 25 Figuren unten. Wie viele Gruppen mit 9 kannst du daraus machen? Wie viele Figuren wirst du übrig haben?




6) Es gibt 27 Figuren unten. Wie viele Gruppen mit 7 kannst du daraus machen? Wie viele Figuren wirst du übrig haben?



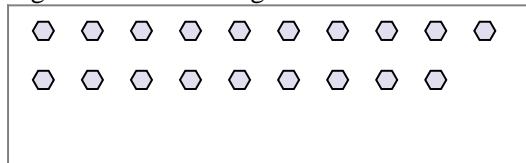
7) Es gibt 25 Figuren unten. Wie viele Gruppen mit 6 kannst du daraus machen? Wie viele Figuren wirst du übrig haben?



8) Es gibt 12 Figuren unten. Wie viele Gruppen mit 6 kannst du daraus machen? Wie viele Figuren wirst du übrig haben?



9) Es gibt 19 Figuren unten. Wie viele Gruppen mit 7 kannst du daraus machen? Wie viele Figuren wirst du übrig haben?



Antworten

Bsp. 2

Bsp. 3

1a. _____

1b. _____

2a. _____

2b. _____

3a. _____

3b. _____

4a. _____

4b. _____

5a. _____

5b. _____

6a. _____

6b. _____

7a. _____

7b. _____

8a. _____

8b. _____

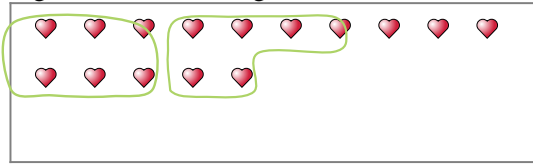
9a. _____

9b. _____

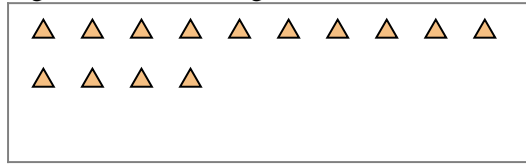


Verwende die Beispiele mit den Figuren im Feld zur Beantwortung der Fragen.

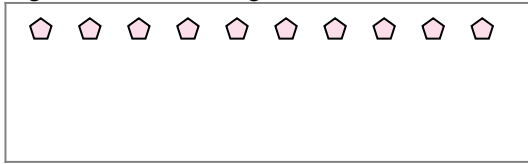
Bsp) Es gibt 15 Figuren unten. Wie viele Gruppen mit 6 kannst du daraus machen? Wie viele Figuren wirst du übrig haben?



1) Es gibt 14 Figuren unten. Wie viele Gruppen mit 6 kannst du daraus machen? Wie viele Figuren wirst du übrig haben?




2) Es gibt 10 Figuren unten. Wie viele Gruppen mit 3 kannst du daraus machen? Wie viele Figuren wirst du übrig haben?



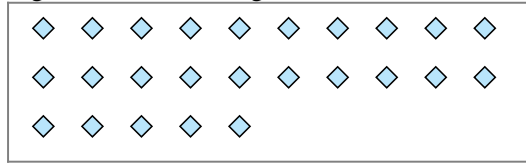
3) Es gibt 28 Figuren unten. Wie viele Gruppen mit 6 kannst du daraus machen? Wie viele Figuren wirst du übrig haben?



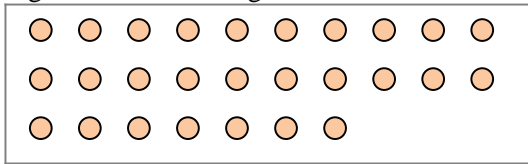
4) Es gibt 10 Figuren unten. Wie viele Gruppen mit 2 kannst du daraus machen? Wie viele Figuren wirst du übrig haben?



5) Es gibt 25 Figuren unten. Wie viele Gruppen mit 9 kannst du daraus machen? Wie viele Figuren wirst du übrig haben?




6) Es gibt 27 Figuren unten. Wie viele Gruppen mit 7 kannst du daraus machen? Wie viele Figuren wirst du übrig haben?



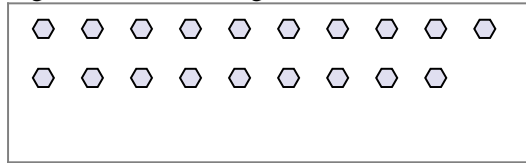
7) Es gibt 25 Figuren unten. Wie viele Gruppen mit 6 kannst du daraus machen? Wie viele Figuren wirst du übrig haben?



8) Es gibt 12 Figuren unten. Wie viele Gruppen mit 6 kannst du daraus machen? Wie viele Figuren wirst du übrig haben?



9) Es gibt 19 Figuren unten. Wie viele Gruppen mit 7 kannst du daraus machen? Wie viele Figuren wirst du übrig haben?



Antworten

Bsp. 2

Bsp. 3

1a. 2

1b. 2

2a. 3

2b. 1

3a. 4

3b. 4

4a. 5

4b. 0

5a. 2

5b. 7

6a. 3

6b. 6

7a. 4

7b. 1

8a. 2

8b. 0

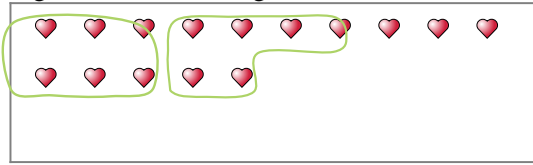
9a. 2

9b. 5

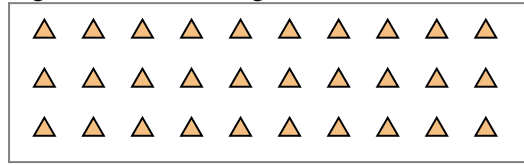


Verwende die Beispiele mit den Figuren im Feld zur Beantwortung der Fragen.

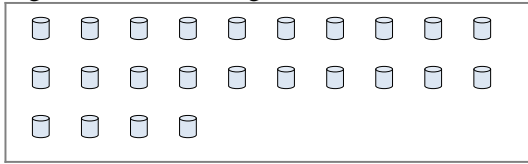
Bsp) Es gibt 15 Figuren unten. Wie viele Gruppen mit 6 kannst du daraus machen? Wie viele Figuren wirst du übrig haben?



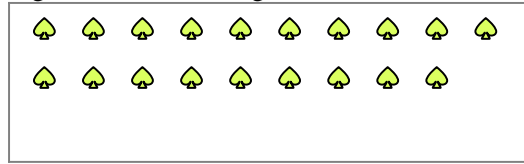
1) Es gibt 30 Figuren unten. Wie viele Gruppen mit 9 kannst du daraus machen? Wie viele Figuren wirst du übrig haben?



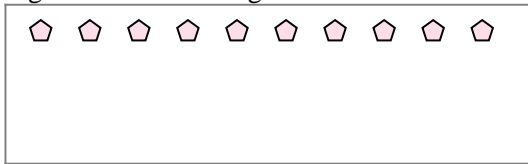
2) Es gibt 24 Figuren unten. Wie viele Gruppen mit 9 kannst du daraus machen? Wie viele Figuren wirst du übrig haben?



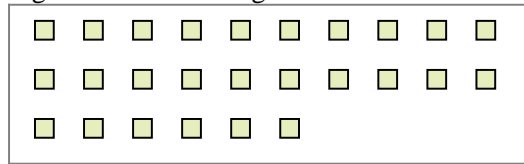
3) Es gibt 19 Figuren unten. Wie viele Gruppen mit 7 kannst du daraus machen? Wie viele Figuren wirst du übrig haben?



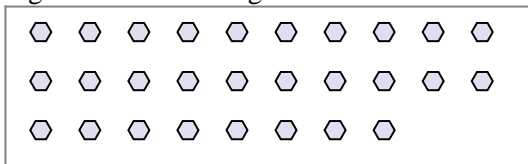
4) Es gibt 10 Figuren unten. Wie viele Gruppen mit 2 kannst du daraus machen? Wie viele Figuren wirst du übrig haben?



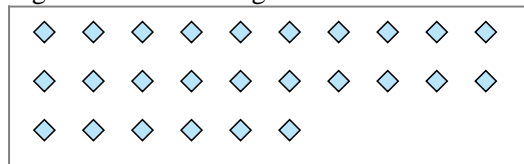
5) Es gibt 26 Figuren unten. Wie viele Gruppen mit 3 kannst du daraus machen? Wie viele Figuren wirst du übrig haben?



6) Es gibt 28 Figuren unten. Wie viele Gruppen mit 3 kannst du daraus machen? Wie viele Figuren wirst du übrig haben?




7) Es gibt 26 Figuren unten. Wie viele Gruppen mit 7 kannst du daraus machen? Wie viele Figuren wirst du übrig haben?



8) Es gibt 30 Figuren unten. Wie viele Gruppen mit 2 kannst du daraus machen? Wie viele Figuren wirst du übrig haben?



9) Es gibt 26 Figuren unten. Wie viele Gruppen mit 7 kannst du daraus machen? Wie viele Figuren wirst du übrig haben?



Antworten

Bsp. 2

Bsp. 3

1a. _____

1b. _____

2a. _____

2b. _____

3a. _____

3b. _____

4a. _____

4b. _____

5a. _____

5b. _____

6a. _____

6b. _____

7a. _____

7b. _____

8a. _____

8b. _____

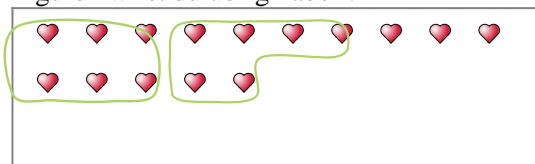
9a. _____

9b. _____




Verwende die Beispiele mit den Figuren im Feld zur Beantwortung der Fragen.

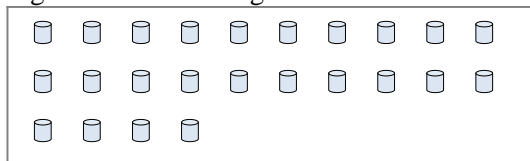
Bsp) Es gibt 15 Figuren unten. Wie viele Gruppen mit 6 kannst du daraus machen? Wie viele Figuren wirst du übrig haben?



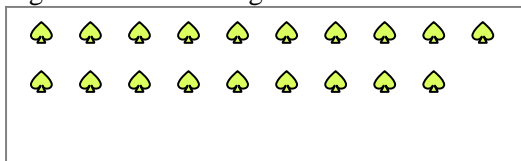
1) Es gibt 30 Figuren unten. Wie viele Gruppen mit 9 kannst du daraus machen? Wie viele Figuren wirst du übrig haben?



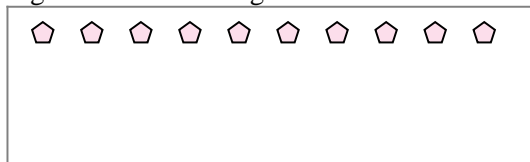
2) Es gibt 24 Figuren unten. Wie viele Gruppen mit 9 kannst du daraus machen? Wie viele Figuren wirst du übrig haben?



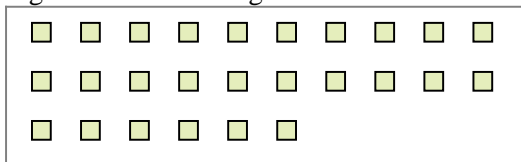
3) Es gibt 19 Figuren unten. Wie viele Gruppen mit 7 kannst du daraus machen? Wie viele Figuren wirst du übrig haben?



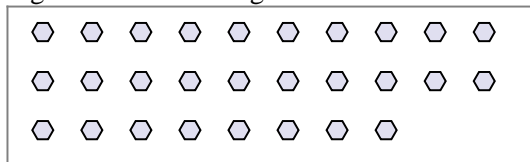
4) Es gibt 10 Figuren unten. Wie viele Gruppen mit 2 kannst du daraus machen? Wie viele Figuren wirst du übrig haben?



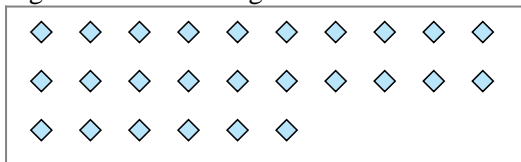
5) Es gibt 26 Figuren unten. Wie viele Gruppen mit 3 kannst du daraus machen? Wie viele Figuren wirst du übrig haben?



6) Es gibt 28 Figuren unten. Wie viele Gruppen mit 3 kannst du daraus machen? Wie viele Figuren wirst du übrig haben?




7) Es gibt 26 Figuren unten. Wie viele Gruppen mit 7 kannst du daraus machen? Wie viele Figuren wirst du übrig haben?



8) Es gibt 30 Figuren unten. Wie viele Gruppen mit 2 kannst du daraus machen? Wie viele Figuren wirst du übrig haben?



9) Es gibt 26 Figuren unten. Wie viele Gruppen mit 7 kannst du daraus machen? Wie viele Figuren wirst du übrig haben?



Antworten

Bsp. 2

Bsp. 3

1a. 3

1b. 3

2a. 2

2b. 6

3a. 2

3b. 5

4a. 5

4b. 0

5a. 8

5b. 2

6a. 9

6b. 1

7a. 3

7b. 5

8a. 15

8b. 0

9a. 3

9b. 5