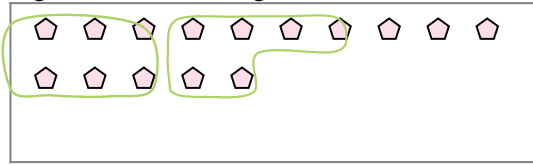


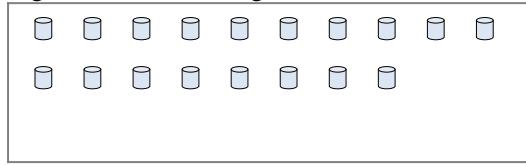


Verwende die Beispiele mit den Figuren im Feld zur Beantwortung der Fragen.

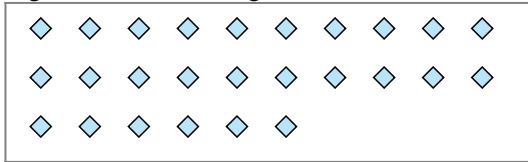
Bsp) Es gibt 15 Figuren unten. Wie viele Gruppen mit 6 kannst du daraus machen? Wie viele Figuren wirst du übrig haben?



1) Es gibt 18 Figuren unten. Wie viele Gruppen mit 3 kannst du daraus machen? Wie viele Figuren wirst du übrig haben?



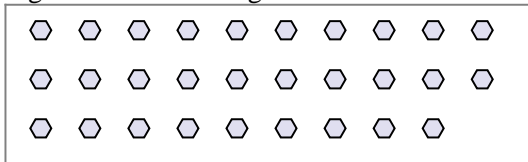
2) Es gibt 26 Figuren unten. Wie viele Gruppen mit 6 kannst du daraus machen? Wie viele Figuren wirst du übrig haben?



3) Es gibt 13 Figuren unten. Wie viele Gruppen mit 5 kannst du daraus machen? Wie viele Figuren wirst du übrig haben?




4) Es gibt 29 Figuren unten. Wie viele Gruppen mit 3 kannst du daraus machen? Wie viele Figuren wirst du übrig haben?




5) Es gibt 16 Figuren unten. Wie viele Gruppen mit 6 kannst du daraus machen? Wie viele Figuren wirst du übrig haben?



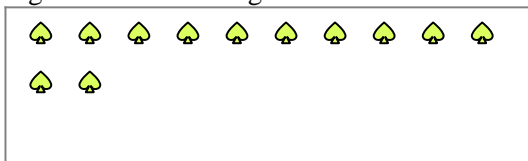
6) Es gibt 28 Figuren unten. Wie viele Gruppen mit 2 kannst du daraus machen? Wie viele Figuren wirst du übrig haben?



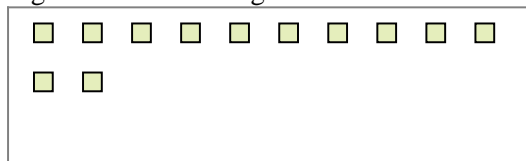
7) Es gibt 21 Figuren unten. Wie viele Gruppen mit 2 kannst du daraus machen? Wie viele Figuren wirst du übrig haben?



8) Es gibt 12 Figuren unten. Wie viele Gruppen mit 7 kannst du daraus machen? Wie viele Figuren wirst du übrig haben?



9) Es gibt 12 Figuren unten. Wie viele Gruppen mit 9 kannst du daraus machen? Wie viele Figuren wirst du übrig haben?



Antworten

Bsp. 2

Bsp. 3

1a. \_\_\_\_\_

1b. \_\_\_\_\_

2a. \_\_\_\_\_

2b. \_\_\_\_\_

3a. \_\_\_\_\_

3b. \_\_\_\_\_

4a. \_\_\_\_\_

4b. \_\_\_\_\_

5a. \_\_\_\_\_

5b. \_\_\_\_\_

6a. \_\_\_\_\_

6b. \_\_\_\_\_

7a. \_\_\_\_\_

7b. \_\_\_\_\_

8a. \_\_\_\_\_

8b. \_\_\_\_\_

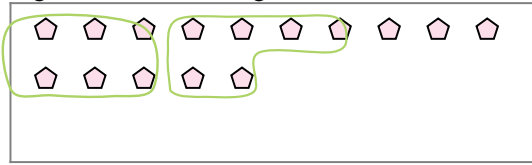
9a. \_\_\_\_\_

9b. \_\_\_\_\_



**Verwende die Beispiele mit den Figuren im Feld zur Beantwortung der Fragen.**

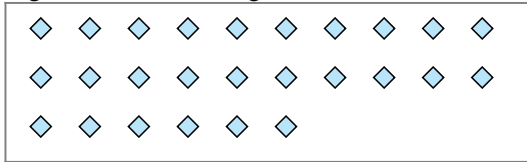
**Bsp)** Es gibt 15 Figuren unten. Wie viele Gruppen mit 6 kannst du daraus machen? Wie viele Figuren wirst du übrig haben?



**1)** Es gibt 18 Figuren unten. Wie viele Gruppen mit 3 kannst du daraus machen? Wie viele Figuren wirst du übrig haben?



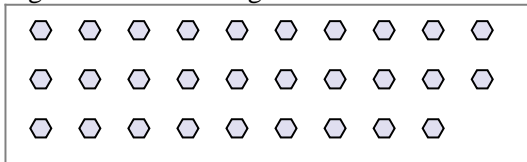
**2)** Es gibt 26 Figuren unten. Wie viele Gruppen mit 6 kannst du daraus machen? Wie viele Figuren wirst du übrig haben?



**3)** Es gibt 13 Figuren unten. Wie viele Gruppen mit 5 kannst du daraus machen? Wie viele Figuren wirst du übrig haben?




**4)** Es gibt 29 Figuren unten. Wie viele Gruppen mit 3 kannst du daraus machen? Wie viele Figuren wirst du übrig haben?




**5)** Es gibt 16 Figuren unten. Wie viele Gruppen mit 6 kannst du daraus machen? Wie viele Figuren wirst du übrig haben?



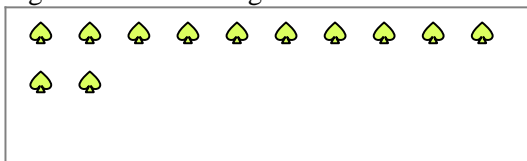
**6)** Es gibt 28 Figuren unten. Wie viele Gruppen mit 2 kannst du daraus machen? Wie viele Figuren wirst du übrig haben?



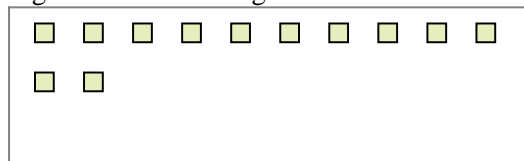
**7)** Es gibt 21 Figuren unten. Wie viele Gruppen mit 2 kannst du daraus machen? Wie viele Figuren wirst du übrig haben?



**8)** Es gibt 12 Figuren unten. Wie viele Gruppen mit 7 kannst du daraus machen? Wie viele Figuren wirst du übrig haben?



**9)** Es gibt 12 Figuren unten. Wie viele Gruppen mit 9 kannst du daraus machen? Wie viele Figuren wirst du übrig haben?



**Antworten**

Bsp. 2

Bsp. 3

1a. 6

1b. 0

2a. 4

2b. 2

3a. 2

3b. 3

4a. 9

4b. 2

5a. 2

5b. 4

6a. 14

6b. 0

7a. 10

7b. 1

8a. 1

8b. 5

9a. 1

9b. 3