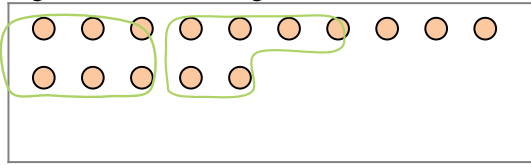




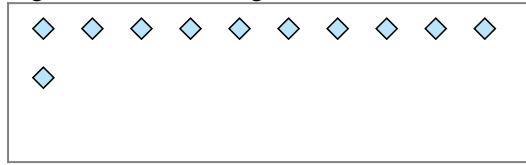
Verwende die Beispiele mit den Figuren im Feld zur Beantwortung der Fragen.

Antworten

Bsp) Es gibt 15 Figuren unten. Wie viele Gruppen mit 6 kannst du daraus machen? Wie viele Figuren wirst du übrig haben?



1) Es gibt 11 Figuren unten. Wie viele Gruppen mit 5 kannst du daraus machen? Wie viele Figuren wirst du übrig haben?



Bsp. 2

Bsp. 3

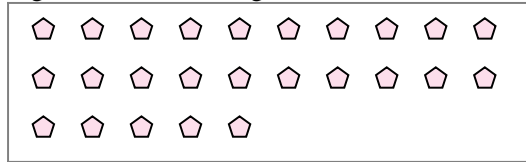
1a. _____

1b. _____

2) Es gibt 11 Figuren unten. Wie viele Gruppen mit 4 kannst du daraus machen? Wie viele Figuren wirst du übrig haben?



3) Es gibt 25 Figuren unten. Wie viele Gruppen mit 6 kannst du daraus machen? Wie viele Figuren wirst du übrig haben?



2a. _____

2b. _____


3a. _____

3b. _____

4) Es gibt 15 Figuren unten. Wie viele Gruppen mit 2 kannst du daraus machen? Wie viele Figuren wirst du übrig haben?



5) Es gibt 29 Figuren unten. Wie viele Gruppen mit 6 kannst du daraus machen? Wie viele Figuren wirst du übrig haben?




4a. _____

4b. _____

5a. _____

5b. _____

6) Es gibt 28 Figuren unten. Wie viele Gruppen mit 4 kannst du daraus machen? Wie viele Figuren wirst du übrig haben?



7) Es gibt 26 Figuren unten. Wie viele Gruppen mit 6 kannst du daraus machen? Wie viele Figuren wirst du übrig haben?



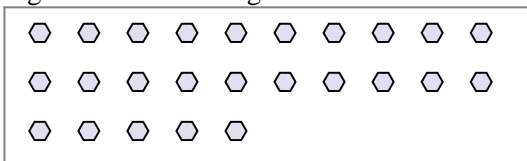
6a. _____

6b. _____

7a. _____

7b. _____

8) Es gibt 25 Figuren unten. Wie viele Gruppen mit 4 kannst du daraus machen? Wie viele Figuren wirst du übrig haben?



9) Es gibt 27 Figuren unten. Wie viele Gruppen mit 9 kannst du daraus machen? Wie viele Figuren wirst du übrig haben?



8a. _____

8b. _____

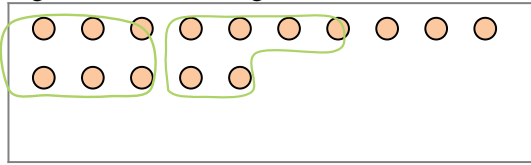
9a. _____

9b. _____

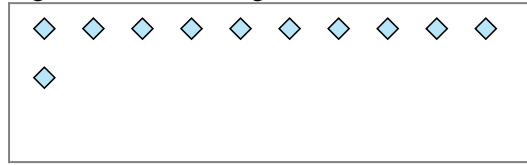


Verwende die Beispiele mit den Figuren im Feld zur Beantwortung der Fragen.

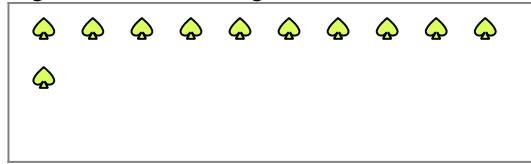
Bsp) Es gibt 15 Figuren unten. Wie viele Gruppen mit 6 kannst du daraus machen? Wie viele Figuren wirst du übrig haben?



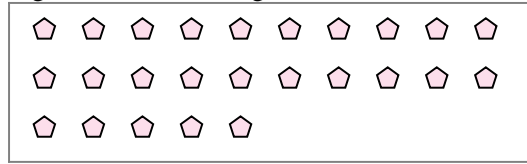
1) Es gibt 11 Figuren unten. Wie viele Gruppen mit 5 kannst du daraus machen? Wie viele Figuren wirst du übrig haben?




2) Es gibt 11 Figuren unten. Wie viele Gruppen mit 4 kannst du daraus machen? Wie viele Figuren wirst du übrig haben?




3) Es gibt 25 Figuren unten. Wie viele Gruppen mit 6 kannst du daraus machen? Wie viele Figuren wirst du übrig haben?




4) Es gibt 15 Figuren unten. Wie viele Gruppen mit 2 kannst du daraus machen? Wie viele Figuren wirst du übrig haben?



5) Es gibt 29 Figuren unten. Wie viele Gruppen mit 6 kannst du daraus machen? Wie viele Figuren wirst du übrig haben?



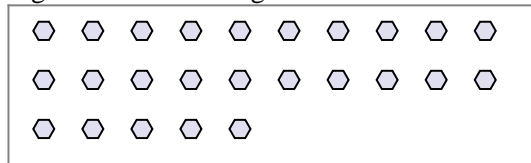
6) Es gibt 28 Figuren unten. Wie viele Gruppen mit 4 kannst du daraus machen? Wie viele Figuren wirst du übrig haben?



7) Es gibt 26 Figuren unten. Wie viele Gruppen mit 6 kannst du daraus machen? Wie viele Figuren wirst du übrig haben?



8) Es gibt 25 Figuren unten. Wie viele Gruppen mit 4 kannst du daraus machen? Wie viele Figuren wirst du übrig haben?



9) Es gibt 27 Figuren unten. Wie viele Gruppen mit 9 kannst du daraus machen? Wie viele Figuren wirst du übrig haben?



Antworten

Bsp. 2

Bsp. 3

1a. 2

1b. 1

2a. 2

2b. 3

3a. 4

3b. 1

4a. 7

4b. 1

5a. 4

5b. 5

6a. 7

6b. 0

7a. 4

7b. 2

8a. 6

8b. 1

9a. 3

9b. 0