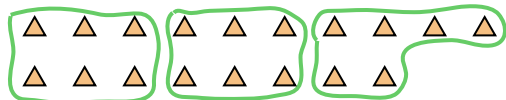




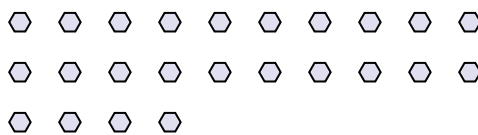
Benutze die vorgegebenen Figuren zur Beantwortung der Fragen.

Antworten

Bsp) Wie viele Gruppen von 6 kannst du machen mit den 18 Figuren unten?



1) Wie viele Gruppen von 8 kannst du machen mit den 24 Figuren unten?

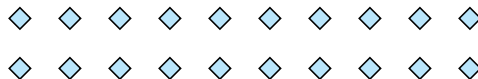


Bsp. 3

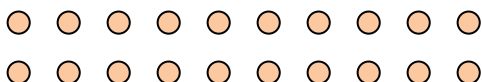
2) Wie viele Gruppen von 5 kannst du machen mit den 10 Figuren unten?



3) Wie viele Gruppen von 4 kannst du machen mit den 20 Figuren unten?



4) Wie viele Gruppen von 2 kannst du machen mit den 20 Figuren unten?




5) Wie viele Gruppen von 7 kannst du machen mit den 28 Figuren unten?



6) Wie viele Gruppen von 6 kannst du machen mit den 12 Figuren unten?



7) Wie viele Gruppen von 6 kannst du machen mit den 36 Figuren unten?



8) Wie viele Gruppen von 7 kannst du machen mit den 14 Figuren unten?



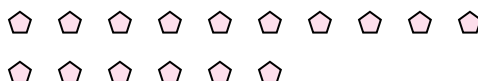
9) Wie viele Gruppen von 7 kannst du machen mit den 14 Figuren unten?



10) Wie viele Gruppen von 6 kannst du machen mit den 24 Figuren unten?



11) Wie viele Gruppen von 4 kannst du machen mit den 16 Figuren unten?



1. _____

2. _____

3. _____

4. _____

5. _____

6. _____

7. _____

8. _____

9. _____

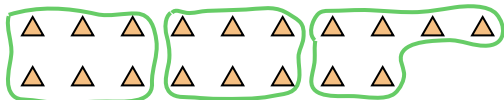
10. _____

11. _____

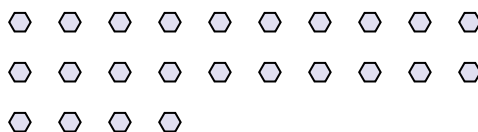


Benutze die vorgegebenen Figuren zur Beantwortung der Fragen.

Bsp) Wie viele Gruppen von 6 kannst du machen mit den 18 Figuren unten?



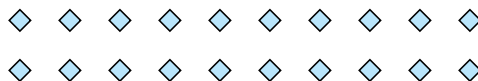
1) Wie viele Gruppen von 8 kannst du machen mit den 24 Figuren unten?



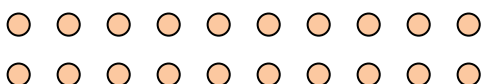
2) Wie viele Gruppen von 5 kannst du machen mit den 10 Figuren unten?



3) Wie viele Gruppen von 4 kannst du machen mit den 20 Figuren unten?



4) Wie viele Gruppen von 2 kannst du machen mit den 20 Figuren unten?




5) Wie viele Gruppen von 7 kannst du machen mit den 28 Figuren unten?



6) Wie viele Gruppen von 6 kannst du machen mit den 12 Figuren unten?



7) Wie viele Gruppen von 6 kannst du machen mit den 36 Figuren unten?



8) Wie viele Gruppen von 7 kannst du machen mit den 14 Figuren unten?



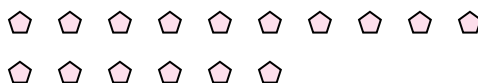
9) Wie viele Gruppen von 7 kannst du machen mit den 14 Figuren unten?



10) Wie viele Gruppen von 6 kannst du machen mit den 24 Figuren unten?



11) Wie viele Gruppen von 4 kannst du machen mit den 16 Figuren unten?



Antworten

Bsp. 3

1. 3

2. 2

3. 5

4. 10

5. 4

6. 2

7. 6

8. 2

9. 2

10. 4

11. 4