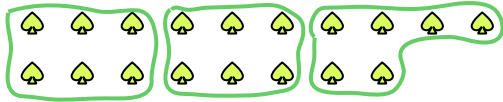





Benutze die vorgegebenen Figuren zur Beantwortung der Fragen.

Bsp) Wie viele Gruppen von 6 kannst du machen mit den 18 Figuren unten?



1) Wie viele Gruppen von 3 kannst du machen mit den 27 Figuren unten?



**Antworten**

Bsp. 3

1. \_\_\_\_\_

2. \_\_\_\_\_

3. \_\_\_\_\_

4. \_\_\_\_\_

5. \_\_\_\_\_

6. \_\_\_\_\_

7. \_\_\_\_\_

8. \_\_\_\_\_

9. \_\_\_\_\_

10. \_\_\_\_\_

11. \_\_\_\_\_

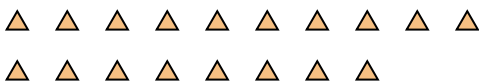
2) Wie viele Gruppen von 3 kannst du machen mit den 21 Figuren unten?




3) Wie viele Gruppen von 2 kannst du machen mit den 32 Figuren unten?



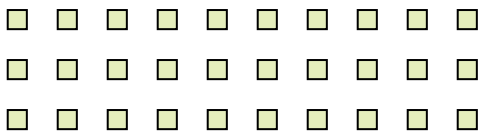
4) Wie viele Gruppen von 9 kannst du machen mit den 18 Figuren unten?




5) Wie viele Gruppen von 2 kannst du machen mit den 34 Figuren unten?



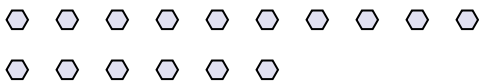
6) Wie viele Gruppen von 2 kannst du machen mit den 30 Figuren unten?



7) Wie viele Gruppen von 3 kannst du machen mit den 36 Figuren unten?



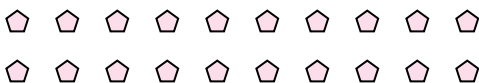
8) Wie viele Gruppen von 2 kannst du machen mit den 16 Figuren unten?



9) Wie viele Gruppen von 5 kannst du machen mit den 15 Figuren unten?



10) Wie viele Gruppen von 4 kannst du machen mit den 20 Figuren unten?



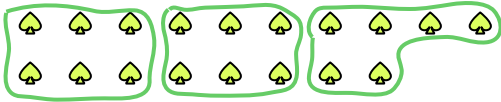
11) Wie viele Gruppen von 2 kannst du machen mit den 6 Figuren unten?






Benutze die vorgegebenen Figuren zur Beantwortung der Fragen.

Bsp) Wie viele Gruppen von 6 kannst du machen mit den 18 Figuren unten?



1) Wie viele Gruppen von 3 kannst du machen mit den 27 Figuren unten?



Antworten

Bsp. 3

1. 9

2. 7

3. 16

4. 2

5. 17

6. 15

7. 12

8. 8

9. 3

10. 5

11. 3

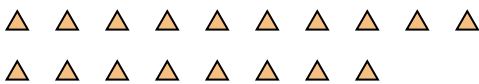
2) Wie viele Gruppen von 3 kannst du machen mit den 21 Figuren unten?




3) Wie viele Gruppen von 2 kannst du machen mit den 32 Figuren unten?



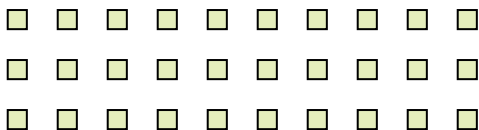
4) Wie viele Gruppen von 9 kannst du machen mit den 18 Figuren unten?




5) Wie viele Gruppen von 2 kannst du machen mit den 34 Figuren unten?



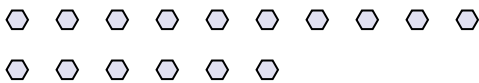
6) Wie viele Gruppen von 2 kannst du machen mit den 30 Figuren unten?



7) Wie viele Gruppen von 3 kannst du machen mit den 36 Figuren unten?



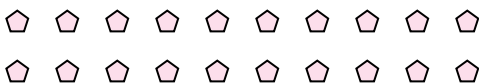
8) Wie viele Gruppen von 2 kannst du machen mit den 16 Figuren unten?



9) Wie viele Gruppen von 5 kannst du machen mit den 15 Figuren unten?



10) Wie viele Gruppen von 4 kannst du machen mit den 20 Figuren unten?



11) Wie viele Gruppen von 2 kannst du machen mit den 6 Figuren unten?

