





Benutze die vorgegebenen Figuren zur Beantwortung der Fragen.

Bsp) Wie viele Gruppen von 6 kannst du machen mit den 18 Figuren unten?



1) Wie viele Gruppen von 6 kannst du machen mit den 24 Figuren unten?



Antworten

Bsp. 3

1. _____

2. _____

3. _____

4. _____

5. _____

6. _____

7. _____

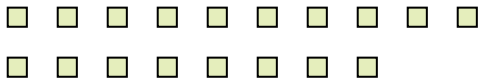
8. _____

9. _____

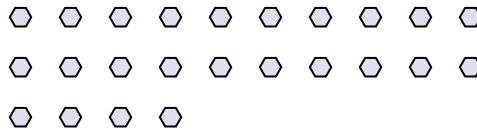
10. _____

11. _____

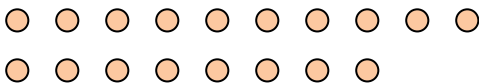
2) Wie viele Gruppen von 6 kannst du machen mit den 18 Figuren unten?



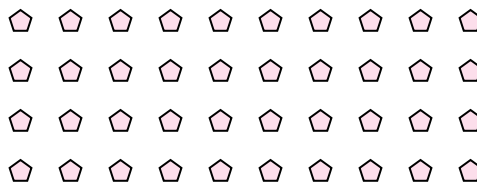
3) Wie viele Gruppen von 8 kannst du machen mit den 24 Figuren unten?




4) Wie viele Gruppen von 2 kannst du machen mit den 18 Figuren unten?



5) Wie viele Gruppen von 8 kannst du machen mit den 40 Figuren unten?




6) Wie viele Gruppen von 5 kannst du machen mit den 30 Figuren unten?



7) Wie viele Gruppen von 8 kannst du machen mit den 24 Figuren unten?



8) Wie viele Gruppen von 3 kannst du machen mit den 33 Figuren unten?



9) Wie viele Gruppen von 2 kannst du machen mit den 6 Figuren unten?



10) Wie viele Gruppen von 7 kannst du machen mit den 14 Figuren unten?



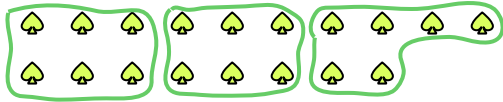
11) Wie viele Gruppen von 9 kannst du machen mit den 27 Figuren unten?






Benutze die vorgegebenen Figuren zur Beantwortung der Fragen.

Bsp) Wie viele Gruppen von 6 kannst du machen mit den 18 Figuren unten?



1) Wie viele Gruppen von 6 kannst du machen mit den 24 Figuren unten?



Antworten
Bsp. 3

1. 4

2. 3

3. 3

4. 9

5. 5

6. 6

7. 3

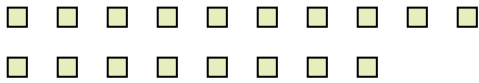
8. 11

9. 3

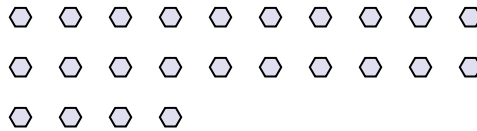
10. 2

11. 3

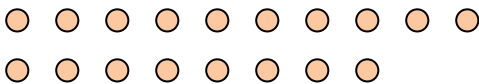
2) Wie viele Gruppen von 6 kannst du machen mit den 18 Figuren unten?



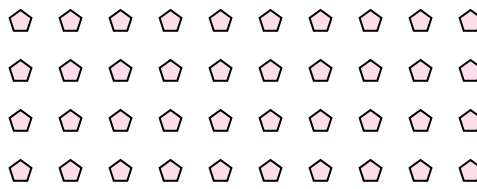
3) Wie viele Gruppen von 8 kannst du machen mit den 24 Figuren unten?




4) Wie viele Gruppen von 2 kannst du machen mit den 18 Figuren unten?



5) Wie viele Gruppen von 8 kannst du machen mit den 40 Figuren unten?




6) Wie viele Gruppen von 5 kannst du machen mit den 30 Figuren unten?



7) Wie viele Gruppen von 8 kannst du machen mit den 24 Figuren unten?



8) Wie viele Gruppen von 3 kannst du machen mit den 33 Figuren unten?



9) Wie viele Gruppen von 2 kannst du machen mit den 6 Figuren unten?



10) Wie viele Gruppen von 7 kannst du machen mit den 14 Figuren unten?



11) Wie viele Gruppen von 9 kannst du machen mit den 27 Figuren unten?

