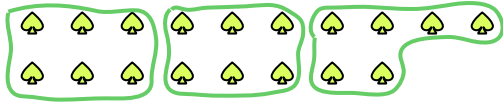


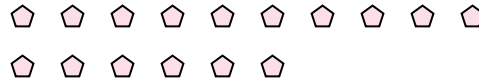


Benutze die vorgegebenen Figuren zur Beantwortung der Fragen.

Bsp) Wie viele Gruppen von 6 kannst du machen mit den 18 Figuren unten?



1) Wie viele Gruppen von 4 kannst du machen mit den 16 Figuren unten?



Antworten

Bsp. 3

1. _____

2. _____

3. _____

4. _____

5. _____

6. _____

7. _____

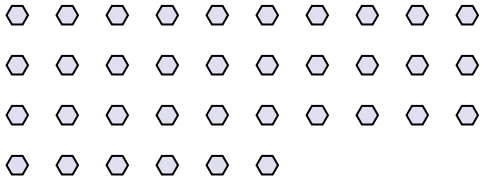
8. _____

9. _____


10. _____

11. _____

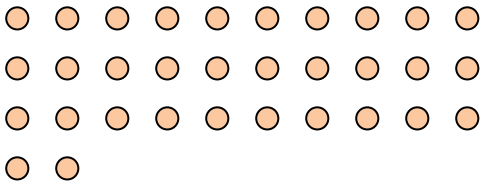
2) Wie viele Gruppen von 3 kannst du machen mit den 36 Figuren unten?



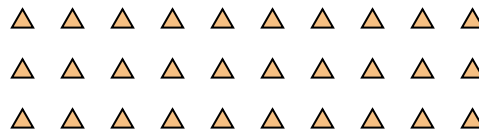
3) Wie viele Gruppen von 8 kannst du machen mit den 32 Figuren unten?



4) Wie viele Gruppen von 8 kannst du machen mit den 32 Figuren unten?



5) Wie viele Gruppen von 6 kannst du machen mit den 30 Figuren unten?




6) Wie viele Gruppen von 7 kannst du machen mit den 28 Figuren unten?




7) Wie viele Gruppen von 3 kannst du machen mit den 12 Figuren unten?



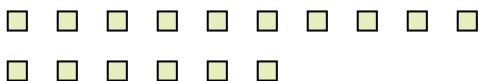
8) Wie viele Gruppen von 9 kannst du machen mit den 36 Figuren unten?



9) Wie viele Gruppen von 4 kannst du machen mit den 36 Figuren unten?



10) Wie viele Gruppen von 4 kannst du machen mit den 16 Figuren unten?



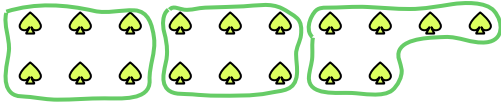
11) Wie viele Gruppen von 4 kannst du machen mit den 16 Figuren unten?



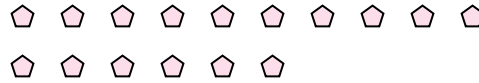


Benutze die vorgegebenen Figuren zur Beantwortung der Fragen.

Bsp) Wie viele Gruppen von 6 kannst du machen mit den 18 Figuren unten?

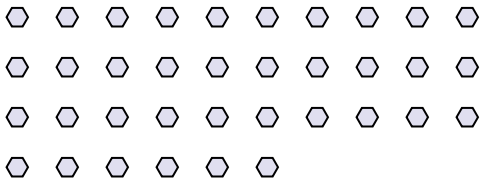


1) Wie viele Gruppen von 4 kannst du machen mit den 16 Figuren unten?




<u>Antworten</u>	
Bsp.	<u>3</u>
1.	<u>4</u>
2.	<u>12</u>
3.	<u>4</u>
4.	<u>4</u>
5.	<u>5</u>
6.	<u>4</u>
7.	<u>4</u>
8.	<u>4</u>
9.	<u>9</u>
10.	<u>4</u>
11.	<u>4</u>

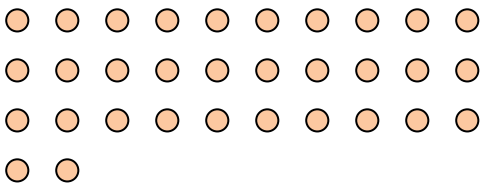
2) Wie viele Gruppen von 3 kannst du machen mit den 36 Figuren unten?




3) Wie viele Gruppen von 8 kannst du machen mit den 32 Figuren unten?



4) Wie viele Gruppen von 8 kannst du machen mit den 32 Figuren unten?



5) Wie viele Gruppen von 6 kannst du machen mit den 30 Figuren unten?




6) Wie viele Gruppen von 7 kannst du machen mit den 28 Figuren unten?




7) Wie viele Gruppen von 3 kannst du machen mit den 12 Figuren unten?



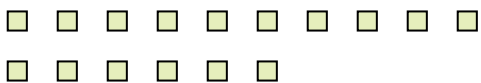
8) Wie viele Gruppen von 9 kannst du machen mit den 36 Figuren unten?



9) Wie viele Gruppen von 4 kannst du machen mit den 36 Figuren unten?



10) Wie viele Gruppen von 4 kannst du machen mit den 16 Figuren unten?



11) Wie viele Gruppen von 4 kannst du machen mit den 16 Figuren unten?

