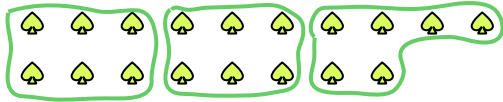





Benutze die vorgegebenen Figuren zur Beantwortung der Fragen.

Bsp) Wie viele Gruppen von 6 kannst du machen mit den 18 Figuren unten?



1) Wie viele Gruppen von 6 kannst du machen mit den 24 Figuren unten?



Antworten

Bsp. 3

1. _____

2. _____

3. _____

4. _____

5. _____

6. _____

7. _____

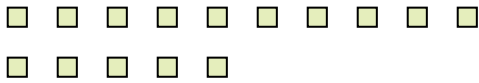
8. _____

9. _____

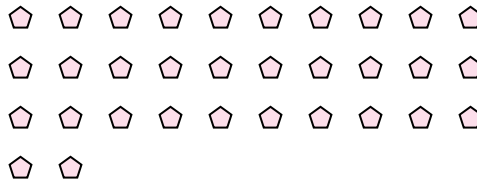
10. _____

11. _____


2) Wie viele Gruppen von 5 kannst du machen mit den 15 Figuren unten?




3) Wie viele Gruppen von 4 kannst du machen mit den 32 Figuren unten?



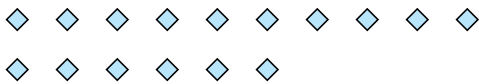
4) Wie viele Gruppen von 6 kannst du machen mit den 24 Figuren unten?



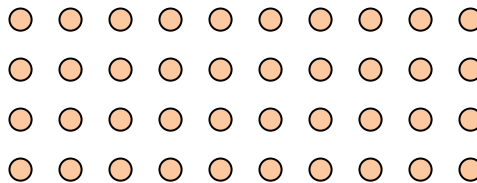
5) Wie viele Gruppen von 8 kannst du machen mit den 32 Figuren unten?



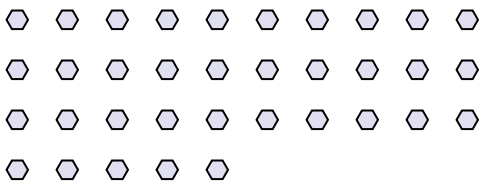
6) Wie viele Gruppen von 2 kannst du machen mit den 16 Figuren unten?



7) Wie viele Gruppen von 2 kannst du machen mit den 40 Figuren unten?




8) Wie viele Gruppen von 7 kannst du machen mit den 35 Figuren unten?



9) Wie viele Gruppen von 7 kannst du machen mit den 35 Figuren unten?



10) Wie viele Gruppen von 7 kannst du machen mit den 35 Figuren unten?




11) Wie viele Gruppen von 6 kannst du machen mit den 24 Figuren unten?






Benutze die vorgegebenen Figuren zur Beantwortung der Fragen.

Bsp) Wie viele Gruppen von 6 kannst du machen mit den 18 Figuren unten?



1) Wie viele Gruppen von 6 kannst du machen mit den 24 Figuren unten?



Antworten

Bsp. 3

1. 4

2. 3

3. 8

4. 4

5. 4

6. 8

7. 20

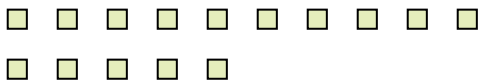
8. 5

9. 5

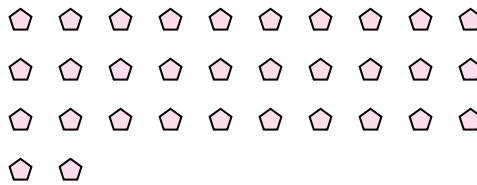
10. 5

11. 4


2) Wie viele Gruppen von 5 kannst du machen mit den 15 Figuren unten?




3) Wie viele Gruppen von 4 kannst du machen mit den 32 Figuren unten?



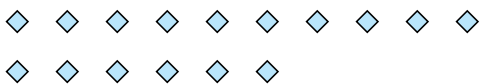
4) Wie viele Gruppen von 6 kannst du machen mit den 24 Figuren unten?



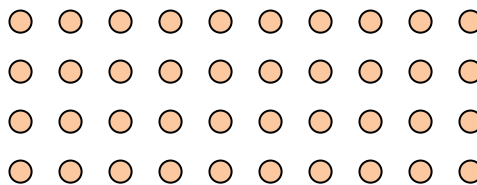
5) Wie viele Gruppen von 8 kannst du machen mit den 32 Figuren unten?



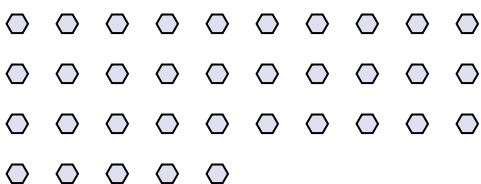
6) Wie viele Gruppen von 2 kannst du machen mit den 16 Figuren unten?




7) Wie viele Gruppen von 2 kannst du machen mit den 40 Figuren unten?




8) Wie viele Gruppen von 7 kannst du machen mit den 35 Figuren unten?



9) Wie viele Gruppen von 7 kannst du machen mit den 35 Figuren unten?



10) Wie viele Gruppen von 7 kannst du machen mit den 35 Figuren unten?



11) Wie viele Gruppen von 6 kannst du machen mit den 24 Figuren unten?

