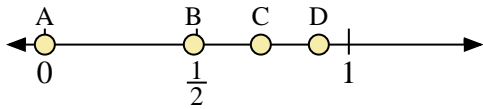
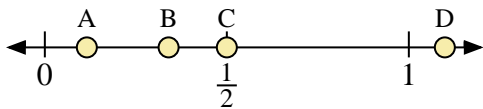




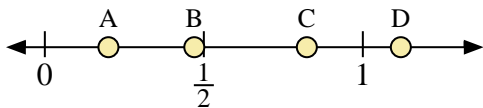
Benutze den Zahlenstrahl um die Lösung zu ermitteln.



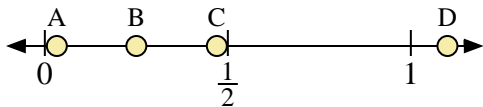
- 1) Welcher Buchstabe stellt die richtige Lage von 0,0 dar?
- 2) Welcher Buchstabe stellt die richtige Lage von 0,49 dar?



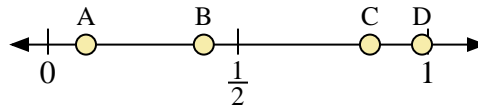
- 5) Welcher Buchstabe stellt die richtige Lage von 0,50 dar?
- 6) Welcher Buchstabe stellt die richtige Lage von 0,34 dar?



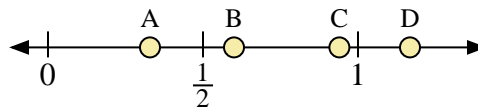
- 9) Welcher Buchstabe stellt die richtige Lage von 0,2 dar?
- 10) Welcher Buchstabe stellt die richtige Lage von 0,47 dar?



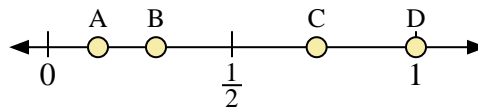
- 13) Welcher Buchstabe stellt die richtige Lage von 1,10 dar?
- 14) Welcher Buchstabe stellt die richtige Lage von 0,25 dar?



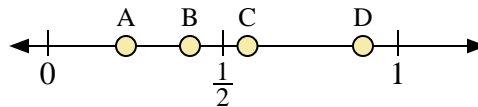
- 3) Welcher Buchstabe stellt die richtige Lage von 0,1 dar?
- 4) Welcher Buchstabe stellt die richtige Lage von 0,41 dar?



- 7) Welcher Buchstabe stellt die richtige Lage von 0,6 dar?
- 8) Welcher Buchstabe stellt die richtige Lage von 0,94 dar?



- 11) Welcher Buchstabe stellt die richtige Lage von 1,0 dar?
- 12) Welcher Buchstabe stellt die richtige Lage von 0,73 dar?



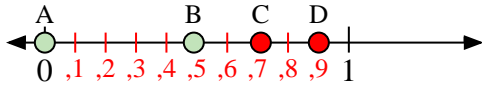
- 15) Welcher Buchstabe stellt die richtige Lage von 0,90 dar?
- 16) Welcher Buchstabe stellt die richtige Lage von 0,57 dar?

Antworten

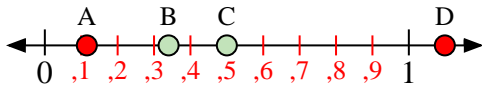
1. _____
2. _____
3. _____
4. _____
5. _____
6. _____
7. _____
8. _____
9. _____
10. _____
11. _____
12. _____
13. _____
14. _____
15. _____
16. _____



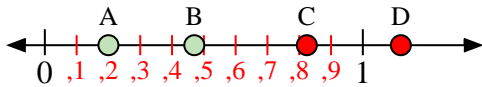
Benutze den Zahlenstrahl um die Lösung zu ermitteln.



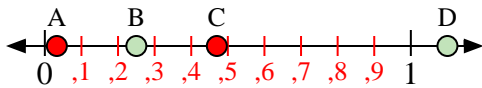
- 1) Welcher Buchstabe stellt die richtige Lage von 0,0 dar?
- 2) Welcher Buchstabe stellt die richtige Lage von 0,49 dar?



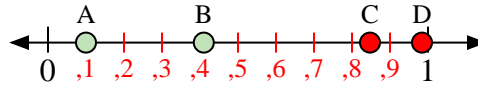
- 5) Welcher Buchstabe stellt die richtige Lage von 0,50 dar?
- 6) Welcher Buchstabe stellt die richtige Lage von 0,34 dar?



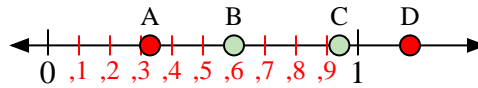
- 9) Welcher Buchstabe stellt die richtige Lage von 0,2 dar?
- 10) Welcher Buchstabe stellt die richtige Lage von 0,47 dar?



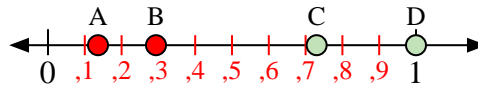
- 13) Welcher Buchstabe stellt die richtige Lage von 1,10 dar?
- 14) Welcher Buchstabe stellt die richtige Lage von 0,25 dar?



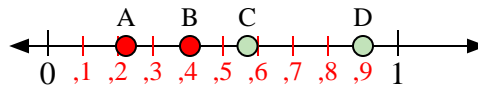
- 3) Welcher Buchstabe stellt die richtige Lage von 0,1 dar?
- 4) Welcher Buchstabe stellt die richtige Lage von 0,41 dar?



- 7) Welcher Buchstabe stellt die richtige Lage von 0,6 dar?
- 8) Welcher Buchstabe stellt die richtige Lage von 0,94 dar?



- 11) Welcher Buchstabe stellt die richtige Lage von 1,0 dar?
- 12) Welcher Buchstabe stellt die richtige Lage von 0,73 dar?



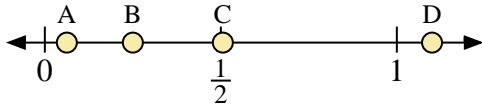
- 15) Welcher Buchstabe stellt die richtige Lage von 0,90 dar?
- 16) Welcher Buchstabe stellt die richtige Lage von 0,57 dar?

Antworten

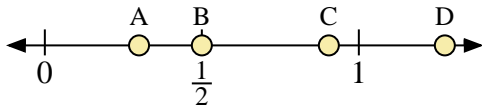
1. **A**
2. **B**
3. **A**
4. **B**
5. **C**
6. **B**
7. **B**
8. **C**
9. **A**
10. **B**
11. **D**
12. **C**
13. **D**
14. **B**
15. **D**
16. **C**



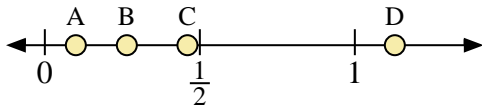
Benutze den Zahlenstrahl um die Lösung zu ermitteln.



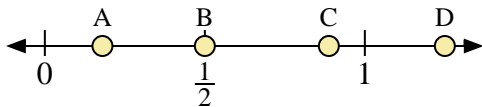
- 1) Welcher Buchstabe stellt die richtige Lage von 1,10 dar?
- 2) Welcher Buchstabe stellt die richtige Lage von 0,25 dar?



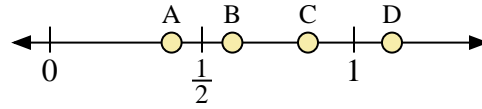
- 5) Welcher Buchstabe stellt die richtige Lage von 0,3 dar?
- 6) Welcher Buchstabe stellt die richtige Lage von 0,50 dar?



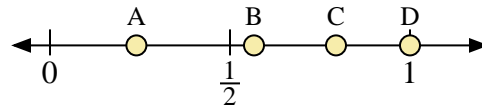
- 9) Welcher Buchstabe stellt die richtige Lage von 0,10 dar?
- 10) Welcher Buchstabe stellt die richtige Lage von 0,46 dar?



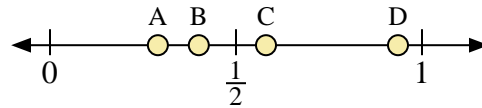
- 13) Welcher Buchstabe stellt die richtige Lage von 0,50 dar?
- 14) Welcher Buchstabe stellt die richtige Lage von 0,18 dar?



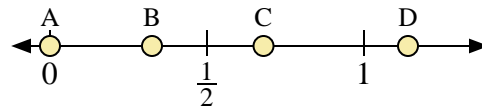
- 3) Welcher Buchstabe stellt die richtige Lage von 0,6 dar?
- 4) Welcher Buchstabe stellt die richtige Lage von 0,40 dar?



- 7) Welcher Buchstabe stellt die richtige Lage von 1,0 dar?
- 8) Welcher Buchstabe stellt die richtige Lage von 0,24 dar?



- 11) Welcher Buchstabe stellt die richtige Lage von 0,40 dar?
- 12) Welcher Buchstabe stellt die richtige Lage von 0,29 dar?



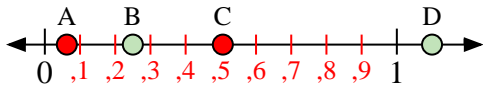
- 15) Welcher Buchstabe stellt die richtige Lage von 0,0 dar?
- 16) Welcher Buchstabe stellt die richtige Lage von 0,68 dar?

Antworten

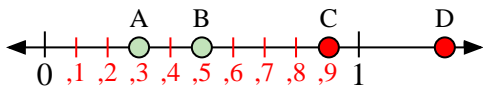
1. _____
2. _____
3. _____
4. _____
5. _____
6. _____
7. _____
8. _____
9. _____
10. _____
11. _____
12. _____
13. _____
14. _____
15. _____
16. _____




Benutze den Zahlenstrahl um die Lösung zu ermitteln.



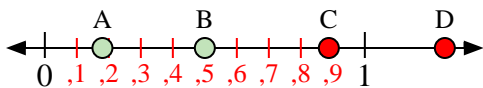
- 1) Welcher Buchstabe stellt die richtige Lage von 1,10 dar?
- 2) Welcher Buchstabe stellt die richtige Lage von 0,25 dar?



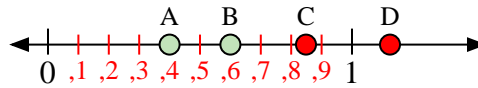
- 5) Welcher Buchstabe stellt die richtige Lage von 0,3 dar?
- 6) Welcher Buchstabe stellt die richtige Lage von 0,50 dar?



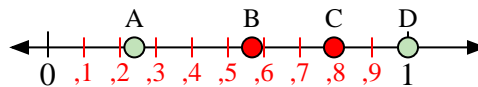
- 9) Welcher Buchstabe stellt die richtige Lage von 0,10 dar?
- 10) Welcher Buchstabe stellt die richtige Lage von 0,46 dar?



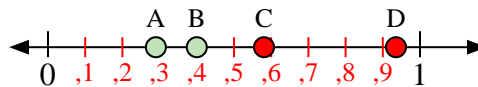
- 13) Welcher Buchstabe stellt die richtige Lage von 0,50 dar?
- 14) Welcher Buchstabe stellt die richtige Lage von 0,18 dar?



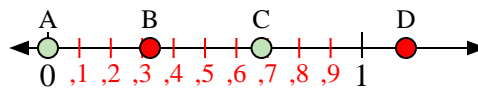
- 3) Welcher Buchstabe stellt die richtige Lage von 0,6 dar?
- 4) Welcher Buchstabe stellt die richtige Lage von 0,40 dar?



- 7) Welcher Buchstabe stellt die richtige Lage von 1,0 dar?
- 8) Welcher Buchstabe stellt die richtige Lage von 0,24 dar?



- 11) Welcher Buchstabe stellt die richtige Lage von 0,40 dar?
- 12) Welcher Buchstabe stellt die richtige Lage von 0,29 dar?



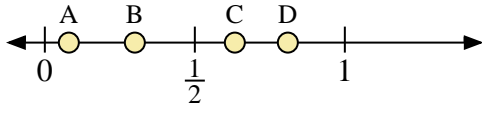
- 15) Welcher Buchstabe stellt die richtige Lage von 0,0 dar?
- 16) Welcher Buchstabe stellt die richtige Lage von 0,68 dar?

Antworten

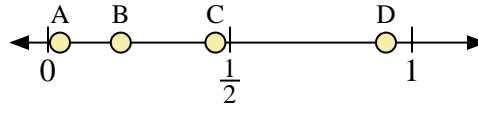
1. **D**
2. **B**
3. **B**
4. **A**
5. **A**
6. **B**
7. **D**
8. **A**
9. **A**
10. **C**
11. **B**
12. **A**
13. **B**
14. **A**
15. **A**
16. **C**



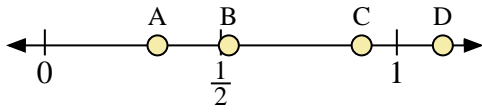
Benutze den Zahlenstrahl um die Lösung zu ermitteln.



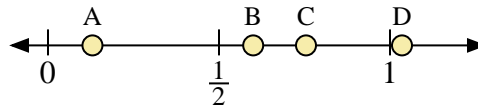
- 1) Welcher Buchstabe stellt die richtige Lage von 0,30 dar?
- 2) Welcher Buchstabe stellt die richtige Lage von 0,81 dar?



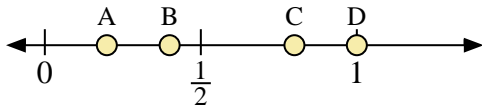
- 3) Welcher Buchstabe stellt die richtige Lage von 0,2 dar?
- 4) Welcher Buchstabe stellt die richtige Lage von 0,46 dar?



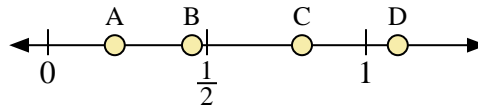
- 5) Welcher Buchstabe stellt die richtige Lage von 0,90 dar?
- 6) Welcher Buchstabe stellt die richtige Lage von 0,32 dar?



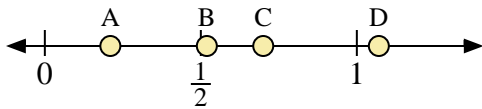
- 7) Welcher Buchstabe stellt die richtige Lage von 0,6 dar?
- 8) Welcher Buchstabe stellt die richtige Lage von 0,13 dar?



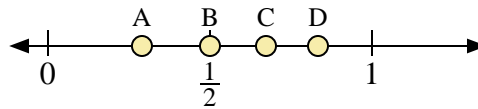
- 9) Welcher Buchstabe stellt die richtige Lage von 0,4 dar?
- 10) Welcher Buchstabe stellt die richtige Lage von 0,80 dar?



- 11) Welcher Buchstabe stellt die richtige Lage von 1,10 dar?
- 12) Welcher Buchstabe stellt die richtige Lage von 0,21 dar?



- 13) Welcher Buchstabe stellt die richtige Lage von 0,70 dar?
- 14) Welcher Buchstabe stellt die richtige Lage von 0,21 dar?



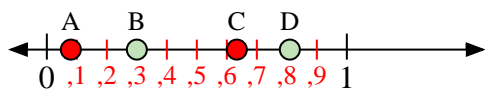
- 15) Welcher Buchstabe stellt die richtige Lage von 0,50 dar?
- 16) Welcher Buchstabe stellt die richtige Lage von 0,29 dar?

Antworten

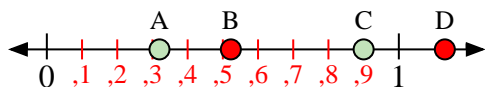
1. _____
2. _____
3. _____
4. _____
5. _____
6. _____
7. _____
8. _____
9. _____
10. _____
11. _____
12. _____
13. _____
14. _____
15. _____
16. _____



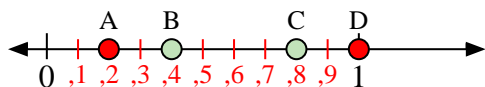
Benutze den Zahlenstrahl um die Lösung zu ermitteln.



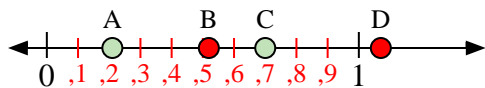
- 1) Welcher Buchstabe stellt die richtige Lage von 0,30 dar?
- 2) Welcher Buchstabe stellt die richtige Lage von 0,81 dar?



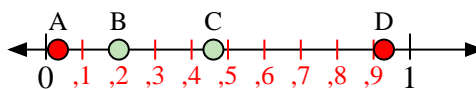
- 5) Welcher Buchstabe stellt die richtige Lage von 0,90 dar?
- 6) Welcher Buchstabe stellt die richtige Lage von 0,32 dar?



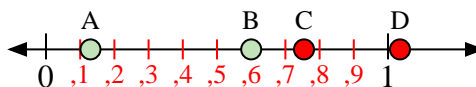
- 9) Welcher Buchstabe stellt die richtige Lage von 0,4 dar?
- 10) Welcher Buchstabe stellt die richtige Lage von 0,80 dar?



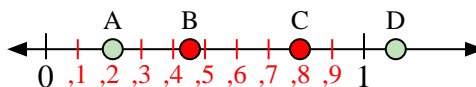
- 13) Welcher Buchstabe stellt die richtige Lage von 0,70 dar?
- 14) Welcher Buchstabe stellt die richtige Lage von 0,21 dar?



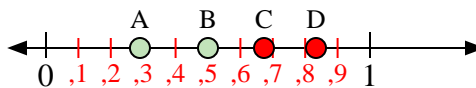
- 3) Welcher Buchstabe stellt die richtige Lage von 0,2 dar?
- 4) Welcher Buchstabe stellt die richtige Lage von 0,46 dar?



- 7) Welcher Buchstabe stellt die richtige Lage von 0,6 dar?
- 8) Welcher Buchstabe stellt die richtige Lage von 0,13 dar?



- 11) Welcher Buchstabe stellt die richtige Lage von 1,10 dar?
- 12) Welcher Buchstabe stellt die richtige Lage von 0,21 dar?

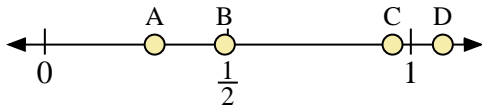


- 15) Welcher Buchstabe stellt die richtige Lage von 0,50 dar?
- 16) Welcher Buchstabe stellt die richtige Lage von 0,29 dar?

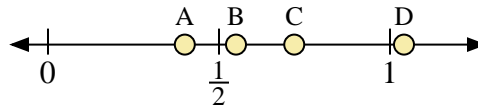
Antworten1. **B**2. **D**3. **B**4. **C**5. **C**6. **A**7. **B**8. **A**9. **B**10. **C**11. **D**12. **A**13. **C**14. **A**15. **B**16. **A**



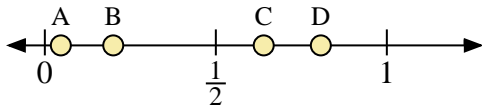
Benutze den Zahlenstrahl um die Lösung zu ermitteln.



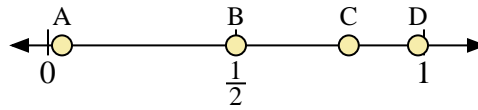
- 1) Welcher Buchstabe stellt die richtige Lage von 0,3 dar?
- 2) Welcher Buchstabe stellt die richtige Lage von 0,95 dar?



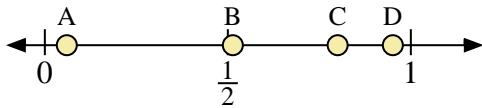
- 3) Welcher Buchstabe stellt die richtige Lage von 0,4 dar?
- 4) Welcher Buchstabe stellt die richtige Lage von 0,72 dar?



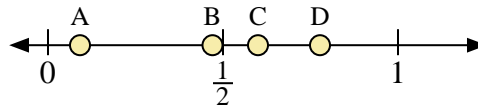
- 5) Welcher Buchstabe stellt die richtige Lage von 0,20 dar?
- 6) Welcher Buchstabe stellt die richtige Lage von 0,64 dar?



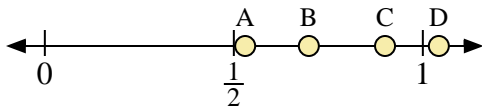
- 7) Welcher Buchstabe stellt die richtige Lage von 0,5 dar?
- 8) Welcher Buchstabe stellt die richtige Lage von 0,80 dar?



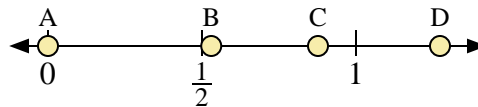
- 9) Welcher Buchstabe stellt die richtige Lage von 0,8 dar?
- 10) Welcher Buchstabe stellt die richtige Lage von 0,06 dar?



- 11) Welcher Buchstabe stellt die richtige Lage von 0,6 dar?
- 12) Welcher Buchstabe stellt die richtige Lage von 0,47 dar?



- 13) Welcher Buchstabe stellt die richtige Lage von 0,90 dar?
- 14) Welcher Buchstabe stellt die richtige Lage von 0,53 dar?



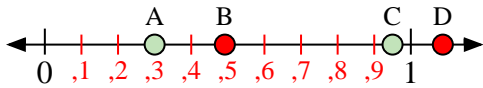
- 15) Welcher Buchstabe stellt die richtige Lage von 0,0 dar?
- 16) Welcher Buchstabe stellt die richtige Lage von 0,53 dar?

Antworten

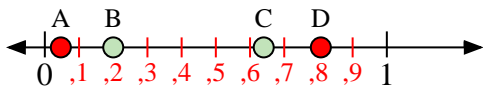
1. _____
2. _____
3. _____
4. _____
5. _____
6. _____
7. _____
8. _____
9. _____
10. _____
11. _____
12. _____
13. _____
14. _____
15. _____
16. _____



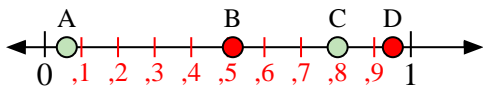
Benutze den Zahlenstrahl um die Lösung zu ermitteln.



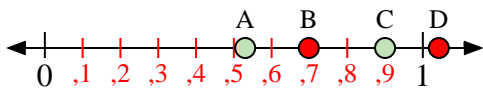
- 1) Welcher Buchstabe stellt die richtige Lage von 0,3 dar?
- 2) Welcher Buchstabe stellt die richtige Lage von 0,95 dar?



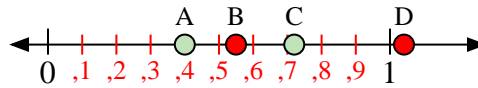
- 5) Welcher Buchstabe stellt die richtige Lage von 0,20 dar?
- 6) Welcher Buchstabe stellt die richtige Lage von 0,64 dar?



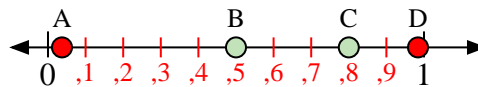
- 9) Welcher Buchstabe stellt die richtige Lage von 0,8 dar?
- 10) Welcher Buchstabe stellt die richtige Lage von 0,06 dar?



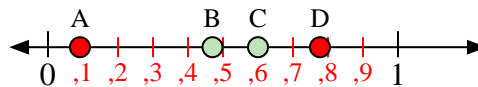
- 13) Welcher Buchstabe stellt die richtige Lage von 0,90 dar?
- 14) Welcher Buchstabe stellt die richtige Lage von 0,53 dar?



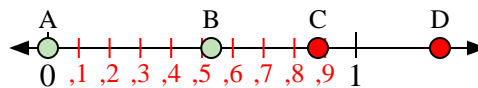
- 3) Welcher Buchstabe stellt die richtige Lage von 0,4 dar?
- 4) Welcher Buchstabe stellt die richtige Lage von 0,72 dar?



- 7) Welcher Buchstabe stellt die richtige Lage von 0,5 dar?
- 8) Welcher Buchstabe stellt die richtige Lage von 0,80 dar?



- 11) Welcher Buchstabe stellt die richtige Lage von 0,6 dar?
- 12) Welcher Buchstabe stellt die richtige Lage von 0,47 dar?



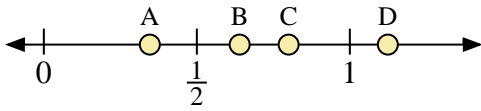
- 15) Welcher Buchstabe stellt die richtige Lage von 0,0 dar?
- 16) Welcher Buchstabe stellt die richtige Lage von 0,53 dar?

Antworten

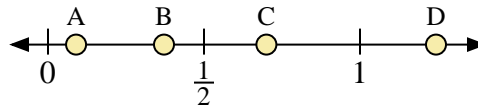
1. **A**
2. **C**
3. **A**
4. **C**
5. **B**
6. **C**
7. **B**
8. **C**
9. **C**
10. **A**
11. **C**
12. **B**
13. **C**
14. **A**
15. **A**
16. **B**



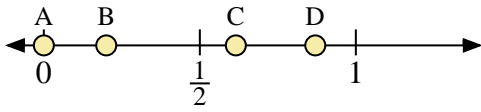
Benutze den Zahlenstrahl um die Lösung zu ermitteln.



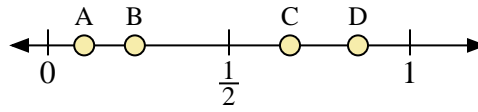
- 1) Welcher Buchstabe stellt die richtige Lage von 0,8 dar?
- 2) Welcher Buchstabe stellt die richtige Lage von 0,64 dar?



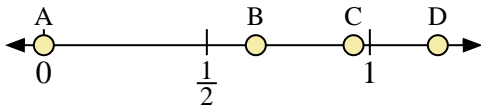
- 3) Welcher Buchstabe stellt die richtige Lage von 0,7 dar?
- 4) Welcher Buchstabe stellt die richtige Lage von 0,09 dar?



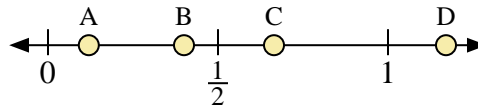
- 5) Welcher Buchstabe stellt die richtige Lage von 0,2 dar?
- 6) Welcher Buchstabe stellt die richtige Lage von 0,87 dar?



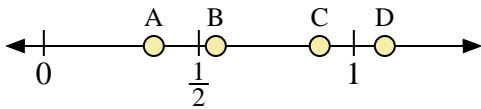
- 7) Welcher Buchstabe stellt die richtige Lage von 0,10 dar?
- 8) Welcher Buchstabe stellt die richtige Lage von 0,24 dar?



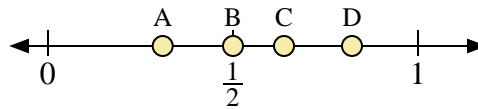
- 9) Welcher Buchstabe stellt die richtige Lage von 0,0 dar?
- 10) Welcher Buchstabe stellt die richtige Lage von 0,95 dar?



- 11) Welcher Buchstabe stellt die richtige Lage von 0,40 dar?
- 12) Welcher Buchstabe stellt die richtige Lage von 0,12 dar?



- 13) Welcher Buchstabe stellt die richtige Lage von 1,1 dar?
- 14) Welcher Buchstabe stellt die richtige Lage von 0,89 dar?



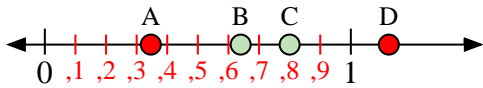
- 15) Welcher Buchstabe stellt die richtige Lage von 0,5 dar?
- 16) Welcher Buchstabe stellt die richtige Lage von 0,31 dar?

Antworten

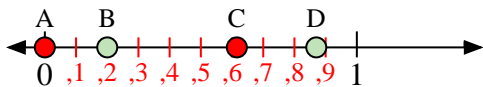
1. _____
2. _____
3. _____
4. _____
5. _____
6. _____
7. _____
8. _____
9. _____
10. _____
11. _____
12. _____
13. _____
14. _____
15. _____
16. _____



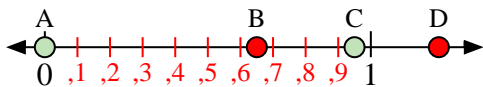
Benutze den Zahlenstrahl um die Lösung zu ermitteln.



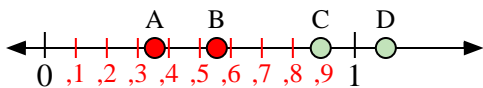
- 1) Welcher Buchstabe stellt die richtige Lage von 0,8 dar?
- 2) Welcher Buchstabe stellt die richtige Lage von 0,64 dar?



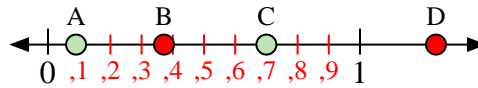
- 5) Welcher Buchstabe stellt die richtige Lage von 0,2 dar?
- 6) Welcher Buchstabe stellt die richtige Lage von 0,87 dar?



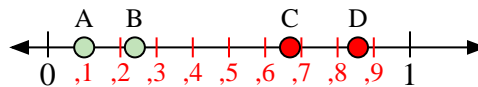
- 9) Welcher Buchstabe stellt die richtige Lage von 0,0 dar?
- 10) Welcher Buchstabe stellt die richtige Lage von 0,95 dar?



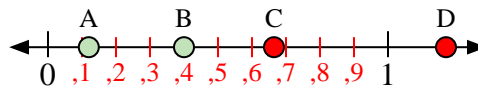
- 13) Welcher Buchstabe stellt die richtige Lage von 1,1 dar?
- 14) Welcher Buchstabe stellt die richtige Lage von 0,89 dar?



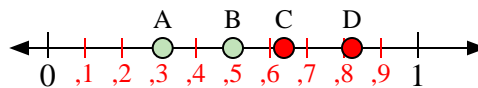
- 3) Welcher Buchstabe stellt die richtige Lage von 0,7 dar?
- 4) Welcher Buchstabe stellt die richtige Lage von 0,09 dar?



- 7) Welcher Buchstabe stellt die richtige Lage von 0,10 dar?
- 8) Welcher Buchstabe stellt die richtige Lage von 0,24 dar?



- 11) Welcher Buchstabe stellt die richtige Lage von 0,40 dar?
- 12) Welcher Buchstabe stellt die richtige Lage von 0,12 dar?



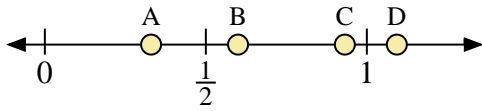
- 15) Welcher Buchstabe stellt die richtige Lage von 0,5 dar?
- 16) Welcher Buchstabe stellt die richtige Lage von 0,31 dar?

Antworten

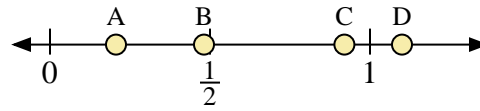
1. **C**
2. **B**
3. **C**
4. **A**
5. **B**
6. **D**
7. **A**
8. **B**
9. **A**
10. **C**
11. **B**
12. **A**
13. **D**
14. **C**
15. **B**
16. **A**



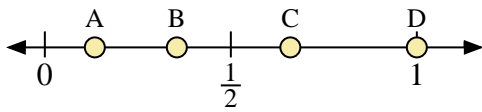
Benutze den Zahlenstrahl um die Lösung zu ermitteln.



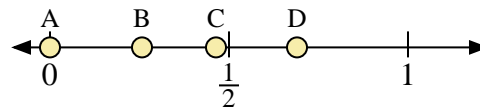
- 1) Welcher Buchstabe stellt die richtige Lage von 0,6 dar?
- 2) Welcher Buchstabe stellt die richtige Lage von 0,33 dar?



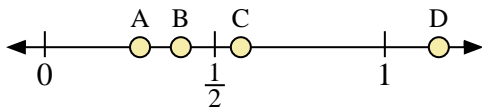
- 3) Welcher Buchstabe stellt die richtige Lage von 1,1 dar?
- 4) Welcher Buchstabe stellt die richtige Lage von 0,92 dar?



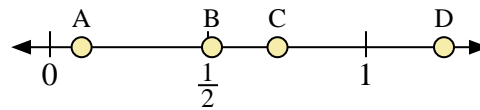
- 5) Welcher Buchstabe stellt die richtige Lage von 1,0 dar?
- 6) Welcher Buchstabe stellt die richtige Lage von 0,66 dar?



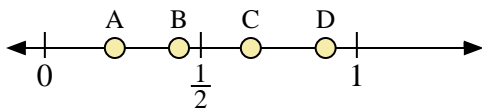
- 7) Welcher Buchstabe stellt die richtige Lage von 0,0 dar?
- 8) Welcher Buchstabe stellt die richtige Lage von 0,69 dar?



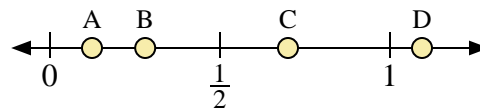
- 9) Welcher Buchstabe stellt die richtige Lage von 0,4 dar?
- 10) Welcher Buchstabe stellt die richtige Lage von 0,28 dar?



- 11) Welcher Buchstabe stellt die richtige Lage von 0,1 dar?
- 12) Welcher Buchstabe stellt die richtige Lage von 0,72 dar?



- 13) Welcher Buchstabe stellt die richtige Lage von 0,9 dar?
- 14) Welcher Buchstabe stellt die richtige Lage von 0,43 dar?



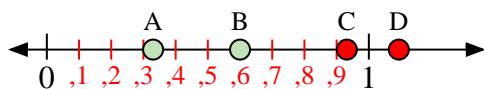
- 15) Welcher Buchstabe stellt die richtige Lage von 0,70 dar?
- 16) Welcher Buchstabe stellt die richtige Lage von 0,28 dar?

Antworten

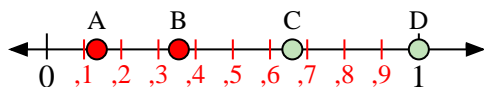
1. _____
2. _____
3. _____
4. _____
5. _____
6. _____
7. _____
8. _____
9. _____
10. _____
11. _____
12. _____
13. _____
14. _____
15. _____
16. _____



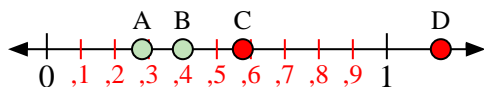
Benutze den Zahlenstrahl um die Lösung zu ermitteln.



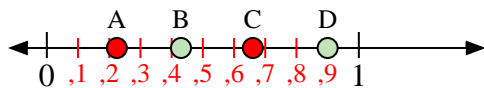
- 1) Welcher Buchstabe stellt die richtige Lage von 0,6 dar?
- 2) Welcher Buchstabe stellt die richtige Lage von 0,33 dar?



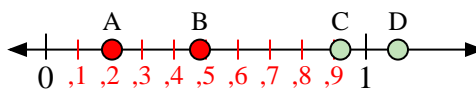
- 5) Welcher Buchstabe stellt die richtige Lage von 1,0 dar?
- 6) Welcher Buchstabe stellt die richtige Lage von 0,66 dar?



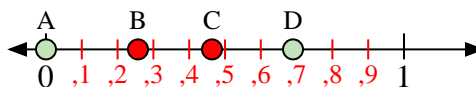
- 9) Welcher Buchstabe stellt die richtige Lage von 0,4 dar?
- 10) Welcher Buchstabe stellt die richtige Lage von 0,28 dar?



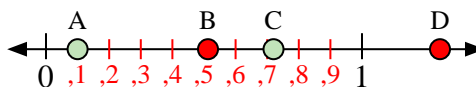
- 13) Welcher Buchstabe stellt die richtige Lage von 0,9 dar?
- 14) Welcher Buchstabe stellt die richtige Lage von 0,43 dar?



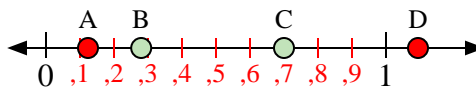
- 3) Welcher Buchstabe stellt die richtige Lage von 1,1 dar?
- 4) Welcher Buchstabe stellt die richtige Lage von 0,92 dar?



- 7) Welcher Buchstabe stellt die richtige Lage von 0,0 dar?
- 8) Welcher Buchstabe stellt die richtige Lage von 0,69 dar?



- 11) Welcher Buchstabe stellt die richtige Lage von 0,1 dar?
- 12) Welcher Buchstabe stellt die richtige Lage von 0,72 dar?



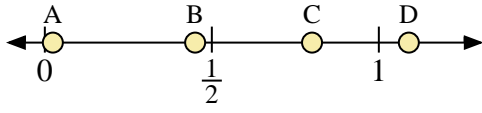
- 15) Welcher Buchstabe stellt die richtige Lage von 0,70 dar?
- 16) Welcher Buchstabe stellt die richtige Lage von 0,28 dar?

Antworten

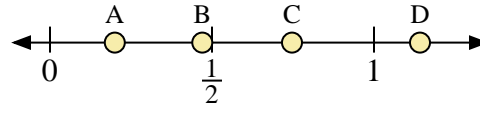
1. **B**
2. **A**
3. **D**
4. **C**
5. **D**
6. **C**
7. **A**
8. **D**
9. **B**
10. **A**
11. **A**
12. **C**
13. **D**
14. **B**
15. **C**
16. **B**



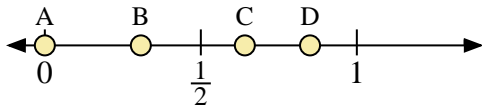
Benutze den Zahlenstrahl um die Lösung zu ermitteln.



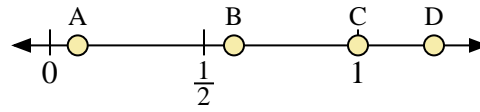
- 1) Welcher Buchstabe stellt die richtige Lage von 0,8 dar?
- 2) Welcher Buchstabe stellt die richtige Lage von 0,45 dar?



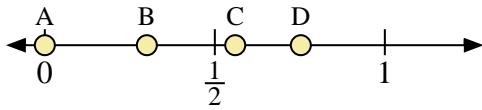
- 3) Welcher Buchstabe stellt die richtige Lage von 0,2 dar?
- 4) Welcher Buchstabe stellt die richtige Lage von 0,47 dar?



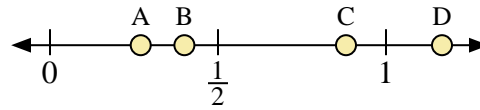
- 5) Welcher Buchstabe stellt die richtige Lage von 0,00 dar?
- 6) Welcher Buchstabe stellt die richtige Lage von 0,85 dar?



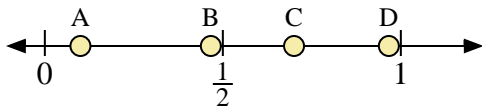
- 7) Welcher Buchstabe stellt die richtige Lage von 1,0 dar?
- 8) Welcher Buchstabe stellt die richtige Lage von 0,09 dar?



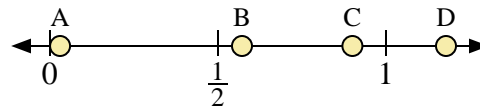
- 9) Welcher Buchstabe stellt die richtige Lage von 0,30 dar?
- 10) Welcher Buchstabe stellt die richtige Lage von 0,56 dar?



- 11) Welcher Buchstabe stellt die richtige Lage von 0,4 dar?
- 12) Welcher Buchstabe stellt die richtige Lage von 0,27 dar?



- 13) Welcher Buchstabe stellt die richtige Lage von 0,10 dar?
- 14) Welcher Buchstabe stellt die richtige Lage von 0,70 dar?



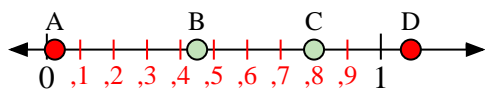
- 15) Welcher Buchstabe stellt die richtige Lage von 0,90 dar?
- 16) Welcher Buchstabe stellt die richtige Lage von 0,03 dar?

Antworten

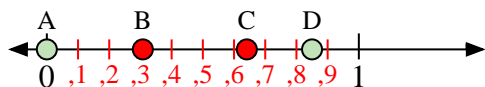
1. _____
2. _____
3. _____
4. _____
5. _____
6. _____
7. _____
8. _____
9. _____
10. _____
11. _____
12. _____
13. _____
14. _____
15. _____
16. _____



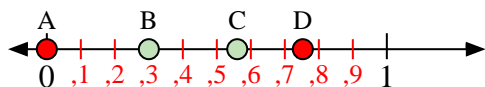
Benutze den Zahlenstrahl um die Lösung zu ermitteln.



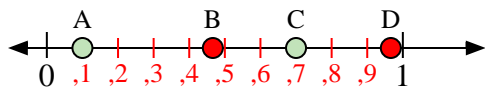
- 1) Welcher Buchstabe stellt die richtige Lage von 0,8 dar?
- 2) Welcher Buchstabe stellt die richtige Lage von 0,45 dar?



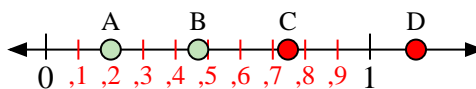
- 5) Welcher Buchstabe stellt die richtige Lage von 0,00 dar?
- 6) Welcher Buchstabe stellt die richtige Lage von 0,85 dar?



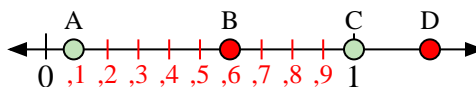
- 9) Welcher Buchstabe stellt die richtige Lage von 0,30 dar?
- 10) Welcher Buchstabe stellt die richtige Lage von 0,56 dar?



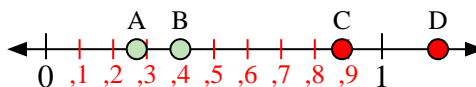
- 13) Welcher Buchstabe stellt die richtige Lage von 0,10 dar?
- 14) Welcher Buchstabe stellt die richtige Lage von 0,70 dar?



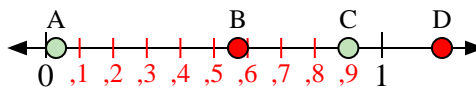
- 3) Welcher Buchstabe stellt die richtige Lage von 0,2 dar?
- 4) Welcher Buchstabe stellt die richtige Lage von 0,47 dar?



- 7) Welcher Buchstabe stellt die richtige Lage von 1,0 dar?
- 8) Welcher Buchstabe stellt die richtige Lage von 0,09 dar?



- 11) Welcher Buchstabe stellt die richtige Lage von 0,4 dar?
- 12) Welcher Buchstabe stellt die richtige Lage von 0,27 dar?

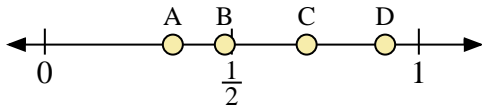


- 15) Welcher Buchstabe stellt die richtige Lage von 0,90 dar?
- 16) Welcher Buchstabe stellt die richtige Lage von 0,03 dar?

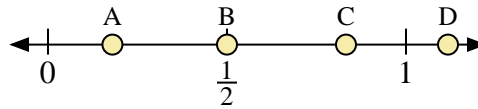
Antworten1. **C**2. **B**3. **A**4. **B**5. **A**6. **D**7. **C**8. **A**9. **B**10. **C**11. **B**12. **A**13. **A**14. **C**15. **C**16. **A**



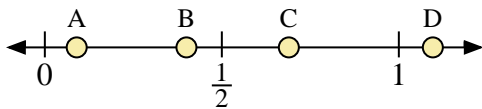
Benutze den Zahlenstrahl um die Lösung zu ermitteln.



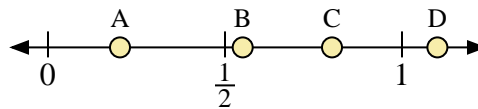
- 1) Welcher Buchstabe stellt die richtige Lage von 0,7 dar?
- 2) Welcher Buchstabe stellt die richtige Lage von 0,91 dar?



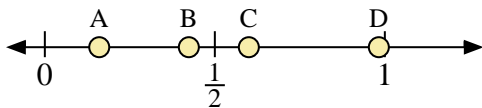
- 3) Welcher Buchstabe stellt die richtige Lage von 0,50 dar?
- 4) Welcher Buchstabe stellt die richtige Lage von 0,18 dar?



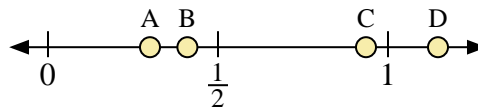
- 5) Welcher Buchstabe stellt die richtige Lage von 0,4 dar?
- 6) Welcher Buchstabe stellt die richtige Lage von 0,09 dar?



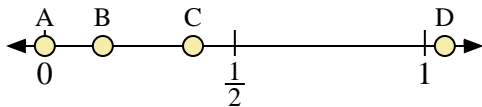
- 7) Welcher Buchstabe stellt die richtige Lage von 1,1 dar?
- 8) Welcher Buchstabe stellt die richtige Lage von 0,55 dar?



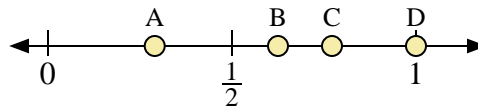
- 9) Welcher Buchstabe stellt die richtige Lage von 0,60 dar?
- 10) Welcher Buchstabe stellt die richtige Lage von 0,16 dar?



- 11) Welcher Buchstabe stellt die richtige Lage von 0,3 dar?
- 12) Welcher Buchstabe stellt die richtige Lage von 0,41 dar?



- 13) Welcher Buchstabe stellt die richtige Lage von 0,00 dar?
- 14) Welcher Buchstabe stellt die richtige Lage von 0,39 dar?



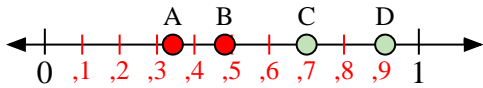
- 15) Welcher Buchstabe stellt die richtige Lage von 1,00 dar?
- 16) Welcher Buchstabe stellt die richtige Lage von 0,29 dar?

Antworten

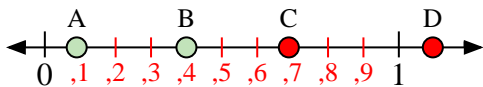
1. _____
2. _____
3. _____
4. _____
5. _____
6. _____
7. _____
8. _____
9. _____
10. _____
11. _____
12. _____
13. _____
14. _____
15. _____
16. _____



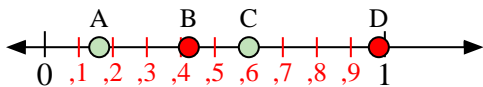
Benutze den Zahlenstrahl um die Lösung zu ermitteln.



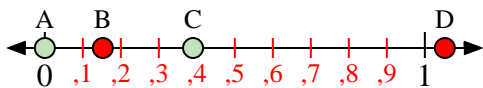
- 1) Welcher Buchstabe stellt die richtige Lage von 0,7 dar?
- 2) Welcher Buchstabe stellt die richtige Lage von 0,91 dar?



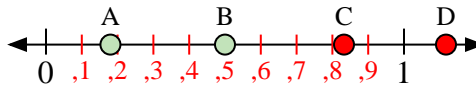
- 5) Welcher Buchstabe stellt die richtige Lage von 0,4 dar?
- 6) Welcher Buchstabe stellt die richtige Lage von 0,09 dar?



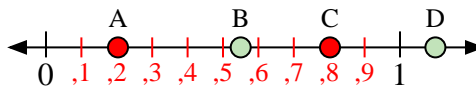
- 9) Welcher Buchstabe stellt die richtige Lage von 0,60 dar?
- 10) Welcher Buchstabe stellt die richtige Lage von 0,16 dar?



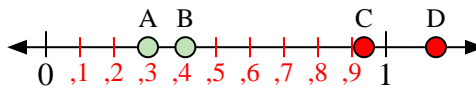
- 13) Welcher Buchstabe stellt die richtige Lage von 0,00 dar?
- 14) Welcher Buchstabe stellt die richtige Lage von 0,39 dar?



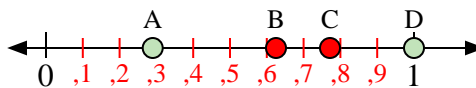
- 3) Welcher Buchstabe stellt die richtige Lage von 0,50 dar?
- 4) Welcher Buchstabe stellt die richtige Lage von 0,18 dar?



- 7) Welcher Buchstabe stellt die richtige Lage von 1,1 dar?
- 8) Welcher Buchstabe stellt die richtige Lage von 0,55 dar?



- 11) Welcher Buchstabe stellt die richtige Lage von 0,3 dar?
- 12) Welcher Buchstabe stellt die richtige Lage von 0,41 dar?



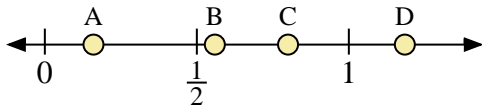
- 15) Welcher Buchstabe stellt die richtige Lage von 1,00 dar?
- 16) Welcher Buchstabe stellt die richtige Lage von 0,29 dar?

Antworten

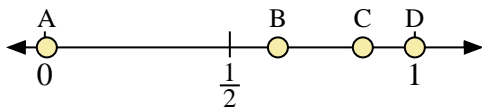
1. **C**
2. **D**
3. **B**
4. **A**
5. **B**
6. **A**
7. **D**
8. **B**
9. **C**
10. **A**
11. **A**
12. **B**
13. **A**
14. **C**
15. **D**
16. **A**



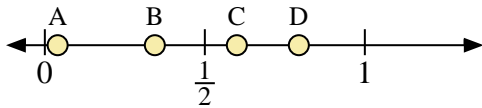
Benutze den Zahlenstrahl um die Lösung zu ermitteln.



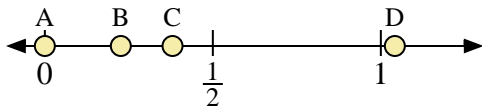
- 1) Welcher Buchstabe stellt die richtige Lage von 0,80 dar?
- 2) Welcher Buchstabe stellt die richtige Lage von 0,16 dar?



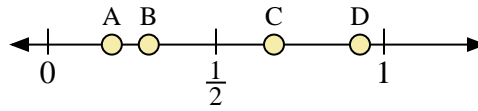
- 5) Welcher Buchstabe stellt die richtige Lage von 1,0 dar?
- 6) Welcher Buchstabe stellt die richtige Lage von 0,63 dar?



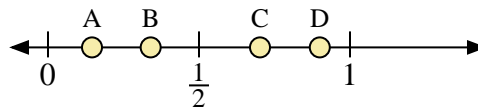
- 9) Welcher Buchstabe stellt die richtige Lage von 0,60 dar?
- 10) Welcher Buchstabe stellt die richtige Lage von 0,04 dar?



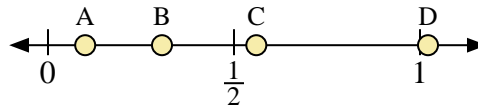
- 13) Welcher Buchstabe stellt die richtige Lage von 0,0 dar?
- 14) Welcher Buchstabe stellt die richtige Lage von 0,38 dar?



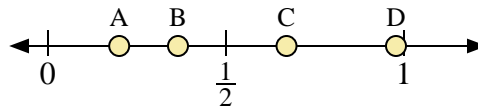
- 3) Welcher Buchstabe stellt die richtige Lage von 0,3 dar?
- 4) Welcher Buchstabe stellt die richtige Lage von 0,19 dar?



- 7) Welcher Buchstabe stellt die richtige Lage von 0,9 dar?
- 8) Welcher Buchstabe stellt die richtige Lage von 0,34 dar?



- 11) Welcher Buchstabe stellt die richtige Lage von 0,1 dar?
- 12) Welcher Buchstabe stellt die richtige Lage von 0,56 dar?



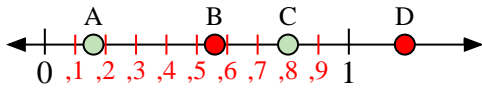
- 15) Welcher Buchstabe stellt die richtige Lage von 0,2 dar?
- 16) Welcher Buchstabe stellt die richtige Lage von 0,67 dar?

Antworten

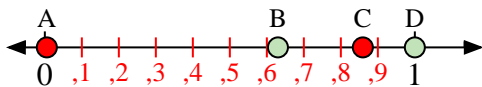
1. _____
2. _____
3. _____
4. _____
5. _____
6. _____
7. _____
8. _____
9. _____
10. _____
11. _____
12. _____
13. _____
14. _____
15. _____
16. _____



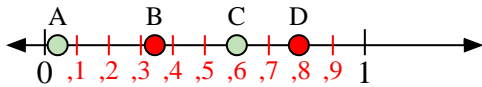
Benutze den Zahlenstrahl um die Lösung zu ermitteln.



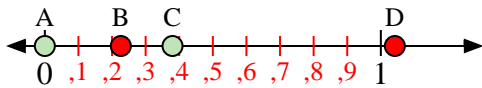
- 1) Welcher Buchstabe stellt die richtige Lage von 0,80 dar?
- 2) Welcher Buchstabe stellt die richtige Lage von 0,16 dar?



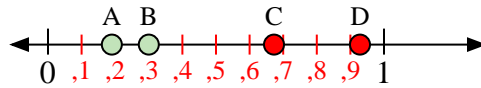
- 5) Welcher Buchstabe stellt die richtige Lage von 1,0 dar?
- 6) Welcher Buchstabe stellt die richtige Lage von 0,63 dar?



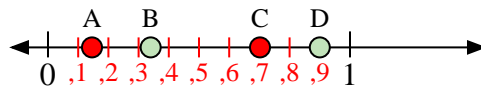
- 9) Welcher Buchstabe stellt die richtige Lage von 0,60 dar?
- 10) Welcher Buchstabe stellt die richtige Lage von 0,04 dar?



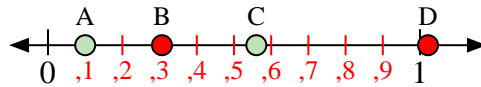
- 13) Welcher Buchstabe stellt die richtige Lage von 0,0 dar?
- 14) Welcher Buchstabe stellt die richtige Lage von 0,38 dar?



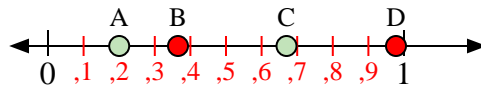
- 3) Welcher Buchstabe stellt die richtige Lage von 0,3 dar?
- 4) Welcher Buchstabe stellt die richtige Lage von 0,19 dar?



- 7) Welcher Buchstabe stellt die richtige Lage von 0,9 dar?
- 8) Welcher Buchstabe stellt die richtige Lage von 0,34 dar?



- 11) Welcher Buchstabe stellt die richtige Lage von 0,1 dar?
- 12) Welcher Buchstabe stellt die richtige Lage von 0,56 dar?



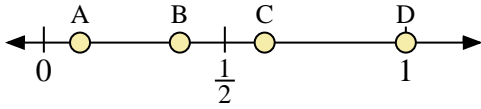
- 15) Welcher Buchstabe stellt die richtige Lage von 0,2 dar?
- 16) Welcher Buchstabe stellt die richtige Lage von 0,67 dar?

Antworten

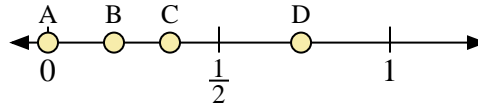
1. **C**
2. **A**
3. **B**
4. **A**
5. **D**
6. **B**
7. **D**
8. **B**
9. **C**
10. **A**
11. **A**
12. **C**
13. **A**
14. **C**
15. **A**
16. **C**



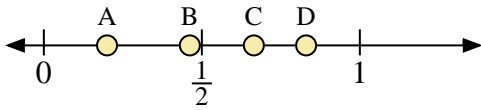
Benutze den Zahlenstrahl um die Lösung zu ermitteln.



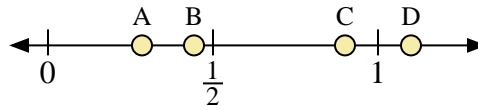
- 1) Welcher Buchstabe stellt die richtige Lage von 0,10 dar?
- 2) Welcher Buchstabe stellt die richtige Lage von 0,61 dar?



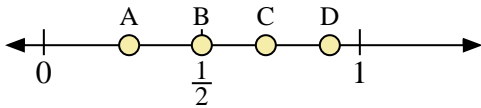
- 3) Welcher Buchstabe stellt die richtige Lage von 0,0 dar?
- 4) Welcher Buchstabe stellt die richtige Lage von 0,74 dar?



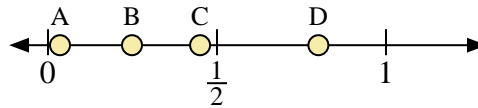
- 5) Welcher Buchstabe stellt die richtige Lage von 0,2 dar?
- 6) Welcher Buchstabe stellt die richtige Lage von 0,83 dar?



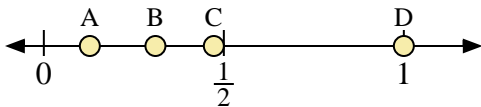
- 7) Welcher Buchstabe stellt die richtige Lage von 1,10 dar?
- 8) Welcher Buchstabe stellt die richtige Lage von 0,90 dar?



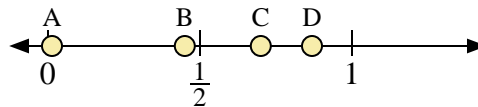
- 9) Welcher Buchstabe stellt die richtige Lage von 0,5 dar?
- 10) Welcher Buchstabe stellt die richtige Lage von 0,27 dar?



- 11) Welcher Buchstabe stellt die richtige Lage von 0,80 dar?
- 12) Welcher Buchstabe stellt die richtige Lage von 0,45 dar?



- 13) Welcher Buchstabe stellt die richtige Lage von 1,00 dar?
- 14) Welcher Buchstabe stellt die richtige Lage von 0,31 dar?



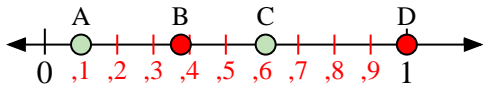
- 15) Welcher Buchstabe stellt die richtige Lage von 0,70 dar?
- 16) Welcher Buchstabe stellt die richtige Lage von 0,45 dar?

Antworten

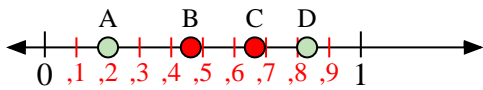
1. _____
2. _____
3. _____
4. _____
5. _____
6. _____
7. _____
8. _____
9. _____
10. _____
11. _____
12. _____
13. _____
14. _____
15. _____
16. _____



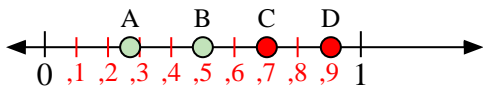
Benutze den Zahlenstrahl um die Lösung zu ermitteln.



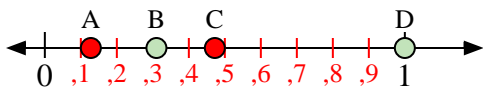
- 1) Welcher Buchstabe stellt die richtige Lage von 0,10 dar?
- 2) Welcher Buchstabe stellt die richtige Lage von 0,61 dar?



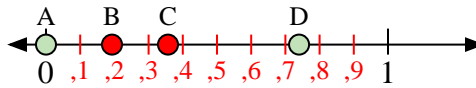
- 5) Welcher Buchstabe stellt die richtige Lage von 0,2 dar?
- 6) Welcher Buchstabe stellt die richtige Lage von 0,83 dar?



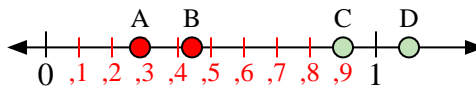
- 9) Welcher Buchstabe stellt die richtige Lage von 0,5 dar?
- 10) Welcher Buchstabe stellt die richtige Lage von 0,27 dar?



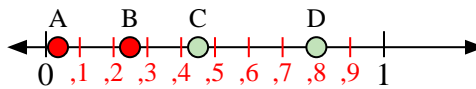
- 13) Welcher Buchstabe stellt die richtige Lage von 1,00 dar?
- 14) Welcher Buchstabe stellt die richtige Lage von 0,31 dar?



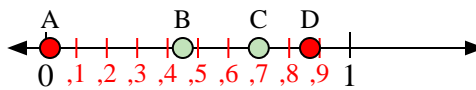
- 3) Welcher Buchstabe stellt die richtige Lage von 0,0 dar?
- 4) Welcher Buchstabe stellt die richtige Lage von 0,74 dar?



- 7) Welcher Buchstabe stellt die richtige Lage von 1,10 dar?
- 8) Welcher Buchstabe stellt die richtige Lage von 0,90 dar?



- 11) Welcher Buchstabe stellt die richtige Lage von 0,80 dar?
- 12) Welcher Buchstabe stellt die richtige Lage von 0,45 dar?



- 15) Welcher Buchstabe stellt die richtige Lage von 0,70 dar?
- 16) Welcher Buchstabe stellt die richtige Lage von 0,45 dar?

Antworten

1. **A**
2. **C**
3. **A**
4. **D**
5. **A**
6. **D**
7. **D**
8. **C**
9. **B**
10. **A**
11. **D**
12. **C**
13. **D**
14. **B**
15. **C**
16. **B**