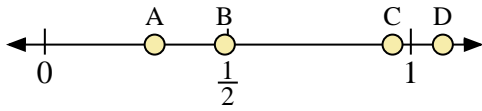
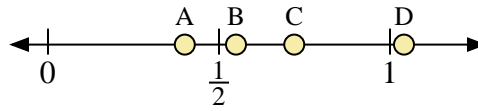




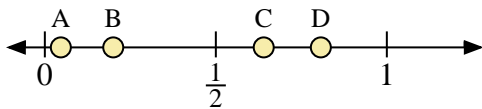
Benutze den Zahlenstrahl um die Lösung zu ermitteln.



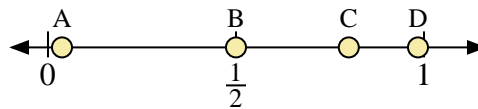
- 1) Welcher Buchstabe stellt die richtige Lage von 0,3 dar?
- 2) Welcher Buchstabe stellt die richtige Lage von 0,95 dar?



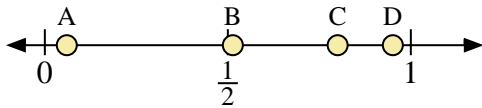
- 3) Welcher Buchstabe stellt die richtige Lage von 0,4 dar?
- 4) Welcher Buchstabe stellt die richtige Lage von 0,72 dar?



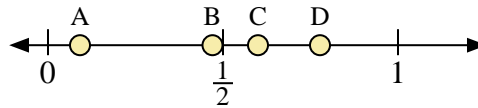
- 5) Welcher Buchstabe stellt die richtige Lage von 0,20 dar?
- 6) Welcher Buchstabe stellt die richtige Lage von 0,64 dar?



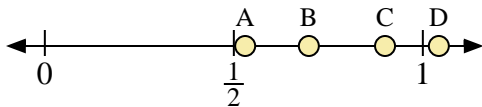
- 7) Welcher Buchstabe stellt die richtige Lage von 0,5 dar?
- 8) Welcher Buchstabe stellt die richtige Lage von 0,80 dar?



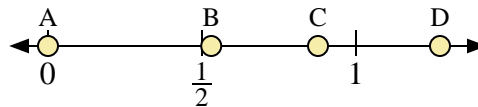
- 9) Welcher Buchstabe stellt die richtige Lage von 0,8 dar?
- 10) Welcher Buchstabe stellt die richtige Lage von 0,06 dar?



- 11) Welcher Buchstabe stellt die richtige Lage von 0,6 dar?
- 12) Welcher Buchstabe stellt die richtige Lage von 0,47 dar?



- 13) Welcher Buchstabe stellt die richtige Lage von 0,90 dar?
- 14) Welcher Buchstabe stellt die richtige Lage von 0,53 dar?



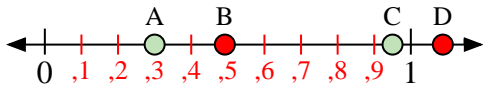
- 15) Welcher Buchstabe stellt die richtige Lage von 0,0 dar?
- 16) Welcher Buchstabe stellt die richtige Lage von 0,53 dar?

Antworten

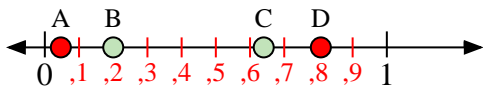
1. _____
2. _____
3. _____
4. _____
5. _____
6. _____
7. _____
8. _____
9. _____
10. _____
11. _____
12. _____
13. _____
14. _____
15. _____
16. _____



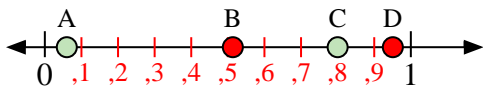
Benutze den Zahlenstrahl um die Lösung zu ermitteln.



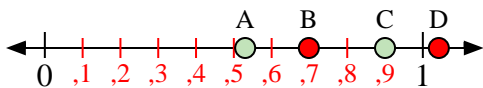
- 1) Welcher Buchstabe stellt die richtige Lage von 0,3 dar?
- 2) Welcher Buchstabe stellt die richtige Lage von 0,95 dar?



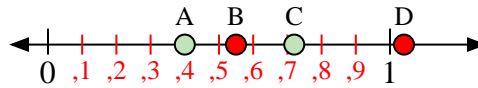
- 5) Welcher Buchstabe stellt die richtige Lage von 0,20 dar?
- 6) Welcher Buchstabe stellt die richtige Lage von 0,64 dar?



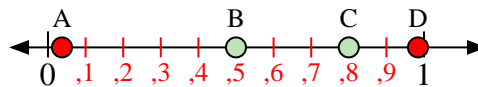
- 9) Welcher Buchstabe stellt die richtige Lage von 0,8 dar?
- 10) Welcher Buchstabe stellt die richtige Lage von 0,06 dar?



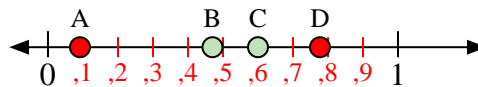
- 13) Welcher Buchstabe stellt die richtige Lage von 0,90 dar?
- 14) Welcher Buchstabe stellt die richtige Lage von 0,53 dar?



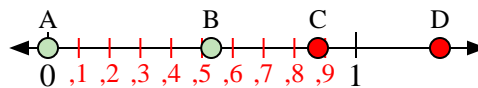
- 3) Welcher Buchstabe stellt die richtige Lage von 0,4 dar?
- 4) Welcher Buchstabe stellt die richtige Lage von 0,72 dar?



- 7) Welcher Buchstabe stellt die richtige Lage von 0,5 dar?
- 8) Welcher Buchstabe stellt die richtige Lage von 0,80 dar?



- 11) Welcher Buchstabe stellt die richtige Lage von 0,6 dar?
- 12) Welcher Buchstabe stellt die richtige Lage von 0,47 dar?



- 15) Welcher Buchstabe stellt die richtige Lage von 0,0 dar?
- 16) Welcher Buchstabe stellt die richtige Lage von 0,53 dar?

Antworten

1. **A**
2. **C**
3. **A**
4. **C**
5. **B**
6. **C**
7. **B**
8. **C**
9. **C**
10. **A**
11. **C**
12. **B**
13. **C**
14. **A**
15. **A**
16. **B**