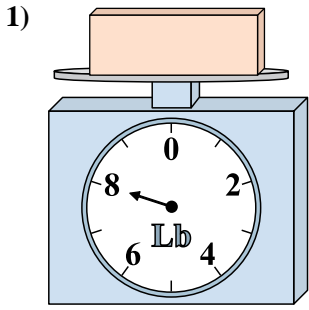
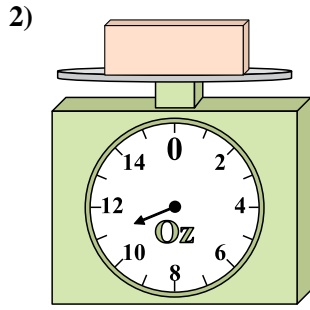




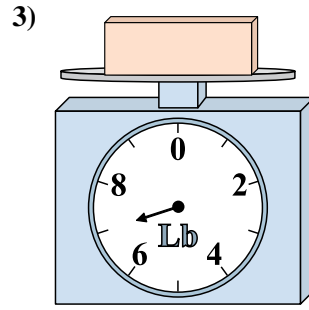
Benutze die Waage um die Fragen zu beantworten.



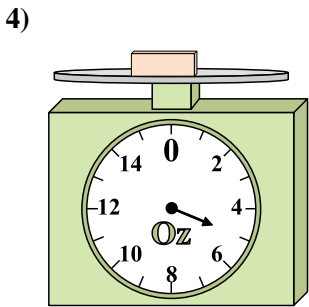
1) Wenn der gezeigte Block 2 Pfund leichter wäre, wie viel würde er dann wiegen?



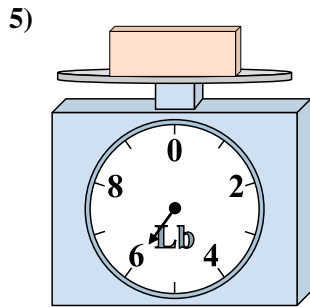
2) Was ist das Gewicht (in Unzen) des Blocks?



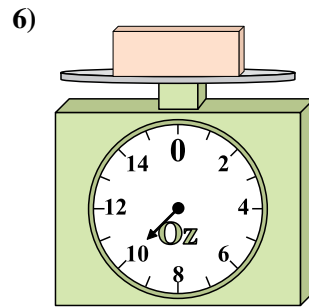
3) Wenn der gezeigte Block um 9 Pfund schwerer wäre, wie viel würde er dann wiegen?



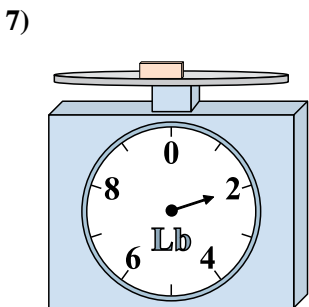
4) Was ist das Gewicht (in Unzen) des Blocks?



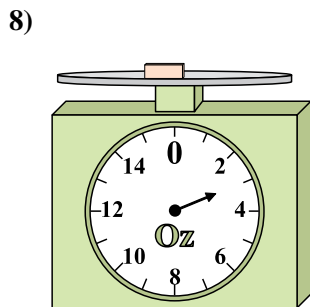
5) Wenn du 3 Blocks hast, die alle das gleiche Gewicht haben, wie viele Pfund würden die Blocks dann wiegen?



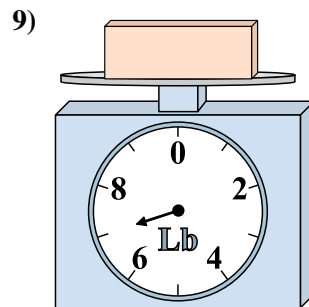
6) Wenn du 8 Blocks hast, die alle das gleiche Gewicht haben, wie viele Unzen würden die Blocks dann wiegen?



7) Wenn der gezeigte Block um 6 Pfund schwerer wäre, wie viel würde er dann wiegen?



8) Was ist das Gewicht (in Unzen) des Blocks?



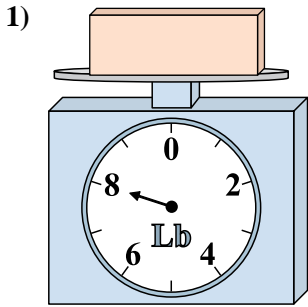
9) Wenn der gezeigte Block 6 Pfund leichter wäre, wie viel würde er dann wiegen?

Antworten

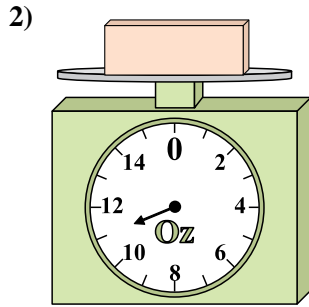
- 1. _____
- 2. _____
- 3. _____
- 4. _____
- 5. _____
- 6. _____
- 7. _____
- 8. _____
- 9. _____



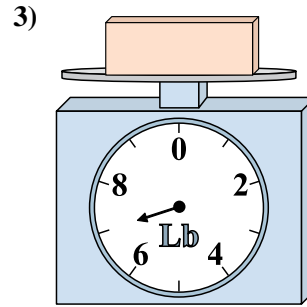
Benutze die Waage um die Fragen zu beantworten.



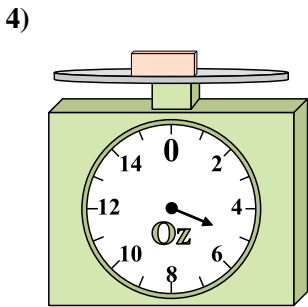
Wenn der gezeigte Block 2 Pfund leichter wäre, wie viel würde er dann wiegen?



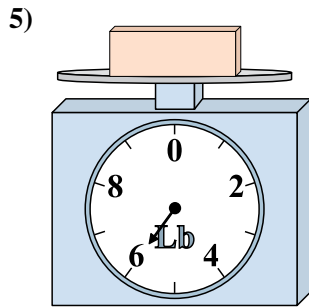
Was ist das Gewicht (in Unzen) des Blocks?



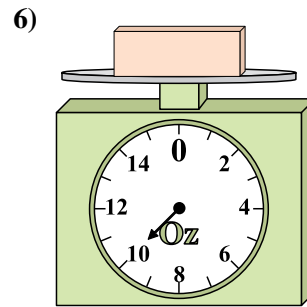
Wenn der gezeigte Block um 9 Pfund schwerer wäre, wie viel würde er dann wiegen?



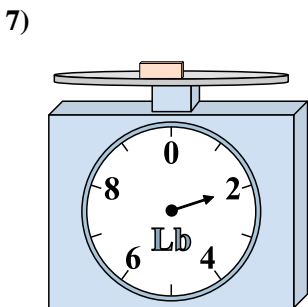
Was ist das Gewicht (in Unzen) des Blocks?



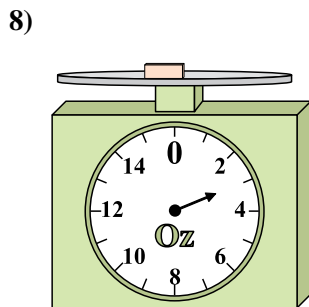
Wenn du 3 Blocks hast, die alle das gleiche Gewicht haben, wie viele Pfund würden die Blocks dann wiegen?



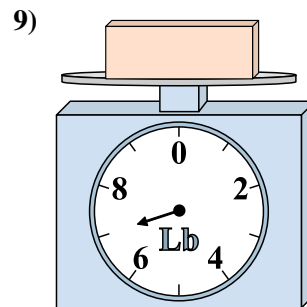
Wenn du 8 Blocks hast, die alle das gleiche Gewicht haben, wie viele Unzen würden die Blocks dann wiegen?



Wenn der gezeigte Block um 6 Pfund schwerer wäre, wie viel würde er dann wiegen?



Was ist das Gewicht (in Unzen) des Blocks?



Wenn der gezeigte Block 6 Pfund leichter wäre, wie viel würde er dann wiegen?

Antworten1. **6 lb**2. **11 oz**3. **16 lb**4. **5 oz**5. **18 lb**6. **80 oz**7. **8 lb**8. **3 oz**9. **1 lb**