



Bestimme, welcher Buchstabe am besten das Gewicht des Objekts darstellt.

Antworten

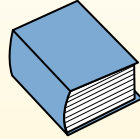
Gramm (g)

Ein Gramm entspricht ungefähr dem Gewicht einer Büroklammer.



Kilogramm (kg)

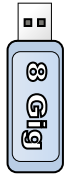
1 Kilogramm entspricht ungefähr dem Gewicht eines dicken Buches.



Denke daran:

Kilo bedeutet 1000. Deshalb ist ein Kilogramm 1000 g.

- 1. _____
- 2. _____
- 3. _____
- 4. _____
- 5. _____
- 6. _____
- 7. _____
- 8. _____
- 9. _____




- 1) USB-Stick
- A. 1 Kilogramm
 - B. 10 Gramms
 - C. 10 Kilogramms
 - D. 90 Kilogramms



- 2) Baseball-Mütze
- A. 255 Gramms
 - B. 5 Kilogramms
 - C. 3 Gramms
 - D. 200 Kilogramms



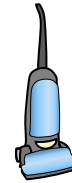
- 3) DVD
- A. 15 Kilogramms
 - B. 1 Kilogramm
 - C. 15 Gramms
 - D. 1 Gramm



- 4) Auto
- A. 2 Kilogramms
 - B. 2,000 Kilogramms
 - C. 6,000 Gramms
 - D. 15 Gramms



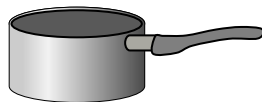
- 5) Klebestift
- A. 1 Kilogramm
 - B. 20 Gramms
 - C. 500 Gramms
 - D. 1 Gramm



- 6) Staubsauger
- A. 500 Kilogramms
 - B. 90 Gramms
 - C. 50 Gramms
 - D. 20 Kilogramms



- 7) Tennisball
- A. 1 Kilogramm
 - B. 1 Gramm
 - C. 50 Gramms
 - D. 15 Kilogramms



- 8) Kochtopf
- A. 20 Gramms
 - B. 2 Gramms
 - C. 2 Kilogramms
 - D. 200 Kilogramms



- 9) Erdbeere
- A. 1 Kilogramm
 - B. 1 Gramm
 - C. 12 Kilogramms
 - D. 12 Gramms



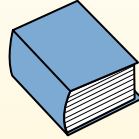
Bestimme, welcher Buchstabe am besten das Gewicht des Objekts darstellt.

Gramm (g)

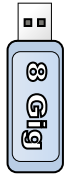
Ein Gramm entspricht ungefähr dem Gewicht einer Büroklammer.

**Kilogramm (kg)**

1 Kilogramm entspricht ungefähr dem Gewicht eines dicken Buches.

**Denke daran:**

Kilo bedeutet 1000. Deshalb ist ein Kilogramm 1000 g.

Antworten1. **B**2. **A**3. **C**4. **B**5. **B**6. **D**7. **C**8. **C**9. **D**

1) USB-Stick

- A. 1 Kilogramm
- B. 10 Gramms
- C. 10 Kilogramms
- D. 90 Kilogramms




2) Baseball-Mütze

- A. 255 Gramms
- B. 5 Kilogramms
- C. 3 Gramms
- D. 200 Kilogramms



3) DVD

- A. 15 Kilogramms
- B. 1 Kilogramm
- C. 15 Gramms
- D. 1 Gramm



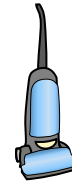
4) Auto

- A. 2 Kilogramms
- B. 2,000 Kilogramms
- C. 6,000 Gramms
- D. 15 Gramms



5) Klebestift

- A. 1 Kilogramm
- B. 20 Gramms
- C. 500 Gramms
- D. 1 Gramm



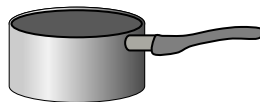
6) Staubsauger

- A. 500 Kilogramms
- B. 90 Gramms
- C. 50 Gramms
- D. 20 Kilogramms



7) Tennisball

- A. 1 Kilogramm
- B. 1 Gramm
- C. 50 Gramms
- D. 15 Kilogramms



8) Kochtopf

- A. 20 Gramms
- B. 2 Gramms
- C. 2 Kilogramms
- D. 200 Kilogramms



9) Erdbeere

- A. 1 Kilogramm
- B. 1 Gramm
- C. 12 Kilogramms
- D. 12 Gramms