



Bestimme, welcher Buchstabe am besten das Gewicht des Objekts darstellt.

Antworten

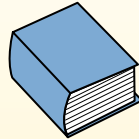
Gramm (g)

Ein Gramm entspricht ungefähr dem Gewicht einer Büroklammer.



Kilogramm (kg)

1 Kilogramm entspricht ungefähr dem Gewicht eines dicken Buches.



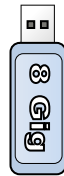
Denke daran:

Kilo bedeutet 1000. Deshalb ist ein Kilogramm 1000 g.


- 1. _____
- 2. _____
- 3. _____
- 4. _____
- 5. _____
- 6. _____
- 7. _____
- 8. _____
- 9. _____



- 1) Rasenmäher
- A. 90 Gramms
 - B. 10 Kilogramms
 - C. 50 Kilogramms
 - D. 500 Gramms




- 2) USB-Stick
- A. 10 Kilogramms
 - B. 1 Kilogramm
 - C. 10 Gramms
 - D. 90 Kilogramms




- 3) Schraube
- A. 500 Gramms
 - B. 1 Gramm
 - C. 500 Kilogramms
 - D. 1 Kilogramm



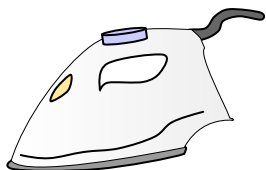
- 4) Verpackung von Frühstückscerealien
- A. 425 Gramms
 - B. 5 Gramms
 - C. 5 Kilogramms
 - D. 425 Kilogramms



- 5) Ausgewachsenes Pferd
- A. 30 Gramms
 - B. 30 Kilogramms
 - C. 400 Kilogramms
 - D. 400 Gramms



- 6) Schraubenzieher
- A. 13 Kilogramms
 - B. 10 Gramms
 - C. 250 Gramms
 - D. 1 Gramm



- 7) Bügeleisen
- A. 100 Gramms
 - B. 15 Kilogramms
 - C. 2 Kilogramms
 - D. 15 Gramms



- 8) Zahnbürste
- A. 15 Kilogramms
 - B. 1 Gramm
 - C. 400 Gramms
 - D. 500 Kilogramms



- 9) Kerze
- A. 10 Kilogramms
 - B. 2 Kilogramms
 - C. 4 Gramms
 - D. 500 Gramms



Bestimme, welcher Buchstabe am besten das Gewicht des Objekts darstellt.

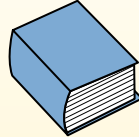
Gramm (g)

Ein Gramm entspricht ungefähr dem Gewicht einer Büroklammer.



Kilogramm (kg)

1 Kilogramm entspricht ungefähr dem Gewicht eines dicken Buches.



Denke daran:

Kilo bedeutet 1000. Deshalb ist ein Kilogramm 1000 g.

Antworten

1. **C**

2. **C**

3. **B**

4. **A**


5. **C**

6. **C**

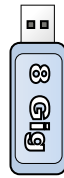
7. **C**

8. **C**

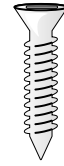
9. **C**



- 1) Rasenmäher
- A. 90 Gramms
- B. 10 Kilogramms
- C. 50 Kilogramms
- D. 500 Gramms




- 2) USB-Stick
- A. 10 Kilogramms
- B. 1 Kilogramm
- C. 10 Gramms
- D. 90 Kilogramms



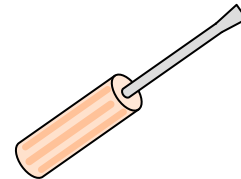
- 3) Schraube
- A. 500 Gramms
- B. 1 Gramm
- C. 500 Kilogramms
- D. 1 Kilogramm




- 4) Verpackung von Frühstückscerealien
- A. 425 Gramms
- B. 5 Gramms
- C. 5 Kilogramms
- D. 425 Kilogramms



- 5) Ausgewachsenes Pferd
- A. 30 Gramms
- B. 30 Kilogramms
- C. 400 Kilogramms
- D. 400 Gramms



- 6) Schraubenzieher
- A. 13 Kilogramms
- B. 10 Gramms
- C. 250 Gramms
- D. 1 Gramm



- 7) Bügeleisen
- A. 100 Gramms
- B. 15 Kilogramms
- C. 2 Kilogramms
- D. 15 Gramms



- 8) Zahnbürste
- A. 15 Kilogramms
- B. 1 Gramm
- C. 400 Gramms
- D. 500 Kilogramms



- 9) Kerze
- A. 10 Kilogramms
- B. 2 Kilogramms
- C. 4 Gramms
- D. 500 Gramms