



Bestimme, welcher Buchstabe am besten das Gewicht des Objekts darstellt.

**Antworten**

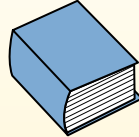
**Gramm (g)**

Ein Gramm entspricht ungefähr dem Gewicht einer Büroklammer.



**Kilogramm (kg)**

1 Kilogramm entspricht ungefähr dem Gewicht eines dicken Buches.



**Denke daran:**

Kilo bedeutet 1000. Deshalb ist ein Kilogramm 1000 g.



- 1. \_\_\_\_\_
- 2. \_\_\_\_\_
- 3. \_\_\_\_\_
- 4. \_\_\_\_\_
- 5. \_\_\_\_\_
- 6. \_\_\_\_\_
- 7. \_\_\_\_\_
- 8. \_\_\_\_\_
- 9. \_\_\_\_\_



- 1) Sessel
- A. 1 Kilogramm
  - B. 150 Gramms
  - C. 35 Kilogramms
  - D. 90 Gramms

- 2) Milchpackung mit 1 Gallone
- A. 1 Gramm
  - B. 30 Kilogramms
  - C. 4 Kilogramms
  - D. 500 Gramms

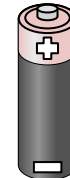
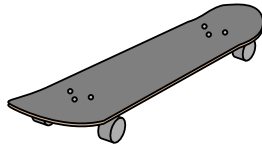
- 3) Schraube
- A. 500 Gramms
  - B. 1 Gramm
  - C. 1 Kilogramm
  - D. 500 Kilogramms



- 4) Zahnbürste
- A. 1 Gramm
  - B. 15 Kilogramms
  - C. 500 Kilogramms
  - D. 400 Gramms

- 5) Lutscher
- A. 5 Kilogramms
  - B. 200 Kilogramms
  - C. 200 Gramms
  - D. 20 Gramms

- 6) ein Blatt Papier
- A. 4 Gramms
  - B. 500 Gramms
  - C. 1 Kilogramm
  - D. 85 Gramms



- 7) Football
- A. 5 Gramms
  - B. 30 Kilogramms
  - C. 6 Kilogramms
  - D. 500 Gramms

- 8) Skateboard
- A. 200 Gramms
  - B. 20 Gramms
  - C. 15 Kilogramms
  - D. 2 Kilogramms

- 9) Batterie
- A. 15 Gramms
  - B. 90 Kilogramms
  - C. 10 Kilogramms
  - D. 1 Gramm



Bestimme, welcher Buchstabe am besten das Gewicht des Objekts darstellt.

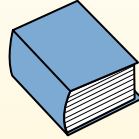
**Gramm (g)**

Ein Gramm entspricht ungefähr dem Gewicht einer Büroklammer.



**Kilogramm (kg)**

1 Kilogramm entspricht ungefähr dem Gewicht eines dicken Buches.



**Denke daran:**

Kilo bedeutet 1000. Deshalb ist ein Kilogramm 1000 g.

**Antworten**

1.   **C**  

2.   **C**  

3.   **B**  

4.   **D**  


5.   **D**  

6.   **A**  

7.   **D**  

8.   **D**  



9.   **A**  



- 1) Sessel  
 A. 1 Kilogramm  
 B. 150 Gramms  
 C. 35 Kilogramms  
 D. 90 Gramms

- 2) Milchpackung mit 1 Gallone  
 A. 1 Gramm  
 B. 30 Kilogramms  
 C. 4 Kilogramms  
 D. 500 Gramms

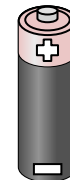
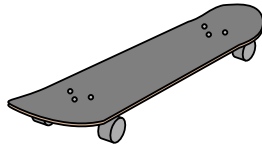
- 3) Schraube  
 A. 500 Gramms  
 B. 1 Gramm  
 C. 1 Kilogramm  
 D. 500 Kilogramms



- 4) Zahnbürste  
 A. 1 Gramm  
 B. 15 Kilogramms  
 C. 500 Kilogramms  
 D. 400 Gramms

- 5) Lutscher  
 A. 5 Kilogramms  
 B. 200 Kilogramms  
 C. 200 Gramms  
 D. 20 Gramms

- 6) ein Blatt Papier  
 A. 4 Gramms  
 B. 500 Gramms  
 C. 1 Kilogramm  
 D. 85 Gramms



- 7) Football  
 A. 5 Gramms  
 B. 30 Kilogramms  
 C. 6 Kilogramms  
 D. 500 Gramms

- 8) Skateboard  
 A. 200 Gramms  
 B. 20 Gramms  
 C. 15 Kilogramms  
 D. 2 Kilogramms

- 9) Batterie  
 A. 15 Gramms  
 B. 90 Kilogramms  
 C. 10 Kilogramms  
 D. 1 Gramm