



Bestimme, welcher Buchstabe am besten das Gewicht des Objekts darstellt.

Antworten

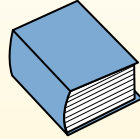
Gramm (g)

Ein Gramm entspricht ungefähr dem Gewicht einer Büroklammer.



Kilogramm (kg)

1 Kilogramm entspricht ungefähr dem Gewicht eines dicken Buches.



Denke daran:

Kilo bedeutet 1000. Deshalb ist ein Kilogramm 1000 g.


- 1. _____
- 2. _____
- 3. _____
- 4. _____
- 5. _____
- 6. _____
- 7. _____
- 8. _____
- 9. _____




- 1) Hammer
- A. 30 Gramms
 - B. 5,000 Kilogramms
 - C. 5,000 Gramms
 - D. 1 Kilogramm




- 2) Schaufel
- A. 1 Gramm
 - B. 30 Kilogramms
 - C. 5 Kilogramms
 - D. 10 Gramms




- 3) Schraube
- A. 1 Kilogramm
 - B. 500 Kilogramms
 - C. 1 Gramm
 - D. 500 Gramms



- 4) Waschmaschine
- A. 3 Gramms
 - B. 3 Kilogramms
 - C. 75 Gramms
 - D. 75 Kilogramms



- 5) Blume
- A. 30 Kilogramms
 - B. 1 Kilogramm
 - C. 150 Gramms
 - D. 1 Gramm



- 6) Schlüssel
- A. 1 Gramm
 - B. 1 Kilogramm
 - C. 100 Gramms
 - D. 100 Kilogramms



- 7) Football
- A. 5 Gramms
 - B. 30 Kilogramms
 - C. 6 Kilogramms
 - D. 500 Gramms



- 8) Milchpackung mit 1 Gallone
- A. 4 Kilogramms
 - B. 30 Kilogramms
 - C. 500 Gramms
 - D. 1 Gramm



- 9) Fahrrad
- A. 15 Kilogramms
 - B. 100 Kilogramms
 - C. 15 Gramms
 - D. 100 Gramms



Bestimme, welcher Buchstabe am besten das Gewicht des Objekts darstellt.

Antworten

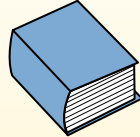
Gramm (g)

Ein Gramm entspricht ungefähr dem Gewicht einer Büroklammer.



Kilogramm (kg)

1 Kilogramm entspricht ungefähr dem Gewicht eines dicken Buches.



Denke daran:

Kilo bedeutet 1000. Deshalb ist ein Kilogramm 1000 g.

1. **C**

2. **C**

3. **C**

4. **D**

5. **C**

6. **C**

7. **D**

8. **A**




9. **A**



- 1) Hammer
 - A. 30 Gramms
 - B. 5,000 Kilogramms
 - C. 5,000 Gramms
 - D. 1 Kilogramm

- 2) Schaufel
 - A. 1 Gramm
 - B. 30 Kilogramms
 - C. 5 Kilogramms
 - D. 10 Gramms

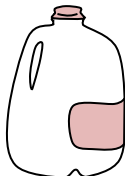
- 3) Schraube
 - A. 1 Kilogramm
 - B. 500 Kilogramms
 - C. 1 Gramm
 - D. 500 Gramms



- 4) Waschmaschine
 - A. 3 Gramms
 - B. 3 Kilogramms
 - C. 75 Gramms
 - D. 75 Kilogramms

- 5) Blume
 - A. 30 Kilogramms
 - B. 1 Kilogramm
 - C. 150 Gramms
 - D. 1 Gramm

- 6) Schlüssel
 - A. 1 Gramm
 - B. 1 Kilogramm
 - C. 100 Gramms
 - D. 100 Kilogramms



- 7) Football
 - A. 5 Gramms
 - B. 30 Kilogramms
 - C. 6 Kilogramms
 - D. 500 Gramms

- 8) Milchpackung mit 1 Gallone
 - A. 4 Kilogramms
 - B. 30 Kilogramms
 - C. 500 Gramms
 - D. 1 Gramm

- 9) Fahrrad
 - A. 15 Kilogramms
 - B. 100 Kilogramms
 - C. 15 Gramms
 - D. 100 Gramms