



Bestimme, welcher Buchstabe am besten das Gewicht des Objekts darstellt.

Antworten

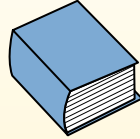
Gramm (g)

Ein Gramm entspricht ungefähr dem Gewicht einer Büroklammer.



Kilogramm (kg)

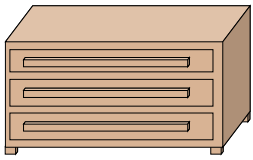
1 Kilogramm entspricht ungefähr dem Gewicht eines dicken Buches.




Denke daran:

Kilo bedeutet 1000. Deshalb ist ein Kilogramm 1000 g.

- 1. _____
- 2. _____
- 3. _____
- 4. _____
- 5. _____
- 6. _____
- 7. _____
- 8. _____
- 9. _____



- 1) Kleiderkommode
- A. 20 Gramms
 - B. 350 Kilogramms
 - C. 40 Kilogramms
 - D. 350 Gramms



- 2) Großer Fernsehbildschirm
- A. 20 Kilogramms
 - B. 1,000 Kilogramms
 - C. 20 Gramms
 - D. 100 Gramms




- 3) Kugelschreiber
- A. 5,000 Gramms
 - B. 5 Gramms
 - C. 5 Kilogramms
 - D. 500 Gramms




- 4) Hantel
- A. 100 Gramms
 - B. 1 Kilogramm
 - C. 100 Kilogramms
 - D. 200 Gramms




- 5) Hund
- A. 20 Gramms
 - B. 25 Kilogramms
 - C. 1 Gramms
 - D. 300 Kilogramms




- 6) Blume
- A. 1 Gramm
 - B. 30 Kilogramms
 - C. 1 Kilogramm
 - D. 150 Gramms



- 7) Bügeleisen
- A. 2 Kilogramms
 - B. 15 Gramms
 - C. 100 Gramms
 - D. 15 Kilogramms



- 8) Auto
- A. 6,000 Gramms
 - B. 2 Kilogramms
 - C. 15 Gramms
 - D. 2,000 Kilogramms



- 9) Lutscher
- A. 200 Kilogramms
 - B. 20 Gramms
 - C. 5 Kilogramms
 - D. 200 Gramms



Bestimme, welcher Buchstabe am besten das Gewicht des Objekts darstellt.

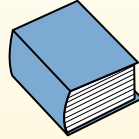
Gramm (g)

Ein Gramm entspricht ungefähr dem Gewicht einer Büroklammer.



Kilogramm (kg)

1 Kilogramm entspricht ungefähr dem Gewicht eines dicken Buches.

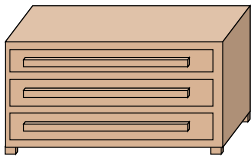


Denke daran:

Kilo bedeutet 1000. Deshalb ist ein Kilogramm 1000 g.

Antworten

- 1. **B**
- 2. **A**
- 3. **B**
- 4. **C**
- 5. **B**
- 6. **D**
- 7. **A**
- 8. **D**
- 9. **B**



- 1) Kleiderkommode
- A. 20 Gramms
 - B. 350 Kilogramms
 - C. 40 Kilogramms
 - D. 350 Gramms



- 2) Großer Fernsehbildschirm
- A. 20 Kilogramms
 - B. 1,000 Kilogramms
 - C. 20 Gramms
 - D. 100 Gramms




- 3) Kugelschreiber
- A. 5,000 Gramms
 - B. 5 Gramms
 - C. 5 Kilogramms
 - D. 500 Gramms




- 4) Hantel
- A. 100 Gramms
 - B. 1 Kilogramm
 - C. 100 Kilogramms
 - D. 200 Gramms




- 5) Hund
- A. 20 Gramms
 - B. 25 Kilogramms
 - C. 1 Gramms
 - D. 300 Kilogramms




- 6) Blume
- A. 1 Gramm
 - B. 30 Kilogramms
 - C. 1 Kilogramm
 - D. 150 Gramms



- 7) Bügeleisen
- A. 2 Kilogramms
 - B. 15 Gramms
 - C. 100 Gramms
 - D. 15 Kilogramms



- 8) Auto
- A. 6,000 Gramms
 - B. 2 Kilogramms
 - C. 15 Gramms
 - D. 2,000 Kilogramms



- 9) Lutscher
- A. 200 Kilogramms
 - B. 20 Gramms
 - C. 5 Kilogramms
 - D. 200 Gramms