



Bestimme, welcher Buchstabe am besten das Gewicht des Objekts darstellt.

Antworten

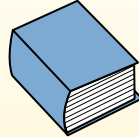
Gramm (g)

Ein Gramm entspricht ungefähr dem Gewicht einer Büroklammer.



Kilogramm (kg)

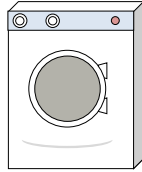
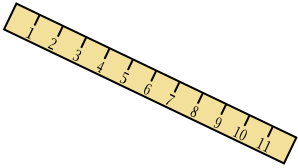
1 Kilogramm entspricht ungefähr dem Gewicht eines dicken Buches.



Denke daran:

Kilo bedeutet 1000. Deshalb ist ein Kilogramm 1000 g.

- 1. _____
- 2. _____
- 3. _____
- 4. _____
- 5. _____
- 6. _____
- 7. _____
- 8. _____
- 9. _____



1) Lineal

- A. 1 Gramm
- B. 20 Gramms
- C. 999 Gramms
- D. 30 Kilogramms

2) Waschmaschine

- A. 3 Gramms
- B. 75 Kilogramms
- C. 3 Kilogramms
- D. 75 Gramms

3) Zahnbürste

- A. 1 Gramm
- B. 500 Kilogramms
- C. 15 Kilogramms
- D. 400 Gramms



4) Besen

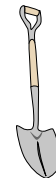
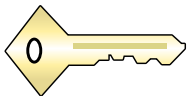
- A. 10 Gramms
- B. 10 Kilogramms
- C. 500 Gramms
- D. 200 Kilogramms

5) Verpackung von Frühstückscerealien

- A. 425 Kilogramms
- B. 425 Gramms
- C. 5 Kilogramms
- D. 5 Gramms

6) Nagel

- A. 500 Gramms
- B. 3 Kilogramms
- C. 3 Gramms
- D. 2 Kilogramms



7) Schlüssel

- A. 100 Kilogramms
- B. 1 Gramm
- C. 1 Kilogramm
- D. 100 Gramms

8) Football

- A. 500 Gramms
- B. 6 Kilogramms
- C. 5 Gramms
- D. 30 Kilogramms

9) Schaufel

- A. 5 Kilogramms
- B. 10 Gramms
- C. 1 Gramm
- D. 30 Kilogramms



Bestimme, welcher Buchstabe am besten das Gewicht des Objekts darstellt.

Antworten

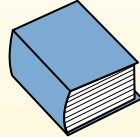
Gramm (g)

Ein Gramm entspricht ungefähr dem Gewicht einer Büroklammer.



Kilogramm (kg)

1 Kilogramm entspricht ungefähr dem Gewicht eines dicken Buches.



Denke daran:

Kilo bedeutet 1000. Deshalb ist ein Kilogramm 1000 g.

1. **B**

2. **B**

3. **D**

4. **C**

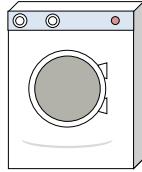
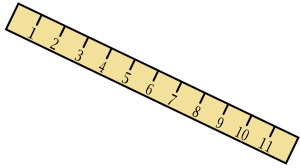
5. **B**

6. **C**

7. **D**

8. **A**

9. **A**



1) Lineal

- A. 1 Gramm
- B. 20 Gramms
- C. 999 Gramms
- D. 30 Kilogramms

2) Waschmaschine

- A. 3 Gramms
- B. 75 Kilogramms
- C. 3 Kilogramms
- D. 75 Gramms

3) Zahnbürste

- A. 1 Gramm
- B. 500 Kilogramms
- C. 15 Kilogramms
- D. 400 Gramms



4) Besen

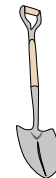
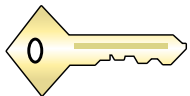
- A. 10 Gramms
- B. 10 Kilogramms
- C. 500 Gramms
- D. 200 Kilogramms

5) Verpackung von Frühstückscerealien

- A. 425 Kilogramms
- B. 425 Gramms
- C. 5 Kilogramms
- D. 5 Gramms

6) Nagel

- A. 500 Gramms
- B. 3 Kilogramms
- C. 3 Gramms
- D. 2 Kilogramms



7) Schlüssel

- A. 100 Kilogramms
- B. 1 Gramm
- C. 1 Kilogramm
- D. 100 Gramms

8) Football

- A. 500 Gramms
- B. 6 Kilogramms
- C. 5 Gramms
- D. 30 Kilogramms

9) Schaufel

- A. 5 Kilogramms
- B. 10 Gramms
- C. 1 Gramm
- D. 30 Kilogramms