



Bestimme, welcher Buchstabe am besten das Gewicht des Objekts darstellt.

**Antworten**

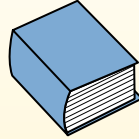
**Gramm (g)**

Ein Gramm entspricht ungefähr dem Gewicht einer Büroklammer.



**Kilogramm (kg)**

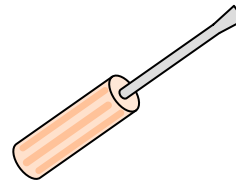

1 Kilogramm entspricht ungefähr dem Gewicht eines dicken Buches.



**Denke daran:**

Kilo bedeutet 1000. Deshalb ist ein Kilogramm 1000 g.


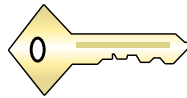

- 1. \_\_\_\_\_
- 2. \_\_\_\_\_
- 3. \_\_\_\_\_
- 4. \_\_\_\_\_
- 5. \_\_\_\_\_
- 6. \_\_\_\_\_
- 7. \_\_\_\_\_
- 8. \_\_\_\_\_
- 9. \_\_\_\_\_



- 1) Sessel  
 A. 35 Kilogramms  
 B. 1 Kilogramm  
 C. 90 Gramms  
 D. 150 Gramms

- 2) Ausgewachsenes Pferd  
 A. 30 Gramms  
 B. 30 Kilogramms  
 C. 400 Gramms  
 D. 400 Kilogramms

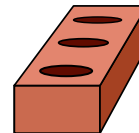
- 3) Schraubenzieher  
 A. 13 Kilogramms  
 B. 10 Gramms  
 C. 1 Gramm  
 D. 250 Gramms



- 4) Apfel  
 A. 200 Kilogramms  
 B. 5 Gramms  
 C. 200 Gramms  
 D. 5 Kilogramms

- 5) Schlüssel  
 A. 100 Gramms  
 B. 100 Kilogramms  
 C. 1 Kilogramm  
 D. 1 Gramm

- 6) Elefant  
 A. 30 Kilogramms  
 B. 90 Gramms  
 C. 5,000 Kilogramms  
 D. 5,000 Gramms



- 7) Spinne  
 A. 1 Kilogramm  
 B. 500 Gramms  
 C. 15 Gramms  
 D. 1 Gramm

- 8) Löffel  
 A. 3 Gramms  
 B. 3 Kilogramms  
 C. 500 Kilogramms  
 D. 300 Gramms

- 9) Backstein  
 A. 500 Gramms  
 B. 2 Kilogramms  
 C. 500 Kilogramms  
 D. 3 Gramms



Bestimme, welcher Buchstabe am besten das Gewicht des Objekts darstellt.

**Antworten**

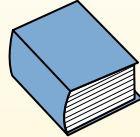
**Gramm (g)**

Ein Gramm entspricht ungefähr dem Gewicht einer Büroklammer.



**Kilogramm (kg)**

1 Kilogramm entspricht ungefähr dem Gewicht eines dicken Buches.



**Denke daran:**

Kilo bedeutet 1000. Deshalb ist ein Kilogramm 1000 g.

1.   **A**  

2.   **D**  

3.   **D**  

4.   **C**  

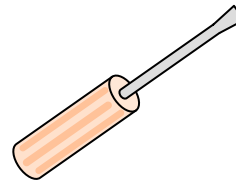

5.   **A**  

6.   **C**  

7.   **D**  

8.   **D**  


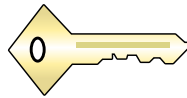

9.   **B**  



- 1) Sessel  
 A. 35 Kilogramms  
 B. 1 Kilogramm  
 C. 90 Gramms  
 D. 150 Gramms

- 2) Ausgewachsenes Pferd  
 A. 30 Gramms  
 B. 30 Kilogramms  
 C. 400 Gramms  
 D. 400 Kilogramms

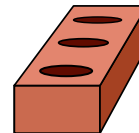
- 3) Schraubenzieher  
 A. 13 Kilogramms  
 B. 10 Gramms  
 C. 1 Gramm  
 D. 250 Gramms



- 4) Apfel  
 A. 200 Kilogramms  
 B. 5 Gramms  
 C. 200 Gramms  
 D. 5 Kilogramms

- 5) Schlüssel  
 A. 100 Gramms  
 B. 100 Kilogramms  
 C. 1 Kilogramm  
 D. 1 Gramm

- 6) Elefant  
 A. 30 Kilogramms  
 B. 90 Gramms  
 C. 5,000 Kilogramms  
 D. 5,000 Gramms



- 7) Spinne  
 A. 1 Kilogramm  
 B. 500 Gramms  
 C. 15 Gramms  
 D. 1 Gramm

- 8) Löffel  
 A. 3 Gramms  
 B. 3 Kilogramms  
 C. 500 Kilogramms  
 D. 300 Gramms

- 9) Backstein  
 A. 500 Gramms  
 B. 2 Kilogramms  
 C. 500 Kilogramms  
 D. 3 Gramms