



Bestimme, welcher Buchstabe am besten das Gewicht des Objekts darstellt.

Antworten

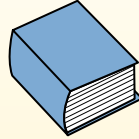
Gramm (g)

Ein Gramm entspricht ungefähr dem Gewicht einer Büroklammer.



Kilogramm (kg)

1 Kilogramm entspricht ungefähr dem Gewicht eines dicken Buches.



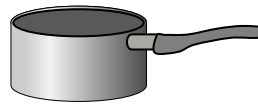
Denke daran:

Kilo bedeutet 1000. Deshalb ist ein Kilogramm 1000 g.


- 1. _____
- 2. _____
- 3. _____
- 4. _____
- 5. _____
- 6. _____
- 7. _____
- 8. _____
- 9. _____



- 1) Fahrrad
- A. 15 Gramms
 - B. 100 Kilogramms
 - C. 15 Kilogramms
 - D. 100 Gramms



- 2) Kochtopf
- A. 2 Kilogramms
 - B. 2 Gramms
 - C. 200 Kilogramms
 - D. 20 Gramms



- 3) Lutscher
- A. 20 Gramms
 - B. 5 Kilogramms
 - C. 200 Gramms
 - D. 200 Kilogramms



- 4) Verpackung von Frühstückscerealien
- A. 5 Gramms
 - B. 425 Kilogramms
 - C. 5 Kilogramms
 - D. 425 Gramms



- 5) Staubsauger
- A. 500 Kilogramms
 - B. 50 Gramms
 - C. 20 Kilogramms
 - D. 90 Gramms



- 6) Löffel
- A. 3 Gramms
 - B. 500 Kilogramms
 - C. 300 Gramms
 - D. 3 Kilogramms



- 7) Bildschirm
- A. 8 Kilogramms
 - B. 8 Gramms
 - C. 500 Gramms
 - D. 500 Kilogramms



- 8) Kugelschreiber
- A. 5 Gramms
 - B. 5,000 Gramms
 - C. 500 Gramms
 - D. 5 Kilogramms



- 9) Klebestift
- A. 20 Gramms
 - B. 1 Gramm
 - C. 1 Kilogramm
 - D. 500 Gramms



Bestimme, welcher Buchstabe am besten das Gewicht des Objekts darstellt.

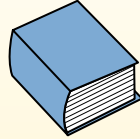
Gramm (g)

Ein Gramm entspricht ungefähr dem Gewicht einer Büroklammer.



Kilogramm (kg)

1 Kilogramm entspricht ungefähr dem Gewicht eines dicken Buches.



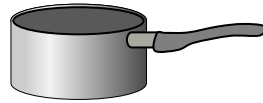
Denke daran:

Kilo bedeutet 1000. Deshalb ist ein Kilogramm 1000 g.


Antworten



- 1) Fahrrad
 - A. 15 Gramms
 - B. 100 Kilogramms
 - C. 15 Kilogramms
 - D. 100 Gramms



- 2) Kochtopf
 - A. 2 Kilogramms
 - B. 2 Gramms
 - C. 200 Kilogramms
 - D. 20 Gramms




- 3) Lutscher
 - A. 20 Gramms
 - B. 5 Kilogramms
 - C. 200 Gramms
 - D. 200 Kilogramms

- 1. **C**
- 2. **A**
- 3. **A**
- 4. **D**
- 5. **C**
- 6. **C**
- 7. **A**
- 8. **A**
- 9. **A**



- 4) Verpackung von Frühstückscerealien
 - A. 5 Gramms
 - B. 425 Kilogramms
 - C. 5 Kilogramms
 - D. 425 Gramms



- 5) Staubsauger
 - A. 500 Kilogramms
 - B. 50 Gramms
 - C. 20 Kilogramms
 - D. 90 Gramms



- 6) Löffel
 - A. 3 Gramms
 - B. 500 Kilogramms
 - C. 300 Gramms
 - D. 3 Kilogramms



- 7) Bildschirm
 - A. 8 Kilogramms
 - B. 8 Gramms
 - C. 500 Gramms
 - D. 500 Kilogramms



- 8) Kugelschreiber
 - A. 5 Gramms
 - B. 5,000 Gramms
 - C. 500 Gramms
 - D. 5 Kilogramms



- 9) Klebestift
 - A. 20 Gramms
 - B. 1 Gramm
 - C. 1 Kilogramm
 - D. 500 Gramms