

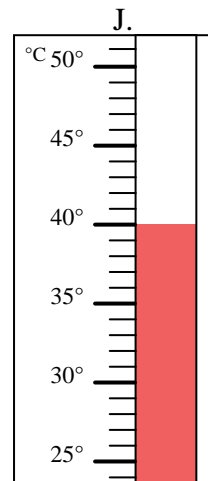
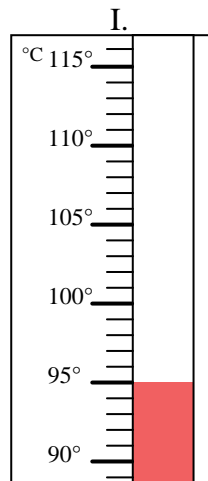
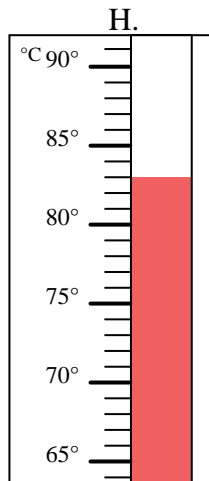
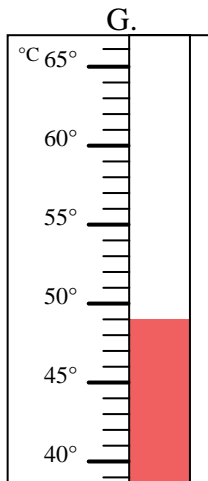
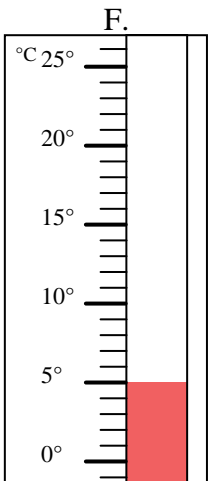
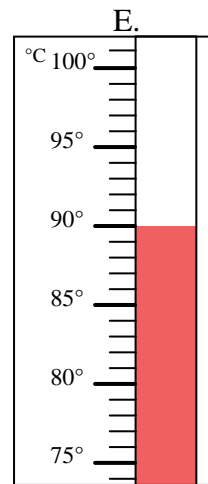
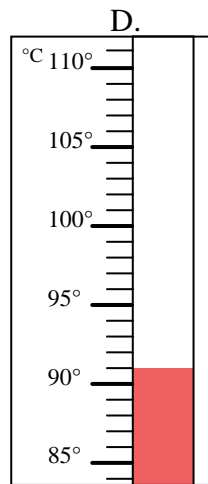
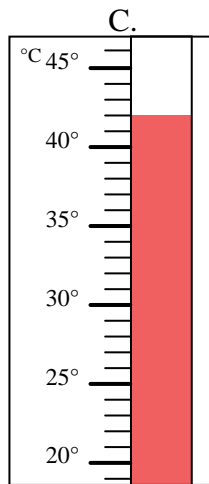
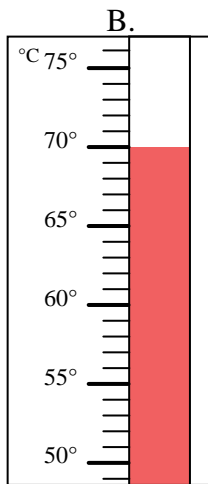
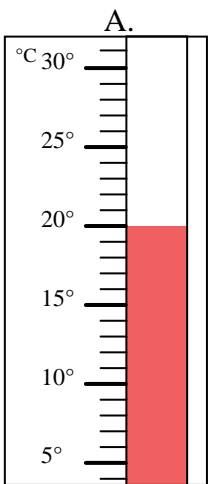


Bestimme, welcher Buchstabe die Frage richtig beantwortet.

Antworten

- 1) Welcher Thermometer zeigt die Temperatur von 95° richtig an? _____
- 2) Welcher Thermometer zeigt die Temperatur von 42° richtig an? _____
- 3) Welcher Thermometer zeigt die Temperatur von 70° richtig an? _____
- 4) Welcher Thermometer zeigt die Temperatur von 40° richtig an? _____
- 5) Welcher Thermometer zeigt die Temperatur von 91° richtig an? _____
- 6) Welcher Thermometer zeigt die Temperatur von 49° richtig an? _____
- 7) Welcher Thermometer zeigt die Temperatur von 90° richtig an? _____
- 8) Welcher Thermometer zeigt die Temperatur von 83° richtig an? _____
- 9) Welcher Thermometer zeigt die Temperatur von 20° richtig an? _____
- 10) Welcher Thermometer zeigt die Temperatur von 5° richtig an? _____

1. _____
2. _____
3. _____
4. _____
5. _____
6. _____
7. _____
8. _____
9. _____
10. _____





Bestimme, welcher Buchstabe die Frage richtig beantwortet.

- 1) Welcher Thermometer zeigt die Temperatur von 95° richtig an? I
- 2) Welcher Thermometer zeigt die Temperatur von 42° richtig an? C
- 3) Welcher Thermometer zeigt die Temperatur von 70° richtig an? B
- 4) Welcher Thermometer zeigt die Temperatur von 40° richtig an? J
- 5) Welcher Thermometer zeigt die Temperatur von 91° richtig an? D
- 6) Welcher Thermometer zeigt die Temperatur von 49° richtig an? G
- 7) Welcher Thermometer zeigt die Temperatur von 90° richtig an? E
- 8) Welcher Thermometer zeigt die Temperatur von 83° richtig an? H
- 9) Welcher Thermometer zeigt die Temperatur von 20° richtig an? A
- 10) Welcher Thermometer zeigt die Temperatur von 5° richtig an? F

Antworten

1. I
2. C
3. B
4. J
5. D
6. G
7. E
8. H
9. A
10. F

