

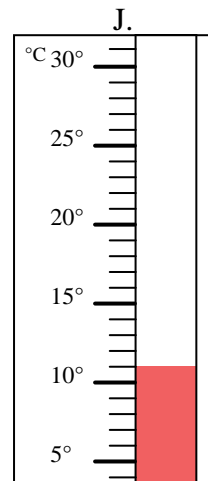
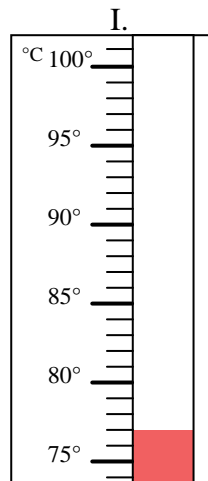
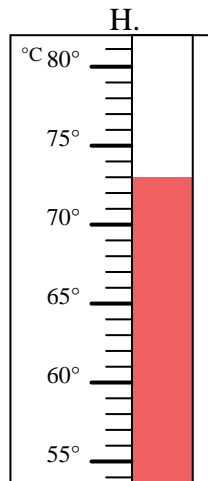
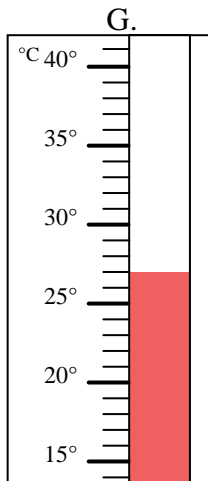
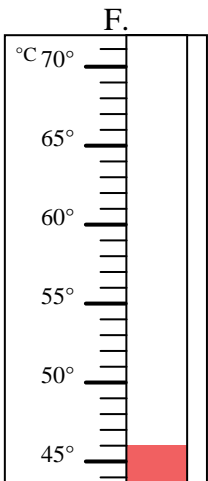
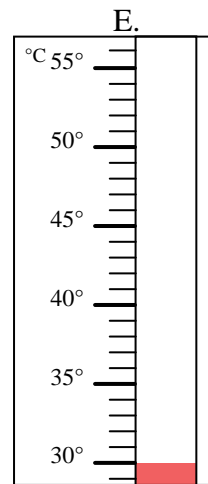
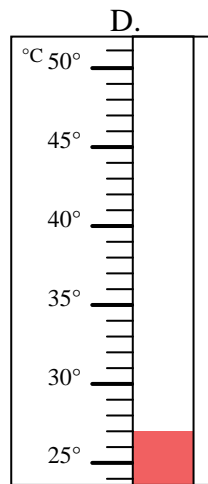
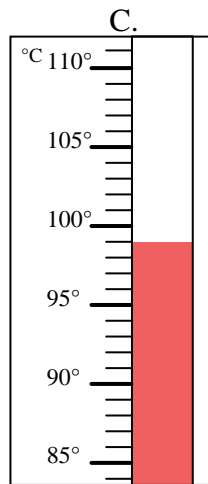
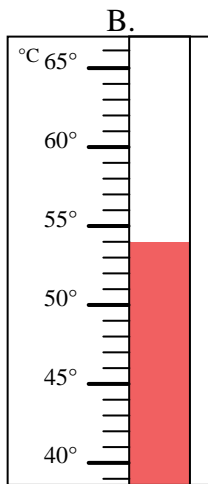
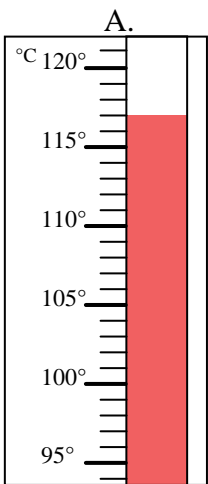


Bestimme, welcher Buchstabe die Frage richtig beantwortet.

Antworten

- 1) Welcher Thermometer zeigt die Temperatur von 30° richtig an? _____
- 2) Welcher Thermometer zeigt die Temperatur von 77° richtig an? _____
- 3) Welcher Thermometer zeigt die Temperatur von 27° richtig an? _____
- 4) Welcher Thermometer zeigt die Temperatur von 27° richtig an? _____
- 5) Welcher Thermometer zeigt die Temperatur von 99° richtig an? _____
- 6) Welcher Thermometer zeigt die Temperatur von 54° richtig an? _____
- 7) Welcher Thermometer zeigt die Temperatur von 117° richtig an? _____
- 8) Welcher Thermometer zeigt die Temperatur von 73° richtig an? _____
- 9) Welcher Thermometer zeigt die Temperatur von 11° richtig an? _____
- 10) Welcher Thermometer zeigt die Temperatur von 46° richtig an? _____

1. _____
2. _____
3. _____
4. _____
5. _____
6. _____
7. _____
8. _____
9. _____
10. _____





Bestimme, welcher Buchstabe die Frage richtig beantwortet.

- 1) Welcher Thermometer zeigt die Temperatur von 30° richtig an? E
- 2) Welcher Thermometer zeigt die Temperatur von 77° richtig an? I
- 3) Welcher Thermometer zeigt die Temperatur von 27° richtig an? G
- 4) Welcher Thermometer zeigt die Temperatur von 27° richtig an? D
- 5) Welcher Thermometer zeigt die Temperatur von 99° richtig an? C
- 6) Welcher Thermometer zeigt die Temperatur von 54° richtig an? B
- 7) Welcher Thermometer zeigt die Temperatur von 117° richtig an? A
- 8) Welcher Thermometer zeigt die Temperatur von 73° richtig an? H
- 9) Welcher Thermometer zeigt die Temperatur von 11° richtig an? J
- 10) Welcher Thermometer zeigt die Temperatur von 46° richtig an? F

Antworten

1. E
2. I
3. G
4. D
5. C
6. B
7. A
8. H
9. J
10. F

