



Bestimme den Wert jeder Strichlistenreihe.

Antworten

1) IIII IIII IIII IIII IIII

1. _____

2) IIII IIII IIII IIII IIII IIII IIII

2. _____

3) IIII IIII IIII IIII IIII IIII IIII IIII IIII IIII

3. _____

4) IIII IIII II

4. _____

5) IIII IIII IIII IIII IIII IIII IIII IIII IIII

5. _____

6) IIII IIII IIII IIII IIII II

6. _____

7) IIII IIII IIII IIII IIII IIII IIII IIII IIII IIII IIII

7. _____

8) IIII IIII IIII IIII IIII IIII

8. _____

9) IIII IIII IIII IIII IIII

9. _____

10) IIII IIII IIII IIII IIII IIII IIII IIII IIII IIII II

10. _____

11) IIII IIII IIII IIII IIII IIII IIII IIII IIII

11. _____

12) IIII IIII IIII

12. _____

13) IIII IIII IIII IIII IIII IIII IIII

13. _____

14) IIII IIII IIII IIII IIII IIII IIII IIII IIII

14. _____

15) IIII IIII IIII IIII IIII II

15. _____

16) IIII IIII IIII I

16. _____

17) IIII IIII IIII IIII IIII IIII IIII IIII IIII

17. _____

18) IIII IIII IIII IIII I



Bestimme den Wert jeder Strichlistenreihe.

- 1)
- 2)
- 3)
- 4)
- 5)
- 6)
- 7)
- 8)
- 9)
- 10)
- 11)
- 12)
- 13)
- 14)
- 15)
- 16)
- 17)
- 18)

Antworten

1. 24
2. 34
3. 50
4. 12
5. 43
6. 27
7. 49
8. 28
9. 23
10. 47
11. 39
12. 13
13. 29
14. 38
15. 22
16. 16
17. 33
18. 21



Bestimme den Wert jeder Strichlistenreihe.

Antworten

1)

1. _____

2)

2. _____

3)

3. _____

4)

4. _____

5)

5. _____

6)

6. _____

7)

7. _____

8)

8. _____

9)

9. _____

10)

10. _____

11)

11. _____

12)

12. _____

13)

13. _____

14)

14. _____

15)

15. _____

16)

16. _____

17)

17. _____

18)

18. _____



Bestimme den Wert jeder Strichlistenreihe.

1)

2)

3)

4)

5)

6)

7)

8)

9)

10)

11)

12)

13)

14)

15)

16)

17)

18)

Antworten1. 352. 163. 104. 125. 506. 347. 268. 79. 3310. 4111. 4812. 1413. 3814. 4315. 4416. 3717. 618. 13



Bestimme den Wert jeder Strichlistenreihe.

Antworten

1)

1. _____

2)

2. _____

3)

3. _____

4)

4. _____

5)

5. _____

6)

6. _____

7)

7. _____

8)

8. _____

9)

9. _____

10)

10. _____

11)

11. _____

12)

12. _____

13)

13. _____

14)

15. _____

15)

16. _____

16)

17. _____

17)

18. _____

18)



Bestimme den Wert jeder Strichlistenreihe.

1)

2)

3)

4)

5)

6)

7)

8)

9)

10)

11)

12)

13)

14)

15)

16)

17)

18)

Antworten1. 352. 203. 274. 85. 256. 287. 118. 69. 4810. 2611. 2312. 3213. 2214. 915. 3616. 4117. 1518. 16



Bestimme den Wert jeder Strichlistenreihe.

Antworten

1) IIII IIII |

1. _____

2) IIII IIII IIII IIII IIII IIII IIII

2. _____

3) IIII IIII IIII IIII

3. _____

4) IIII IIII IIII IIII IIII

4. _____

5) IIII |

5. _____

6) IIII IIII IIII IIII IIII IIII IIII IIII IIII IIII

6. _____

7) IIII IIII IIII IIII IIII

7. _____

8) IIII IIII IIII IIII IIII IIII

8. _____

9) IIII IIII

9. _____

10) IIII IIII IIII IIII IIII II

10. _____

11) IIII IIII IIII IIII IIII IIII IIII IIII

11. _____

12) IIII IIII IIII IIII IIII IIII IIII IIII IIII

12. _____

13) IIII IIII IIII IIII IIII IIII IIII IIII IIII

13. _____

14) IIII IIII IIII IIII IIII IIII IIII II

14. _____

15) IIII IIII IIII

15. _____

16) IIII IIII IIII IIII II

16. _____



















17) IIII IIII IIII IIII IIII IIII IIII IIII IIII

17. _____

18) IIII IIII IIII |



Bestimme den Wert jeder Strichlistenreihe.

- 1) 
- 2) 
- 3) 
- 4) 
- 5) 
- 6) 
- 7) 
- 8) 
- 9) 
- 10) 
- 11) 
- 12) 
- 13) 
- 14) 
- 15) 
- 16) 
- 17) 
- 18) 

Antworten

1. 11
2. 35
3. 19
4. 25
5. 6
6. 49
7. 24
8. 30
9. 9
10. 27
11. 40
12. 44
13. 43
14. 37
15. 14
16. 22
17. 48
18. 16



Bestimme den Wert jeder Strichlistenreihe.

- 1)
- 2)
- 3)
- 4)
- 5)
- 6)
- 7)
- 8)
- 9)
- 10)
- 11)
- 12)
- 13)
- 14)
- 15)
- 16)
- 17)
- 18)

Antworten

1. 23
2. 34
3. 37
4. 40
5. 35
6. 43
7. 15
8. 39
9. 29
10. 7
11. 17
12. 26
13. 49
14. 36
15. 48
16. 32
17. 8
18. 30



Bestimme den Wert jeder Strichlistenreihe.

Antworten

1) IIII IIII IIII IIII |

1. _____

2) IIII IIII III

2. _____

3) IIII IIII IIII IIII

3. _____

4) IIII IIII IIII IIII IIII IIII IIII IIII IIII

4. _____

5) IIII IIII IIII IIII IIII IIII IIII

5. _____

6) IIII IIII

6. _____

7) IIII IIII IIII IIII IIII IIII IIII IIII IIII IIII IIII

7. _____

8) IIII IIII IIII IIII II

8. _____

9) IIII IIII IIII IIII IIII IIII IIII II

9. _____

10) IIII IIII IIII

10. _____

11) IIII IIII |

11. _____

12) IIII IIII

12. _____

13) IIII IIII IIII

13. _____

14) IIII IIII IIII IIII IIII IIII IIII IIII IIII

14. _____

15) IIII IIII IIII IIII IIII

15. _____

16) IIII IIII IIII IIII IIII IIII IIII

16. _____

17) IIII IIII IIII IIII IIII IIII IIII IIII IIII IIII II

17. _____

18) IIII IIII

18. _____



Bestimme den Wert jeder Strichlistenreihe.

- 1)
- 2)
- 3)
- 4)
- 5)
- 6)
- 7)
- 8)
- 9)
- 10)
- 11)
- 12)
- 13)
- 14)
- 15)
- 16)
- 17)
- 18)

Antworten

1. 21
2. 13
3. 20
4. 45
5. 33
6. 9
7. 50
8. 22
9. 37
10. 14
11. 11
12. 8
13. 15
14. 43
15. 25
16. 35
17. 47
18. 10



Bestimme den Wert jeder Strichlistenreihe.

Antworten

1) IIII IIII IIII IIII IIII

1. _____

2) IIII IIII IIII IIII IIII IIII IIII

2. _____

3) IIII IIII IIII IIII IIII IIII IIII IIII IIII IIII

3. _____

4) IIII |

4. _____

5) IIII IIII IIII IIII II

5. _____

6) IIII IIII IIII IIII IIII IIII IIII IIII IIII IIII

6. _____

7) IIII IIII IIII IIII IIII IIII IIII IIII II

7. _____

8) IIII IIII IIII IIII IIII IIII IIII IIII |

8. _____

9) IIII IIII IIII IIII IIII IIII II

9. _____

10) IIII IIII IIII IIII IIII IIII IIII IIII IIII

10. _____

11) IIII IIII IIII IIII IIII IIII

11. _____

12) IIII IIII IIII IIII IIII IIII IIII II

12. _____

13) IIII IIII IIII IIII |

13. _____

14) IIII IIII |

14. _____

15) IIII IIII IIII II

15. _____

16) IIII IIII IIII

16. _____

17) IIII IIII IIII IIII IIII II

17. _____

18) IIII IIII

18. _____



Bestimme den Wert jeder Strichlistenreihe.

1)

2)

3)

4)

5)

6)

7)

8)

9)

10)

11)

12)

13)

14)

15)

16)

17)

18)

Antworten1. 252. 353. 484. 65. 226. 497. 428. 419. 3210. 4411. 2912. 3713. 2114. 1115. 1716. 1517. 2718. 9



Bestimme den Wert jeder Strichlistenreihe.

1)

2)

3)

4)

5)

6)

7)

8)

9)

10)

11)

12)

13)

14)

15)

16)

17)

18)

Antworten1. 372. 293. 64. 265. 86. 507. 388. 419. 4310. 1811. 2012. 1513. 3514. 2115. 2816. 1117. 1018. 24



Bestimme den Wert jeder Strichlistenreihe.

Antworten

1) IIII IIII IIII |

1. _____

2) IIII IIII IIII IIII IIII IIII IIII

2. _____

3) IIII IIII |

3. _____

4) IIII IIII IIII IIII IIII IIII IIII |

4. _____

5) IIII ||

5. _____

6) IIII |

6. _____

7) IIII IIII IIII IIII IIII IIII IIII IIII |

7. _____

8) IIII IIII IIII IIII IIII IIII IIII IIII IIII IIII

8. _____

9) IIII IIII IIII IIII IIII IIII IIII IIII

9. _____

10) IIII IIII IIII IIII IIII ||

10. _____

11) IIII IIII

11. _____

12) IIII IIII IIII IIII IIII IIII IIII IIII

12. _____

13) IIII IIII IIII IIII

13. _____

14) IIII IIII

14. _____

15) IIII IIII IIII IIII IIII IIII IIII ||

15. _____

16) IIII IIII IIII IIII IIII IIII IIII

16. _____

17) IIII IIII IIII IIII IIII

17. _____

18) IIII IIII IIII IIII IIII IIII IIII IIII IIII IIII



Bestimme den Wert jeder Strichlistenreihe.

- 1)
- 2)
- 3)
- 4)
- 5)
- 6)
- 7)
- 8)
- 9)
- 10)
- 11)
- 12)
- 13)
- 14)
- 15)
- 16)
- 17)
- 18)

Antworten

1. 16
2. 35
3. 11
4. 36
5. 7
6. 6
7. 41
8. 49
9. 40
10. 27
11. 8
12. 38
13. 18
14. 10
15. 37
16. 33
17. 24
18. 48



Bestimme den Wert jeder Strichlistenreihe.

Antworten

1) IIII IIII IIII II

1. _____

2) IIII IIII IIII IIII II

2. _____

3) IIII IIII IIII I

3. _____

4) IIII IIII IIII IIII IIII

4. _____

5) IIII IIII IIII III

5. _____

6) IIII I

6. _____

7) IIII IIII IIII IIII IIII IIII IIII

7. _____

8) IIII IIII IIII IIII

8. _____

9) IIII IIII IIII IIII IIII IIII IIII I

9. _____

10) IIII IIII

10. _____

11) IIII IIII IIII IIII IIII IIII IIII IIII IIII

11. _____

12) IIII IIII IIII IIII IIII IIII IIII IIII IIII IIII

12. _____

13) IIII IIII II

13. _____

14) IIII IIII IIII IIII IIII IIII IIII IIII IIII IIII

14. _____

15) IIII IIII

15. _____

16) IIII IIII IIII IIII IIII IIII IIII IIII I

16. _____

17) IIII IIII IIII IIII IIII IIII IIII IIII

17. _____

18) IIII IIII IIII IIII I

18. _____



Bestimme den Wert jeder Strichlistenreihe.

1)

2)

3)

4)

5)

6)

7)

8)

9)

10)

11)

12)

13)

14)

15)

16)

17)

18)

Antworten1. 172. 223. 164. 245. 186. 67. 348. 199. 3610. 911. 4512. 4813. 1214. 4915. 1016. 4117. 3818. 21