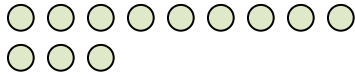




Verwende die visuelle Methode um jede Aufgabe zu lösen.

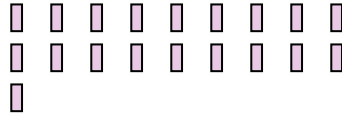
Antworten

1) Es gibt 12 Kreise unten.



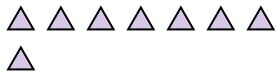
Wenn du 10 wegnehmen müsstest, wie viele wären noch übrig??
 $12 - 10 = ?$

2) Es gibt 19 Vierecke unten.



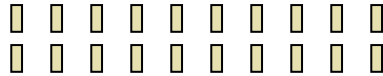
Wenn du 12 wegnehmen müsstest, wie viele wären noch übrig??
 $19 - 12 = ?$

3) Es gibt 8 Dreiecke unten.



Wenn du 1 wegnehmen müsstest, wie viele wären noch übrig??
 $8 - 1 = ?$

4) Es gibt 20 Vierecke unten.



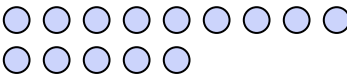
Wenn du 1 wegnehmen müsstest, wie viele wären noch übrig??
 $20 - 1 = ?$

5) Es gibt 3 Kreise unten.



Wenn du 2 wegnehmen müsstest, wie viele wären noch übrig??
 $3 - 2 = ?$

6) Es gibt 14 Kreise unten.



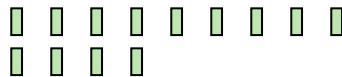
Wenn du 9 wegnehmen müsstest, wie viele wären noch übrig??
 $14 - 9 = ?$

7) Es gibt 8 Fünfecke unten.



Wenn du 2 wegnehmen müsstest, wie viele wären noch übrig??
 $8 - 2 = ?$

8) Es gibt 13 Vierecke unten.



Wenn du 12 wegnehmen müsstest, wie viele wären noch übrig??
 $13 - 12 = ?$

9) Es gibt 13 Sterne unten.



Wenn du 6 wegnehmen müsstest, wie viele wären noch übrig??
 $13 - 6 = ?$

10) Es gibt 14 Vierecke unten.



Wenn du 10 wegnehmen müsstest, wie viele wären noch übrig??
 $14 - 10 = ?$

1. _____

2. _____

3. _____

4. _____

5. _____

6. _____

7. _____

8. _____

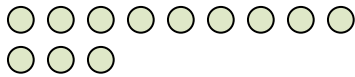
9. _____

10. _____



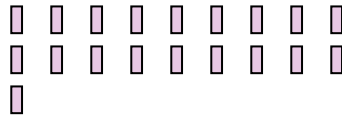
Verwende die visuelle Methode um jede Aufgabe zu lösen.

1) Es gibt 12 Kreise unten.



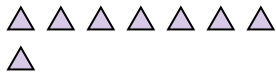
Wenn du 10 wegnehmen müsstest, wie viele wären noch übrig??
 $12 - 10 = ?$

2) Es gibt 19 Vierecke unten.



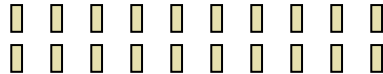
Wenn du 12 wegnehmen müsstest, wie viele wären noch übrig??
 $19 - 12 = ?$

3) Es gibt 8 Dreiecke unten.



Wenn du 1 wegnehmen müsstest, wie viele wären noch übrig??
 $8 - 1 = ?$

4) Es gibt 20 Vierecke unten.



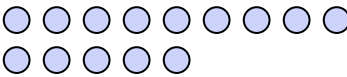
Wenn du 1 wegnehmen müsstest, wie viele wären noch übrig??
 $20 - 1 = ?$

5) Es gibt 3 Kreise unten.



Wenn du 2 wegnehmen müsstest, wie viele wären noch übrig??
 $3 - 2 = ?$

6) Es gibt 14 Kreise unten.



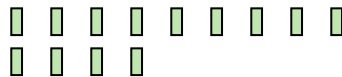
Wenn du 9 wegnehmen müsstest, wie viele wären noch übrig??
 $14 - 9 = ?$

7) Es gibt 8 Fünfecke unten.



Wenn du 2 wegnehmen müsstest, wie viele wären noch übrig??
 $8 - 2 = ?$

8) Es gibt 13 Vierecke unten.



Wenn du 12 wegnehmen müsstest, wie viele wären noch übrig??
 $13 - 12 = ?$

9) Es gibt 13 Sterne unten.



Wenn du 6 wegnehmen müsstest, wie viele wären noch übrig??
 $13 - 6 = ?$

10) Es gibt 14 Vierecke unten.



Wenn du 10 wegnehmen müsstest, wie viele wären noch übrig??
 $14 - 10 = ?$

Antworten

1. 2

2. 7

3. 7

4. 19

5. 1

6. 5

7. 6

8. 1

9. 7

10. 4