



Verwende die visuelle Methode um jede Aufgabe zu lösen.

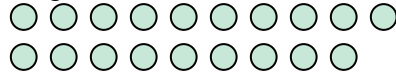
1) Es gibt 10 Sterne unten.



Wenn du 3 wegnehmen müsstest, wie viele wären noch übrig?

$10 - 3 = ?$

2) Es gibt 19 Kreise unten.



Wenn du 11 wegnehmen müsstest, wie viele wären noch übrig?

$19 - 11 = ?$

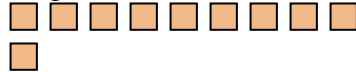
3) Es gibt 6 Sechsecke unten.



Wenn du 3 wegnehmen müsstest, wie viele wären noch übrig?

$6 - 3 = ?$

4) Es gibt 10 Rechtecke unten.



Wenn du 6 wegnehmen müsstest, wie viele wären noch übrig?

$10 - 6 = ?$

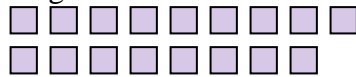
5) Es gibt 8 Vierecke unten.



Wenn du 7 wegnehmen müsstest, wie viele wären noch übrig?

$8 - 7 = ?$

6) Es gibt 17 Rechtecke unten.



Wenn du 15 wegnehmen müsstest, wie viele wären noch übrig?

$17 - 15 = ?$


7) Es gibt 4 Sterne unten.



Wenn du 3 wegnehmen müsstest, wie viele wären noch übrig?

$4 - 3 = ?$

8) Es gibt 5 Rechtecke unten.



Wenn du 3 wegnehmen müsstest, wie viele wären noch übrig?

$5 - 3 = ?$

9) Es gibt 20 Sterne unten.



Wenn du 9 wegnehmen müsstest, wie viele wären noch übrig?

$20 - 9 = ?$

10) Es gibt 4 Kreise unten.



Wenn du 1 wegnehmen müsstest, wie viele wären noch übrig?

$4 - 1 = ?$

Antworten

- 1. _____
- 2. _____
- 3. _____
- 4. _____
- 5. _____
- 6. _____
- 7. _____
- 8. _____
- 9. _____
- 10. _____



Verwende die visuelle Methode um jede Aufgabe zu lösen.

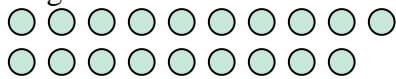
1) Es gibt 10 Sterne unten.



Wenn du 3 wegnehmen müsstest, wie viele wären noch übrig?

$10 - 3 = ?$

2) Es gibt 19 Kreise unten.



Wenn du 11 wegnehmen müsstest, wie viele wären noch übrig?

$19 - 11 = ?$

3) Es gibt 6 Sechsecke unten.



Wenn du 3 wegnehmen müsstest, wie viele wären noch übrig?

$6 - 3 = ?$

4) Es gibt 10 Rechtecke unten.



Wenn du 6 wegnehmen müsstest, wie viele wären noch übrig?

$10 - 6 = ?$

5) Es gibt 8 Vierecke unten.



Wenn du 7 wegnehmen müsstest, wie viele wären noch übrig?

$8 - 7 = ?$

6) Es gibt 17 Rechtecke unten.



Wenn du 15 wegnehmen müsstest, wie viele wären noch übrig?

$17 - 15 = ?$

7) Es gibt 4 Sterne unten.



Wenn du 3 wegnehmen müsstest, wie viele wären noch übrig?

$4 - 3 = ?$

8) Es gibt 5 Rechtecke unten.



Wenn du 3 wegnehmen müsstest, wie viele wären noch übrig?

$5 - 3 = ?$

9) Es gibt 20 Sterne unten.



Wenn du 9 wegnehmen müsstest, wie viele wären noch übrig?

$20 - 9 = ?$

10) Es gibt 4 Kreise unten.



Wenn du 1 wegnehmen müsstest, wie viele wären noch übrig?

$4 - 1 = ?$

Antworten

1. 7

2. 8

3. 3

4. 4

5. 1

6. 2

7. 1

8. 2

9. 11

10. 3